



தமிழ்நாடு அரசு

# ஆறாம் வகுப்பு

மூன்றாம் பருவம்

தொகுதி 3

## அறிவியல் சமூக அறிவியல்

தமிழ்நாடு அரசு விலையில்லாப் பாடநூல் வழங்கும் திட்டத்தின்கீழ் வெளியிடப்பட்டது

## பள்ளிக் கல்வித்துறை

தீண்டாமை மனித நேயமற்ற செயலும் பெருங்குற்றமும் ஆகும்

## தமிழ்நாடு அரசு

முதல்பதிப்பு - 2018

திருத்திய பதிப்பு - 2019

(புதிய பாடத்திட்டத்தின்கீழ்  
வெளியிடப்பட்ட முப்பருவ நூல்)

## விற்பனைக்கு அன்று

## பாடநூல் உருவாக்கமும் தொகுப்பும்



மாநிலக் கல்வியியல் ஆராய்ச்சி  
மற்றும் பயிற்சி நிறுவனம்  
© SCERT 2018

## நூல் அச்சாக்கம்



தமிழ்நாடு பாடநூல் மற்றும்  
கல்வியியல் பணிகள் கழகம்  
www.textbooksonline.tn.nic.in



# வரலாறு

மூன்றாம் பருவம்

தொகுதி 3



# பொருளடக்கம்

| அலகு               | தலைப்பு   | பக்கம்<br>எண் | மாதம்              |
|--------------------|---|---------------|--------------------|
| <b>வரலாறு</b>      |   |               |                    |
| 1                  | பண்டைக்காலத் தமிழகத்தில் சமூகமும் பண்பாடும்: சங்க காலம் | 95            | சனவரி              |
| 2                  | இந்தியா - மௌரியருக்குப் பின்னர்                         | 109           | பிப்ரவரி           |
| 3                  | பேரரசுகளின் காலம்: குப்தர், வர்த்தனர்                   | 122           | பிப்ரவரி<br>மார்ச் |
| 4                  | தென்னிந்திய அரசுகள்                                     | 140           | மார்ச்<br>ஏப்ரல்   |
| <b>புவியியல்</b>   |   |               |                    |
| 1                  | ஆசியா மற்றும் ஐரோப்பா                                   | 157           | சனவரி              |
| 2                  | புவி மாதிரி   | 188           | பிப்ரவரி           |
| 3                  | பேரிடரைப் புரிந்து கொள்ளுதல்                            | 207           | மார்ச்             |
| <b>குடிமையியல்</b> |   |               |                    |
| 1                  | மக்களாட்சி  | 216           | சனவரி              |
| 2                  | உள்ளாட்சி அமைப்பு - ஊரகமும் நகர்ப்புறமும்               | 224           | பிப்ரவரி           |
| 3                  | சாலை பாதுகாப்பு   | 234           | மார்ச்             |



மின்நூல்



மதிப்பீடு



இணைய வளங்கள்



அலகு

1

பண்டைக்காலத்  
தமிழகத்தில் சமூகமும்  
பண்பாடும்: சங்க காலம்



கற்றல் நோக்கங்கள்

இப்பாடத்தைக் கற்றுக் கொள்வதன் வழியாக,

- பண்டைக்காலத் தமிழ்ச் சமூகத்தைப் பற்றி அறிந்து கொள்வதற்கு முக்கியச் சான்றான சங்க இலக்கியத்தைப் பற்றிய அறிவைப் பெறுதல்.
- மூவேந்தர்கள் எனும் சேர, சோழ, பாண்டிய அரசர்களின் ஆட்சி குறித்தும் அவர்களின் சமகாலத்தவர்களான குறுநில மன்னர்கள் பற்றியும் தெரிந்துகொள்ளுதல்.
- பண்டைக்காலத் தமிழகத்தின் நிர்வாகமுறை, சமூக-பொருளாதார நிலைகள் குறித்து கற்றுக்கொள்ளுதல்.
- களப்பிரர் காலத்தைப் புரிந்துகொள்ளுதல்.

### சங்க காலம்

சங்கம் என்னும் சொல் மதுரைப் பாண்டிய அரசர்களின் ஆதரவில் தழைத்தோங்கிய தமிழ்ப் புலவர்களின் குழுமத்தைச் சுட்டுகிறது. இப்புலவர்கள் இயற்றிய பாடல்கள் மொத்தமாகச் சங்க இலக்கியம் என அறியப்படுகிறது. இப்பாடல்கள் இயற்றப்பட்ட காலம் சங்க காலம் என அழைக்கப்படுகின்றது.

ஆறுமுக நாவலர் (யாழ்ப்பாணம்)  
தாமோதரம் பிள்ளை (யாழ்ப்பாணம்)  
உ.வே.சாமிநாத அய்யர் ஆகியோர்  
அரும்பாடுபட்டு பனையோலைகளில்  
எழுதப்பட்டிருந்த தமிழ் செவ்வியல்  
இலக்கியங்களையும் பண்டைக்காலத்  
தமிழ் நூல்களையும் மீட்டு வெளியிடுவதில்  
பல ஆண்டுகளைச் செலவிட்டனர்.

## சான்றுகள்

|  |   |
|--|---|
| கல்வெட்டுகள்                                 | கலிங்கநாட்டு அரசன் காரவேலனுடைய ஹதிகும்பா கல்வெட்டு, புகளூர் (கரூர்க்கு அருகே) கல்வெட்டு, அசோகருடைய இரண்டு மற்றும் பதிமூன்றாம் பேராணைக் கல்வெட்டுகள். மேலும் மாங்குளம், அழகர் மலை, கீழவளவு ஆகிய ஊர்களிலுள்ள (இவ்வூர்கள் அனைத்தும் மதுரைக்கு அருகேயுள்ளன) கல்வெட்டுகள். |
| செப்பேடுகள்                                  | வேள்விக்குடி மற்றும் சின்னமனூர் செப்பேடுகள்   |
| நாணயங்கள்                                    | சங்க காலத்தைச் சேர்ந்த சேர, சோழ, பாண்டிய அரசர்களாலும், குறுநில மன்னர்களாலும் வெளியிடப்பட்ட நாணயங்களும், ரோமானிய நாணயங்களும்.  |
| பெருங்கற்கால நினைவுச் சின்னங்கள்             | புதைவிடங்கள், நடுகற்கள்   |
| அகழ்வாய்விலிருந்து பொருட்கள் கிடைத்த இடங்கள் | ஆதிச்சநல்லூர், அரிக்கமேடு, கொடுமணல், புகார், கொற்கை, அழகன்குளம், உறையூர்.   |
| இலக்கியச் சான்றுகள்                          | தொல்காப்பியம், எட்டுத்தொகை, பத்துப்பாட்டு, பதினெண்கீழ்க்கணக்கு, பட்டினப்பாலை, மதுரைக் காஞ்சி ஆகியவை. சிலப்பதிகாரம், மணிமேகலை ஆகிய காப்பியங்கள்.   |
| அயல்நாட்டவர் குறிப்புகள்                     | எரித்திரியக் கடலின் பெரிப்ளஸ் ( <i>The Periplus of Erythrean Sea</i> ) பிளினியின் இயற்கை வரலாறு ( <i>Natural History</i> ) தாலமியின் புவியியல் ( <i>Geography</i> ), மெகஸ்தனிஸின் இண்டிகா, ராஜாவளி, மகாவம்சம், தீபவம்சம் ஆகியன.                                       |

தொல்காப்பியம் ஒரு தமிழ் இலக்கண நூலாகும். அது சங்க காலத் தமிழ் மக்களின் மொழி, பண்பாடு ஆகியவற்றின் உயர் தரத்தைச் சுட்டிக்காட்டுகிறது.

|                              |   |
|------------------------------|---|
| கால அளவு                     | கி.மு. (பொ.ஆ.மு) 3 ஆம் நூற்றாண்டு முதல் – கி.பி. (பொ.ஆ) 3 ஆம் நூற்றாண்டு வரை  |
| தமிழகத்தின் புவியியல் பரப்பு | வடக்கே வேங்கடம் (திருப்பதி) முதல் தெற்கே கன்னியாகுமரி வரை. கிழக்கிலும், மேற்கிலும் கடல்களை எல்லைகளாகக் கொண்டிருந்தது. |
| காலம்                        | இரும்புக் காலம்   |
| பண்பாடு                      | பெருங்கற்காலப் பண்பாடு  |
| அரசமுறை                      | முடியாட்சி  |
| ஆட்சி புரிந்த அரச வம்சங்கள்  | சேரர், சோழர், பாண்டியர்   |

கலிபோர்னியா பல்கலைக்கழகத்தின் தமிழ்மொழிப் பேராசிரியர் ஜார்ஜ் எல் ஹார்ட் என்பார் தமிழ்மொழியானது இலத்தீன் மொழியின் அளவிற்குப் பழையானது எனும் கருத்தைக் கொண்டுள்ளார். ஏனைய மொழிகளின் செல்வாக்கிற்கு உட்படாமல் முற்றிலும் சுதந்திரமான ஒரு மரபாக அது உருபெற்று எழுந்துள்ளது என அவர் கூறுகிறார்.

## சேரர்

சங்க காலத்தின்போது மூவேந்தர்கள் தமிழகப் பகுதிகளைக் ஆட்சி புரிந்தனர். வேந்தர் எனும் சொல் சேரர், சோழர், பாண்டியர் ஆகியோரைக் குறிப்பிடுவதற்காகப் பயன்படுத்தப்பட்டது. சேரர்கள் தமிழகத்தைச் சேர்ந்த மத்திய மற்றும் வடக்குத் திருவிதாங்கூர், கொச்சி, தெற்கு மலபார், கொங்கு மண்டலம் ஆகியவற்றை ஆண்டனர். பதிற்றுப்பத்து சேர அரசர்கள் குறித்த செய்திகளை வழங்குகின்றன. சேர அரசன் செங்குட்டுவன் வட இந்தியாவின் மீது படையெடுத்துச் சென்றார். சிலப்பதிகாரக் காவியப் பாத்திரமான கண்ணகிக்கு சிலை எடுப்பதற்காக அவர் இமயமலையிலிருந்து கற்களைக் கொண்டுவந்தார் எனத் தெரியவந்துள்ளது. பத்தினித் தெய்வ வழிபாட்டை அவர் அறிமுகம் செய்தார். இளங்கோவடிகள் சேரன் செங்குட்டுவனின் தம்பியாவார். அவர்தான் சிலப்பதிகாரத்தின் ஆசிரியர். சேரல் இரும்பொறை எனும் அரசன் தனது பெயரில் நாணயங்களை வெளியிட்டார். சில சேர நாணயங்களில் அவர்களின் சின்னமான வில்லும் அம்பும் பொறிக்கப்பட்டுள்ளன.

### முக்கியத்துவம் மிகுந்த சேர அரசர்கள்

- உதயன் சேரலாதன்
- இமயவரம்பன் நெடுஞ்சேரலாதன்
- சேரன் செங்குட்டுவன்
- சேரல் இரும்பொறை

## சோழர்

சங்க காலத்தில் சோழ அரசு வேங்கட மலைகள் வரை விரிந்திருந்தது. காவிரி கழிமுகப்பகுதி சோழ நாட்டின் மையப்பகுதியாக விளங்கியது. இப்பகுதி பின்னர் சோழ மண்டலம் என அறியப்பட்டது. சோழ அரசர்களில் மிகவும் புகழ் பெற்றவர் கரிகால் வளவன் அல்லது கரிகாலன் ஆவார். அவர் தன்னை எதிர்த்த

சேரர், பாண்டியர் மற்றும் அவர்களை ஆதரித்த பதினொன்று வேளிகளின் கூட்டுப்படையைத் தஞ்சாவூர் பகுதியில் உள்ள வெண்ணி எனும் சிற்றூரில் தோற்கடித்தார்.

அவர் காடுகளை விளைநிலங்களாக மாற்றினார். வேளாண்மையை மேம்படுத்துவதற்காகக் காவிரி ஆற்றின் குறுக்கே கல்லணையைக் கட்டினார். சோழர்களின் துறைமுகமான புகார், இந்தியப் பெருங்கடலின் பல பகுதிகளிலிருந்து வணிகர்களை அதன்பால் ஈர்த்தது. பட்டினப்பாலை எனும் பதினெண் கீழ்க்கணக்கைச் சார்ந்த நூல், கரிகாலனின் ஆட்சியின்போது அங்கு நடைபெற்ற வணிக நடவடிக்கைகள் பற்றிய விரிவான செய்திகளை வழங்குகிறது.

### கல்லணை

இது கற்களால் கட்டப்பட்ட தடுப்பணை ஆகும். பாசனத்திற்காகக் கழிமுகப் பகுதி

வழியாக நீரைத் திருப்பிவிடுவதற்காக காவிரி ஆற்றின் குறுக்கே இவ்வணை கட்டப்பட்டது. கல்லணை கட்டப்பட்டபோது 69,000 ஏக்கர் நிலத்திற்கு அது நீர்ப்பாசன வசதியை வழங்கியது.



### முக்கியத்துவம் வாய்ந்த சோழ அரசர்கள்

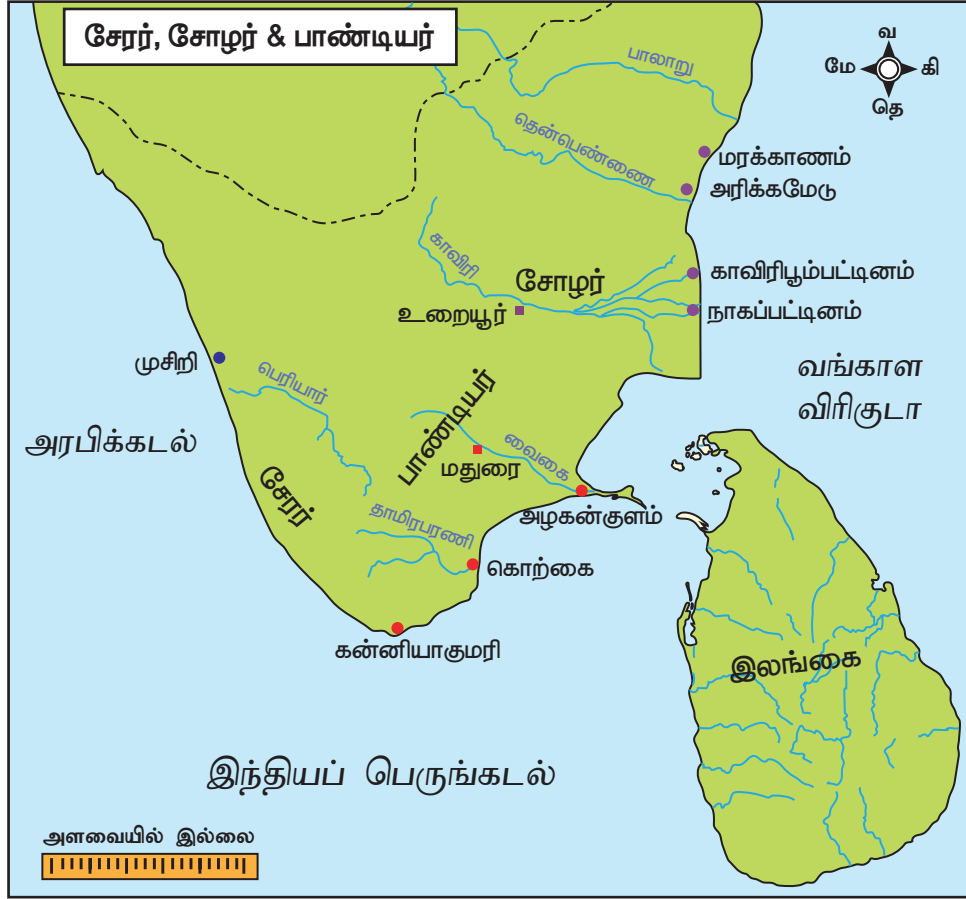
- இளஞ்சேட்சென்னி
- கரிகால் வளவன்
- கோச்செங்கணான்
- கிள்ளிவளவன்
- பெருநற்கிள்ளி

## பாண்டியர்

பாண்டியர் இன்றைய தென்தமிழகத்தை ஆட்சி செய்தனர். பாண்டிய அரசர்கள் தமிழ்ப்புலவர்களையும் அறிஞர்களையும் ஆதரித்தனர். பல பாண்டிய அரசர்களின் பெயர்கள் சங்க இலக்கியங்களில் குறிப்பிடப்பட்டுள்ளன. நெடுஞ்செழியன் மிகவும் புகழ்பெற்ற போர்வீரராகப் போற்றப்படுகிறார். அவர் சேரர், சோழர், ஐந்து வேளர்கள் ஆகியோரின் கூட்டுப்படையைத் தலையாலங்கானம் என்னுமிடத்தில்

தோற்கடித்தார். அவர் கொற்கையின் தலைவன் எனப் போற்றப்படுகின்றார்.

பாண்டிய நாடு முத்துக்குளிப்புக்குப் புகழ் பெற்றதாகும். பாண்டிய அரசர்கள் பல நாணயங்களை வெளியிட்டனர். அவர்களின் நாணயங்கள், ஒருபுறத்தில் யானையின் உருவத்தையும் மற்றொருபுறத்தில் மீனின் உருவத்தையும் கொண்டுள்ளன. முதுகுருமிப் பெருவழுதி என்ற பாண்டிய அரசர் பல வேதவேள்விகளை நடத்தியதைக் கொண்டாடும் விதமாக நாணயங்களை வெளியிட்டார்.



## மூவேந்தர்கள் சூட்டிக்கொண்ட பட்டங்கள்

### சேரர்கள்

- ஆதவன்
- குட்டுவன்
- வானவன்
- இரும்பொறை

### சோழர்கள்

- சென்னி
- செம்பியன்
- கிள்ளி
- வளவன்

### பாண்டியர்கள்

- மாறன்
- வழுதி
- செழியன்
- தென்னர்





## முக்கியத்துவம் வாய்ந்த பாண்டிய அரசர்கள்

- நெடியோன்
- நன்மாறன்
- முதுகுருமிப் பெருவழுதி
- நெடுஞ்செழியன்

## அரசரிமைச் சின்னங்கள்

செங்கோல் (Scepter), முரசு (Drum), வெண்கொற்றக்குடை (white umbrella) ஆகியன அரசு அதிகாரத்தின் சின்னங்களாகும்.

| மூவேந்தர் | மாலை           | துறைமுகம்       | தலைநகர்          | சின்னம்   |
|-----------|----------------|-----------------|------------------|---|
| சேரர்     | பனம்பூ மாலை    | முசிறி / தொண்டி | வஞ்சி / கரூர்    | <br>வில், அம்பு      |
| சோழர்     | அத்திப்பூ மாலை | புகார்          | உறையூர் / புகார் | <br>புலி            |
| பாண்டியர் | வேப்பம்பூ மாலை | கொற்கை          | மதுரை            | <br>இரண்டு மீன்கள் |

## குறுநில மன்னர்கள் – ஆய், வேளிர், கிழார்

முடிசூடிய இம்மூன்று அரசர்களைத் தவிர, பல சுதந்திரமான, நெஞ்சுரம் மிக்க சிறிய குறுநிலமன்னர்களும் இருந்தனர். ஆய் என்னும் பெயர் பழந்தமிழ்ச் சொல்லான ஆயர்



(பொருள்: ஆநிரை மேய்ப்போர்) என்ற சொல்லில் இருந்து பெறப்பட்டதாகும். சங்க காலத்து ஆய் மன்னர்களில் முக்கியமானவர்களின் பெயர்கள் அந்திரன், திதியன், நன்னன் ஆகியனவாகும்.

வேளிர்கள் – வேளாளர் – பண்டைய காலத் தமிழகத்தில் ஆட்சி செய்த நிலவுடைமைப் பிரிவினர் ஆவர். புகழ்பெற்ற வேளிர்கள் கடையேழு வள்ளல்களான பாரி, காரி, ஓரி, பேகன், ஆய், அதியமான், நள்ளி ஆகியோராவர். அவர்கள் தமிழ்ப்புலவர்களைப் பெருந்தன்மையுடன் தாராளமாக ஆதரித்தமைக்காகப் புகழப்பட்டவர்கள் ஆவர்.

கிழார் என்பவர் கிராமத் தலைவர் ஆவார்.

## சங்க கால ஆட்சியமைப்பு

### அரசரிமை

அரசரிமை பரம்பரையானது. அரசர் 'கோ' என அழைக்கப்பட்டார். அது கோன் எனும் சொல்லின் சுருக்கமாகும். வேந்தன், கோன், மன்னன், கொற்றவன், இறைவன் எனும் வேறு பெயர்களாலும் அரசர் அழைக்கப்பட்டார். பொதுவாக ஆட்சி புரிந்துகொண்டிருக்கும் அரசரின் மூத்தமகனே அடுத்து அரியணை ஏறினார். பட்டம் சூட்டப்படும் விழா 'அரசுக்கட்டிலேறுதல்' அல்லது முடிசூட்டுவிழா எனப்பட்டது. பட்டத்து இளவரசர் கோமகன் எனவும் அவருக்கு இளையோர் இளங்கோ, இளஞ்செழியன், இளஞ்சேரல் எனவும் அழைக்கப்பட்டனர். அரசர் தினந்தோறும் அரசவையைக் (நாளவை) கூட்டினார். அங்கு அவர் விவாதங்களைச் செவிமடுத்து அனைத்து வழக்குகளையும் தீர்த்துவைத்தார். அரசின் வருமானம் வரிகள் மூலம் பெறப்பட்டன. நிலவரியே வருவாயின் முக்கிய ஆதாரமாகும். அது 'இறை' என அழைக்கப்பட்டது. இதைத்தவிர அரசு சுங்கவரி, கப்பம், தண்டம் ஆகியவற்றையும் வசூல் செய்தது.

அரசர்களும் வீரர்களும் வீரக்கழல் அணிந்திருந்தனர். அதன்மீது அணிந்திருப்பவரின் பெயரும், அவரின் சாதனைகளும் பொறிக்கப்பட்டிருந்தன. ஒற்றர்கள் நாட்டுக்குள் நடப்பனவற்றை மட்டுமல்லாமல் வெளிநாடுகளில் நடப்பனவற்றையும் தெரிந்துகொள்ளப் பயன்படுத்தப்பட்டனர்.

புறமுதுகில் காயமடைவது அவமானமாகக் கருதப்பட்டது. போரின்போது புறமுதுகில் காயம்பட்டதற்காக அரசர்கள் சாகும்வரை உண்ணாவிருந்திருந்து உயிரை மாய்த்துக்கொண்ட நிகழ்வுகளும் நடந்தன.

### சபை

அரசருடைய சபை அரசவை என அழைக்கப்பட்டது. அரசர் 'அரியணை' என்றழைக்கப்பட்ட ஆசனத்தில் அமர்வது வழக்கம். அரசவையில் அரசரைச் சுற்றி அதிகாரிகள், சிறப்பு விருந்தினர்கள், அவைப்புலவர்கள் ஆகியோர் அமர்ந்திருந்தனர். அரசர்கள் ஐந்து விதக் கடமைகளைச் செய்தனர். கல்விகற்பதை ஊக்குவிப்பது, சடங்குகளை நடத்துவது, பரிசுகள் வழங்குவது, மக்களைப் பாதுகாப்பது, குற்றவாளிகளைத் தண்டிப்பது முதலியன ஐந்து வகையான கடமைகளாகும். தூதுவர்கள் அரசரால் பணியில் அமர்த்தப்பட்டனர். தூதுவர்கள் முக்கியமான பங்கு வகித்தனர். அரசருக்கு நிர்வாகத்தில் பல அதிகாரிகள் உதவி செய்தனர். அவர்கள் ஐம்பெருங்குழு (ஐந்து உறுப்பினர்களைக் கொண்ட குழு) எண்பேராயம் (எட்டு உறுப்பினர்களைக் கொண்ட குழு) என இரு குழுக்களாகப் பிரிக்கப்பட்டிருந்தனர்.

### படை

அரசருடைய படை என்று அழைக்கப்பட்ட இராணுவம் நான்கு பிரிவுகளைக் கொண்டிருந்தது. அவை காலாட்படை, குதிரைப்படை, யானைப்படை, தேர்ப்படை என்பனவாகும். படைத்தலைவர் 'தானைத் தலைவன்' என அழைக்கப்பட்டார். அக்காலப்பகுதியில் பயன்படுத்தப்பட்ட முக்கியமான ஆயுதங்கள் வாள், கேடயம், தோமாரம் (எறியீட்டி) ஈட்டி, வில், அம்பு ஆகியனவாகும். தோமாரம் எனப்படுவது சற்று தொலைவில் இருந்து எதிரியின் மீது ஏவுகணையைப் போன்று வீசப்படுவதாகும். ஆயுதங்கள் வைக்கப்பட்டிருந்த இடம் 'படைக் கொட்டில்' என அழைக்கப்பட்டது. கோட்டைகள் அரண்களாலும் ஆழமான அகழிகளாலும் பாதுகாக்கப்பட்டன. போர்முரசும் கடவுளாகவே கருதி வணங்கப்பட்டது.

### சட்டமும் நீதியும்

அரசரே இறுதியான மேல்முறையீட்டு நீதிமன்றம் ஆவார். தலைநகரில் நீதிமன்றம் 'அவை' என்றழைக்கப்பட்டது. கிராமங்களில் 'மன்றங்கள்' என்பவை தீர்ப்பு வழங்கப்படும் இடங்களாயிருந்தன. தண்டனைகள் எப்போதும் கடுமையாகவே இருந்தன. திருட்டு வழக்குகளில் மரணதண்டனை வழங்கப்பட்டது. தலையைத் துண்டித்தல், உடல் உறுப்புக்களைத் துண்டித்தல், சித்திரவதை செய்வது, சிறையில் அடைப்பது, அபராதம் (தண்டம்) விதிப்பது ஆகியவை குற்றங்களுக்காக வழங்கப்பட்ட தண்டனைகளாகும்.

### உள்ளாட்சி நிர்வாகம்

ஒட்டுமொத்த ஆட்சிப் பகுதியும் 'மண்டலம்' என்றழைக்கப்பட்டது. மண்டலங்கள் நாடுகளாகப் பிரிக்கப்பட்டன. நாடு பல கூற்றங்களாகப் (கூற்றம்) பிரிக்கப்பட்டன. ஊர் என்பது கிராமம் ஆகும். அவை பேரூர் (பெரிய கிராமம்), சிற்றூர் (சிறிய கிராமம்), மூதூர் (பழமையான கிராமம்) என அழைக்கப்பட்டன.

கடற்கரையோர நகரங்களுக்குப் பட்டினம் எனப் பெயர். 'புகார்' என்பது துறைமுகங்களைக் குறிக்கும் பொதுவான சொல்லாகும்.

### முக்கிய நகரங்கள்

புகார், உறையூர், கொற்கை, மதுரை, முசிறி, வஞ்சி அல்லது கரூர், காஞ்சி ஆகியன.

### திணை (நிலம்) சார்ந்த சங்க காலச் சமூகம்

நிலம் ஐந்து திணைகளாகப் பிரிக்கப்பட்டிருந்தது.

மண்ணின் வளத்தைப் பொறுத்து நிலங்கள் வகைப்படுத்தப்பட்டன. மருதநிலம் 'மென்புலம்' (நன்செய்) என அழைக்கப்பட்டது. அதில்



நெல்லும் கரும்பும் விளைந்தன. நெய்தல் தவிர மற்றவை 'வன்புலம்' (புன்செய்) என அழைக்கப்பட்டன. அவற்றில் தானியங்களும் பருப்பு வகைகளும் விளைந்தன.

| திணை     | நிலம்                         | தொழில்                         | மக்கள்             | கடவுள்   |
|----------|-------------------------------|--------------------------------|--------------------|----------|
| குறிஞ்சி | மலையும் மலை சார்ந்த இடமும்    | வேட்டையாடுதல் / சேகரித்தல்     | குறவர், குறத்தியர் | முருகன்  |
| முல்லை   | காடும், காடு சார்ந்த இடமும்   | ஆநிறை மேய்த்தல்                | ஆயர், ஆய்ச்சியர்   | மாயோன்   |
| மருதம்   | வயலும் வயல் சார்ந்த இடமும்    | வேளாண்மை                       | உழவன், உழுத்தியர்  | இந்திரன் |
| நெய்தல்  | கடலும் கடல் சார்ந்த பகுதியும் | மீன்பிடித்தல் / உப்பு உற்பத்தி | பரதவர், நுளத்தியர் | வருணன்   |
| பாலை     | வறண்ட நிலம்                   | வீரச் செயல்கள்                 | மறவர், மறத்தியர்   | கொற்றவை  |

### பெண்களின் நிலை

சமூக வாழ்வில் பெண்களுக்குக் கட்டுப்பாடுகள் இல்லை. கற்றறிந்த, அறிவுக் கூர்மையுடைய பெண்கள் இருந்தனர். நாற்பது பெண்புலவர்கள் வாழ்ந்து அரியநூல்களை கொடுத்துச் சென்றுள்ளனர். திருமணம் சொந்த விருப்பத்தை சார்ந்து அமைந்திருந்தது. இருந்தபோதிலும் 'கற்பு' பெண்களின் மிகச் சிறந்த ஒழுக்கமாகக் கருதப்பட்டது. பெற்றோரின் சொத்துக்களில் மகளும், மகளும் சமமான பங்கைப் பெற்றிருந்தனர்.

#### சங்க காலப் பெண்பாற்புலவர்கள்

அவ்வையார், வெள்ளிவீதியார், காக்கைப் பாடினியார், ஆதி மந்தியார், பொன்முடியார்.

### மத நம்பிக்கைகள் மற்றும் சமூகப் பிரிவுகள்

மக்களின் முதன்மைக் கடவுள் சேயோன் அல்லது முருகன். சங்க காலத்தில் வழிபடப்பட்ட ஏனைய கடவுளர் சிவன், மாயோன் (விஷ்ணு), இந்திரன், வருணன் மற்றும் கொற்றவை ஆகியோராவர். நடுகல் வழிபாடும் வழக்கத்தில் இருந்தது. பெளத்தமும் சமணமும் கூட உடனிருந்தன. வட பகுதிகளில் வளர்ந்திருந்ததைப் போன்று தமிழகத்தில் சாதிமுறை வளர்ந்திருக்கவில்லை. ஒப்பீட்டளவில் வர்ணாசிரம முறை (தொழிலை அடிப்படையாகக் கொண்ட) திராவிடத் தென்னாட்டில் பின்னர் வந்ததே ஆகும்.

#### வீரக்கல் / நடுகல்

பண்டைக்காலத் தமிழர்கள் போர்க்களத்தில் மரணமுற்ற வீரர்கள்மேல் பெரும்மரியாதை கொண்டிருந்தனர். போரில் மரணமடைந்த வீரனின் நினைவைப் போற்றுவதற்காக நடுகற்கள் நடப்பட்டன.



### உடை மற்றும் அணிகலன்கள்

பொருளாதார வசதிமிக்க மக்கள் மஸ்லின், பட்டு மற்றும் நேர்த்தியான பருத்தியிழைத் துணிகளிலால் ஆன ஆடைகளை அணிந்தனர். சாதாரண மக்கள் பருத்தியினாலான இரு துண்டுகளான ஆடைகளை அணிந்தனர். சங்க இலக்கியங்கள் பாம்பின் தோலைக் காட்டிலும் மென்மையான துணிகளைப் (கலிங்கம்) பற்றிக் குறிப்பிடுகின்றன. பெண்கள் தங்கள் கூந்தலை பூக்களால் அலங்கரித்துக்கொண்டனர். ஆண்களும் பெண்களும் விதவிதமான அணிகலன்களை அணிந்தனர். அவை தங்கம், வெள்ளி, முத்துகள், நவரத்தினக் கற்கள், சங்கு, பாசிமணிகள் ஆகியவற்றால் செய்யப்பட்டிருந்தன.



### கலைகள்

பலவிதமான இசைக்கருவிகளான முரசு, புல்லாங்குழல், யாழ் போன்றவை பற்றிய பல குறிப்புகள் உள்ளன. கரிகாலன் இசையின் ஏழு சுவரங்கள் குறித்து பெரும்புலமை பெற்றிருந்தான் (ஏழிசை வல்லான்). பாடல்கள் பாடும் புலவர்கள் 'பாணர்', 'விறலியர்' என அழைக்கப்பட்டனர். 'கணிகையர்' நடனங்களை நிகழ்த்தினர். கூத்து (நாட்டுப்புற நாடகம்) சங்ககால மக்களுடைய மிக முக்கியமான பண்பாட்டு அம்சமாக விளங்கியது. அவர்கள் முத்தமிழ் எனும் கோட்பாட்டை உருவாக்கினர் (இயல், இசை, நாடகம்).



## தொழில்

மக்களின் மிக முக்கியமான தொழில்கள் வேளாண்மை, ஆநிரை மேய்த்தல், மீன்பிடித்தல், வேட்டையாடுதல் ஆகியவையாகும். மேலும் கைவினைத் தொழில் செய்வோரான தச்சர், கொல்லர், பொற்கொல்லர், மட்பாண்டம் செய்வோரும் இருந்தனர். நெசவு செய்வது விவசாயம் செய்வோரின் மிகப் பொதுவான பகுதிநேரத் தொழிலாகவும், பலருக்கு அன்றாட முழுநேரத் தொழிலாகவும் இருந்தது.

## விழாக்கள் மற்றும் பொழுதுபோக்கு நிகழ்ச்சிகள்

மக்கள் பல்வேறு விழாக்களைக் கொண்டாடினார்கள். அறுவடைத் திருநாள் (பொங்கல்), கார்த்திகை தீப விழா ஆகியன அவற்றில் சிலவாகும். இந்திரவிழா தலைநகரில் கொண்டாடப்பட்டது. பல வேடிக்கை நிகழ்ச்சிகளும் விளையாட்டுக்களும் நடைபெற்றன. நடனமாடுதல், எருதுச் சண்டை, சேவல் சண்டை, தாயமாடுதல், வேட்டையாடுதல், மல்யுத்தம் செய்தல், ஊஞ்சலாடுதல் ஆகியன அவற்றில் முக்கியமானவை ஆகும். குழந்தைகள் பொம்மை வண்டிகளோட்டியும், மணல்வீடு கட்டியும் விளையாடினர்.

## வணிகம்

வணிகம் உள்ளூர், உள்நாட்டில், கடல் கடந்து வெளிநாட்டில் என மூன்று நிலைகளில் நடைபெற்றது. இக்காலப்பகுதியில் தமிழகம் மேற்கொண்ட விரிவான மற்றும் இலாபகரமான வெளிநாட்டு வணிகம், தமிழ்மக்கள் மிகச் சிறந்த கடலோடிகள் என்பதை மெய்ப்பிக்கின்றது. கடற்கரையோரமாகப் பொருட்களைப் பாதுகாப்பாக வைப்பதற்காகப் சேமிப்புக் கிடங்குகள் கட்டப்பட்டன. முக்கியத் துறைமுகங்களில் 'கலங்கரை இலங்குசுடர்' எனும் ஒளிவிளக்குக் கோபுரங்கள் இருந்தன.

வணிகர்கள் தங்கள் விற்பனைப் பொருட்களை பல இடங்களுக்கு எருதுகள் பூட்டிய கூண்டு வண்டிகளில் எடுத்துச் சென்றனர். பண்டமாற்றுமுறை பரவலாக வழக்கத்தில் இருந்தது. புகார், மதுரை போன்ற முக்கியமான நகரங்களில் இரண்டு வகையான சந்தைகள் இருந்தன. மதுரையில் 'நாளங்காடி' எனப்படும் காலைநேரச் சந்தையும் 'அல்லங்காடி' எனப்படும் மாலைநேரச் சந்தையும் இருந்துள்ளன. இச்சந்தைகளில் பல்வகைப்பட்ட பொருட்கள் பெரும் அளவில் விற்கப்பட்டன; வாங்கப்பட்டன.

### மலபார் கருமிளகு

எகிப்து அரசன் இரண்டாம் ராம்செஸின் பதப்படுத்தப்பட்ட உடல் திறக்கப்பட்டபோது, தொல்லியல் அறிஞர்கள் அவருடைய நாசியினுள்ளும் அடிவயிற்றிலும் கருமிளகுக்கதிர் அடைக்கப்பட்டிருந்ததைக் கண்டனர். (இவ்வாறு பதப்படுத்தி உடலைப் பாதுகாப்பது பண்டைய நாட்களில் பின்பற்றப்பட்ட முறையாகும்).

## முக்கியத் துறைமுகங்கள்

முசிறி, தொண்டி, கொற்கை

## முக்கிய ஏற்றுமதிப் பொருட்கள்

- உப்பு, மிளகு, முத்துக்கள், தந்தம், பட்டு, நறுமணப் பொருட்கள், வைரம், குங்குமப்பூ, விலைமதிப்பு மிக்க கற்கள், மஸ்லின், சந்தனக் கட்டை.

## முக்கிய இறக்குமதிப் பொருட்கள்

- புஷ்பராகம், தகரம், கண்ணாடி, குதிரைகள்.

இந்திய வணிகர்களால் ரோமப் பேரரசுக்கு விநியோகம் செய்யப்பட்ட பட்டு மிக முக்கியமானதாகக் கருதப்பட்டது. ரோமப்பேரரசர் ஆரிலியன் இந்தியப் பட்டானது, எடைக்கு எடை தங்கம் கொடுத்துப் பெற தகுதியானது என அறிவித்தார்.

## கடல்கடந்த நாடுகளுடன் வாணிகத் தொடர்பு

தமிழகத்திற்கும் கிரேக்கம், ரோம், எகிப்து, சீனா, தென்கிழக்காசியா, இலங்கை ஆகிய நாடுகளுக்குமிடையே வணிக உறவுகள் நிலவியதைத் தொல்லியல் அகழ்வாய்வுகள் மெய்ப்பித்துள்ளன.

### முசிறி – முதல் பேரங்காடி

ரோம் நாட்டைச் சேர்ந்த மூத்த பிளினி தன்னுடைய இயற்கை வரலாறு (Natural History) எனும் நூலில் முசிறியை 'இந்தியாவின் முதல் பேரங்காடி' எனக் குறிப்பிட்டுள்ளார். ரோமானியரின் குடியிருப்பு இருந்த முசிறியில் அகஸ்டஸ் கடவுளுக்காகக் கோவிலொன்று கட்டப்பட்டிருந்தது.

கி.மு. (பொ.ஆ.மு) இரண்டாம் நூற்றாண்டைச் சேர்ந்த பாப்பிரஸ் ஒப்பந்தப் பத்திரத்தில் (வியன்னாவிலுள்ள அருங்காட்சியகத்தில் உள்ளது) அலெக்ஸாண்டிரியாவைச் சேர்ந்த வணிகர் ஒருவருக்கும் முசிறியைச் சேர்ந்த ஒரு வணிகருக்குமிடையே மேற்கொள்ளப்பட்ட வணிக ஒப்பந்தம் பதிவு செய்யப்பட்டுள்ளது.

## களப்பிரர்கள்

கி.பி. (பொ.ஆ.) மூன்றாம் நூற்றாண்டின் இறுதியில் சங்ககாலம் படிப்படியாகத் தனது சரிவைச் சந்தித்தது. சங்க காலத்தைத் தொடர்ந்து களப்பிரர்கள் தமிழகத்தைக் கைப்பற்றி இரண்டரை நூற்றாண்டுகள் ஆட்சி செய்தனர். களப்பிரர்களைப் பற்றி அறிய நமக்குக் குறைவான குறிப்புகளே கிடைத்து உள்ளன. அவர்கள் விட்டுச்சென்ற நினைவுச் சின்னங்கள், தொல்கலைப் பொருட்கள் என எதுவுமில்லை. ஆனால் அவர்களின் ஆட்சி குறித்து இலக்கியங்களில் சான்றுகள் உள்ளன. இலக்கியச் சான்றுகள், தமிழ் நாவலர் சரிதை, யாப்பெருங்கலம், பெரியபுராணம் ஆகியவற்றை உள்ளடக்கியதாகும். சீவக சிந்தாமணி, குண்டலகேசி ஆகிய இரண்டும் இக்காலத்தில் எழுதப்பட்டவைகளாகும். தமிழகத்தில் பௌத்தமும், சமணமும் முக்கியத்துவம் பெற்ற காலம் அது. சமஸ்கிருதம், பிராகிருதம் ஆகிய மொழிகளின் அறிமுகத்தால் வட்டெழுத்து என்னும் புதிய எழுத்துமுறை உருவானது. பதினெண் கீழ்கணக்கைச் சேர்ந்த பல நூல்கள் இயற்றப்பட்டன. இக்காலத்தில் வணிகமும் வர்த்தகமும் தொடர்ந்து செழித்தோங்கின.

## உலகம் அந்நாளில்



நுழைவாயில்  
ஹான் அரச வம்சம் – சீனா  
கி.மு. (பொ.ஆ.மு) 206 –  
கி.பி. (பொ.ஆ) 220



பிரமிடு  
மயன் நாகரிகம்  
மத்திய அமெரிக்கா



கொலோசியம்  
ரோமானிய நாகரிகம்-இத்தாலி  
கி.மு. (பொ.ஆ.மு) மூன்றாம்  
நூற்றாண்டு முதல் கி.பி. (பொ.ஆ)  
முதலாம் நூற்றாண்டு வரை

எனவே களப்பிரர் காலமானது பொதுவாகச் சித்திரிக்கப்பட்டதைப் போன்று இருண்ட காலம் அல்ல.

### பாடச்சுருக்கம்

- சங்கம் என்னும் சொல் புலவர்களின் குழுமத்தை குறிக்கிறது. இவ்வமைப்பு மதுரையில் பாண்டிய அரசர்களின் ஆதரவில் தழைத்தோங்கியது
- சங்க காலத்தில் சேரர், சோழர், பாண்டியர் ஆகிய மூவேந்தர்கள் தமிழகப்பகுதிகளை ஆட்சி செய்தனர்.

- இம்மூன்றுமுடியரசர்களுக்கு அப்பாற்பட்டு, தமிழகப் பகுதிகள் பல்வேறு சுதந்திரமான குறுநில மன்னர்களாலும் ஆளப்பட்டன.
- தொல்லியல் அகழ்வாய்வுகள் தமிழகத்திற்கும் அயல் நாடுகளுக்கும் இடையே இருந்த வணிக உறவுகளை உறுதி செய்கின்றன.
- கி.பி. (பொ.ஆ.மு) மூன்றாம் நூற்றாண்டின் இறுதியில் சங்க காலம் முடிவுறத் தொடங்கியது. தமிழகத்தைக் களப்பிரர்கள் கைப்பற்றினர். அவர்களின் ஆட்சிக்கான ஆதாரங்கள் சமண, பௌத்த இலக்கியங்களில் காணப்படுகின்றன.

### அருஞ்சொற்பொருள்

|                        |                  |  |
|------------------------|------------------|--|
| கடும் முயற்சி          | - strove         | - tried hard                                       |
| ராஜ வம்சம்             | - dynasty        | - a line of hereditary rulers                      |
| கௌரவிப்பதற்காக         | - commemorate    | - to honour the memory of                          |
| அரச சின்னம்            | - royal insignia | - symbols of power                                 |
| ஆதரவு                  | - patronage      | - support given by a patron                        |
| வெளிக்காட்டுதல்        | - blazoned       | - displayed vividly                                |
| விடுதலை                | - acquitted      | - released   |
| புலவர்கள்              | - bards          | - poets singing in praise of princes and brave men |
| சேமிப்புக் கிடங்கு     | - warehouses     | - a large building for keeping goods               |
| சித்தரிக்கப்பட்டுள்ளது | - portrayed      | - described elaborately                            |

### பயிற்சி

#### I .சரியான விடையைத் தேர்ந்தெடுத்து எழுதுக

1. தமிழகத்தில் பத்தினி வழிபாட்டை அறிமுகம் செய்தவர் \_\_\_\_\_

- அ) பாண்டியன் நெடுஞ்செழியன்      ஆ) சேரன் செங்குட்டுவன்  
இ) இளங்கோ அடிகள்      ஈ) முடத்திருமாறன்

2. கீழ்க்காணும் அரச வம்சங்களில் எது சங்க காலத்தில் ஆட்சி அதிகாரத்தில் இல்லை

- அ) பாண்டியர்      ஆ) சோழர்      இ) பல்லவர்      ஈ) சேரர்

3. பாண்டியர் ஆட்சிக்குப் பின் ஆட்சிக்குப் வந்தோர் \_\_\_\_\_ ஆவர்.

- அ) சாதவாகனர்கள்      ஆ) சோழர்கள்      இ) களப்பிரர்கள்      ஈ) பல்லவர்கள்



4. சங்க கால நிர்வாக முறையில் மிகச் சிறிய நிர்வாக அமைப்பு \_\_\_\_\_.

அ) மண்டலம்                      ஆ) நாடு                      இ) ஊர்                      ஈ) பட்டினம்

5. குறிஞ்சி நிலப்பகுதியில் வாழ்ந்த மக்களின் தொழில் யாது?

அ) கொள்ளையடித்தல்                      ஆ) ஆநிறை மேய்த்தல்

இ) வேட்டையாடுதல் மற்றும் சேகரித்தல்                      ஈ) வேளாண்மை

## II. கூற்றை வாசிக்கவும், சரியான விடையை (✓) செய்யவும்

- கூற்று: புலவர்களின் குழுமம் சங்கம் என அறியப்பட்டது.  
காரணம்: சங்க இலக்கியங்களின் மொழி தமிழாகும்.  
அ) கூற்றும் காரணமும் சரி. காரணம் கூற்றுக்கான சரியான விளக்கம் ஆகும்.  
ஆ) கூற்றும் காரணமும் சரி. காரணம் கூற்றுக்கான சரியான விளக்கமல்ல.  
இ) கூற்று சரி; காரணம் தவறு.  
ஈ) கூற்றும் காரணமும் தவறானவை.
- கீழ்க்காணும் கூற்றுகளில் எவை உண்மையானவை அல்ல?  
1. கரிகாலன் தலையாலங்கானம் போரில் வெற்றி பெற்றான்.  
2. பதிற்றுப்பத்து சேர அரசர்கள் பற்றிய விவரங்களை வழங்குகின்றன.  
3. சங்க காலத்தைச் சேர்ந்த பழையமையான இலக்கியங்கள் பெரும்பாலும் உரைநடையில் எழுதப்பட்டன.  
அ) '1' மட்டும்  
ஆ) '1' மற்றும் '3' மட்டும்  
இ) '2' மட்டும்
- பண்டைக்காலத் தமிழகத்தின் நிர்வாகப் பிரிவுகள் ஏறுவரிசையில் இவ்வாறு அமைந்திருந்தது  
அ) ஊர் < நாடு < கூற்றம் < மண்டலம்  
ஆ) ஊர் < கூற்றம் < நாடு < மண்டலம்  
இ) ஊர் < மண்டலம் < கூற்றம் < நாடு  
ஈ) நாடு < கூற்றம் < மண்டலம் < ஊர்
- அரசவம்சங்களையும் அரச முத்திரைகளையும் பொருத்துக.  
அ. சேரர்                      –                      1. இரண்டு மீன்கள்  
ஆ. சோழர்                      –                      2. புலி  
இ. பாண்டியர்                      –                      3. வில், அம்பு  
அ) 3, 2, 1                      ஆ) 1, 2, 3                      இ) 3, 1, 2                      ஈ) 2, 1, 3

## III. கோடிட்ட இடங்களை நிரப்புக.

- வெண்ணி போரில் வெற்றி பெற்றவர் \_\_\_\_\_.
- சங்க காலத்து மிகப்பழமையான தமிழ் இலக்கண நூல் \_\_\_\_\_.
- காவிரியாற்றின் குறுக்கே கல்லணையை \_\_\_\_\_ கட்டினார்.
- படைத் தலைவர் \_\_\_\_\_ என அழைக்கப்பட்டார்.
- நில வரி \_\_\_\_\_ என அழைக்கப்பட்டது.

#### IV.சரியா / தவறா

1. சங்க காலத்தில் பாடல்களைப் பாடுவோர் இருளர் என அழைக்கப்பட்டனர்.
2. சாதிமுறை சங்க காலத்தில் வளர்ச்சி பெற்றது.
3. கிழார் என்பவர் கிராமத்தின் தலைவர் ஆவார்.
4. புகார் என்பது நகரங்களின் பொதுவான பெயர் ஆகும்.
5. கடற்கரைப் பகுதிகள் மருதம் என அழைக்கப்பட்டன.

#### V.பொருத்துக

|             |   |           |
|-------------|---|-----------|
| அ. தென்னர்  | — | சேரர்     |
| ஆ. வானவர்   | — | சோழர்     |
| இ. சென்னி   | — | வேளிர்    |
| ஈ. அதியமான் | — | பாண்டியர் |

#### VI.ஒரிரு வாக்கியங்களில் விடையளிக்கவும்

1. பண்டைக்காலத் தமிழகத்தின் வரலாற்றை மறுகட்டுமானம் செய்ய உதவும் இரு இலக்கியச் சான்றுகளின் பெயர்களைக் குறிப்பிடுக.
2. நடுகல் அல்லது வீரக்கல் என்றால் என்ன?
3. சங்க இலக்கியங்களில் குறிப்பிடப்பட்டுள்ள ஐந்து திணைகளின் பெயர்களைக் குறிப்பிடுக.
4. சங்க காலத்தோடு தொடர்புடைய இரு தொல்லியல் ஆய்விடங்களைக் குறிப்பிடுக.
5. கடையேழு வள்ளல்களின் பெயர்களைக் குறிப்பிடுக.
6. களப்பிரர் காலத்தைச் சேர்ந்த ஏதேனும் மூன்று தமிழ் இலக்கியங்களின் பெயர்களைக் குறிப்பிடுக.

#### VII. கீழ்க் காண்பதற்கு விடையளிக்கவும்

1. சங்க காலத்தில் பெண்களின் நிலை குறித்து விவாதிக்கவும்

#### VIII. உயர் சிந்தனை வினாக்கள்

1. கரிகால் வளவன் மிகச் சிறந்த சோழ அரசனாகக் கருதப்படுகிறான்: நிறுவுக
2. களப்பிரர்களின் காலம் இருண்ட காலம் அல்ல. காரணங்கள் தருக

#### IX.வரைபடப் பயிற்சி

1. தென்னிந்திய ஆறுகள் வரைபடத்தில் சேர, சோழ, பாண்டிய அரசுகளின் எல்லைகளைக் குறித்து, வர்ணம் தீட்டவும்.
2. கீழ்க்காணும் இடங்களைக் குறிக்கவும்:  
கொற்கை, காவிரிப்பூம்பட்டினம். முசிறி, உறையூர், மதுரை

#### X.வாழ்க்கைத் திறன்

1. பல்வகை நிலப்பரப்புக் காட்சிப் படங்களைச் சேகரித்து, ஒட்டி, அவை எந்தத் திணைப் பகுதியைச் சேர்ந்தவை என்பதைக் கண்டுபிடிக்கவும். அங்கு விளையும் முக்கியப் பயிர்கள், வாழும் மக்களின் தொழில் ஆகியவை பற்றி எழுதவும்.




### XI. கட்டக வினாக்கள்

|  |   |  |
|--|---|--|
| பழந்தமிழ்க் காப்பியங்கள் இரண்டினைக் குறிப்பிடுக.<br><br>விடை:              | அரசருக்கு உதவிய இரண்டு குழுக்களின் பெயர்களைக் குறிப்பிடுக.<br><br>விடை: | சங்க காலத்து பெண்பாற் புலவர்கள் இருவரின் பெயர்களைக் கூறு.<br><br>விடை: |
| சங்க காலத்து மூன்று முக்கியத் துறைமுகங்களின் பெயர்களை எழுதுக.<br><br>விடை: | முத்தமிழில் எவை எல்லாம் அடங்கும்?<br><br>விடை:                          | சிலப்பதிகாரம் _____ ஆல் எழுதப்பட்டது                                   |
| எந்தப் பாண்டிய அரசனோடு தலையாலங்கானம் தொடர்புடையது?<br><br>விடை:            | எந்தத்திணை மென்புலம் என்றழைக்கப்பட்டது?<br><br>விடை:                    | துறைமுகங்களில் இருந்த ஒளிவிளக்குக் கோபுரங்கள் _____ என அழைக்கப்பட்டன.  |

அலகு

2

## இந்தியா- மௌரியருக்குப் பின்னர்



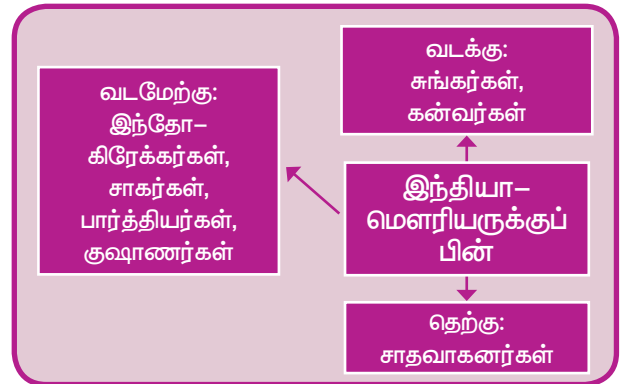
### கற்றல் நோக்கங்கள்

இப்பாடத்தைக் கற்றுக் கொள்வதன் வழியாக,

- மௌரியப் பேரரசின் வீழ்ச்சிக்குப் பின்னர் தோன்றிய அரசுகள், அரச வம்சங்கள் குறித்து அறிந்துகொள்ளுதல்
- இந்தியாவில் வடக்கு, வடமேற்கு, தெற்கு ஆகிய பகுதிகளில் நிறுவப்பட்ட பல்வேறு அரசுகளின் ஆட்சி அமைப்பு, சமூகம், பொருளாதாரம், பண்பாடு ஆகியவற்றைப் புரிந்துகொள்ளுதல்
- இந்தியாவின் இடைக்காலத் தொடக்கத்திற்கு அவர்கள் ஆற்றிய பங்களிப்பை தெரிந்துகொள்ளுதல்

### அறிமுகம்

மௌரியப் பேரரசின் வீழ்ச்சியின் விளைவாக வடமேற்கிலிருந்து சாகர்கள், சைத்தியர்கள், பார்த்தியர்கள், இந்தோ-கிரேக்கர்கள் அல்லது பாக்டிரிய-கிரேக்கர்கள், குஷாணர்கள் போன்றோர் இந்தியாவின் மீது படையெடுத்தனர். அசோகரின் மறைவுக்குப் பின்னர் தெற்கே சாதவாகனர்கள் சுதந்திர அரசர்களாயினர். குப்தப் பேரரசு நிறுவப்படுவதற்கு முன்னர் வடக்கே சுங்கர்களும் கன்வர்களும் ஆட்சி புரிந்தனர். கலிங்கத்தில் சேடிகள் தங்கள் சுதந்திரத்தைப் பிரகடனப்படுத்தினர்.



மகதம் முன்பிருந்தது போல் ஒரு பேரரசாக இல்லாது போனாலும் அது தொடர்ந்து பௌத்தப் பண்பாட்டின் முக்கிய மையமாகத் திகழ்ந்தது என்பதை இவ்விடத்தில் குறிப்பிட்டாக வேண்டியுள்ளது.

## சான்றுகள்

தொல்லியல் சான்றுகள்  
கல்வெட்டுகள் / செப்புப்  
பட்டயங்கள்



- தனதேவனின் அயோத்தி கல்வெட்டு
- பெர்சிபோலிஸ் நக்ஸி ரஸ்தம் கல்வெட்டு
- மோகா (தட்சசீலம் செப்புப்பட்டயம்)
- ஜுனாகத்/கிர்னார் கல்வெட்டு
- நாசிக் மெய்க்கீர்த்தி (பிரசஸ்தி)
- முதலாம் டேரியஸின் கல்வெட்டு

## நாணயங்கள்

- சாதவாகனரின் நாணயங்கள்
- இரண்டாம் கட்பிஸிசின் நாணயங்கள்
- ரோமானிய நாணயங்கள்

## இலக்கியங்கள்

- புராணங்கள்
- கார்கி சம்கிதா
- பாணபட்டரின் ஹர்ஷ சரிதம்
- பதஞ்சலியின் மகாபாஷ்யா
- குணாதியாவின் பிரிகஸ்தகதா
- நாகார்ஜுனாவின் மத்யமிக சூத்ரா
- அஸ்வகோஷரின் புத்த சரிதம்
- காளிதாசரின் மாளவிகாக்னிமித்ரம்

## அயல் நாட்டவர் குறிப்புகள்

- சீன பௌத்தத் துறவி யுவான்-சுவாங்கின் பயணக் குறிப்புகள்

## வடக்கே சங்கர்களும் கன்வர்களும்

### சங்கர்கள்

மௌரியப் பேரரசின் கடைசி அரசர் பிருகத்ரதா அவரது தளபதி புஷ்யமித்ர

சங்கரால் கொல்லப்பட்டார். புஷ்யமித்ர சங்கர் மகதத்தில் தனது சங்க வம்சத்தை நிறுவினார். புஷ்யமித்திரர் பாடலிபுத்திரத்தைத் தனது தலைநகராக்கினார்.

புஷ்யமித்திரரின் அரசு மேற்கு நோக்கி விரிவடைந்து உஜ்ஜைனி, விதிஷா ஆகியவற்றை உள்ளடக்கியதானது. பாக்ஷரியாவின் அரசன் மினாண்டரின் படையை புஷ்யமித்ரர் வெற்றிகரமாக முறியடித்தார். ஆனால் மினாண்டர் காபூலையும் சிந்துவையும் தன்கைவசம் வைத்துக் கொண்டார்.

கலிங்க அரசர் காரவேலனின் தாக்குதலையும் புஷ்யமித்ரர் முறியடித்தார். மேலும் விதர்பாவையும் அவர் கைப்பற்றினார். புஷ்யமித்ரர் வேதமதத்தைத் தீவிரமாகப் பின்பற்றியவர். அவர் தனது ஆதிக்கத்தை நிலைநாட்டுவதற்காக இருமுறை அஸ்வமேத யாகம் நடத்தினார்.



பார்குத், சாஞ்சி ஆகிய இடங்களிலுள்ள பௌத்த ஸ்தூபிகளில் காணப்படுவது போல ஸ்தூபிகளின் சுற்றுச்சுவர்களிலும் வாயில்களிலும் கற்களுக்குப் பதிலாக மரத்தைப் பயன்படுத்தும் முறை சங்கர் காலத்தில் நடைமுறைக்கு வந்தது.

புஷ்யமித்ர சங்கருக்குப் பின்னர் அவருடைய மகன் அக்னிமித்ரர் அரசு பதவி ஏற்றார். அவர்தான் காளிதாசர் இயற்றிய மாளவிகாக்னிமித்ரா நாடகத்தின் கதாநாயகன் எனக் கருதப்படுகிறார். மேலும் அந்நாடகம் அக்னிமித்ரரின் மகன் வசுமித்ரர் கிரேக்கர்களைச் சிந்து நதிக்கரையில் வெற்றி கொண்டதாகக் குறிப்பிடுகின்றது.

சங்க வம்சத்தின் பின்வந்த அரசர்கள் வலிமை குன்றியவர்களாக இருந்ததால் இந்தோ-பாக்ஷரியர், இந்தோ-பார்த்தியர்



ஆகியோரின் தொடர் அச்சுறுத்தல்களைச் சந்திக்க நேர்ந்தது. சங்கவம்சத்தினர் நூறு ஆண்டு காலம் ஆட்சி புரிந்தனர். தேவபூதி கடைசி சங்க அரசராவார். அவர் தன்னிடம் அமைச்சராகப் பணி புரிந்த வாசுதேவ கன்வர் என்பவரால் கொல்லப்பட்டார். வாசுதேவர் மகதத்தில் கன்வர் வம்சத்தை நிறுவினார்.

### சங்கர்கள் காலத்தின் முக்கியத்துவம்

பாக்கிரியாவைச் சேர்ந்த கிரேக்கர்களின் ஆக்கிரமிப்புகளிலிருந்து கங்கைப் பள்ளத்தாக்குப் பகுதியைப் பாதுகாப்பதில் சங்கர்கள் முக்கியப் பங்கு வகித்தனர். புஷ்யமித்திரரும் அவருக்குப் பின்வந்தோரும் வேதமத நடைமுறைகளுக்குப் புத்துயிர் ஊட்டி, வைணவத்தை வளர்த்தனர். சமஸ்கிருத மொழி நாளடைவில் வளர்ச்சியடைந்து அரசவை மொழியானது.

சமஸ்கிருத மொழியின் இரண்டாவது இலக்கண அறிஞரான பதஞ்சலியைப் புஷ்யமித்திரர் ஆதரித்தார்.

புஷ்யமித்திரர் பௌத்தர்களைத் துன்புறுத்தினாலும் இவருடைய ஆட்சிக் காலத்தில்தான் பார்த்து, சாஞ்சி ஆகிய

கலிங்க அரசர் காரவேலர் சங்க அரசர்களின் சமகாலத்தவர் ஆவார். காரவேலர் பற்றிய செய்திகளை நாம் ஹதிகும்பா கல்வெட்டிலிருந்து பெறுகிறோம்



ஹதிகும்பா யானை குகை கல்வெட்டு

இடங்களிலுள்ள பௌத்த நினைவுச் சின்னங்கள் சீர்செய்யப்பட்டுப் புதுப்பிக்கப்பட்டன. சாஞ்சியில் உள்ள மாபெரும் ஸ்தூபியும் அதைச் சுற்றியுள்ள சுற்றுச் சுவரும் சங்கர்களின் காலத்தவையாகும்.

### கன்வர்கள்

கன்வ வம்சம் நான்கு அரசர்களை மட்டுமே பெற்றிருந்தது. அவர்களின் ஆட்சி 45 ஆண்டுகள் மட்டுமே நீடித்தது. கன்வர்களின் வீழ்ச்சிக்குப் பின்னர், குப்தர்களின் எழுச்சிவரை மகதத்தின் வரலாற்றில் குறிப்பிட்டுச் சொல்லும்படியாக எதுவும் நிகழவில்லை.

### கன்வ அரசர்கள்

- வாசுதேவர்
- பூமிமித்தர்
- நாராயணர்
- சுசர்மன்

கடைசிக் கன்வ அரசனான சுசர்மன், ஆந்திராவைச் சேர்ந்த வலிமை மிகுந்த குறுநில மன்னரான சிமுகா என்பவரால் கொல்லப்பட்டார். சிமுகா சாதவாகன வம்ச ஆட்சிக்கு அடிக்கல்லை நாட்டினார்.

### தெற்கில் சாதவாகனர்கள்

குஷாணர்கள் வட இந்தியாவில் 300 ஆண்டுகள் ஆட்சி செய்தனர். தென்னிந்தியாவில் சாதவாகனர்கள் (ஆந்திரர்) 450 ஆண்டுகள் கோலோச்சினர். சாதவாகன வம்சத்தை நிறுவிய சிமுகா இருபத்துமூன்று ஆண்டுகள் ஆட்சிபுரிந்ததாகக் கூறப்படுகிறது. அவரைத் தொடர்ந்து அவருடைய சகோதரர் கிருஷ்ணா பதவியேற்றார். கிருஷ்ணரும் அவருடைய சகோதரியின் மகன் சதகர்ணியும் பத்தாண்டுகள் வீதம் ஆட்சி புரிந்தனர். இவர்கள் காலத்தில் சாதவாகன அரசு பேரரசானது. வடமேற்கில்

ராஜஸ்தான் முதல் தென்கிழக்கே ஆந்திரா வரையிலும் மேற்கில் குஜராத் முதலாக கிழக்கே கலிங்கம் வரையிலுமாக விரிந்து பரந்த பேரரசை இவர்கள் ஆட்சி செய்தனர். தனது பேராதிக்க நிலையின் அடையாளமாகச் சதகர்ணி இரண்டு அஸ்வமேத யாகங்களை நடத்தினார்.



சாதவாகனர் கால நாணயம்

சாதவாகன அரச குடும்பத்தின் மாபெரும் மன்னர் கௌதமிபுத்திர சதகர்ணியாவார். இவரது அன்னை கௌதமி பாலஸ்ரீயால் வெளியிடப்பட்ட நாசிக் மெய்க்கீர்த்தியில் (பிரசஸ்தியில்) இவர் சாகர், யவனர் (கிரேக்கர்) பகலவர் (பார்த்தியர்) ஆகியோரை அழித்து ஒழித்தார் எனக் கூறப்பட்டுள்ளது. பேரரசின் எல்லைகளும் இம்மெய்க்கீர்த்தியில் குறிப்பிடப்பட்டுள்ளன. இவர்களின் பேரரசு மகாராஷ்டிரா, வடக்கு கொங்கன், பெரார், குஜராத், கத்தியவார், மாளவம் ஆகிய பகுதிகளை உள்ளடக்கியதாக இருந்தது. கப்பலின் வடிவம் பொறிக்கப்பட்டுள்ள வசிஸ்டபுத்திர ஸ்ரீபுலமாயி நாணயங்கள் ஆந்திரர்கள் கடல்சார் நடவடிக்கைகளில் பெற்றிருந்த திறன்களையும் அவர்களது கப்பற்படை வலிமையையும் உணர்த்துகின்றன. போகர் கல்வெட்டானது



கௌதமிபுத்திர சதகர்ணி கால நாணயங்கள்

தென்கிழக்கு ஆசியப் பகுதிகளில் அரசு உருவாக்கத்தில் தென்னிந்தியா வகித்த முக்கியப் பங்கைப் பற்றிக் கூறுகிறது.

## சாதவாகனர்களின் பங்களிப்பு

### இலக்கியம்

சாதவாகன அரசர் ஹாலா ஒரு சிறந்த சமஸ்கிருத அறிஞர். கி.மு.(பொ.ஆ.மு) இரண்டாம் நூற்றாண்டில், தக்காணப் பகுதிகளில் கண்டரா மொழிப்பள்ளியைச் சார்ந்த சமஸ்கிருதம் செழித்தோங்கியது. பிராகிருத மொழியில் 700 பாடல்களைக் கொண்ட சட்டசாய் (சுப்தசதி) எனும் நூலை எழுதியதன் மூலம் அரசர் ஹாலா புகழ் பெற்றிருந்தார்.

### கலையும் – கட்டடக்கலையும்

சாதவாகனர்கள் மிகச் சிறந்த கட்டடக்கலை வல்லுநர்கள் ஆவர். அவர்கள் அமராவதியில்

உலகப் புகழ்பெற்ற புத்தரின் ஆளுயரச் சிற்பங்கள் பாமியான் பள்ளத்தாக்கிலுள்ள மலைகளில் செதுக்கப்பட்டுள்ளன. இம்மலைகள் பண்டைய இந்தியாவின் வடமேற்கு எல்லைப்புறத்தில் அமைந்திருந்தது. (தற்போது இப்பகுதி ஆப்கானிஸ்தானின் மையத்தில் உள்ளது. அண்மையில் இவற்றைத் தாலிபான்கள் உடைத்து நொறுக்கினர்.) இச்சிற்பங்கள் மௌரியர் காலத்துக்கு பின்னரான காந்தாரக் கலைப்பள்ளியைச் சேர்ந்த அர்ப்பணிப்பு மிக்க கலைஞர்களால் திடமான பாறைகளில் செதுக்கப்பட்டவை ஆகும்.



பாமியான் பள்ளத்தாக்கிலுள்ள புத்தரின் சிற்பம்

பெளத்த ஸ்தூபிகளைக் கட்டினார். வியட்நாமில் உள்ள ஒக்-யோ என்னும் தொல்லியல் ஆய்விடத்தில் கண்டறியப்பட்ட புத்தரின் நின்ற கோலத்திலான வெண்கலச் சிலையானது அமராவதி பாணியை ஒத்துள்ளது. பிற்காலத்தைச் சேர்ந்த சாதவாகன அரசர்கள் இரண்டு பாய்மரங்களைக் கொண்ட கப்பல்களின் சின்னம் பொறிக்கப்பட்ட ஈய அல்லது செப்பு நாணயங்களை வெளியிட்டனர். தாய்லாந்தில் நாக்கான் பதோம் என்ற இடத்தில் கல்லால் ஆன முத்திரை ஒன்று கண்டுபிடிக்கப்பட்டது. அதுவும் அதே வடிவத்தில் அமைந்துள்ளது.

காந்தாரம், மதுரா, அமராவதி, புத்த கயா, சாஞ்சி, பாகுத் ஆகிய இடங்கள் கலைகளுக்கும் அற்புதமான கட்டிடங்களுக்கும் பெயர் பெற்றவையாகும். மதுரா சிற்பக் கலைப்பள்ளி

பெளத்த, சமண, வேதமதக் கடவுள்களின் பிம்பங்களையும் முழு உருவச் சிலைகளையும் வடித்தது.

### இந்தோ-கிரேக்கர், இந்தோ-பார்த்தியர், சாகர், குஷாணர்

#### இந்தோ-கிரேக்கர்கள், இந்தோ-பார்த்தியர்கள்

வடமேற்கு இந்தியாவையும் பஞ்சாப் பகுதியையும் கைப்பற்றிய அலெக்ஸாண்டர் அவற்றைத் தனது பிராந்திய ஆளுநர்களின் பொறுப்பில் விட்டுச்சென்றார். அவற்றில் கிழக்குப் பகுதியில் அமைந்திருந்த பாக்கிரியா, பார்த்தியா ஆகிய இரு சத்ராபிகள் (மாநிலங்கள்) தங்கள் கிரேக்க ஆளுநர்களின் தலைமையில் கிளர்ச்சி செய்து அவர்களின் கீழ் சுதந்திர அரசுகளாயின. பாக்கிரியா சத்ராபி முதலாம்

#### இந்தோ-கிரேக்க அரசர்கள்

**முதலாம் டெமிட்ரியஸ்:** இவர் கிரேக்கோ-பாக்கிரிய அரசர் யுதி டெமஸ் என்பாரின் மகனாவார். இவர் கி.மு.(பொ.ஆ.மு) 294 முதல் 288 வரை மாசிடோனியாவின் மன்னராக இருந்தார். டெமிட்ரியஸ் சதுர வடிவிலான இரு மொழி வாசகங்களைக் கொண்ட நாணயங்களை வெளியிட்டார் என்பதை நாணயச் சான்றுகள் உறுதி செய்கின்றன. நாணயத்தின் தலைப்



டெமிட்ரியஸ்



மினான்டர்

பகுதியில் கிரேக்க மொழியும் பூப்பகுதியில் கரோஷ்தி மொழியும் இடம் பெற்றுள்ளன. டெமிட்ரியஸ் எனும் பெயரில் மூவர் இருந்துள்ளனர். எனவே, இம்மூவரும் யார் கி.மு. (பொ.ஆ.மு) இரண்டாம் நூற்றாண்டில் தொடங்கும் யவன சகாப்தத்தைத் தொடங்கிவைத்தவர் என்பதை வரலாற்று அறிஞர்களால் முடிவு செய்ய முடியவில்லை.

**மினான்டர்:** இவர் நன்கறியப்பட்ட இந்தோ-கிரேக்க அரசர்களில் ஒருவராவார். வடமேற்குப் பகுதியில் பெரியதொரு அரசை இவர் ஆண்டதாகக் கூறப்படுகிறது. இவர் வெளியிட்ட நாணயங்கள் பரந்து விரிந்த பகுதியில் கிடைக்கின்றன. காபூல் பள்ளத்தாக்கில் தொடங்கி சிந்துநதி கடந்து மேற்கு உத்தரப்பிரதேசம் வரையிலான பகுதிகளில் கிடைத்தன. மிளிந்த பன்கா எனும் நூல் ஒன்று உள்ளது. பாக்கிரிய அரசன் மிளிந்தா என்பவருக்கும் பெளத்த அறிஞர் நாகசேனாவுக்கும் இடையே நடைபெற்ற உரையாடலே அந்நூலாகும். இந்த மிளிந்தாவே மினான்டர் என அடையாளப்படுத்தப்படுகிறது. மினான்டர் பெளத்தராக மாறி பெளத்தத்தின் வளர்ச்சிக்கு பணியாற்றியதாகக் கருதப்படுகிறது.



டயோடாடஸ் தலைமையிலும், பார்த்தியா அரசாகஸ் தலைமையிலும் சுதந்திர அரசுகளாக அறிவித்தன.

மௌரியப் பேரரசின் வீழ்ச்சிக்குப் பின்னர் பாக்டிரியா, பார்த்தியா ஆகியவற்றின் கிரேக்க அரசர்கள் இந்தியாவின் வடமேற்கு எல்லைப்புறப் பகுதிகளை ஆக்கிரமித்தனர். இவ்வாறு குடியேறிய பாக்டிரியர்களும் பார்த்தியர்களும் குடியேறிய இடத்தில் வாழ்ந்த மக்களோடு திருமண உறவு கொண்டு இரண்டறக் கலந்தனர். இது இந்தியாவின் வடமேற்குப் பகுதிகளில் இந்தோ-கிரேக்கர், இந்தோ பார்த்தியர் குடியிருப்புகள் உருவாக உதவியது.

### இந்தோ-கிரேக்கர்களின் பங்களிப்பு

#### நாணயமுறை

இந்தோ-கிரேக்க ஆட்சியாளர்கள் அச்ச வாரக்கும் முறையை அறிமுகம் செய்து, நேர்த்தியான வடிவங்களில் நாணயங்களை வெளியிட்டனர். அவற்றில் எழுத்துக்களும் சின்னங்களும் உருவங்களும் பொறிக்கப்பட்டன. இம்முறையை இந்தியர்கள் இவர்களிடமிருந்து கற்றுக்கொண்டனர்.

#### சிற்பங்கள்

இந்தியாவின் காந்தாரக் கலைப்பள்ளி கிரேக்கர்களின் சிற்பக் கலைக்கு மிகவும்

கடமைப்பட்டுள்ளது. கிரேக்கர்கள் குகைகளை அமைப்பதில் சிறந்தவர்கள். மகாயான பௌத்தர்கள் குகைகளைக் குடைந்தெடுக்கும் முறையைக் கிரேக்கர்களிடமிருந்து கற்றனர். அதன்மூலம் குடைவரைச் சிற்ப கட்டடக்கலையில் சிறப்புத்திறன் பெற்றவராயினர்.

### சாகர்கள்

இந்தியாவில் இந்தோ-கிரேக்கரின் ஆட்சிக்குச் சாகர்கள் முற்றுப்புள்ளி வைத்தனர். நாடோடி இனத்தவரான இவர்கள் பெரும் எண்ணிக்கையில் இந்தியாவுக்குள் நுழைந்து வடக்கு மற்றும் மேற்கிந்தியா முழுவதும் பரவினர். இவர்கள் துருக்கிய நாடோடிப் பழங்குடியினர்க்கு எதிரானவர்கள். சாகர்கள் பண்டைய நாடோடி இன ஈரானிய சைத்தியர்கள் ஆவர். சமஸ்கிருத மொழியில் இவர்கள் சாகர்கள் என அறியப்பட்டனர்.

சாகர்களின் ஆட்சியானது மாவோஸ் அல்லது மோகா என்பவரால் காந்தாரப்பகுதியில் நிறுவப்பட்டது. அவருடைய தலைநகர் சீர்காப் ஆக இருந்தது.

மோரா கல்வெட்டில் அவருடைய பெயர் குறிப்பிடப்பட்டுள்ளது. அவருடைய நாணயங்களில் புத்தர், சிவன் ஆகியோரின் உருவங்கள் பொறிக்கப்பட்டுள்ளன.


### இந்தோ-பார்த்திய (பகலவர்) அரசர்கள்

இந்தோ-கிரேக்கர், இந்தோ-சைத்தியர் ஆகியோருக்குப் பின்னர் இந்தோ-பார்த்தியர் வந்தனர். அதனைத் தொடர்ந்து இவர்கள் கி.பி. முதலாம் நூற்றாண்டின் பிற்பாதியில் குஷாணர்களால் தோற்கடிக்கப்பட்டனர். இந்தோ-பார்த்திய அரசு அல்லது கோண்டோபரித் வம்சம் கோண்டோ பெர்னஸால் நிறுவப்பட்டது. இந்தோ-பார்த்தியர் ஆட்சி செய்த பகுதி காபூல், காந்தாரா ஆகியவற்றை உள்ளடக்கியதாகும். கோண்டோ பெர்னஸ் எனும் பெயர் கிறித்துவ உபதேசியார் புனித தாமசுடன் தொடர்புடையதாகும். கிறித்துவ மரபின்படி புனித தாமஸ் இந்தியவிற்கு வருகை புரிந்தார். கோண்டோ பெர்னஸின் அரசவைக்கு அவரது வருகையால் மன்னர் கிறித்துவத்தை தழுவினார்.



புனித தாமஸ்

சாகர் வம்சத்தின் மிக முக்கியமான, புகழ்வாய்ந்த அரசர் ருத்ரதாமன் ஆவார். அவருடைய ஜுனாகத்/கிர்னார் கல்வெட்டு தூய சமஸ்கிருதத்தில் எழுதப்பட்ட முதல் கல்வெட்டுக் குறிப்பாகும். இந்தியாவில் சாகர்கள் இந்தியச் சமூகத்தினுள் இரண்டறக் கலந்து வாழ்ந்தனர். நாளடைவில் அவர்கள் இந்தியப் பெயர்களைச் சூட்டிக் கொண்டனர். இந்திய மத நம்பிக்கைகளையும் ஏற்கத் தொடங்கினர். சாகர்கள் வடித்திராபஸ் அல்லது சத்ரப்ஸ் என்னும் பெயர்களில் பிராந்திய ஆளுநர்களை நியமித்து, அவர்கள் தங்கள் பகுதிகளை நிர்வகித்தனர்.



ஜுனாகத் கல்வெட்டு



ருத்ரதாமன் கால நாணயம்

## குஷாணர்கள்

குஷாணர்கள் பழங்காலத்தில் சீனாவின் வடமேற்குப் பகுதிகளில் வாழ்ந்துவந்த யூச்-சி பழங்குடி இனத்தின் ஒரு பிரிவினராவர். கி.மு. முதலாம் நூற்றாண்டில் யூச்-சி-பழங்குடியினர் ஐந்து பிரதானப் பிரிவினராக இருந்தனர். அவர்களுள் குஷாணர் ஏனைய பிரிவினரீது

அரசியல் மேலாதிக்கம் செலுத்தி அவர்களுக்கு அரசியல் தலைமை ஏற்றனர்.

கிறித்தவ சகாப்தத்தின் தொடக்கத்தில் அனைத்துப் பிரிவுகளைச் சேர்ந்த யூச்-சி-பழங்குடியினரும், குஷாணர்களுடைய மேலாதிக்கத்தை ஏற்றுக்கொண்டனர். தங்களுடைய நாடோடிப் பழக்கவழக்கங்களைக் கைவிட்ட அவர்கள் இந்தியாவின் வடமேற்கு எல்லைப்புறத்தை ஒட்டியிருந்த பாக்டிரியர், பார்த்தியர் ஆகியோரின் பகுதிகளில் குடியேறினர்.

பின்னர் பாக்டிரியர், பார்த்தியர் ஆகியோரின் பகுதிகளையும் கைப்பற்றிய அவர்கள் படிப்படியாக வட இந்தியப் பகுதிகளில் தங்களை நிலைநிறுத்திக் கொண்டனர். பஞ்சாப், ராஜஸ்தான், கத்தியவார் ஆகிய பகுதிகளில் அதிகம் பரவியிருந்த குஷாணர்கள் பௌத்த மதத்தைப் பின்பற்றினர். இதன் விளைவாக தட்சீலமும் மதுராவுமீ மிகச் சிறந்த கல்விமையங்களாகச் செயல்பட்டன. மேற்கு ஆசியாவிலிருந்தும் சீனாவிலிருந்தும் மாணவர்கள் இங்கு வந்தனர்.

## குஷாண அரசர்கள்


### கனிஷ்கர்

குஷாணப் பேரரசர்களில் மாபெரும் பேரரசர் கனிஷ்கர் ஆவார். கி.பி. (பொ.ஆ) 78 இல் அரசு பதவி ஏற்றார். ஒரு புதிய சகாப்தத்தை நிறுவியதன் மூலம் தனது ஆட்சியைப் பிரகடனப்படுத்தினார். பின்னர் இது சாகர் சகாப்தமானது.

தொடக்கத்தில் காபூல், குஷாணர்களின் தலைநகராக இருந்தது. பின்னர் அது பெஷாவர் அல்லது புருஷ்புரத்துக்கு மாற்றப்பட்டது.



கனிஷ்கர் கால நாணயம்

| அரசர்கள்   | பாங்களிப்புகள்  |
|--|---|
| முதலாம் கட்பிசஸ்   | குஷாணர்களில் மிகவும் புகழ்பெற்ற முதல் அரசியல் மற்றும் இராணுவத் தளபதி இவரேயாவார். அவர் இந்தோ-கிரேக்க, இந்தோ-பார்த்திய அரசர்களை வெற்றிகொண்டு பாக்கிரியாவில் இறையாண்மையுடன் கூடிய அரசராக தன்னை நிலைநிறுத்தினார். தன்னுடைய ஆதிக்கத்தை முதலில் காபூல், காந்தார தேசம் தொடங்கி, பின்னர் சிந்து வரையிலும் பரப்பினார். |
| இரண்டாம் கட்பிசஸ்<br> | இவர் சீன, ரோமானிய அரசர்களுடன் நட்புறவை மேற்கொண்டார். அயல்நாட்டு வர்த்தகத்தை ஊக்குவித்தார். அவருடைய நாணயங்கள் சிலவற்றில் சிவபெருமானின் உருவங்கள் பொறிக்கப்பட்டுள்ளன. அரசருடைய பட்டப்பெயர்கள் கரோஷ்தி மொழியில் பொறிக்கப்பட்டுள்ளன.  |

### படையெடுப்புகள்

கனிஷ்கர் காஷ்மீரைக் கைப்பற்றி தம் நாட்டுடன் இணைத்துக்கொண்டார். மேலும், மகதத்திற்கு எதிராக போரிட்டு வெற்றி பெற்றார். விரிந்து பரந்த தனது பேரரசின் பாதுகாப்பையும் நம்பிக்கையையும் உறுதி செய்வதற்காக மேற்கு, தென்மேற்கு எல்லைகளில் பார்த்திய அரசருக்கு எதிராகப் போர் தொடுத்தார்.

காஷ்மீரையும் காந்தாரத்தையும் வென்ற பின்னர் தனது கவனத்தைச் சீனாவை நோக்கித் திருப்பினார். கனிஷ்கர் சீனத் தளபதி பன்-சியாங் என்பவரைத் தோற்கடித்து, இந்தியாவின் வட எல்லைகளைச் சீனர்களின் ஊடுருவல்களிலிருந்து பாதுகாத்தார்.

அவருடைய பேரரசு, கீழே வாரணாசி வரையிலும் வடக்கே காஸ்கர், யார்க்கண்ட், தெற்கே விந்திய மலைகள், மேற்கே பாரசீகம், பார்த்தியா ஆகியவற்றின் எல்லைகள் வரை பரவியிருந்தது.

### மதக் கொள்கை

கனிஷ்கர் ஒரு தீவிர பௌத்தராவார். கனிஷ்கரின் பேரரசு ஒரு பௌத்தப் பேரரசு. பாடலிபுத்திரத்தைச் சேர்ந்த பௌத்தத் துறவியான அஸ்வகோஷர் என்பவரின் போதனைகளால் அவர் பௌத்தத்தைத்

தழுவினார். கனிஷ்கர் மாபெரும் வீரராகவும் பேரரசை உருவாக்கியவராகவும் இருந்தபோதிலும் அதே அளவிற்கு மகாயான பௌத்தத்தை ஆதரிப்பவராகவும் அதைத் தீவிரமாக முன்னெடுத்துச் செல்பவருமாக விளங்கினார்.

கனிஷ்கர் பௌத்தத்தை அரசமதமாக்கினார். மேலும் பல ஸ்தூபிகளையும் மடாலயங்களையும் மதுரா, தட்ச சீலம் மற்றும் பேரரசின் இதரபகுதிகளிலும் கட்டினார். புத்தரின் நற்செய்திகளைப் பரப்புவதற்காகப் பௌத்தச் சமயப் பரப்பாளர்களைத் திபெத், சீனா மற்றும் மத்திய ஆசியாவின் பலநாடுகளுக்கும் அனுப்பிவைத்தார்.

பௌத்தமதப் பிரிவுகளிடையே நிலவிய கருத்துவேறுபாடுகளைக் களைவதற்காக நான்காவது பௌத்தப் பேரவையை ஸ்ரீநகருக்கு அருகேயுள்ள குந்தல வனத்தில் கூட்டினார். இப்பேரவையில்தான் ஹீனயானம், மகாயானம் எனப் பௌத்தம் பிளவுற்றது.

### கலையும் இலக்கியமும்

கனிஷ்கர் கலை, இலக்கியங்களின் மிகப்பெரும் ஆதரவாளர் ஆவார். அஸ்வகோஷர், வசுமிதரர், நாகார்ஜுனர் போன்ற எண்ணற்ற பௌத்தத் துறவிகளாலும் அறிஞர்களாலும் அவருடைய அவை அலங்கரிக்கப்பட்டது.



அஸ்வகோஷர் 'புத்தசரிதம்' என்னும் முதல் சமஸ்கிருத நாடகத்தின் போற்றப்படும் ஆசிரியர் ஆவார்.

காஷ்மீரில் கனிஷ்கபுரம் எனும் புதிய நகரை உருவாக்கினார். மேலும் தலைநகர் புருஷபுரத்தை அற்புதமான கட்டடங்களால் அழகுபடுத்தினார்.

இவருடைய காலத்தில் காந்தாரக் கலைப்பள்ளி செழித்தோங்கியது. புத்தரின் சிலைகளைத் செதுக்குவது காந்தாரக்

கலைஞர்களுக்கு மிகவும் விருப்பமானதாக இருந்தது.

பௌத்தக் கல்வியும் பண்பாடும் தட்சீலத்திலிருந்து சீனாவுக்கும் மங்கோலியாவுக்கும் சென்றன. குஷாணர் காலத்தில் மாபெரும் ஆசியப் பண்பாடானது இந்திய பௌத்தப் பண்பாட்டோடு கலந்தது.

கனிஷ்கரின் பின்வந்தோர் திறமையற்றவர்களாகவும் வலிமை குன்றியவர்களாகவும் இருந்தனர். இதன் விளைவாகக் குஷாணப் பேரரசு வேகமாகச் சிதைவுற்று பல சிற்றரசுகளானது.



## உலகம் அந்நாளில்

குஷாணப் பேரரசு ஜூலியஸ் சீசர் வாழ்ந்த ரோமனியக் குடியரசின் இறுதி நாட்களின் சமகாலத்தியதாகும். குஷாணப் பேரரசர் அகஸ்டஸ் சீசரின் அவைக்கு ஒரு பெரும் தூதுக் குழுவை அனுப்பியதாகக் கூறப்படுகிறது.



அகஸ்டஸ் சீசர்



ஜூலியஸ் சீசர்

### பாடச்சுருக்கம்

- மௌரியப் பேரரசு சிதறுண்டதன் விளைவாக வடமேற்கிலிருந்து சாகர்கள், சைத்தியர்கள், பார்த்தியர்கள், இந்தோ-கிரேக்கர்கள், குஷாணர்கள் ஆகியோர் இந்தியாவின் மீது படையெடுத்தனர்
- கடைசி மௌரியப் பேரரசர் பிருகதரதர் அவருடைய படைத்தளபதி புஷ்யமித்ர சுங்கரால் கொல்லப்பட்டார். மகதத்தில் புஷ்யமித்ர சுங்கர் சுங்க அரசவம்சத்தை நிறுவினார்
- கன்வர்களின் வீழ்ச்சிக்குப் பின்னர் குப்த அரச வம்சத்தின் எழுச்சிவரை மகதத்தின்

வரலாற்றில் குறிப்பிடத் தகுந்த நிகழ்வுகள் இடம்பெறவில்லை

- வட இந்தியாவில் குஷாணர்கள் 300 ஆண்டுகள் ஆட்சி புரிந்தனர். தெற்கே சாதவாகனர்கள் (ஆந்திரர்) 450 ஆண்டுகள் ஆட்சி செய்தனர்
- சாகர் வம்ச அரசர்களில் தலை சிறந்தவர் ருத்ரதாமன் ஆவார்
- குஷாணர்களில் நன்கறியப்பட்டவர் கனிஷ்கர். இவர் மகாயான பௌத்தத்தைத் தீவிரமாகப் பின்பற்றினார். இவருடைய காலத்தில் காந்தாரக் கலை வளர்ச்சி பெற்றது

### அருஞ்சொற்பொருள்

|                       |                 |   |
|-----------------------|-----------------|---|
| விரட்டியடிக்கப்பட்டது | - repulsed      | - driven back by force  |
| முறியடிக்கப்பட்டது    | - thwarted      | - prevent from accomplishing something                                      |
| ஆக்கிரமிப்புகள்       | - encroachments | - intrusion on a person's territory, rights etc,                            |
| புதுப்பிக்கப்பட்டது   | - renovated     | - Restored (something old, especially a building) to a good state of repair |
| ஒன்றிப்போதல்          | - assimilate    | - absorb (information, ideas or culture) fully                              |
| தீவிர                 | - ardent        | - enthusiastic or passionate  |
| அற்புதமான             | - magnificent   | - impressively beautiful  |





### 3. பொருந்தாததை வட்டமிடுக

புஷ்யமித்ரர் வாசுதேவர் சிமுகா கனிஷ்கர்

### 4. ஒரு வார்த்தையில் பதில் எழுதவும்

1. கடைசி சுங்க அரசர் யார்?
2. சாகர்களில் மிக முக்கியமான, புகழ் பெற்ற அரசர் யார்?
3. மகதத்தில் கன்வ வம்சத்தை நிறுவியவர் யார்?
4. கோண்டோ பெர்னஸைக் கிறித்துவ மதத்திற்கு மாற்றியவர் யார்?

### III. கோடிட்ட இடங்களை நிரப்பவும்

1. இந்தோ-பார்த்திய அரசை நிறுவியவர் \_\_\_\_\_
2. தெற்கே \_\_\_\_\_ இறப்பிற்குப் பின்னர் சாதவாகனர் சுதந்திர அரசர்களாயினர்.
3. ஹாலா எழுதிய நூலின் பெயர் \_\_\_\_\_
4. \_\_\_\_\_ கன்வ வம்சத்தின் கடைசி அரசராவார்.
5. குஷாணர்களின் பிந்தைய தலைநகரம் \_\_\_\_\_ ஆகும்.

### IV. சரியா / தவறா என எழுதுக

1. மௌரியப் பேரரசின் வீழ்ச்சிக்குப் பின்னரும் மகதம் தொடர்ந்து ஒரு பௌத்த பண்பாட்டு மையமாகத் திகழ்ந்தது.
2. காரவேலரைப் பற்றி அதிகமான செய்திகளை நாம் ஹதிகும்பா கல்வெட்டிலிருந்து பெறுகிறோம்
3. குந்தல சதகர்ணி, சாதவாகன வம்சத்தின், பத்தாவது அரசராவார்.
4. 'புத்த சரிதம்' அஸ்வகோஷரால் எழுதப்பட்டது.

### V. பொருத்துக

- |                   |   |                                       |
|-------------------|---|---------------------------------------|
| அ. பதஞ்சலி        | - | 1. கலிங்கம்                           |
| ஆ. அக்னிமித்ரர்   | - | 2. இந்தோ-கிரேக்கர்                    |
| இ. அரசர் காரவேலர் | - | 3. இந்தோ-பார்த்தியர்                  |
| ஈ. டெமிட்ரியஸ்    | - | 4. இரண்டாம் சமஸ்கிருத இலக்கண ஆசிரியர் |

உ) கோண்டோ பெர்னஸ் - 5. மாளவிகாக்னிமித்ரம்.

அ) 4, 3, 2, 1, 5      ஆ) 3, 4, 5, 1, 2      இ) 1, 5, 3, 4, 2      ஈ) 2, 5, 3, 1, 4

### VI. பின்வருவனவற்றில் தவறான கூற்றைக் கண்டறிக

1. குஷாணர் வடமேற்குச் சீனாவில் வாழ்ந்த யூச்-சி பழங்குடி மக்களின் ஒரு பிரிவினரை உருவாக்கினார்.
2. கனிஷ்கர் சமண மதத்தை அரசு மதமாக்கிப் பல மடாலயங்களைக் கட்டினார்.
3. சாஞ்சியின் மாபெரும் ஸ்தூபியும் அதன் சுற்றுவேலியும் சுங்கர் காலத்தைச் சேர்ந்தவை.
4. பன்-சியாங் சீனத் தளபதியாவார். இவர் கனிஷ்கரால் தோற்கடிக்கப்பட்டார்.

### VII. ஓரேரு வாக்கியங்களில் பதில் அளிக்கவும்

1. கடைசி மௌரிய அரசருக்கு என்ன நேர்ந்தது?

2. காளிதாசரின் 'மாளவிகாக்னிமித்ரம்' குறித்து சிறு குறிப்பு வரைக.
3. கன்வ வம்சத்தின் அரசர்களின் பெயர்களைக் குறிப்பிடுக
4. சாதவாகனர்களின் இலக்கியச் சாதனைகளை எடுத்து கூறுக.
5. சாதவாகனர்களின் நினைவுச் சின்னங்கள் அமைந்துள்ள இடங்கள் யாவை?
6. முதலாம் கட்பிசஸ்ஸின் சாதனைகளைக் குறிப்பிடுக.
7. கனிஷ்கரின் அவையை அலங்கரித்த துறவிகள், அறிஞர்கள் ஆகியோரின் பெயர்களைக் குறிப்பிடுக.

### VIII. கீழ்க்காண்பனவற்றிற்கு விடையளிக்கவும்

1. மௌரியப்பேரரசின் வீழ்ச்சிக்குப் பின்னர் இந்தியாவின் மீது படையெடுத்தவர் யார்?
2. புஷ்யமித்ர சுங்கரின் வெற்றி பற்றி எழுதுக.
3. கௌதமிபுத்திர சதகர்ணியைப் பற்றிக் குறிப்பெழுதுக.
4. கோண்டோபரித் அரச வம்சத்தைப் பற்றி நீங்கள் அறிந்ததென்ன?
5. இந்தோ-கிரேக்க அரசர்களில் மிக முக்கிய அரசர் யார்? ஏன்?
6. சாகர்கள் யார்?
7. கனிஷ்கருடைய மதக் கொள்கை பற்றி எழுதுக.

### IX. உயர் சிந்தனை வினாக்கள்

1. காந்தாரக் கலைப்பள்ளியின் முக்கியத்துவத்தை எழுதவும்.
2. மௌரியருக்குப் பின்வந்த காலத்தில் தென்னிந்தியாவில் வணிக-வர்த்தக நிலை குறித்து எழுதவும்.

### X. செயல்பாடுகள்

1. சாதவாகனர், குஷாணர் ஆகியோர்களின் தொல்லியல் நினைவுச் சின்னங்கள் அமைந்துள்ள இடங்களைப் பற்றி ஒரு ஆல்பம் (செருகேடு) தயார் செய்யவும்.
2. இந்தோ-கிரேக்கர், சாகர், குஷாணர் ஆகியோரின் பண்பாட்டுப் பங்களிப்பு குறித்து வகுப்பறையில் மாணவர்களை விவாதிக்க செய்யவும்.

### XI. கட்டக வினா

|  |   |
|--|---|
| பிரிகஸ்தகதா எனும் நூலை இயற்றியவர் யார்?<br>விடை _____          | இரண்டு அஸ்வமேத யாகங்கள் நடத்திய சாதவாகன அரசரின் பெயர் என்ன?<br>விடை _____ |
| சாதவாகனர்கள் எத்தனை ஆண்டுகள் தக்காணத்தை ஆண்டனர்?<br>விடை _____ | சாகர் சகாப்தத்தை நிறுவியவர் யார்?<br>விடை _____                           |
| காந்தாரக் கலைஞர்களின் விருப்பமான கலைப் பணி எது?<br>விடை _____  | கனிஷ்கர் நான்காவது பௌத்தப் பேரவையைக் கூட்டிய இடம் எது?<br>விடை _____      |

அலகு

3

## பேரரசுகளின் காலம்: குப்தர், வர்த்தனர்



### கற்றல் நோக்கங்கள்

இப்பாடத்தைக் கற்றுக் கொள்வதன் வழியாக,

- குப்த அரச வம்சம் நிறுவப்பட்டதையும், குப்த அரசர்களின் பேரரசு உருவாக்க முயற்சிகளையும் அறிந்துகொள்ளுதல்
- குப்தர் காலத்து அரச அமைப்பு, சமூகம், பொருளாதாரம் பற்றிய அறிவினைப் பெறுதல்
- கலை, கட்டடக்கலை, இலக்கியம், கல்வி, அறிவியல், தொழில்நுட்பம் ஆகிய துறைகளில் குப்தர்களின் பங்களிப்பைத் தெரிந்துகொள்ளுதல்
- ஹர்ஷவர்த்தனருடைய ஆட்சியின் முக்கியத்துவத்தை ஆராய்தல்

### அறிமுகம்

கி.பி. (பொ.ஆ) மூன்றாம் நூற்றாண்டின் இறுதியில் வட இந்தியாவில் குஷாணர்களாலும், தெற்கே சாதவாகனர்களாலும் நிறுவப்பட்டிருந்த வலிமை வாய்ந்த பேரரசுகள் பெருமையையும் வலிமையையும் இழந்தன. இச்சூழல் சந்திரகுப்தரை ஒரு அரசை உருவாக்கித் தனது வம்சத்தின் ஆட்சியை நிறுவ வைத்தது. அவ்வாட்சி இருநூறு ஆண்டுக் காலம் நீடித்தது.

குப்தர்களின் வீழ்ச்சிக்குப் பின்னர், அதைத் தொடர்ந்து ஏறத்தாழ 50 ஆண்டு இடைபட்ட காலத்திற்குப் பின்னர், வர்த்தனர் அரச வம்சத்தைச் சேர்ந்த ஹர்ஷர் வட இந்தியாவை கி.பி. (பொ.ஆ) 606 – 647 வரை ஆட்சி புரிந்தார்.

### சான்றுகள்

தொல்லியல் சான்றுகள்

- குப்த அரசர்களால் வெளியிடப்பட்ட தங்க, வெள்ளி, செப்பு நாணயங்கள்
- சமுத்திரகுப்தரின் அலகாபாத் தூண் கல்வெட்டு
- மெக்ராலி இரும்புத்தூண் கல்வெட்டு
- இரண்டாம் சந்திரகுப்தரின் உதயகிரி குகைக் கல்வெட்டு, மதுரா பாறைக் கல்வெட்டு, சாஞ்சி பாறைக் கல்வெட்டு.
- ஸ்கந்த குப்தரின் பிதாரி தூண் கல்வெட்டு
- கத்வா பாறைக் கல்வெட்டு
- மதுபான் செப்புப் பட்டயம் (பஞ்சாப்)



- சோனாபட் செப்புப் பட்டயம்
- நாளந்தா களிமண் முத்திரைப் பொறிப்பு

### இலக்கியச் சான்றுகள்

- விஷ்ணு, மத்சய, வாயு, பாகவத புராணங்கள், நாரதரின் நீதி சாஸ்திரம்.
- விசாகதத்தரின் தேவிச்சந்திர குப்தம், முத்ரா ராக்ஸம், பாணரின் ஹர்ஷ சரிதம்.
- காளிதாசரின் நாடகங்கள்
- இரண்டாம் சந்திரகுப்தரின் காலத்தில் இந்தியாவிற்கு வருகை புரிந்த சீன பௌத்தத்தூறவி பாகியானின் பயணக் குறிப்புகள்
- ஹர்ஷரின் ரத்னாவளி, நாகநந்தா, பிரியதர்ஷிகா
- யுவான் சுவாங்கின் சி- யூ-கி

### குப்த அரச வம்சம் நிறுவப்படல்

குப்த அரச வம்சத்தை நிறுவியவர் ஸ்ரீகுப்தர் எனக் கருதப்படுகிறார். அவர் தற்போதைய வங்காளம், பீகார் பகுதிகளை ஆண்டதாகக் கருதப்படுகிறது. நாணயங்களில் முதன்முதலாக இடம் பெற்ற குப்த அரசரின் வடிவம் இவருடையதே. இவருக்குப்பின்னர் இவருடைய மகன் கடோத்கஜர் அரசுப் பதவியேற்றார். கல்வெட்டுகளில் இவர்கள் இருவருமே மகாராஜா என்றே குறிப்பிடப்பட்டுள்ளனர்.

### முதலாம் சந்திரகுப்தர்

(கி.பி. (பொ.ஆ) 319 – 335)

முதலாம் சந்திரகுப்தர், புகழ்பெற்ற, வலிமை மிகுந்த 'லிச்சாவி' அரச குடும்பத்தைச் சேர்ந்த குமாரதேவியை மணந்தார். இக்குடும்பத்தின் ஆதரவோடு, வட இந்தியச் சிற்றரசுகள் பலவற்றை இவர் வெற்றிகொண்டு, ஒரு பேரரசின் முடியரசராகத் தன்னை முடி சூட்டிக்கொண்டார். சந்திரகுப்தரால் வெளியிடப்பட்டவை எனக் கருதப்படும் தங்க நாணயங்களில் சந்திரகுப்தர், குமாரதேவி ஆகிய இருவரின் உருவங்கள்

இடம்பெற்றுள்ளன. 'லிச்சாவையா' என்ற வாசகமும் பொறிக்கப்பட்டுள்ளது.

லிச்சாவி பழமையான கன சங்கங்களில் ஒன்றாகும். அதனுடைய ஆட்சிப் பகுதி கங்கை நதிக்கும் நேபாள நாட்டிற்கும் இடைப்பட்டதாக இருந்தது.

### சமுத்திரகுப்தர் (கி.பி. (பொ.ஆ) 335 – 380)

முதலாம் சந்திரகுப்தரின் மகனான சமுத்திரகுப்தர் குப்த அரச வம்சத்தின் தலைசிறந்த அரசர் ஆவார். சமுத்திரகுப்தரின் அவைக்களப் புலவரான ஹரிசேனர் இயற்றிய பிரயாகை மெய்க்கீர்த்தி (பிரசஸ்தி) அலகாபாத் தூணில் பொறிக்கப்பட்டுள்ளது. சமுத்திரகுப்தரின் ஆட்சிக்கான மிக முக்கியச் சான்று அலகாபாத் தூண் கல்வெட்டாகும்.



அலகாபாத் தூண் கல்வெட்டு

பிரசஸ்தி / மெய்க்கீர்த்தி: பிரசஸ்தி என்பது ஒரு சமஸ்கிருதச் சொல். அதன் பொருள் ஒருவரைப் பாராட்டிப் 'புகழ்வதாகும்'. அவைக்களப் புலவர்கள் அரசர்களைப் புகழ்ந்துபாடி அவர்தம் சாதனைகளைப் பட்டியலிட்டனர். இவை பின்னர் மக்கள் படித்துத் தெரிந்து கொள்வதற்காகத் தூண்களில் பொறிக்கப்பட்டன.

### குப்த அரச வம்சம் ஒருங்கிணைக்கப்படல்

சமுத்திரகுப்தர் மகத்தான போர்த்தளபதியாவார். அவர் பேரரசர் ஆனவுடன் நாடு முழுவதும் படையெடுத்துச் சென்றார். தென்னிந்தியாவின் மீதும் படையெடுத்தார். தென்னிந்தியாவில் பல்லவநாட்டு அரசர் விஷ்ணுகோபனை சமுத்திரகுப்தர் தோற்கடித்தார்.

வட இந்தியாவில் சமுத்திரகுப்தர் ஒன்பது அரசுகளைக் கைப்பற்றினார். தென்னிந்தியாவைச் சேர்ந்த 12 அரசர்களைத் தனக்குக் கட்டுப்பட்ட சிற்றரசர்களாக்கி அவர்களைக் கப்பம் கட்டச் செய்தார். கிழக்கு வங்காளம், அஸ்ஸாம், நேபாளம், பஞ்சாபின் கிழக்குப் பகுதி, ஆகியவற்றின் அரசர்களும் ராஜஸ்தானத்தைச் சேர்ந்த பல்வேறு பழங்குடியினரும் சமுத்திரகுப்தரின் மேலாதிக்கத்தை ஏற்றுக்கொண்டனர்.

சமுத்திரகுப்தர் ஒரு விஷ்ணு பக்தராவார். தனது மேலாதிக்கத்தை நிலை நாட்டும் அரசரால் நடத்தப்படும் வேதகாலச் சடங்கான குதிரைகளைப் பலியிடும் வேள்வியைச் சமுத்திரகுப்தர் மீண்டும் நடைமுறைப்படுத்தினார். அவர் தங்க நாணயங்களை வெளியிட்டார். அவற்றுள் ஒன்றில் அவர் வீணை வாசிப்பது போன்ற உருவம் பொறிக்கப்பட்டுள்ளது. அவர் மிகச் சிறந்த படையெடுப்பாளர் மட்டுமல்ல; கவிதைப் பிரியரும் இசைப் பிரியருமாவார். அதனால் 'கவிராஜா' எனும் பட்டம் பெற்றார்.

இலங்கையைச் சேர்ந்த ஸ்ரீ மேகவர்மன் எனும் பௌத்த அரசன் சமுத்திரகுப்தரின் சமகாலத்தவராவார்.

### இரண்டாம் சந்திரகுப்தர்

(கி.பி. (பொ.ஆ) 380 - 415)

இரண்டாம் சந்திரகுப்தர் சமுத்திரகுப்தரின் மகனாவார். அவர் விக்கிரமாதியர் என்றும் அறியப்பட்டார். அவர் சாக அரசர்களைத்

தோற்கடித்து மேற்கு மாளவத்தையும் குஜராதத்தையும் கைப்பற்றினார். தென்னிந்திய அரசுகளோடு அவர் நட்புறவைப் பேணினார். குதுப்பினாருக்கு அருகேயுள்ள இரும்புத் தூண் விக்கிரமாதியரால் உருவாக்கப்பட்டது என நம்பப்படுகிறது. இவருடைய ஆட்சியின்போது பாகியான் எனும் சீன பௌத்த அறிஞர் இந்தியா வந்தார். மிகச் சிறந்த அறிஞர்களும் புலவர்களும் எழுத்தாளர்களும் கலைஞர்களும் (நவரத்தினங்கள்) இவருடைய அவையை அலங்கரித்ததாகக் கூறப்படுகிறது. அவர்களில் ஒருவர் காளிதாசர் எனக் கூறப்படுகிறது



### விக்கிரமாதியரின் அவையிலிருந்த நவரத்தினங்கள்

|               |  |
|---------------|--|
| காளிதாசர்     | சமஸ்கிருதப் புலவர்                         |
| ஹரிசேனர்      | சமஸ்கிருதப் புலவர்                         |
| அமர சிம்ஹர்   | அகராதியியல் ஆசிரியர்                       |
| தன்வந்திரி    | மருத்துவர்                                 |
| காகபானகர்     | சோதிடர்                                    |
| சன்கு         | கட்டடக் கலை நிபுணர்                        |
| வராகமிகிரர்   | வானியல் அறிஞர்                             |
| வராச்சி       | இலக்கண ஆசிரியர் மற்றும் சமஸ்கிருதப் புலவர் |
| விட்டல்பட்டர் | மாயவித்தைக்காரர் (Magician)                |

இரண்டாம் சந்திரகுப்தரின் பட்டப் பெயர்கள்:

விக்கிரமாதியர், நரேந்திர சந்திரர், சிம்ம சந்திரர், நரேந்திர சிம்மர், விக்கிரம தேவராஜர், தேவ குப்தர், தேவஸ்ரீ

இரண்டாம் சந்திரகுப்தரைத் தொடர்ந்து அவருடைய மகன் முதலாம் குமாரகுப்தர் அரியணை ஏறினார். அவரே நாளந்தா பல்கலைக்கழகத்தை உருவாக்கியவர்.

### பாகியான்

இ ர ண் ட ா ம்  
ச ந் தி ர கு ப் த ரி ன்  
ஆட்சிக் காலத்தில்,  
சீ ன ா வை ச்  
சேர்ந்த பௌத்தத்  
துறவி பாகியான்  
இ ந் தி ய ா வி ற் கு  
வந்தார். அவருடைய



பயணக் குறிப்புகள் குப்தர் காலத்து  
மக்களின் சமூக-பொருளாதார, மத, ஒழுக்க  
நிலைகள் பற்றிய செய்திகளை நமக்கு  
வழங்குகின்றன. பாகியான் கூற்றுப்படி  
மகதத்து மக்கள் மகிழ்ச்சியோடும்  
செழிப்போடும் வாழ்ந்தனர். கடுமையான  
தண்டனையின்றி நீதி வழங்கப்பட்டது.  
மரணதண்டனை வழங்கப்படவில்லை.  
கயா பாழடைந்திருந்தது. கபிலவஸ்து  
காடாகியிருந்தது. ஆனால்  
பாடலிபுத்திரத்தில் மக்கள் செல்வத்தோடும்  
செழிப்போடும் வாழ்ந்தனர்.

குமாரகுப்தரைத் தொடர்ந்து அரசுப் பதவியேற்ற  
ஸ்கந்தகுப்தர் ஹூணர்களின்  
படையெடுப்பைச் சந்திக்க நேரிட்டது. அவர்,  
அவர்களைத் தோற்கடித்து விரட்டி அடித்தார்.  
ஆனால் பன்னிரண்டு ஆண்டுகளுக்குப்  
பின்னர் மீண்டும் படையெடுத்து வந்த  
ஹூணர்கள் குப்தப் பேரரசைத்  
தோற்கடித்தனர். மிகச் சிறந்த குப்தப்  
பேரரசர்களில் கடைசிப் பேரரசரான  
பாலாதித்யர் முதலாம் நரசிம்மகுப்தர் என்ற  
பெயரில் அரியணை ஏறினார். இவர் பௌத்த  
மதத்தால் ஈர்க்கப்பட்டவராவார். இவர்  
மிகிரகுலருக்கு கப்பம் கட்டிவந்தார். ஆனால்  
மிகிரகுலர் பௌத்தத்தைப் பகைமையோடு  
பார்த்ததால் மனவேதனை அடைந்து கப்பம்  
கட்டுவதை நிறுத்தினார். மிகிரகுலரைக் கைது

செய்து சிறையில் அடைப்பதில் பாலாதித்யா  
வெற்றி பெற்றாலும் மிகிரகுலர் வஞ்சகமாகப்  
பாலாதித்யரை மகதத்திலிருந்து  
வெளியேற்றினார். பாலாதித்யருக்குப் பின்னர்  
மாபெரும் குப்தப் பேரரசு தேய்ந்து காணாமற்  
போனது. குப்தப் பேரரசின் அங்கீகரிக்கப்பட்ட  
கடைசி அரசர் விஷ்ணுகுப்தர் ஆவார்.

### குப்தர்களின் ஆட்சி அமைப்பு

குப்த அரசர்கள் தெய்வீக உரிமைக்  
கோட்பாட்டினை நடைமுறைப்படுத்தினர்.  
(அரசர் கடவுளின் பிரதிநிதியாக கருதப்பட்டார்.  
எனவே அரசர் கடவுளுக்கு மட்டுமே  
பதில் சொல்லக் கடமைப்பட்டவராவார்.  
மற்றவர்களுக்குப் பதில் சொல்ல  
வேண்டியதில்லை எனும் கோட்பாடு)  
குப்த அரசர்கள் அரசியல், நிர்வாகம்,  
இராணுவம், நீதிவழங்கல் ஆகிய துறைகளில்  
பெருமளவிலான அதிகாரம் பெற்றுத்  
திகழ்ந்தனர். குப்த அரசர்களுக்கு அமைச்சர்கள்  
(மந்திரி) குழுவொன்று நிர்வாகத்தில்  
உதவி செய்தது. அக்குழு இளவரசர்களையும்,  
உயர் அதிகாரிகளையும், கப்பம் கட்டும்  
சிற்றரசர்களையும் கொண்டிருந்தது.  
நாட்டின் அன்றாட நிர்வாகத்தைத் திறம்பட  
நடத்த, பெருமளவிலான அதிகாரிகள் குப்த  
அரசர்களால் பணியமர்த்தப்பட்டனர். உயர்  
பதவிகளில் அமர்த்தப்பட்ட அதிகாரிகள் 'தண்ட  
நாயகர்' மற்றும் 'மகாதண்ட நாயகர்' என  
அழைக்கப்பட்டனர்.

குப்தப் பேரரசு 'தேசம்' அல்லது 'புத்தி' எனும்  
பெயரில் பல பிராந்தியங்களாகப் பிரிக்கப்பட்டன.  
அவற்றை 'உபாரிகா' எனும் ஆளுநர்கள்  
நிர்வகித்தனர். பிராந்தியங்கள் 'விஷ்யா'  
எனும் மாவட்டங்களாகப் பிரிக்கப்பட்டன.  
விஷ்யாபதிகள் எனும் அதிகாரிகள் மாவட்ட  
நிர்வாகத்தை மேற்கொண்டனர். கிராம  
அளவில் கிராமிகா, கிராமதியாகஷா எனும்  
அதிகாரிகள் செயல்பட்டனர்.

விரிந்து பரந்த குப்தப் பேரரசு, இராணுவ அமைப்பின் முக்கியப் பங்கினை உணர்த்துகிறது. முத்திரைகளிலும் கல்வெட்டுக்களிலும் இராணுவப் பதவிகளின் பெயர்கள் பாலாதிகிரிதா, (காலாட்படையின் தளபதி) மஹாபாலாதிகிரிதா (குதிரைப் படையின் தளபதி) எனக் குறிப்பிடப்பட்டுள்ளன. 'தூதகா' எனும் ஒற்றர்களை உள்ளடக்கிய உளவு பார்க்கும் அமைப்பும் செயல்பட்டது.

சமூகமும் பொருளாதாரமும் நிலம் மற்றும் விவசாயிகள்

காமாந்தகரால் எழுதப்பட்ட நிதிசாரம் எனும் நூல் அரசுக் கருவூலத்தின் முக்கியத்துவத்தையும் வருமானத்திற்கான பல வழிகளையும் குறிப்பிடுகின்றது. சமுத்திரகுப்தரைப் போன்ற அரசர்களின் படையெடுப்பு நடவடிக்கைகளில், வருவாயின் உபரியே முதலீடு செய்யப்பட்டது.





நிலவரியே அரசின் முக்கிய வருவாயாக இருந்தது. விவசாயிகளின் நிலைமை பரிதாபகரமாக இருந்தது. அவர்கள் பலவேறு வரிகளைச் செலுத்த வேண்டிய நிலையில் இருந்தனர். அவர்கள் கொத்தடிமை நிலைக்குத் தள்ளப்பட்டனர்.

| குப்தர் காலத்தில் நிலங்களை வகைப்படுத்துதல் |                                 |
|--|---------------------------------|
| சேத்ரா                                     | வேளாண்மைக்கு உகந்த நிலங்கள்     |
| கிலா                                       | தரிசு நிலங்கள்                  |
| அப்ரகதா                                    | வனம் அல்லது காட்டு நிலங்கள்     |
| வஸ்தி                                      | குடியிருப்பதற்கு உகந்த நிலங்கள் |
| கபத சரகா                                   | மேய்ச்சல் நிலங்கள்              |

### வணிகமும், வர்த்தகமும்

குப்தர்களின் பொருளாதார வளர்ச்சிக்கு வணிகர்களின் பங்களிப்பு மிகவும் போற்றத்தக்கதாக இருந்தது. வணிகர்களில்

இரண்டு வகையினர் இருந்தனர். 'சிரேஸ்தி' மற்றும் 'சார்த்தவாகா' என அவர்கள் அழைக்கப்பட்டனர்.

| சிரேஸ்தி  | சார்த்தவாகா   |
|---|---|
| சிரேஸ்தி பிரிவைச் சார்ந்த வணிகர்கள் ஓரிடத்தில் நிலையாக இருந்து வணிகம் செய்தவர்கள் | சார்த்தவாகா வணிகர்கள் எருது பூட்டிய வண்டிகளில் பொருட்களை ஏற்றி பல்வேறு இடங்களுக்குச் சென்று வணிகம் செய்தவர்கள். |

விற்பனைப் பொருட்கள் அன்றாடப் பயன்பாட்டுக்குத் தேவையான பொருட்களிலிருந்து விலை மிகுந்த ஆடம்பரப் பொருட்களெனப் பல வகைப்பட்டவையாய் இருந்தன. மிளகு, தங்கம், செம்பு, இரும்பு, குதிரைகள், யானைகள் ஆகியவை முக்கிய வணிகப் பொருட்களாகும். குப்தர்காலத்தில் அதிக வட்டிக்குக் கடன் கொடுக்கும் முறை நடைமுறையில் இருந்தது.

### நாளந்தா பல்கலைக்கழகம்

- நாளந்தா பல்கலைக்கழகம் ஐந்தாம் மற்றும் ஆறாம் நூற்றாண்டுகளில் குப்தப் பேரரசின் ஆதரவில் தழைத்தோங்கியது. பின்னர் கன்னோசியைச் சேர்ந்த பேரரசர் ஹர்ஷரின் ஆதரவில் சிறப்புற்றது
- நாளந்தாவில் பௌத்தத் தத்துவமே முக்கியப் பாடப்பிரிவாக இருந்தது. யோகா, வேத இலக்கியங்கள், மருத்துவம் ஆகியவையும் கற்பிக்கப்பட்டன
- அப்பல்கலைக்கழகத்தில் யுவான்-சுவாங் பௌத்த தத்துவத்தைப் பற்றிப் படிப்பதில் பல ஆண்டுகள் செலவழித்தார்
- அந்த வளாகத்தில் எட்டு மகாபாடசாலைகளும் மூன்று மிகப்பெரிய நூலகங்களும் இருந்தன
- நாளந்தா பல்கலைக்கழகம் பக்தியார்கில்ஜி என்பாரின் தலைமையில் வந்த மம்லுக்குகள் என அழைக்கப்பட்ட துருக்கிய இஸ்லாமிய அடிமை வீரர்களால் அழித்துத் தரைமட்டம் ஆக்கப்பட்டது
- நாளந்தா யுனெஸ்கோவின் உலகப்பாரம்பரியச் சின்னமாகும்



நாளந்தா பல்கலைக்கழகம்

ஹூணர்கள் என்போர் யாவர்? ஹூணர்கள் என்போர் நாடோடிப் பழங்குடியினராவர். தங்கள் மாபெரும் தலைவர் அட்டில்லாவின் தலைமையில் இவர்கள் ரோமாபுரியையும் கான்ஸ்டாண்டிநோபிளையும் பேரச்சத்திற்கு உள்ளாக்கினர். இவர்களோடு தொடர்புடைய வெள்ளை ஹூணர்கள் மத்திய ஆசியா வழியாக இந்தியா வந்தனர். தங்கள் தொடர் படையெடுப்புகளின் மூலமாக எல்லையோர நாடுகளுக்குத் தொந்தரவு கொடுத்துவந்தனர். ஸ்கந்தகுப்தரைத் தோற்கடித்த பின்னர் இவர்கள் மத்திய இந்தியப் பகுதிகளில் பரவினர். அவர்களின் தலைவரான தோரமானர் தனக்குத் தானே அரசராக முடி சூட்டிக் கொண்டார். அவருக்குப் பின்னர் அவரது மகன் மிகிரகுலர் ஆட்சி செய்தார். முடிவில், மத்திய இந்தியாவில் மாளவத்தை ஆட்சி செய்துவந்த யசோதர்மன் அவர்களைத் தோற்கடித்து அவர்களின் ஆட்சிக்கு முடிவு கட்டினார்.



ஹூணர்களின் தலைவர் தோரமானரின் உருவம் பொறிக்கப்பட்ட நாணயங்கள்.

நாட்டின் பலபகுதிகளை இணைக்கும் சாலைகளைக் குப்தர்கள் அமைத்தனர். பாடலிபுத்திரம், உஜ்ஜைனி, வாரணாசி, மதுரா ஆகியன முக்கிய வணிக நகரங்களாக இருந்தன. இந்தியாவில் உள்ள மேலைக் கடற்கரைத் துறைமுகங்களும் (கல்யாண், மங்களூர், மலபார்) கீழைக் கடற்கரைத் துறைமுகமும் (வங்காளத்திலிருந்த தாமிரலிப்தி) வணிகப் பெருக்கத்திற்கு உதவின.

குப்தர்களின் நாணய அமைப்பு முறையை அறிமுகப்படுத்தியவர் சுமுத்திரகுப்தர் ஆவார். குஷாணர்களின் நாணயங்கள் சுமுத்திர குப்தருக்கு உந்துதலை வழங்கின. குப்தர்களின் பொற்காசுகள் தினாரா என்றழைக்கப்பட்டன. குப்தர்கள் வெளியிட்ட பொற்காசுகளை விட வெள்ளி, செப்புக் காசுகள் குறைவாகவே வெளியிடப்பட்டன. குப்தர்களுக்கு அடுத்து வந்த காலத்தில் பொற்காசுகளின் சுழற்சியில் வீழ்ச்சி ஏற்பட்டது. அது பேரரசினுடைய வளங்களின் வீழ்ச்சியைச் சுட்டிக் காட்டுவதாய் உள்ளது.

### உலோகவியல்

- குப்தர்கள் காலத்தில் சுரங்கத் தொழிலும் உலோகத் தொழிலும் செழிப்பற்று விளங்கின.

- உலோகத் தொழில் வளர்ச்சி பெற்றிருந்தது என்பதற்கு எடுத்துக்காட்டு சந்திரகுப்தரால் நிறுவப்பட்ட மெக்ராலி இரும்புத் தூணாகும். டெல்லியிலுள்ள இவ்வொற்றை இரும்புத் தூண் இன்றளவும் துருப் பிடிக்காமல் உள்ளது.

குப்தர்களால் பயன்படுத்தப்பட்ட உலோகங்கள்: இரும்பு, தங்கம், தாமிரம், தகரம், ஈயம், பித்தளை, செம்பு, மணி வெண்கலம், மைக்கா, மாங்கனீசு, சிகப்புச் சுண்ணம் ஆகியவையாகும்.



மெக்ராலி இரும்புத் தூண்

## சமூகம்

குப்தர் காலச் சமூகம் நான்கு வர்ணங்களைக் கொண்ட வர்ணாசிரம முறையில் அமைந்திருந்தது. அது தந்தைவழிச் சமூகமாக இருந்தது. 'மனு'வின் சட்டங்கள் நடைமுறையில் இருந்தன. அவற்றின்படி பெண்கள், தந்தையின், கணவனின் அல்லது மூத்த மகனின் பாதுகாப்பில் இருத்தல் வேண்டும். பலதார மணம் பரவலாக நடைமுறையில் இருந்தது. அரசர்களும் நிலப்பிரபுக்களும் ஒன்றுக்கும் மேற்பட்ட மனைவியரைப் பெற்றிருந்தனர். குபேரநாகா, துருபசுவாமினி ஆகிய இருவரும் இரண்டாம் சந்திரகுப்தரின் அரசியர் எனக் கல்வெட்டுகள் குறிப்பிடுகின்றன. உடன்கட்டை (சதி) ஏறும் முறை குப்தர்கள் காலத்தில் பின்பற்றப்பட்டது.

## அடிமை முறை

இந்தியாவில் அடிமைமுறை மேலைநாடுகளில் இருந்தது போல ஒரு நிறுவனமாக இல்லை. ஆனால் குப்தர்கள் காலத்தில் பல்வகைப்பட்ட அடிமைகள் இருந்ததாகச் சான்றுகள் உணர்த்துகின்றன.

## மதம்

வேத மதமும் வேதச் சடங்குகளும் புத்துயிர் பெற்று, மீண்டும் நடைமுறைக்கு வந்தன. சமுத்திரகுப்தரும் முதலாம் குமாரகுப்தரும் அஸ்வமேத யாகம் (குதிரைகளைப் பலி கொடுத்துச் செய்யப்படும் வேள்வி) நடத்தினர். குப்தர்கள் காலத்தில்தான் உருவ வழிபாடு தொடங்கியதையும் வைணவம், சைவம் ஆகிய இரு பிரிவுகள் தோன்றியதையும் காண்கிறோம். ஹீனயானம், மகாயானம் எனப் பெளத்தம் இரண்டாகப் பிரிந்தாலும் அது தொடர்ந்து வளர்ந்துவந்தது.

## கலையும் கட்டடக்கலையும்

கட்டுமானக் கோவில்களை முதன்முதலாகக் கட்டியவர்கள் குப்தர்களே. இது

முன்பிருந்த மரபான, பாறைக் குடைவரைக் கோவில்களின் அடுத்த கட்டப் பரிணாம வளர்ச்சியாகும். கோபுரங்களோடும் விரிவான செதுக்குவேலைப்பாடுகளோடும் அனைத்து இந்து தெய்வங்களுக்கும் இக்கோவில்கள் கட்டப்பட்டன. மிகவும் குறிப்பிடத்தக்க பாறைக் குடைவரைக் குகைகள் அஜந்தா, எல்லோரா (மகாராஷ்டிரா), பாக் (மத்தியப் பிரதேசம்), உதயகிரி (ஒடிசா) ஆகிய இடங்களில் காணப்படுகின்றன. இக்காலப் பகுதியில் கட்டப்பட்ட கட்டுமானக் கோவில்கள், திராவிட பாணிக் கூறுகளை ஒத்திருக்கின்றன.

குப்தர்களின் உலோகச் சிற்பத்திற்கு இரு சிறந்த எடுத்துக்காட்டுகள்: நாளந்தாவிலுள்ள 18 அடி உயரமுள்ள புத்தரின் செப்புச் சிலை. சுல்தான் கஞ்ச் என்னும் இடத்திலுள்ள ஏழுரை அடி உயரமுள்ள புத்தரின் உலோகச் சிற்பம். குப்தர்களின் ஓவியக் கலைக்கு மிகச் சிறந்த எடுத்துக்காட்டுகளாகத் திகழ்வவை அஜந்தா குகை ஓவியங்களும், குவாலியர் பாக் குகையில் காணப்படும் ஓவியங்களும் ஆகும்.

## இலக்கியம்

பிராகிருதம் மக்களால் பேசப்படும் மொழியாக இருந்தபோதிலும் குப்தர்கள் சமஸ்கிருதத்தை அலுவலகமொழியாகக் கொண்டிருந்தனர். அவர்களின் கல்வெட்டுகள், அனைத்தும் சமஸ்கிருத மொழியிலேயே உள்ளன. குப்தர்கள் காலத்தில் சமஸ்கிருத இலக்கணமும் வளர்ச்சி பெற்றது. அது பாணினி எழுதிய 'அஷ்டத்யாயி', பதஞ்சலி எழுதிய 'மகாபாஷ்யம்' எனும் நூல்களை அடிப்படையாகக் கொண்டது.

வங்காளத்தைச் சேர்ந்த சந்திரோகோமியா எனும் பெளத்த அறிஞர் 'சந்திர வியாகரணம்' என்ற இலக்கண நூலை எழுதினார். காளிதாசர் இயற்றிய நாடக நூல்கள், சாகுந்தலம், மாளவிகாக்னிமித்ரம், விக்கிரம ஊர்வசியம் என்பனவாகும். அவருடைய ஏனைய



சிறப்புமிக்க நூல்கள் மேகதூதம் , ரகுவம்சம், குமாரசம்பவம், ரிதுசங்காரம் ஆகியனவாகும்.

**கணிதம், வானியல் மற்றும் மருத்துவம்**

பூஜ்ஜியத்தின் கண்டுபிடிப்பும், அதன் பரிணாம வளர்ச்சியாகத் தசம எண் முறையும் குப்தர்கள் நவீன உலகிற்கு விட்டுச்சென்றுள்ள மரபுவழிச் சொத்தாகும். ஆரியப்பட்டர், வராகமிகிரர், பிரம்ம குப்தர் ஆகியோர் அக்காலப் பகுதியைச் சேர்ந்த மிக முக்கிய கணிதவியல், வானியல் அறிஞர்கள் ஆவர். ஆரியப்பட்டர் தனது நூலான 'சூரிய சித்தாந்தா'வில் சூரிய, சந்திர கிரகணங்களுக்கான உண்மைக் காரணங்களை விளக்கியுள்ளார். பூமி தனது அச்சில் சுழல்கிறது எனும் உண்மையை அறிவித்த முதல் இந்திய வானியல் ஆய்வாளர் அவரேயாவார். மருத்துவத் துறையில் புகழ் பெற்ற அறிஞர் தன்வந்திரி ஆவார். அவர் ஆயுர்வேத மருத்துவத்தில் நிபுணராகத் திகழ்ந்தார். சாரக்கர் ஒரு மருத்துவ அறிவியல் அறிஞராவார். சுஸ்ருதர் அறுவைச் சிகிச்சை செய்முறையைப் பற்றி விளக்கிய முதல் இந்தியர் ஆவார்.

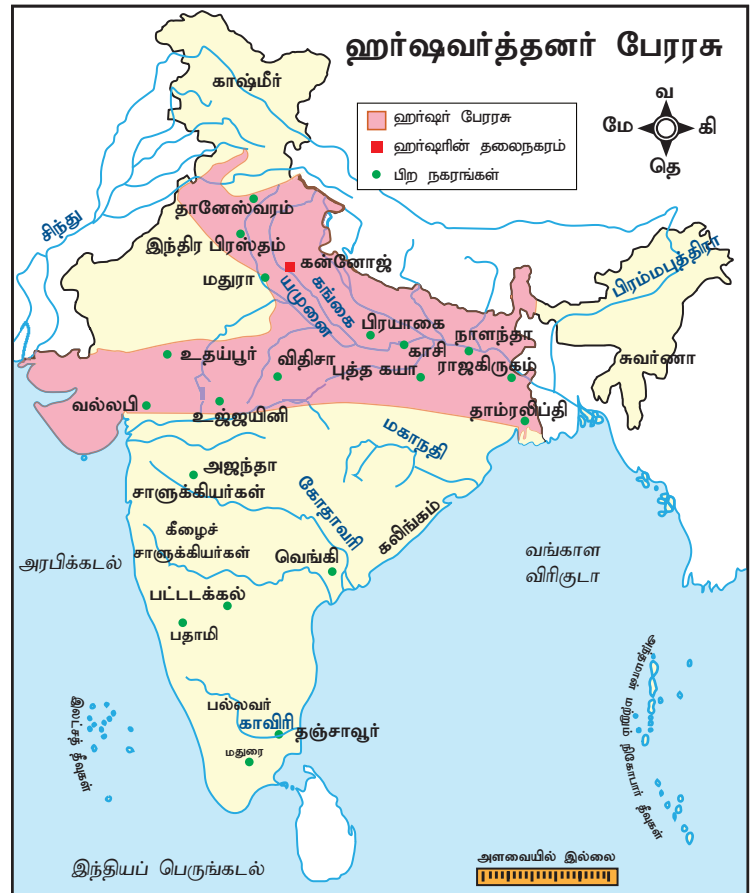
### வர்த்தன அரச வம்சம்

வர்த்தனா அல்லது புஷ்யபூதி அரச வம்சம் தானேஸ்வரத்தைத் தலைநகராகக் கொண்டு ஆட்சி புரிந்தது. புஷ்யபூதி குப்தர்களிடம் படைத்தளபதியாகப் பணி செய்தவர். குப்தப் பேரரசின் வீழ்ச்சிக்குப் பின்னர், அவர் ஆட்சி அதிகாரத்தைப் பெற்றார். பிரபாகர வர்த்தனர் ஆட்சிப் பொறுப்பை ஏற்ற பின்னர் புஷ்யபூதி அரச குடும்பம் செல்வாக்கும் வலிமையும் மிக்கதாக மாறியது.

பிரபாகர வர்த்தனர் இயற்கை எய்திய பின்னர் அவருடைய மகன் ராஜவர்த்தனர் அரியணை

ஏறினார். அவருடைய சகோதரி ராஜ்யமூர் ஆவார். ராஜ்யமூர்யின் கணவர் கன்னோசியின் அரசராவார். அவர் வங்காளத்தைச்

சேர்ந்த கௌடா வம்ச அரசர் சசாங்கரால் கொல்லப்பட்டார். சசாங்கர் ராஜ்யமூர்யைச் சிறையிலடைத்தான். தன்னுடைய சகோதரியை மீட்கும் முயற்சியின்போது ராஜவர்த்தனன் சசாங்கரால் வஞ்சமாகக் கொல்லப்பட்டார். இதன் விளைவாக அவருடைய தம்பியான ஹர்ஷவர்த்தனர் தானேஸ்வரத்தின் அரசரானார். கன்னோசியைச் சேர்ந்த முக்கியப் பிரமுகர்கள் ஹர்ஷரை கன்னோசியை ஆளும் பொறுப்பையும் ஏற்றுக்கொள்ள கேட்டுக்கொண்டனர். இதனால் ஹர்ஷர் தானேஸ்வரம், கன்னோசி ஆகிய இரண்டிற்கும் அரசரானார். இதனைத் தொடர்ந்து, ஹர்ஷர் தனது தலைநகரைத் தானேஸ்வரத்திலிருந்து கன்னோசிக்கு மாற்றினார்.





### ஹர்ஷ வர்த்தனரின் படையெடுப்புகள்

- வர்த்தன அரச வம்சத்தின் புகழ்பெற்ற அரசர் ஹர்ஷவர்த்தனர் ஆவார். ஹர்ஷர் 41 ஆண்டுகள் ஆட்சி புரிந்தார். ஜலந்தர், காஷ்மீர், நேபாளம், வல்லபி ஆகிய பகுதிகளைச் சேர்ந்த குறுநில மன்னர்கள் ஹர்ஷருக்குக் கட்டுப்பட்டவர்கள் ஆவர். வங்காளத்தைச் சேர்ந்த சசாங்கர் தொடர்ந்து பகையுணர்வுடன் நடந்துகொண்டார்.
- வட இந்தியாவின் பெரும்பாலான பகுதிகளை ஹர்ஷரே ஒருங்கிணைத்தார். ஆனால் அவர் தனது ஆட்சி அதிகாரத்தை தென்னிந்தியாவில் பரப்புவதற்கு மேற்கொண்ட முயற்சிகளை, சாளுக்கிய அரசர் இரண்டாம் புலிகேசி தடுத்துநிறுத்தினார். கி.பி. 648இல் ஹர்ஷரின் மறைவோடு அவருடைய அரசு சிதைந்து பல சிற்றரசுகள் ஆனது. ஹர்ஷர் சீனா, ஈரான் ஆகிய நாடுகளின் அரசர்களோடு சுமுகமான உறவைப் பேணினார்.

ஹர்ஷர் சீனப்பயணி யுவான் சுவாங்கை முதன்முதலாக ராஜ்மகாலுக்கு (ஜார்கண்ட்) அருகேயுள்ள கஜன்கலா என்ற இடத்தில் சந்தித்தார்.

### நிர்வாகம்

நிர்வாகத்தில் அமைச்சர் குழுவொன்று அரசருக்கு உதவியது. அமைச்சரவையில் பிரதம மந்திரி முக்கிய இடத்தை வகித்தார். பாகா, ஹிரண்யா, பாலி ஆகிய மூன்று வரிகள் ஹர்ஷரின் காலத்தில் வசூல் செய்யப்பட்டன. குப்தர்கள் காலத்தைக் காட்டிலும் குற்றவியல் சட்டங்கள் கடுமையாக இருந்தன. சட்டங்களை மீறுவோர்க்கும் அரசருக்கு எதிராகச் சதி செய்வோருக்கும் ஆயுள் தண்டனை விதிக்கப்பட்டது.



ஹர்ஷர் கால நாணயங்கள்

பேரரசு முழுவதும் சட்டம், ஒழுங்கு பராமரிக்கப்பட்டது. ஹர்ஷர் தனது படைகளின் வலிமை, ஒழுக்கம் ஆகியவற்றின் மீது தனிப்பெரும் கவனம் செலுத்தினார். பயணிகள் தங்கிச் செல்வதற்கும், நோயுற்றோரையும் மற்றும் ஏழைகளையும் கவனித்துக் கொள்வதற்கும் பல தொண்டு நிறுவனங்களை ஹர்ஷர் நிறுவினார்.

### மதக் கொள்கை

தொடக்கத்தில் ஹர்ஷர் சிவனை வழிபட்டுவந்தார். தன்னுடைய சகோதரி ராஜ்யயுதீ, பௌத்தத் துறவி யுவான் சுவாங் ஆகியோரின் செல்வாக்கின் காரணமாக இவர் பௌத்த மதத்தைத் தழுவினார். இவர் மகாயான பௌத்தத்தைச் சேர்ந்தவர். ஹர்ஷர் வேத வித்தகர்களையும் பௌத்தத் துறவிகளையும் சரிசமமாகவே நடத்தினார்; அவர்களுக்குச் சரிசமமாகவே கொடை வழங்கினார். இந்தியாவில் பௌத்தத்தைப் பின்பற்றிய கடைசி அரசர் ஹர்ஷரே. பௌத்தரான ஹர்ஷர் உணவுக்காக மிருகங்களைக் கொல்வதைத் தடை செய்தார்.

அவர் தன்னுடைய மதச் சகிப்புத்தன்மை கொள்கைக்காக அறியப்பட்டவர். அவர் புத்தர், சிவன், சூரியன் ஆகிய உருவங்களை ஒரே நேரத்தில் வழிபட்டார். இவர் இரண்டு பௌத்தப் பேரவைகளைக் கூட்டினார். ஒன்று கன்னோசியிலும் அடுத்தது பிரயாகையிலும் கூட்டப்பட்டன.

'புனித யாத்ரீகர்களின் இளவரசன்' என்றழைக்கப்படும் யுவான் சுவாங், ஹர்ஷரின் ஆட்சியின்போது இந்தியாவுக்கு வந்தார். சி-யூ-கி எனும் அவரது பயணக் குறிப்புகள் அடங்கிய ஆவணங்களின் தொகுப்பு, ஹர்ஷர் காலத்து இந்தியாவின் சமூக பொருளாதார, மத, பண்பாட்டு நிலைகள் குறித்து விரிவான செய்திகளை வழங்குகிறது. ஹர்ஷர் ஒரு பௌத்தராக இருந்தபோதும், பிரயாகையில் நடைபெற்ற மாபெரும் கும்பமேளா விழாவில் கலந்துகொள்ளச் சென்றார் என்று யுவான் சுவாங் குறிப்பிட்டுள்ளார்.



யுவான் சுவாங்

**கலை மற்றும் இலக்கியம்**

ஹர்ஷரே ஒரு கவிஞரும் நாடக ஆசிரியருமாவார். அவர் சிறந்த கவிஞர்களையும் கலைஞர்களையும் தன்னைச் சூழ்ந்து இருக்கச் செய்தார். அவருடைய புகழ்பெற்ற நூல்கள் ரத்னாவளி, நாகநந்தா, பிரியதர்சிகா ஆகியனவாகும். பாணபட்டர், மயூரா, ஹர்தத்தா,

கன்னோசி பௌத்தப் பேரவையில் 20 அரசர்கள் பங்கேற்றனர். பெரும் எண்ணிக்கையில் பௌத்த, சமண, வேத அறிஞர்கள் இம்மாநாட்டில் கலந்துகொண்டனர். பௌத்த மடாலயம் ஒன்றில் புத்தரின் தங்கச் சிலையொன்று நிறுவப்பட்டது. புத்தரது மூன்றடி உயரம் கொண்ட வேறொரு சிலை ஊர்வலமாக எடுத்துச்செல்லப்பட்டது.

பிரயாகைப் பேரவையில் ஹர்ஷர் தனது செல்வங்களைப் பௌத்தத் துறவிகளுக்கும் வேத வித்தகர்களுக்கும் ஏழைகளுக்கும் கொடையாக விநியோகித்தார். நான்கு நாட்கள் நடைபெற்ற அந்த நிகழ்வில் அனைத்து நாட்களிலும் அவர் பௌத்தத் துறவிகளுக்கு, அளவிடமுடியாத பரிசுகளை அள்ளிக் கொடுத்தார்.

ஜெயசேனர் ஆகியோர் அவருடைய அவையை அலங்கரித்தனர்.

கோவில்களும் மடாலயங்களும் கல்விமையங்களாகச் செயல்பட்டன. கன்னோசி புகழ்பெற்ற நகரமானது. ஹர்ஷர் காங்கை நதிக் கரையில் பல விகாரைகளையும் மடாலயங்களையும் ஸ்தூபிகளையும் கட்டினார். ஒரு பல்கலைக்கழகமாகவும் மடாலயமாகவும் செயல்பட்ட நாளந்தா பல்கலைக்கழகத்திற்கு யுவான் சுவாங் வந்தபோது 10,000 மாணவர்களும், பௌத்தத் துறவிகளும் அங்கு தங்கியிருந்து கற்றதாகக் கூறப்படுகிறது.

## உலகம் அந்நாளில்

முதலாம் சந்திரகுப்தர், கான்ஸ்டாண்டிநோபிள் நகரை உருவாக்கிய ரோமானியப் பேரரசர் மகா கான்ஸ்டன்டைனின் சமகாலத்தவர் ஆவார்.

ஹர்ஷரின் காலப்பகுதி சீனாவின் தாங் அரசவம்சத்தின் தொடக்க காலப் பகுதியோடு இணைந்து செல்கிறது. சீனர்களின் தலைநகரான சியான் (Xi-an) மாபெரும் கலை மற்றும் கல்விக்கான மையமாகத் திகழ்ந்தது.



பேரரசர் மகா கான்ஸ்டன்டைன்



தாங் வம்ச அரசர்

### பாடச்சுருக்கம்

- ஸ்ரீ குப்தர் குப்த வம்சத்தை நிறுவியவர்
- முதலாம் சந்திரகுப்தர், சமுத்திரகுப்தர், இரண்டாம் சந்திரகுப்தர் ஆகியோர் குப்த வம்சத்தின் தலைசிறந்த அரசர்கள் ஆவர்
- குப்த வம்சத்தின் அங்கீகரிக்கப்பட்ட கடைசி அரசர் விஷ்ணு குப்தர்
- குப்தர்கள் தெய்வீக உரிமைக் கோட்பாட்டை நடைமுறைப்படுத்தினர்
- குப்தர்கள் காலத்தில் சுரங்கத் தொழிலும் உலோகத் தொழிலும் செழித்தோங்கின
- நான்குவர்ண முறையைப் பின்பற்றிய குப்தர் சமுதாயம் தந்தை வழிச் சமூகமாக இருந்தது
- வேத மதமும் வேதச் சடங்குகளும் மீண்டும் நடைமுறைக்கு வந்தன
- கட்டுமானக் கோவில்களை முதலில் கட்டியவர்கள் குப்தர்களே. அது முந்தைய பாறைக்குடைவரைக் கோவில்களிலிருந்து பரிணாமம் அடைந்ததாகும்
- ஆரியபட்டர், வராகமிகிரர், பிரம்மகுப்தர் ஆகியோர் அக்காலத்தின் தலைசிறந்த வானியல் மற்றும் கணித அறிஞர்களாவர்
- ஹர்ஷர் வர்த்தன வம்சத்தின் மிகச் சிறந்த அரசர் ஆவார். அவர் பேரரசரானது வரலாற்று முக்கியத்துவம் வாய்ந்த நிகழ்வாகும்
- ஒரு கலைஞராக, நாடக ஆசிரியராக ஹர்ஷர் கலை, இலக்கியங்களின் வளர்ச்சிக்குப் பங்களிப்புச் செய்துள்ளார்.
- யுவான் சுவாங் நாளந்தா பல்கலைக்கழகத்திற்கு வருகைபுரிந்தார். அவருடைய பயணக் குறிப்புகள் ஹர்ஷரின் ஆட்சிக் காலத்தைய இந்தியாவின் நிலைகளைப் புரிந்து கொள்ளப் பயன்படுகின்றன
- ஹர்ஷர் பௌத்த மதத்தைத் தீவிரமாகப் பின்பற்றினாலும் வேத மதத்தையும் வளர்த்தார்

### அருஞ்சொற்பொருள்

|                           |                 |   |
|---------------------------|-----------------|---|
| பொறிக்கப்பட்ட (செதுக்கிய) | - engraved      | - carved/inscribed  |
| முகஸ்துதி                 | - flattered     | - lavish insincere praise and compliments upon (someone) especially to further one's own interest |
| சரிவு                     | - Collapse      | - fall  |
| பரிதாபகரமான               | - Pathetic      | - pitiful   |
| பின்பற்றப்பட்ட            | - adhered to    | - abide by, bound by  |
| மேய்ச்சல் நிலம்           | - pastoral land | - land or farm used for grazing cattle  |
| சித்தரிக்கப்பட்டுள்ளது    | - Portrayed     | - depicted in a work of art or literature   |
| பாழடைந்த                  | - Desolated     | - made unfit for habitation   |

### பயிற்சி



#### I. சரியான விடையைத் தேர்ந்தெடுத்து எழுதுக

- குப்த வம்சத்தை நிறுவியவர் \_\_\_\_\_ ஆவார்.  
அ) முதலாம் சந்திரகுப்தர்      ஆ) ஸ்ரீ குப்தர்  
இ) விஷ்ணுகோபர்      ஈ) விஷ்ணுகுப்தர்
- பிரயாகை மெய்கீர்த்தியை இயற்றியவர் \_\_\_\_\_ ஆவார்.  
அ) காளிதாசர்      ஆ) அமரசிம்மர்  
இ) ஹரிசேனர்      ஈ) தன்வந்திரி
- சந்திரகுப்தரால் நிறுவப்பட்ட ஒற்றை இரும்புத் தூண் \_\_\_\_\_ என்ற இடத்தில் உள்ளது.  
அ) மெக்ராலி      ஆ) பிதாரி      இ) கத்வா      ஈ) மதுரா
- அறுவைச் சிகிச்சைச் செயல்முறை குறித்து விளக்கிய முதல் இந்தியர் \_\_\_\_\_  
அ) சரகர்      ஆ) சுஸ்ருதர்      இ) தன்வந்திரி      ஈ) அக்னிவாசர்
- வங்காளத்தின் கௌட அரசர் \_\_\_\_\_  
அ) சசாங்கர்      ஆ) மைத்திரகர்  
இ) ராஜவர்த்தனர்      ஈ) இரண்டாம் புலிகேசி.

#### II. கூற்றைக் காரணத்துடன் பொருத்திப் பார்த்து, சரியான விடையை (✓) செய்யவும்

- கூற்று: வட இந்தியாவில் பல சிறிய நாடுகளைக் கைப்பற்றிய பின்னர், முதலாம் சந்திரகுப்தர் ஒரு பெரிய நாட்டின் முடியரசராகத் தனக்குத்தானே முடி சூட்டிக் கொண்டார்.  
காரணம்: முதலாம் சந்திரகுப்தர் விச்சாவி குடும்பத்தைச் சேர்ந்த குமாரதேவியை மணமுடித்தார்.  
அ) காரணமும் கூற்றும் சரி, காரணம் கூற்றுக்கான சரியான விளக்கமே





#### IV. சரியா / தவறா

1. தன்வந்திரி மருத்துவத்துறையில் ஒரு புகழ்பெற்ற அறிஞராக திகழ்ந்தார்.
2. குப்தர்களின் காலத்தில் கட்டப்பட்ட கட்டுமானக் கோவில்கள் இந்தோ - ஆரிய பாணியை ஒத்துள்ளன.
3. குப்தர்களின் ஆட்சிக்காலத்தில் உடன்கட்டை ஏறும் பழக்கம் இல்லை.
4. ஹர்ஷர் ஹீனயான பௌத்த பிரிவைச் சேர்ந்தவர்.
5. ஹர்ஷர் அவருடைய மத சகிப்புத் தன்மையின்மைக்காகப் பெயர் பெற்றவர்.

#### V. பொருத்துக

அ)

|                          |                  |  |                  |
|--------------------------|------------------|--|------------------|
| அ. மிகிரகுலர்            | -                | 1. வானியல்                             |                  |
| ஆ. ஆரியப்பட்டர்          | -                | 2. குமாரகுப்தர்                        |                  |
| இ. ஓவியம்                | -                | 3. ஸ்கந்தகுப்தர்                       |                  |
| ஈ. நாளந்தா பல்கலைக்கழகம் | -                | 4. இடம் விட்டு இடம் செல்லும் வணிகர்கள் |                  |
| உ. சார்த்தவாகா           | -                | 5. பாக்                                |                  |
| அ) 1, 2, 4, 3, 5         | ஆ) 2, 4, 1, 3, 5 | இ) 3, 1, 5, 2, 4                       | ஈ) 3, 2, 1, 4, 5 |

ஆ)

|                          |                  |                     |                  |
|--------------------------|------------------|---------------------|------------------|
| அ. பாணர்                 | -                | 1. 10,000 மாணவர்கள் |                  |
| ஆ. ஹர்ஷர்                | -                | 2. பிரயாகை          |                  |
| இ. நாளந்தா பல்கலைக்கழகம் | -                | 3. ஹர்ஷ சரிதம்      |                  |
| ஈ. யுவான் சுவாங்         | -                | 4. ரத்னாவளி         |                  |
| உ. பௌத்த சபை             | -                | 5. சி - யூ - கி     |                  |
| அ) 4, 3, 2, 1, 5         | ஆ) 5, 2, 1, 3, 4 | இ) 3, 5, 1, 2, 4    | ஈ) 2, 1, 3, 4, 5 |

#### VI. ஓரிரு வாக்கியங்களில் விடையளிக்கவும்

1. 'கவிராஜா' என்ற பட்டம் யாருக்கு வழங்கப்பட்டது? ஏன்?
2. நாளந்தா பல்கலைக்கழகத்தில் கற்றுத்தரப்பட்ட பாடப்பிரிவுகள் யாவை?
3. அரசர்களின் தெய்வீக உரிமைக் கோட்பாட்டை விளக்குக
4. உலோகவியலில் குப்தர்களின் சாதனைகளை எடுத்துக் கூறுக.
5. ஹூணர்கள் என்போர் யார்?
6. ஹர்ஷர் காலத்தில் வசூலிக்கப்பட்ட மூன்று வகையான வரிகளைக் குறிப்பிடுக.
7. ஹர்ஷர் எழுதிய நூல்களின் பெயர்களைக் குறிப்பிடுக.

#### VII. சுருக்கமான விடையளிக்கவும்

1. மெய்க்கீர்த்தி பற்றி சிறுகுறிப்பு வரைக.
2. சமுத்திரகுப்தரின் படையெடுப்புகள் குறித்து எழுதுக.

3. குப்தர்கள் காலத்தில் நிலங்கள் எவ்வாறு வகைப்படுத்தப்பட்டன?
4. சிரெஸ்தி, சார்த்தவாகா வணிகர்களைக் குறித்து எழுதுக.
5. கட்டடக்கலைக்குக் குப்தர்கள் ஆற்றிய பங்களிப்பு பற்றி எழுதுக.
6. காளிதாசர் இயற்றிய நூல்களின் பெயர்களை எழுதுக.
7. ஹர்ஷரை ஒரு கவிஞராகவும் நாடக ஆசிரியராகவும் மதிப்பீடு செய்யவும்.

### VIII. உயர் சிந்தனை வினாக்கள்

1. குப்த அரசர்கள் வெளியிட்ட தங்க நாணயங்கள் சுட்டிக் காட்டுவது –  
 அ) நாட்டில் தங்கச் சுரங்கங்கள் இருந்ததை  
 ஆ) தங்க வேலை செய்யும் திறனை மக்கள் பெற்றிருந்ததை  
 இ) அரசாட்சி செழிப்பாக இருந்ததை  
 ஈ) மன்னர்களின் ஆடம்பர இயல்பை
2. பண்டைய புகழும்மிக்க அஜந்தாவிலுள்ள ஓவியங்கள் எவற்றின் மீது வரையப்பட்டுள்ளன?  
 அ) குகைச் சுவர்களில்  
 ஆ) கோவில்களின் விதானங்களில்  
 இ) பாறைகளில்  
 ஈ) பாப்பிரஸ் இலைகளில்
3. குப்தர்களின் காலம் எதனால் நினைவில் கொள்ளப்படுகிறது?  
 அ) கலை, இலக்கியத் துறைகளில் ஏற்பட்ட மறுமலர்ச்சி  
 ஆ) தென்னிந்தியப் படையெழுச்சி  
 இ) ஹூணர்களின் படையெடுப்பு  
 ஈ) மதசகிப்புத்தன்மை
4. குப்தர்கள் காலத்தில் கணிதம், வானியல் ஆகிய துறைகளில் இந்திய அறிவியல் அறிஞர்கள் சாதித்ததென்ன?

### IX. மாணவர் செயல்பாடுகள்

1. காளிதாசரின் நாடகம் ஒன்றினை வகுப்பறையில் மேடையேற்றவும்.
2. மௌரியர் காலச் சமுதாயத்திற்கும் குப்தர்கள் காலச் சமுதாயத்திற்குமுள்ள ஒற்றுமை வேற்றுமைகளை ஒப்பீடு செய்க.

### X. வாழ்க்கைத் திறன்கள்

1. வானியல் துறைக்கு ஆரியப்பட்டர், வராகமிகிரர், பிரம்மகுப்தர் ஆகியோர் ஆற்றிய பங்களிப்பினைப் பற்றிய செய்திகளைச் சேகரிக்கவும்.
2. செயற்கைக்கோள் ஏவுவதைப் பற்றி அதிகமாக அறிந்துகொள்ள அருகேயுள்ள இஸ்ரோ (ISRO) மையத்திற்குச் சென்று வரவும்.

## XI. கட்டக வினா

|  |   |
|--|---|
| தோரமானர் என்பவர் யார்?<br>விடை   | குப்தப் பேரரசின் முக்கிய அரசு அதிகாரிகளின் பெயர்களை எழுதுக.<br>விடை                                 |
| அஸ்வமேத யாகம் நடத்திய குப்த அரசர்களின் பெயர்களைக் குறிப்பிடுக?<br>விடை | சந்திர, சூரிய கிரகணங்கள் ஏற்படுவதற்கான காரணங்கள் குறித்து விளக்கிய புத்தகத்தின் பெயர் என்ன?<br>விடை |
| நாணயங்களில் இடம் பெற்ற முதல் குப்த அரசரின் பெயர் என்ன?<br>விடை         | சமுத்திரகுப்தரின் ஆட்சி குறித்து அறிந்து கொள்ள உதவும் மிக முக்கியமான சான்று எது?<br>விடை            |
| தொடக்கத்தில் ஹர்ஷர் _____ வழிபட்டார்.                                  | ஹர்ஷரின் காலத்தில் _____ பல்கலைக்கழகம் அதனுடைய புகழின் உச்சத்தை எட்டியது.                           |

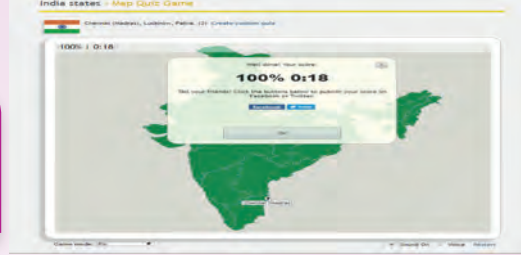




## இணையச் செயல்பாடு

### பேரரசுகளின் காலம்: குப்தர், வர்த்தனர்

Seterra Map Quiz என்ற செயலி மூலமாக ஒவ்வொரு கண்டத்திலுள்ள நாடுகள், தலைநகரங்கள், கொடிகள் மற்றும் நகரங்களைப் பற்றி தெரிந்து கொள்ள முடியும்



#### படிநிலைகள்:

- படி - 1: URL அல்லது QR குறியீட்டினைப் பயன்படுத்தி இச்செயல்பாட்டிற்கான இணையப்பக்கத்திற்குச் செல்க.
- படி - 2: Free map Quiz பக்கம் திரையில் தோன்றும்.
- படி - 3 திரையைக் கீழ்நோக்கி நகர்த்தி ஏதேனும் ஒரு கண்டம் அல்லது நாட்டைத் தேர்வு செய்து நகரங்களின் அமைவிடங்களைத் தேர்வுசெய்து நகரங்களைப் பார்க்கவும் (எ.கா. இந்தியாவின் நகரங்கள்)
- படி - 4 உங்களால் வரைபடத்தில் பல்வேறு இடங்களை ஆராய்ந்து வினாக்களை உருவாக்கி விளையாட முடியும்



படி 1



படி 2



படி 3



படி 4

#### உரலி :

<https://online.seterra.com/en/> (or) scan the QR Code

செயலி : <https://play.google.com/store/apps/details?id=com.seterra.free>

\*படங்கள் அடையாளத்திற்கு மட்டுமே.

தேவையெனில் Adobe Flash யை அனுமதிக்க.



B541\_6\_SS\_TM\_T3

அலகு

4

## தென்னிந்திய அரசுகள்



## கற்றல் நோக்கங்கள்

இப்பாடத்தைக் கற்றுக் கொள்வதன் வழியாக,

- மௌரியரியப் பேரரசின் வீழ்ச்சிக்குப் பின்னர் எழுச்சி பெற்ற தென்னிந்திய அரசுகளைத் தெரிந்துகொள்ளுதல்.
- பல்லவர், சாளுக்கியர், ராஷ்டிரகூடர் ஆகிய அரச வம்சங்களைப் பற்றியும் அவர்கள் ஆண்ட பகுதிகளைப் பற்றியும் அறிவைப் பெறுதல்.
- சமூகம் மற்றும் பண்பாட்டிற்கு, குறிப்பாக இலக்கியம், கலை, கட்டடக்கலை ஆகியவற்றிற்கு ஆற்றிய பங்களிப்பைப் புரிந்துகொள்ளுதல்
- மாமல்லபுரம் கடற்கரைக் கோவில், எல்லோரா நினைவுச் சின்னங்கள், எலிபெண்டா குகைக் கோவில்கள் ஆகியவற்றின் கலை, கட்டடக்கலை சிறப்புக்களைத் தெரிந்து கொள்ளுதல்.



## தென்னிந்திய அரசுகள்

ஏழாம் நூற்றாண்டின் தொடக்கத்தில், வடக்கேஹர்ஷருடைய ஆட்சியின் சமகாலத்தில் தொலைதூரத் தென்பகுதிகள் காஞ்சிபுரத்தை தலைநகராகக் கொண்டு ஆண்ட பல்லவ அரசர்களின் கட்டுப்பாட்டின் கீழ் வந்திருந்தன. அவர்களின் ஆட்சிப்பகுதி சோழ, பாண்டிய அரசுகளின் பகுதிகளையும் உள்ளடக்கியதாக இருந்தது. சோழர்களும், பாண்டியர்களும் அப்போது தங்கள் பகுதிசார் ஆற்றுச் சமவெளிப் பகுதிகளில் ஆட்சி செய்யும் அரச வம்சங்களாக

உருவாகிக்கொண்டிருந்தனர். மத்திய மற்றும் கிழக்குத் தக்காணத்தின் பெரும்பகுதி வாதாபிச் (பாதாமி) சாளுக்கியர்களின் கீழிருந்தன. சாளுக்கியர்கள் பின்னர் ராஷ்டிரகூடர்களால் அங்கிருந்து புறம் தள்ளப்பட்டனர். பிராந்திய அதிகார மையங்களின் தோற்றமே இடைக்கால இந்தியாவின் பண்பம்சமாக இருந்தது. இந்தியாவின் பெரும்பான்மைப் பகுதிகளை அடக்கி ஆளக் கூடிய, மௌரியர் அல்லது குப்தர்களைப் போன்ற தனிப் பேரரசு சக்தி ஏதும் அப்போது இல்லை.

## பல்லவர்கள்

பல்லவ அரசர்கள் தென்கிழக்குக் கடற்கரைப் பகுதியில் முக்கிய வணிக மையமாகத் திகழ்ந்த காஞ்சிபுரத்தையும், அதன் வளம் நிறைந்த வேளாண்பகுதிகளையும் ஆண்டனர். சீன, ரோமாபுரி வணிகர்கள் காஞ்சிபுரத்தை நன்கு அறிந்திருந்தனர். வளம் கொழித்த வணிக மையமான காஞ்சிபுரத்திலிருந்து பிற்காலப் பல்லவர்கள் தங்கள் அரசாட்சியை ஏழாம், எட்டாம் நூற்றாண்டுகளில் தமிழகம் முழுவதும்

விரிவடையச் செய்தனர். ஆனாலும் தொண்டை மண்டலமே பல்லவ அரசின் மையப்பகுதியாக இருந்தது. இப்பெரிய அரசியல் பிராந்தியம் (வட்டாரம்) தமிழ்நாட்டின் வட பகுதிகளையும், அருகே அமைந்திருந்த ஆந்திர மாவட்டங்களையும் கொண்டிருந்தது.

### சான்றுகள்

|              |  |
|--------------|--|
| கல்வெட்டுகள் | மண்டகப்பட்டு குகைக் கல்வெட்டு, இரண்டாம் புலிகேசியின் அய்கோல் கல்வெட்டு |
|--------------|--|





|                    |  |
|--------------------|--|
| செப்பேடுகள்        | காசக்குடிச் செப்பேடுகள்  |
| இலக்கியங்கள்       | மத்தவிலாசப் பிரகசனம், அவந்தி சுந்தரி கதை, கலிங்கத்துப்பராணி, பெரியபுராணம், நந்திக் கலம்பகம். |
| அயலவர் குறிப்புகள் | யுவான் சுவாங்கின் குறிப்புகள்  |

### பல்லவ வம்சாவளி (முக்கிய அரசர்கள்)

தொடக்ககாலப் பல்லவ அரசர்கள் சாதவாகனர்களின் கீழ் சிற்றரசர்களாக இருந்தனர். இரண்டாம் சிம்மவர்மனின் மகனான சிம்மவிஷ்ணு (கி.பி. (பொ.ஆ.மு) 550 வாக்கில்) களப்பிரர்களை அழித்து ஒரு வலுவான பல்லவ அரசை உருவாக்கினார். சோழர்கள், பாண்டியர்கள் உள்ளிட்ட பல தென்னக அரசர்களை அவர் வெற்றி கொண்டார். அவருடைய மகன் முதலாம் மகேந்திரவர்மன் மிகத் திறமை வாய்ந்த அரசராக விளங்கினார். அவருக்குப் பின் அவருடைய மகன் முதலாம் நரசிம்மவர்மன் ஆட்சிப் பொறுப்பேற்றார். இரண்டாம் நரசிம்மவர்மன் அதாவது ராஜசிம்மன், இரண்டாம் நந்திவர்மன் ஆகியோர் ஏனைய முக்கிய அரசர்கள் ஆவர். கடைசிப் பல்லவ மன்னர் அபராஜிதன் ஆவார்.

முதலாம் நரசிம்மவர்மனின் படைத்தளபதி பரஞ்சோதி, சிறுத்தொண்டர் (63 நாயன்மார்களில் ஒருவர்) எனப் பிரபலமாக அறியப்பட்டார். பரஞ்சோதி வாதாபிப் படையெடுப்பில் பல்லவர் படைக்குத் தலைமை ஏற்று நடத்தினார். அதன் வெற்றிக்குப் பின்னர் மனமாற்றம் பெற்ற அவர் சிவ பக்தராக மாறினார்.  
– பெரியபுராணம்

மகேந்திரவர்மன் (ஏறத்தாழ கி.பி. 600 – 630) பல்லவ ஆட்சியின் சிறப்புக்குப் பங்களிப்புச் செய்தார். தொடக்ககாலத்தில் அவர் சமண சமயத்தைப் பின்பற்றினார். பின்னர் சைவத் துறவி அப்பரால் (திருநாவுக்கரசர்) சைவத்தைத் தழுவினார். கலை மற்றும் கட்டடக்கலைக்கு

அவர் பேராதரவு அளித்தார். திராவிடக் கட்டடக்கலைக்கு ஒரு புதிய பாணியை அறிமுகம் செய்தார். அது 'மகேந்திரபாணி' எனக் குறிப்பிடப்படுகின்றது. மத்தவிலாசப்பிரகசனம் (குடிகாரர்களின் மகிழ்ச்சி) உட்பட சில நாடகங்களைச் சமஸ்கிருத மொழியில் எழுதியுள்ளார். இந்நாடகம் பௌத்தத்தை இழிவுபடுத்தும் வகையில் உள்ளது.

மகேந்திரவர்மனின் ஆட்சிக்காலத்தில் வாதாபியைச் தலைநகராகக் கொண்ட மேலைச் சாளுக்கிய அரசன் இரண்டாம் புலிகேசியோடு தொடர்ந்து போர்கள் மேற்கொள்ளப்பட்டன. இப்போர்களுள் ஒன்றில் இரண்டாம் புலிகேசி மகேந்திரவர்மனை வெற்றி கொண்டு நாட்டின் வடக்கில் பெரும் பகுதியை (வெங்கி) கைப்பற்றியதாகத் தெரிகிறது. அவருடைய மகன் முதலாம் நரசிம்மவர்மன் (ஏறத்தாழ 630 – 668) இத்தோல்விக்குப் பழிவாங்கும் வகையில் சாளுக்கியரின் தலைநகரான வாதாபியைக் கைப்பற்றினார். வாதாபி தீக்கிரையாக்கப்பட்டது. இரண்டாம் புலிகேசியும் கொல்லப்பட்டார்.

இரண்டாம் நரசிம்மவர்மன் (ஏறத்தாழ 695 – 722) ராஜசிம்மன் எனவும் அழைக்கப்பட்டார். அவர் மாபெரும் வீரர் ஆவார். சீன அரசுக்கு தூதுக்குழுக்களை அனுப்பினார். சீனநாட்டின் தூதுக் குழுக்களை வரவேற்றார். ஒப்பீட்டளவில் அவரது காலத்தில் அரசியல் பிரச்சனைகள் அதிகம் இல்லாததால் அவரால் கோவில்களைக் கட்டுவதில் கவனம் செலுத்த முடிந்தது. காஞ்சிபுரம் கைலாசநாதர் கோவிலைக் கட்டியது அவரே.

| அரசர்களின் பெயர்கள்    | பட்டங்கள்   |
|------------------------|---|
| சிம்ம விஷ்ணு           | அவனிசிம்மர்   |
| முதலாம் மகேந்திரவர்மன் | சங்கீரணஜதி, மத்தவிலாசன், குணபாரன், சித்திரகாரப் புலி, விசித்திர சித்தன் |
| முதலாம் நரசிம்மவர்மன்  | மாமல்லன், வாதாபி கொண்டான்   |



### கட்டடக் கலைக்குப் பல்லவர்களின் பங்களிப்பு

பல்லவர் காலம் கட்டடக்கலைச் சிறப்புகளுக்குப் பெயர் பெற்ற காலமாகும். மாமல்லபுரத்திலுள்ள ஒற்றைக் கருங்கல்லில் செதுக்கி உருவாக்கப்பட்ட கடற்கரைக் கோவிலும், ஏனைய கோவில்களும், வராகர் குகையும் (ஏழாம் நூற்றாண்டு) பல்லவக் கட்டடக் கலையின் ஈடு இணையற்ற அழகிற்கு எடுத்துக்காட்டுகளாகும். 1984ஆம் ஆண்டு யுனெஸ்கோவின் உலகப் பாரம்பரியச் சின்னங்கள் அட்டவணையில் மாமல்லபுரம் சேர்க்கப்பட்டது.

பல்லவர் கட்டடக் கலையை கீழ்க்காணுமாறு வகைப்படுத்தலாம்:

1. பாறைக் குடைவரைக் கோவில்கள் – மகேந்திரவர்மன் பாணி
2. ஒற்றைக்கல் ரதங்களும் சிற்ப மண்டபங்களும் – மாமல்லன் பாணி
3. கட்டுமானக் கோவில்கள் – ராஜசிம்மன் பாணி, நந்திவர்மன் பாணி

### மகேந்திரவர்மன் பாணி

மகேந்திரவர்மன் பாணியில் அமைக்கப்பட்டுள்ள நினைவுச் சின்னங்களுக்கு மண்டகப்பட்டு, மகேந்திரவாடி, மாமண்சூர், தளவானூர், திருச்சிராப்பள்ளி, வல்லம், திருக்கழுக்குன்றம், சியாமங்கலம் ஆகிய இடங்களிலுள்ள குகைக் கோவில்கள் சிறந்த எடுத்துக்காட்டுகளாகும்.



மண்டகப்பட்டு

### மாமல்லன் பாணி

மாமல்லபுரத்திலுள்ள பஞ்சபாண்டவர் ரதங்கள் எனப் பிரபலமாக அழைக்கப்படும் ஐந்து ரதங்கள் ஐந்து வகையான கோவில்கட்டட பாணியை உணர்த்துகின்றன. ஒவ்வொரு ரதமும் ஒவ்வொரு தனிக் கல்லிலிருந்து செதுக்கப்பட்டிருக்கின்றன. எனவே அவை ஒற்றைக்கல் ரதங்கள் என அழைக்கப்படுகின்றன. மகிஷாசுரமர்த்தினி மண்டபம், திருமூர்த்தி மண்டபம், வராகர் மண்டபம் ஆகியவை அவர் கட்டியுள்ள பிரபலமான மண்டபங்களாகும்.



பஞ்சபாண்டவர் ரதங்கள்

மாமல்லனின் கட்டடக்கலைப் பாணியில் அமைந்துள்ளவற்றில் மிகவும் முக்கியமானது மகாபலிபுரத்திலுள்ள திறந்தவெளிக் கலையரங்கம் ஆகும். பெரும் பாறையொன்றின் சுவற்றில், பேன் பார்க்கும் குரங்கு, பெரிய வடிவிலான யானைகள், தவமிருக்கும் பூனை ஆகிய நுண்ணிய சிற்பங்கள் மிகவும் அழகாகச் செதுக்கப்பட்டுள்ளன. சிவபெருமானின் தலையிலிருந்து அருவியெனக் கொட்டும் கங்கை நதி, அர்ச்சுனன் தபசு ஆகியவை அவற்றுள் குறிப்பிடத்தக்கவை. பெருந்தவ வடிவச் சிற்ப வேலைப்பாடு உலகில் செதுக்கப்பட்ட திறந்தவெளிச் சிற்பங்களில் மிகப்பெரியதாகும்.



அர்ச்சுனன் தபசு



காஞ்சி வைகுண்டப்பெருமாள் கோவில்

### ராஜசிம்மன் பாணி

ராஜசிம்மன் எனவும் அறியப்பட்ட இரண்டாம் நரசிம்மவர்மன் பெருங்கற்களைக் கொண்டு கட்டுமானக் கோவில்களைக் கட்டினார். காஞ்சிபுரத்திலுள்ள கைலாசநாதர் கோவில் கட்டுமானக் கோவில் கலைப் பாணிக்குச் சிறந்த எடுத்துக்காட்டாகும் இக்கோவில்கள் மிருதுவான மணற் கற்களால் கட்டப்பட்டவையாகும். கைலாசநாதர் கோவில் ராஜசிம்மேஸ்வரம் என்று அழைக்கப்படுகிறது.



காஞ்சி கைலாசநாதர் கோவில்

### நந்திவர்மன் பாணி

பல்லவ கோவில் கட்டக்கலையின் இறுதிக் கட்டம். பிற்காலப் பல்லவர்களால் கட்டப்பட்ட கட்டுமானக் கோவில்களால் பிரதிநித்துவப் படுத்தப்படுகின்றன. காஞ்சிபுரத்திலுள்ள வைகுண்டப்பெருமாள் கோவில் இதற்குச் சிறந்த எடுத்துக்காட்டாகும்.

### சமணமும் பண்பாடும்

பல்லவ அரசர்கள் பௌத்த, சமண சமயங்களையும் வேத சமயத்தையும் ஆதரித்தனர். அவர்கள் இசை, ஓவியம், இலக்கியம் ஆகியவற்றின் புரவலர்களாய்த் திகழ்ந்தனர். பக்தி மார்க்கத்தை அடிப்படையாகக் கொண்டு ஆழ்வார்களும் நாயன்மார்களும் புதிய வடிவிலான சைவம், வைணவம் ஆகியவற்றைப் போதித்தனர். அவர்களைச் சில பல்லவ அரசர்கள் ஆதரித்தனர். அப்பரும், மாணிக்கவாசகரும் சைவ அடியார்களாகவும், நம்மாழ்வாரும், ஆண்டாளும் வைணவ அடியார்களாகவும் விளங்கினர். பக்தி மார்க்கத்தைப் போதிப்பதை நோக்கமாகக் கொண்ட இவ்வியக்கம் சமஸ்கிருதத்தை விடவும் தமிழுக்கு முன்னுரிமை வழங்கியது. சமயக் கூட்டங்களில் பங்கேற்க பெண்கள் ஊக்குவிக்கப்பட்டனர். தமிழ் பக்தி வழிபாடு பௌத்த, சமண சமயங்களுடன் போட்டிபோட்டது. இதன் விளைவாகப் பௌத்தமும் சமணமும் தமிழகத்தின் பெரும்பாலான பகுதிகளிலிருந்து படிப்படியாக வீழ்ச்சியுற்றன.

### கல்வியும் இலக்கியமும்

■ காஞ்சியிலிருந்த கடிகை (மடாலயம் அல்லது கல்வி மையம்) பல்லவர் காலத்தில் புகழ்பெற்று விளங்கியது. அது இந்தியாவின் பல பகுதிகளிலிருந்தும்,

வெளிநாடுகளிலிருந்தும் மாணவர்களைத் தன்பால் ஈர்த்தது. நியாய பாஷ்யா எனும் நூலை எழுதிய வாத்தியாயர் காஞ்சிக் கடிகையில் ஆசிரியராக இருந்தார்.

- தென்னிந்திய ஒவியங்கள் குறித்த ஆய்வேடான தட்சிண சித்திரம் முதலாம் மகேந்திரவர்மனின் ஆட்சிக் காலத்தில் தொகுக்கப்பட்டது.
- மாபெரும் சமஸ்கிருத அறிஞரான தண்டின் முதலாம் நரமீம்மவர்மனின் அவையை அலங்கரித்தார். அவர் தசகுமார சரிதம் எனும் நூலை எழுதினார்.
- மற்றொரு சமஸ்கிருத அறிஞரான பாரவி சிம்மவிஷ்ணுவின் காலத்தில் வாழ்ந்தார். அவர் கிராதார்ஜுனியம் என்னும் வடமொழிக் காப்பியத்தை வடித்தார்.
- தமிழ் இலக்கியமும் வளர்ச்சி பெற்றிருந்தது. நாயன்மார்களால் இயற்றப்பட்ட தேவாரமும் ஆழ்வார்களால் பாடக்கப்பட்ட நாலாயிரதிவ்விய பிரபந்தமும் பல்லவர் காலத்தில் எழுதப்பட்ட சமய இலக்கியங்களாகும். இரண்டாம் நந்திவர்மனால் ஆதரிக்கப்பட்ட பெருந்தேவனார் மகாபாரதத்தை, பாரதவெண்பா எனும் பெயரில் தமிழில் மொழிபெயர்த்தார்.

### பல்லவர்காலக் கலை

பல்லவ அரசர்கள் கவின்கலைகளையும் ஆதரித்தனர். குடுமியான்மலை, திருமயம் ஆகிய இடங்களிலுள்ள கோவில்களில் காணப்படும் இசை குறித்த கல்வெட்டுக்கள் இசையில் பல்லவர் கொண்டிருந்த ஆர்வத்தை வெளிப்படுத்துகின்றன. புகழ்பெற்ற இசைக் கலைஞரான ருத்ராச்சாரியர் முதலாம் மகேந்திரவர்மனின் காலத்தில் வாழ்ந்தவர். இக்காலப்பகுதியைச் சேர்ந்த பல சிற்பங்கள் நடனமாடும் வகையில் வடிக்கப்பட்டுள்ளன.

## சாளுக்கியர்

சாளுக்கியர் தென்னிந்தியாவின் மத்தியிலும் மேற்கிலும் மராத்திய நாட்டை உள்ளடக்கிய பெரும்பகுதியை ஆண்டனர். அவர்களின் தலைநகர் வாதாபி (பதாமி). சாளுக்கியர்களில் மூன்று வெவ்வேறு ஆனால் நெருங்கிய தொடர்புடைய, சுதந்திர அரசமரபுகள் இருந்தன. அவை

1. வாதாபிச் சாளுக்கியர்கள்
2. வெங்கிச் சாளுக்கியர்கள் (கீழைச் சாளுக்கியர்கள்)
3. கல்யாணிச் சாளுக்கியர்கள் (மேலைச் சாளுக்கியர்கள்).

வடக்கே ஹர்ஷரின் பேரரசும், தெற்கே பல்லவ நாடும், கிழக்கே கலிங்கமும் (ஒடிசா) சாளுக்கியர்களின் எல்லைகளாக இருந்தன.

### சான்றுகள்

|                    |   |
|--------------------|---|
| கல்வெட்டுகள்       | மங்களேசனின் வாதாபி குகைக் கல்வெட்டு, காஞ்சி கைலாசநாதர் கோவில் கல்வெட்டு, பட்டடக்கல் விருப்பாக்ஷா கோவில் கல்வெட்டு, இரண்டாம் புலிகேசியின் அய்கோல் கல்வெட்டு. |
| அயலவர் குறிப்புகள் | யுவான் சுவாங்கின் குறிப்புகள்   |

### வாதாபிச் சாளுக்கியர்

முதலாம் புலிகேசி, பீஜப்பூர் மாவட்டம் பட்டடக்கல்லில் ஒரு குறுநில மன்னராக இருந்தார். கி.பி. (பொ.ஆ) 543இல் வாதாபி மலைக்கோட்டையைக் கைப்பற்றி அதனைச் சுற்றி மதில் சுவர் எழுப்பினார். விரைவில் கிருஷ்ணா,



**அய்கோல் கல்வெட்டு:** இக்கல்வெட்டு அய்கோலிலுள்ள (பாகல்கோட் மாவட்டம், கர்நாடகா) மேகுதி கோவிலில் உள்ளது. இது சாளுக்கிய அரசன் இரண்டாம் புலிகேசியின் அவைக்களப் புலவரான ரவிகீர்த்தி என்பவரால் சமஸ்கிருத மொழியில் எழுதப்பட்டது. இக்கல்வெட்டு ஹர்ஷுவர்த்தனர் இரண்டாம் புலிகேசியால் தோற்கடிக்கப்பட்டதைக் குறிப்பிடுகின்றது.



துங்கபத்ரா ஆகிய நதிகளுக்கு இடைப்பட்ட பகுதியையையும் மேற்குத் தொடர்ச்சி மலைப் பகுதிகளையும் கைப்பற்றினார். இவருடைய மகன் முதலாம் கீர்த்திவர்மன் (ஆட்சிக்காலம் கி.பி. (பொ.ஆ) 566 - 597) கொங்கணக் கடற்கரைப் பகுதியைச் சாளுக்கியரின் கட்டுப்பாட்டில் கொண்டுவந்தார். இரண்டாம் புலிகேசி (ஆட்சிக்காலம் கி.பி. 610 - 642) இவ்வம்சத்தின் மிகவும் வலிமை பெற்ற அரசராவார். பாரசீக (ஈரான்) அரசர் இரண்டாம் குஸ்ரூ இரண்டாம் புலிகேசியின் அவைக்குத் தூதுக்குழு ஒன்றை அனுப்பிவைத்தார். குஜராத், மாளவம் ஆகியவற்றின் சில பகுதிகளைக் கைப்பற்றுவதிலும் புலிகேசி வெற்றி பெற்றார். இவர் வட இந்திய அரசர் ஹர்ஷருக்கு அடிபணிய மறுத்தார். இருவரும் ஒப்புக் கொண்டபுரிதலின்படி இருவருக்கும் இடையிலான எல்லையாக நர்மதை நதி வரையறை செய்யப்பட்டது. கி.பி. (பொ.ஆ) 624 காலப்பகுதியில் வெங்கி அரசைக் கைப்பற்றிய

இரண்டாம் புலிகேசி அதைத் தன்னுடைய சகோதரர் விஷ்ணுவர்த்தனருக்கு வழங்கினார். விஷ்ணுவர்த்தனர் முதல் கீழைச் சாளுக்கிய அரசரானார்.

கி.பி.(பொ.ஆ) 641 - 647 காலப்பகுதியில் பல்லவர்கள் தக்காணத்தைச் சூறையாடி வாதாபியைக் கைப்பற்றினர். ஆனால் கி.பி. 655 இல் சாளுக்கியர் அதனை மீட்டனர். முதலாம் விக்கிரமதித்தனும் (ஆட்சிக்காலம் கி.பி. (பொ.ஆ) 655 - 680) அவருக்குப் பின்வந்த இரண்டாம் விக்கிரமதித்தனும் காஞ்சிபுரத்தைக் கைப்பற்றினர். ஆனால் நகரைச் சேதப்படுத்தவில்லை. இவருக்குப் பின்னர் அரச பதவியேற்ற இரண்டாம் கீர்த்திவர்மனை ராஷ்டிரகூட வம்ச அரசை நிறுவிய தந்திதுர்க்கர் போரில் தோற்கடித்தார்.

#### கல்யாணி மேலைச் சாளுக்கியர்

இவர்கள் வாதாபிச் சாளுக்கியரின் வழித்தோன்றல்கள் ஆவர். கல்யாணியைத் (தற்போதைய பசவ கல்யாண்) தலைநகராகக் கொண்ட ஆட்சிபுரிந்தனர். இரண்டாம் தைலப்பர் என்பவர் ராஷ்டிரகூடர்களின் சிற்றரசராக பீஜப்பூர் பகுதியை ஆண்டுவந்தார். இவர் கி.பி. (பொ.ஆ) 973இல் மாளவ அரசர் பரமாரரைத் தோற்கடித்து கல்யாணியைக் கைப்பற்றினார். இவருடைய வம்சம் முதலாம் சோமேஸ்வரனின் ஆட்சியின்போது பேரரசாக வேகமாக வளர்ச்சி பெற்றது. முதலாம் சோமேஸ்வரர் தலைநகரை மன்யகேட்டாவிலிருந்து கல்யாணிக்கு மாற்றினார்.

ஒரு நூற்றாண்டுக்கும் மேலாக தென்னிந்தியாவிலிருந்து இரண்டு பேரரசுகளான மேலைச் சாளுக்கியர்களும் தஞ்சாவூர்ச் சோழர்களும் வளம் நிறைந்த வெங்கியைக் கைப்பற்றுவதற்காகக் கடுமையாகக் போரிட்டுக்கொண்டனர். பதினோராம் நூற்றாண்டின் பிற்பகுதியில் ஆறாம் விக்கிரமதித்தியரின் காலத்தில்



வடக்கே நர்மதை ஆற்றுக்கும், தெற்கே காவேரி ஆற்றுக்கும் இடைப்பட்ட பெரும்பகுதி சாளுக்கியரின் கட்டுப்பாட்டின் கீழ் வந்தது.

**கலை மற்றும் கட்டடக்கலைக்குச் சாளுக்கியரின் பங்களிப்பு**

சாளுக்கியர்கள் சைவம், வைணவம் ஆகியவற்றின் ஆதரவாளர்களாகக் கலை மற்றும் கட்டடக்கலைத் துறைகளுக்குச் சிறந்த பங்களிப்பைச் செய்துள்ளனர்.



வெசாரா பாணியிலான கோவில் விமானங்களைக் கட்டும் முறை வளர்ச்சி பெற்றது. இது தென் இந்திய (திராவிட) மற்றும் வட இந்திய (நகரா) கட்டடப் பாணிகளின் கலப்பு ஆகும். சாந்து இல்லாமல் கற்களை மட்டுமே கொண்டு கட்டடங்களைக் கட்டும் தொழில்நுட்பத்தை அவர்கள் மேம்படுத்தினர். அவர்கள் கட்டுமானத்திற்கு மிருதுவான மணற்கற்களைப் பயன்படுத்தினர்.

சாளுக்கியர்கள் பெரும் எண்ணிக்கையிலான குடைவரைக் குகைக் கோவில்களையும், கட்டுமானக் கோவில்களையும் கட்டி சிவன், விஷ்ணு, பிரம்மா ஆகிய கடவுளர்களுக்கு அர்ப்பணித்தனர். சாளுக்கியர்களின் கட்டுமானக் கோவில்கள் அய்கோல், வாதாபி, பட்டடக்கல் ஆகிய இடங்களில் உள்ளன. வாதாபி மற்றும் அய்கோலிலுள்ள விஷ்ணு கோவில்கள், பீஜப்பூர் மாவட்டம் பட்டடக்கல்லிலுள்ள விருப்பாக்கா கோவில் ஆகியன கற்களால் கட்டப்பட்ட கோவில்களாகும். வாதாபியிலுள்ள விஷ்ணு கோவில் சாளுக்கிய வம்சத்தைச் சேர்ந்த மங்களேசனால் கட்டப்பட்டது. இரண்டாம் விக்கிரமாதித்தனுடைய அய்கோல் கல்வெட்டு அங்குள்ளது. அவர்களின் குகைக்கோவில்கள் அஜந்தா, எல்லோரா, நாசிக் ஆகிய இடங்களில் உள்ளன.



குகைக் கோவில் – பதுமி



கள்ளேஸ்வரர் கோவில் – பகலி

வாதாபியிலுள்ள குகைக் கோவில்களில் சேஷநாகர் மீது சாய்ந்திருக்கும் விஷ்ணு, விஷ்ணுவின் வராக, நரசிம்ம, (பாதி சிங்கம் – பாதி மனிதன்) வாமன (குள்ள) அவதாரங்கள் நேர்த்திமிக்க சிற்பங்களாகச் செதுக்கப்பட்டுள்ளன. லக்கண்டியிலுள்ள காசி விஸ்வேஸ்வரர் கோவில். குருவட்டியிலுள்ள மல்லிகார்ஜுனா கோவில், பகலி என்னுமிடத்திலுள்ள கள்ளேஸ்வரர் கோவில், இட்டகியிலுள்ள மகாதேவர் கோவில் ஆகியவை

கல்யாணி மேலைச் சாளுக்கியரின் கட்டிடக் கலைக்குச் சிறந்த எடுத்துக்காட்டுகளாகும்.

ஓவியங்களில் சாளுக்கியர் வாகடகர் பாணியைப் பின்பற்றினர். அஜந்தா குகைகளில் காணப்படும் சில சுவரோவியங்கள் சாளுக்கியர் காலத்தைச் சேர்ந்தவை, பாரசீகத் தூதுக்குழுவை இரண்டாம் புலிகேசி வரவேற்பது போன்றதொரு காட்சி அஜந்தா ஓவியமொன்றில் காட்சிப் படுத்தப்பட்டுள்ளது.

**பட்டடக்கல்** – யுனெஸ்கோ உலகப்பாரம்பரியச் சின்னம். பட்டடக்கல் கர்நாடக மாநிலம் பாகல்கோட் மாவட்டத்திலுள்ள ஒரு சிற்பர் ஆகும். அங்கு 10 கோவில்கள் உள்ளன. அவற்றில் நான்குவட இந்திய பாணியான நகரா பாணியிலும் மற்றுமுள்ள ஆறு தென்னிந்திய திராவிட பாணியிலும் கட்டப்பட்டுள்ளன. விருப்பாக்ஷா கோவிலும் சங்கமேஸ்வரா கோவிலும் திராவிடப் பாணியிலும் பாப்பநாதர் கோவில் நகரா பாணியிலும் அமைந்துள்ளன. விருப்பாக்ஷா கோவில் காஞ்சி கைலாசநாதர் கோவிலை மாதிரியாகக் கொண்டு கட்டப்பட்டுள்ளது. இக்கட்டுமானப் பணியில் காஞ்சிபுரத்திலிருந்து வரவழைக்கப்பட்ட சிற்பிகள் ஈடுபடுத்தப்பட்டனர்.



## ராஷ்டிரகூடர்கள்

ராஷ்டிரகூடர்கள் தக்காணத்தை மட்டுமல்லாது, தூரத் தெற்குப் பகுதிகளையும். கங்கை சமவெளிப்பகுதிகளையும் எட்டாம் நூற்றாண்டு முதல் பத்தாம் நூற்றாண்டு

வரை ஆட்சி புரிந்தனர். அவர்கள் பிறப்பால் கன்னடர்களாவர். அவர்களின் தாய்மொழி கன்னடம். தந்திதுர்க்கர் ராஷ்டிரகூட வம்சத்தை நிறுவியவர் ஆவார். அவர் வாதாபிச் சாளுக்கியரிடம் உயர் அதிகாரியாகப் பணியாற்றியவர். முதலாம் கிருஷ்ணர் தந்திதுர்க்கரை அடுத்துப் பதவி ஏற்றார். அவர் ராஷ்டிரகூடர் ஆட்சியை ஒருங்கிணைத்து விரிவுபடுத்தினார். அவர் கலை மற்றும் கட்டிடக்கலையின் பெரும் ஆதரவாளர் ஆவார். எல்லோராலிலுள்ள கைலாசநாதர் கோவில் இவர் கட்டியதாகும்.

## ராஷ்டிரகூட அரசர்கள்

ராஷ்டிரகூட அரசர்களில் தலைசிறந்த அரசர் அமோகவர்ஷர், அவர் மான்யக்கேட்டாவில் (தற்போது கர்நாடகாவில் உள்ள மால்கெட்) புதிய தலைநகரை உருவாக்கினார். புரோச், அவர்களின் துறைமுகமானது. அமோகவர்ஷர் கி.பி. (பொ.ஆ) 814 – 878) ஜினசேனர் எனும் சமணத் துறவியால் சமணத்தை தழுவினார். அமோகவர்ஷருக்குப் பின்னர் அவரது மகன் இரண்டாம் கிருஷ்ணர் அரசரானார். கி.பி. (பொ.ஆ) 916இல் அவர் பராந்தகச் சோழனால் வல்லம் (தற்போதைய திருவல்லம், வேலூர் மாவட்டம்) போர்க்களத்தில் தோற்கடிக்கப்பட்டார். மூன்றாம் கிருஷ்ணர் ராஷ்டிரகூட வம்சத்தின் திறமை வாய்ந்த கடைசி அரசனாவார். இவர் சோழர்களைத் தக்கோலம் (தற்போதைய வேலூர் மாவட்டத்தில் உள்ளது) போர்க்களத்தில் தோற்கடித்துத் தஞ்சாவூரைக் கைப்பற்றினார். மூன்றாம் கிருஷ்ணரின் கீழ் சாளுக்கியர் கன்னோசியைக் கைப்பற்றுவதற்காக ஏனைய வட இந்திய அரசர்களோடு போட்டியிட்டனர். அவர் இராமேஸ்வரத்தில் கிருஷ்ணேஸ்வரர் கோவிலைக் கட்டினார். நாட்டைச் சரியான முறையில் வைத்திருந்த கடைசி அரசர் மூன்றாம் கோவிந்தனாவார். அவருக்குப் பின் ராஷ்டிரகூடரின் அதிகாரம் வீழ்ந்தது.



## இலக்கியம், கலை, கட்டடக்கலை ஆகியவற்றுக்கு ராஷ்டிரகூடர்களின் பங்களிப்பு

### இலக்கியம்

கன்னடமொழி பெருமளவு முக்கியத்துவம் பெற்ற மொழியானது. அமோகவர்ஷரால் இயற்றப்பட்ட கவிராஜமார்க்கம் கன்னட மொழியின் முதல் கவிதை நூலாகும். அரசவைப் புலவர்கள் கன்னட மொழியில் சிறந்த நூல்களை எழுதினர். இக்காலப் பகுதியின் கன்னட இலக்கியத்தின் மூன்று ரத்தினங்கள் எனக் கருதப்படுபவர்கள் ஆதிகவி பம்பா, ஸ்ரீ பொன்னா, ரன்னா ஆகியோராவர். ஆதிகவி பம்பா அவரது நூற்களான ஆதிபுராணம், விக்கிரமார்ஜுன விஜயம் ஆகியவற்றிற்காகப் பெரும்புகழ் பெற்றவர். முதல் சமணத் தீர்த்தங்கரரான ரிஷபதேவரின் வாழ்க்கையை ஆதிபுராணம் சித்திரிக்கின்றது. விக்கிரமார்ஜுனவிஜயம் மஹாபாரதத்தின் மீள் தருகையாகும். இதில் தன்னை ஆதரித்த சாளுக்கிய அரிகேசரியை அர்சனனின் பாத்திரத்தில் பொருத்தி பம்பா எழுதியுள்ளார்.

### கலை மற்றும் கட்டடக்கலை

இந்தியக் கலைக்கு ராஷ்டிரகூடர்கள் குறிப்பிடத்தக்க பங்களிப்பைச் செய்துள்ளனர். ராஷ்டிரகூடர்களின் கலை மற்றும் கட்டடக்கலைச் சாதனைகளை எல்லோராலும் எலிபெண்டாவினும் காணலாம்.



### கைலாசநாதர் கோவில்-எல்லோரா (மகாராஷ்டிராவிலுள்ள ஒளரங்காபாத் அருகில்)

எல்லோராவின் குன்றுப் பகுதியில் அமைந்துள்ள முப்பது குடைவரைக் கோவில்களில் கைலாசநாதர் கோவிலும் ஒன்று.



கைலாசநாதர் கோவில் - எல்லோரா

முதலாம் கிருஷ்ணருடைய ஆட்சிக் காலத்தில் இக்கோவில் உருவாக்கப்பட்டது. இக்கோவில் அதன் கட்டடக்கலை பிரமாண்டத்திற்கும் சிற்பங்களின் அற்புதங்களுக்கும் பெயர் பெற்றதாகும். இக்கோவில் 60,000 சதுர அடிகள் பரப்பளவைக் கொண்டுள்ளது. இதனுடைய விமானத்தின் (கோபுரம்) உயரம் 90 அடிகளாகும். இக்கோவில் மாமல்லபுரம் கடற்கரைக் கோவிலின் சாயலைப் பெற்றுள்ளது. கைலாசநாதர் கோவில் திராவிடக் கட்டடக்கலைக் கூறுகளைக் கொண்டுள்ளது.

### எலிபெண்டா தீவு

இத்தீவின் இயற்பெயர் ஸ்ரீபுரி-உள்ளூர் மக்களால் காரபுரி என்று அழைக்கப்படுகிறது. எலிபெண்டா மும்பைக்கு அருகிலுள்ள ஒரு தீவு ஆகும். இத்தீவிலுள்ள பெரிய யானையின் உருவத்தைக் கண்ணுற்ற போர்த்துகீசியர்கள்,



எலிபெண்டா குகை

இத்தீவுக்கு எலிபெண்டா தீவு எனப் பெயரிட்டனர். எலிபெண்டா குகையிலுள்ள திரிமூர்த்தி (மூன்று முகங்கள் கொண்ட) சிவன் சிலையின் வனப்பு ஈடு இணையற்றதாகும். கோவிலின் நுழைவாயிலில் காணப்படும் துவாரபாலகர்களின் சிலைகள் நமது கண்ணையும் கருத்தையும் கவர்வை.

### பட்டடக்கல்

பட்டடக்கல் வளாகத்தில் ராஷ்டிரகூடர்கள் கோவில்களைக் கட்டியுள்ளனர். இங்குச் சமண நாராயணர் கோவிலும் காசி விஸ்வேஸ்வரர்

கோவிலும் கட்டப்பட்டுள்ளன.

ராஷ்டிரகூடர்களால்



சமண நாராயணர் கோவில்

## உலகம் அந்நாளில்



மாபெரும் லேஷன் (Leshan) புத்தர் சிலை

71 மீட்டர் உயரம்

சீனாவின் தாங் (Tang) அரச வம்சத்தினரால் கட்டப்பட்டது.  
(கி பி (பொ.ஆ) 713 – 803)



பாக்தாத்

இஸ்லாமியப் பேரரசின் மகத்தான நகரம்

8 ஆம் நூற்றாண்டிலிருந்து  
10ஆம் நூற்றாண்டு வரை நீடித்தது

### பாடச்சுருக்கம்

- ஏழாம் நூற்றாண்டின் தொடக்கத்தில் தென்னிந்தியா காஞ்சிப் பல்லவர், வாதாபிச் சாளுக்கியர் ஆகியோரின் கட்டுப்பாட்டின் கீழ் வந்தது.
- பல்லவர்கள் காலம் அதன் கட்டடக்கலை அற்புதங்களுக்காகப் பெயர் பெற்றதாகும். பல்லவர்களின் கட்டடக்கலையை மூன்றாக வகைப்படுத்தலாம் – குடைவரைக் கோவில்கள், கட்டுமானக் கோவில்கள், ஒற்றைப் பாறைக் கல் ரதங்கள் மற்றும் மண்டபங்கள்.

- சாளுக்கியர்கள் கலை மற்றும் கட்டடக்கலைக்குப் பெருமளவுப் பங்களிப்பைச் செய்துள்ளனர். கோவில் விமானங்களைக் கட்டுவதில் புதிய கட்டடக்கலை பாணியான வெசாரா அவர்களால் வளர்க்கப்பட்டது.
- ராஷ்டிரகூடர்களும் இந்தியக் கலை வளர்ச்சிக்குக் குறிப்பிடத்தக்கப் பங்களிப்பைச் செய்துள்ளனர். அவர்களின் கலை மற்றும் கட்டடக்கலைச் சாதனைகளை எல்லோரா குகைகளிலும் எலிபெண்டா தீவிலும் காணலாம்.



### அருஞ்சொற்பொருள்

|                      |   |             |   |                              |
|----------------------|---|-------------|---|------------------------------|
| சிற்றரசர்கள்         | - | feudatories | - | being subject to a sovereign |
| தூதுவர்              | - | ambassador  | - | envoy                        |
| கருங்கல்             | - | granite     | - | a very hard rock             |
| சூறையாடிய            | - | ravaged     | - | severely damaged             |
| வழித்தோன்றல்கள்      | - | descendants | - | offspring                    |
| சாய்ந்திருக்கக்கூடிய | - | reclining   | - | leaning back                 |

### பயிற்சி



### I. சரியான விடையைத் தேர்ந்தெடுத்து எழுதுக

- கீழ்க்காண்பவர்களில் வைகுண்டப்பெருமாள் கோவிலைக் கட்டியது யார்?  
அ) இரண்டாம் நரசிம்மவர்மன்      ஆ) இரண்டாம் நந்திவர்மன்  
இ) தந்திவர்மன்      ஈ) பரமேஸ்வரவர்மன்
- கீழ்க்காண்பனவனுற்றுள் முதலாம் மகேந்திரவர்மன் சூட்டிக் கொண்ட பட்டங்கள் யாவை?  
அ) மத்தவிலாசன்      ஆ) விசித்திரசித்தன்  
இ) குணபாரன்      ஈ) இவை மூன்றும்
- கீழ்க்காண்பனவற்றில் இரண்டாம் புலிகேசியின் வெற்றிகளை விவரிக்கும் கல்வெட்டு எது?  
அ) அய்கோல்      ஆ) சாரநாத்  
இ) சாஞ்சி      ஈ) ஜானாகத்

### II. கீழ்க்காணும் கூற்றுகளை வாசித்துப் பொருத்தமான விடையை டிக் (✓) செய்யவும்

- கூற்று i: பாறை குடைவரை கோவிலைச் செதுக்கும் முறையிலிருந்து, கற்களைக் கொண்டு கட்டுமானக் கோவில்களைக் கட்டும் மாற்றம் ஏற்பட்டதை பல்லவர் கலை உணர்த்துகிறது.  
கூற்று ii: காஞ்சிபுரத்திலுள்ள கைலாசநாதர் கோவில் பல்லவர்களின் கலை மற்றும் கட்டடக் கலைக்குச் சிறந்த எடுத்துக்காட்டாகும்.  
அ) கூற்று i தவறு      ஆ) கூற்று ii தவறு  
இ) இரு கூற்றுகளும் சரி      ஈ) இரு கூற்றுகளும் தவறு
- பல்லவ அரசினைப் பற்றிய கூற்றுகளைச் சிந்திக்கவும்  
கூற்று i: இவர்களுடைய ஆட்சியில் அப்பரால் இயற்றப்பட்ட தேவாரம் முதல் மற்ற தமிழ் இலக்கியங்களும் செழித்தோங்கின.  
கூற்று ii: முதலாம் மகேந்திரவர்மன் மத்த விலாச பிரகசனம் எனும் நூலின் ஆசிரியர் ஆவார்.  
அ) கூற்று i மட்டும் சரி      ஆ) கூற்று ii மட்டும் சரி  
இ) இரு கூற்றுகளும் சரி      ஈ) இரு கூற்றுகளும் தவறு

3. ராஷ்டிரகூட வம்சம் குறித்த கீழ்க்காணும் கூற்றுகளைச் சிந்தித்து அவற்றில் எவை சரியான கூற்றென்று கண்டறியவும்.

1. இவ்வம்சத்தை நிறுவியவர் தந்திதுர்கர்.

2. அமோகவர்ஷர் கவிராஜமார்க்கத்தை எழுதினார்.

3. முதலாம் கிருஷ்ணர் எல்லோராவில் கைலாசநாதர் கோவிலைக் கட்டினார்.

அ) 1 மட்டும் சரி

ஆ) 2, 3 சரி

இ) 1, 3 சரி

ஈ) மூன்றும் சரி

4. கீழ்க்காண்பனவற்றில் எது சரியான இணையில்லை

அ) எல்லோரா குகைகள் - ராஷ்டிரகூடர்கள்

ஆ) மாமல்லபுரம் - முதலாம் நரசிம்மவர்மன்

இ) எலிபெண்டா குகைகள் - அசோகர்

ஈ) பட்டக்கல் - சாளுக்கியர்கள்

5. தவறான இணையைக் கண்டறியவும்

அ) தந்தின் - தசகுமார சரிதம்

ஆ) வாத்தியாயர் - பாரத வெண்பா

இ) பாரவி - கிரதார்ஜுனியம்

ஈ) அமோகவர்ஷர் - கவிராஜமார்க்கம்

### III. கோடிட்ட இடங்களை நிரப்புக

1. \_\_\_\_\_ ஹர்ஷவர்மனை நம்மதை ஆற்றின் கரையில் தோற்கடித்தார்.

2. \_\_\_\_\_ வாதாபியை அழித்து வாதாபி கொண்டான் எனப் பட்டம் சூட்டிக்கொண்டார்.

3. அய்கோல் கல்வெட்டின் ஆசிரியர் \_\_\_\_\_ ஆவார்.

4. \_\_\_\_\_ முதலாம் நரசிம்மவர்மனின் படைத் தளபதியாவார்.

5. \_\_\_\_\_, \_\_\_\_\_ ஆகிய இடங்களில் உள்ள இசைக் கல்வெட்டுக்கள் பல்லவர்களின் இசையார்வத்தை உணர்த்துகின்றன.

### IV. பொருத்துக

1. பல்லவர் - கல்யாணி

2. கீழைச் சாளுக்கியர் - மான்யகேட்டா

3. மேலைச் சாளுக்கியர் - காஞ்சி

4. ராஷ்டிரகூடர் - வெங்கி

## V. சரியா/தவறா

1. புகழ்பெற்ற இசைக் கலைஞர் ருத்ராச்சாரியர் முதலாம் மகேந்திரவர்மன் காலத்தில் வாழ்ந்தவர்.
2. ராஷ்டிரகூட வம்சத்தின் தலைசிறந்த அரசர் இரண்டாம் புலிகேசி.
3. மாமல்லபுரம் யுனெஸ்கோவின் உலகப் பாரம்பரியச் சின்னங்களில் ஒன்றாகும்.
4. தேவாரம் ஆழ்வார்களால் இயற்றப்பட்டது.
5. விருப்பாக்ஷா கோவில் காஞ்சி கைலாசநாதர் கோவிலைமாதிரியாகக் கொண்டு கட்டப்பட்டதாகும்.

## VI. ஓரிரு வாக்கியங்களில் விடையளிக்கவும்

1. கன்னட இலக்கியத்தின் மூன்று இரத்தினங்களின் பெயர்களைக் குறிப்பிடுக.
2. பல்லவர்களின் கட்டடக் கலையை நாம் எவ்வாறு வகைப்படுத்தலாம்?
3. 'கடிகை' பற்றி நீங்கள் அறிந்ததென்ன?
4. பஞ்சபாண்டவர் ரதங்கள் ஒற்றைப் பாறைக்கல் ரதங்கள் ஆகும்-விளக்குக.
5. தக்கோலம் போர் பற்றிக் குறிப்பெழுதுக.

## VII. கீழ்க் காண்பனவற்றிற்கு விடையளிக்கவும்

1. கட்டடக் கலைக்கு பல்லவர்கள் ஆற்றிய பங்களிப்பைத் திறனாய்வு செய்க.
2. எலிபெண்டா தீவு, எல்லோராவினிலுள்ள கைலாசநாதர் கோவில் ஆகியவை பற்றி சிறுகுறிப்பு வரைக.

## VIII. உயர் சிந்தனை வினா

1. கல்யாணி மேலைச் சாளுக்கியர் குறித்து எழுதுக.

## IX. வாழ்க்கைத் திறன்கள்

1. பல்லவர், சாளுக்கியர், ராஷ்டிரகூடர் ஆகியோரின் கோவில் கட்டடக் கலை குறித்த படங்களைச் சேகரிக்கவும். ஒவ்வொன்றுக்கும் இடையிலுள்ள வித்தியாசங்களை வேறுபடுத்தவும்.

### 2. களப்பயணம்

வரலாற்று முக்கியத்துவம் வாய்ந்த இடங்களுக்குக் கல்விச் சுற்றுலா சென்றுவரத் திட்டமிடவும்.

## X. செயல்பாடுகள்

1. முதலாம் மகேந்திரவர்மன், இரண்டாம் புலிகேசி ஆகியோரின் வாழ்கை வரலாற்றை எழுதுக.
2. படத்தைப் பார்த்து, அது குறித்துச் சில வாக்கியங்கள் எழுதவும்.

## XI.கட்டக வினா

|  |  |   |
|--|--|---|
| பல்லவர் காலத்துக் கட்டுமானக் கோவில்களுக்கு ஒரு எடுத்துக்காட்டுத் தருக<br>விடை _____                            | சாளுக்கியர் காலத்தில் வளர்ச்சி பெற்ற புதிய கட்டடக் கலைப்பாணியின் பெயரென்ன?<br>விடை _____ | அய்கோல் கல்வெட்டு கூறுவதென்ன?<br>விடை _____                       |
| எல்லோராவில் உள்ள கைலாசநாதர் கோவிலைக் கட்டியது யார்?<br>விடை _____  | மாமல்லனின் கட்டடக்கலைப் பாணியில் அமைந்துள்ள சிற்பமண்டபத்தின் பெயரென்ன?<br>விடை _____     | சாளுக்கியரின் கட்டுமானக் கோவில்கள் எங்குள்ளன?<br>விடை _____       |
| பல்லவர் காலத்தில் பக்தி மார்க்கத்தைப் போதித்த இரு சைவ, வைணவத் துறவியரின் பெயர்களைக் குறிப்பிடுக.<br>விடை _____ | ராஷ்டிரகூட வம்சத்தை நிறுவியவர் யார்?<br>விடை _____                                       | முதலாம் நரசிம்மவர்மன் சூட்டிக்கொண்ட பட்டங்கள் யாவை?<br>விடை _____ |





## இணையச் செயல்பாடு

### தென்னிந்திய அரசுகள்

இச்செயல்பாட்டின் மூலம் UNESCO வால் அங்கீகரிக்கப்பட்ட உலக புராதானச் சின்னங்களைப் பற்றி தெரிந்து கொள்ள முடியும்




#### படிநிலைகள்:

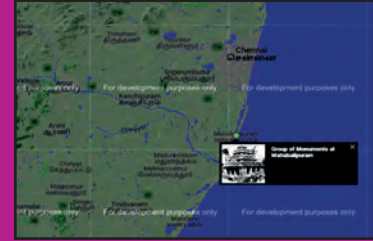
- படி 1: URL அல்லது QR குறியீட்டினைப் பயன்படுத்தி இச்செயல்பாட்டிற்கான இணையப்பக்கத்திற்குச் செல்க
- படி 2: UNESCOவால் அங்கீகரிக்கப்பட்ட பாரம்பரிய மையங்கள் திரையில் தோன்றும்.
- படி 3: வரைபடத்தில் இந்தியாவை உற்றுநோக்கி ஏதாவது ஒரு குறிச்சொல் இடத்தை பெரிதாக்க சுட்டியை இருமுறை சொடுக்கவும். (உ.ம். மாமல்லபுரம்)
- படி 4: மாமல்லபுரத்தைப் பற்றிய தகவல்கள், படங்கள் மற்றும் காணொளிகளை உங்களால் காண இயலும்.



படி 1



படி 2



படி 3



படி 4

#### உரலி

<http://whc.unesco.org/en/interactive-map>

செயலி : <https://play.google.com/store/apps/details?id=com.tripbucket.unesco>



B541\_6\_SS\_TM\_T3

\* படங்கள் அடையாளத்திற்கு மட்டுமே.

தேவையெனில் Adobe Flash யை அனுமதிக்க.



# புவியியல்



அலகு

1

ஆசியா மற்றும் ஐரோப்பா



கற்றல் நோக்கங்கள்

- ஆசியா மற்றும் ஐரோப்பா கண்டங்களின் அமைவிடம், பரவல் மற்றும் அரசியல் பிரிவுகளைப் புரிந்து கொள்ளுதல்.
- இவ்விரண்டு கண்டங்களின் நிலத்தோற்றங்கள் மற்றும் ஆறுகளைப் பற்றி அறிதல்.
- இக்கண்டங்களின் காலநிலை மற்றும் இயற்கைத் தாவரங்களைப் பற்றி புரிந்து கொள்ளல்.
- பொருளாதார நடவடிக்கைகள் மற்றும் வளங்களைப் பற்றி கலந்துரையாடுதல்.
- இக்கண்டங்களில் காணப்படும் கலாச்சார கூறுகளைப் பாராட்டுதல்.
- கொடுக்கப்பட்ட இடங்களை வரைபடத்தில் குறிக்கும் திறனைப் பெறுதல்.



மாணவர்கள் : வணக்கம் அம்மா.

ஆசிரியர்: காலை வணக்கம்! மாணவர்களே, ஆங்கில புத்தாண்டை சிறப்பாகக் கொண்டாடினீர்களா?

மாணவர்கள் : கொண்டாடினோம் அம்மா.

ஆசிரியர்: சரி, எந்த நாடு ஆங்கில மொழியின் தாயகம்?

மாணவர்கள் : பிரிட்டன்.

ஆசிரியர்: நல்லது. எந்தக் கண்டத்தில் அந்நாடு அமைந்துள்ளது என்று உங்களுக்குத் தெரியுமா?

மாணவர்கள் : ஐரோப்பா.

ஆசிரியர்: மிகச்சரி. நம்முடைய சொந்த கண்டம் எது?

மாணவர்கள் : ஆசியா.

ஆசிரியர்: மிகச் சரியாகச் சொன்னீர்கள். முதலாம் பருவத்தில் நீங்கள் உலகில் உள்ள கண்டங்கள் மற்றும் அவற்றின் பெயர்களை அறிந்துள்ளீர்கள். இப்பாடத்தில் நாம் ஆசியா மற்றும் ஐரோப்பியக் கண்டங்களைப் பற்றி விரிவாக அறிந்து கொள்ளப்போகின்றோம். இவ்விரு கண்டங்களைப் பற்றி ஆராய்வோமா?

இப்பாடம் ஆசியா மற்றும் ஐரோப்பாவின் அமைவிடம், எல்லைகள், நிலத்தோற்றம் மற்றும் அரசியல்பிரிவுகள் பற்றி விவாதிக்கின்றது. முக்கிய ஆறுகள், காலநிலை, இயற்கைத்

தாவரம் போன்றவற்றிற்கு முக்கியத்துவம் கொடுக்கப்பட்டுள்ளது. மேலும் இப்பாடல் கிடைக்கக்கூடிய வளங்கள் எவ்வாறு பொருளாதார நடவடிக்கைகளைத் தீர்மானிக்கின்றது என்பதையும் விளக்குகிறது. ஆசியா மற்றும் ஐரோப்பாவின் கலாச்சார கலவை பற்றிய ஒரு பார்வையைக் கற்போருக்குக் கொடுக்கின்றது.

## பகுதி அ. ஆசியா

ஆசியாவானது உலகின் மிகப்பெரிய மற்றும் அதிக மக்கள்தொகை கொண்ட கண்டமாகும். இஃது உலகின் பரப்பளவில் 30 சதவீதத்தையும், மக்கள் தொகையில் 60 சதவீதத்தையும் உள்ளடக்கியது. ஆசியாவின் பெரும்பாலான நிலப்பரப்பு வடஅரைக்கோளத்தில் பரவியுள்ளது. இது பல வகையான நிலத்தோற்றம் மற்றும் கலாச்சாரக் கூறுகளைக் கொண்டுள்ளது. உயர்ந்த மலைகள், பீடபூமிகள், பரந்த சமவெளிகள், தீவுகள் மற்றும் தீபகற்பங்கள் ஆகியவை முக்கிய இயற்கை நிலத் தோற்றங்களாகும். வற்றாத ஆறுகள் ஆசியாவின் பல்வேறு நிலப்பரப்புகளில் பாய்கின்றன. இந்த

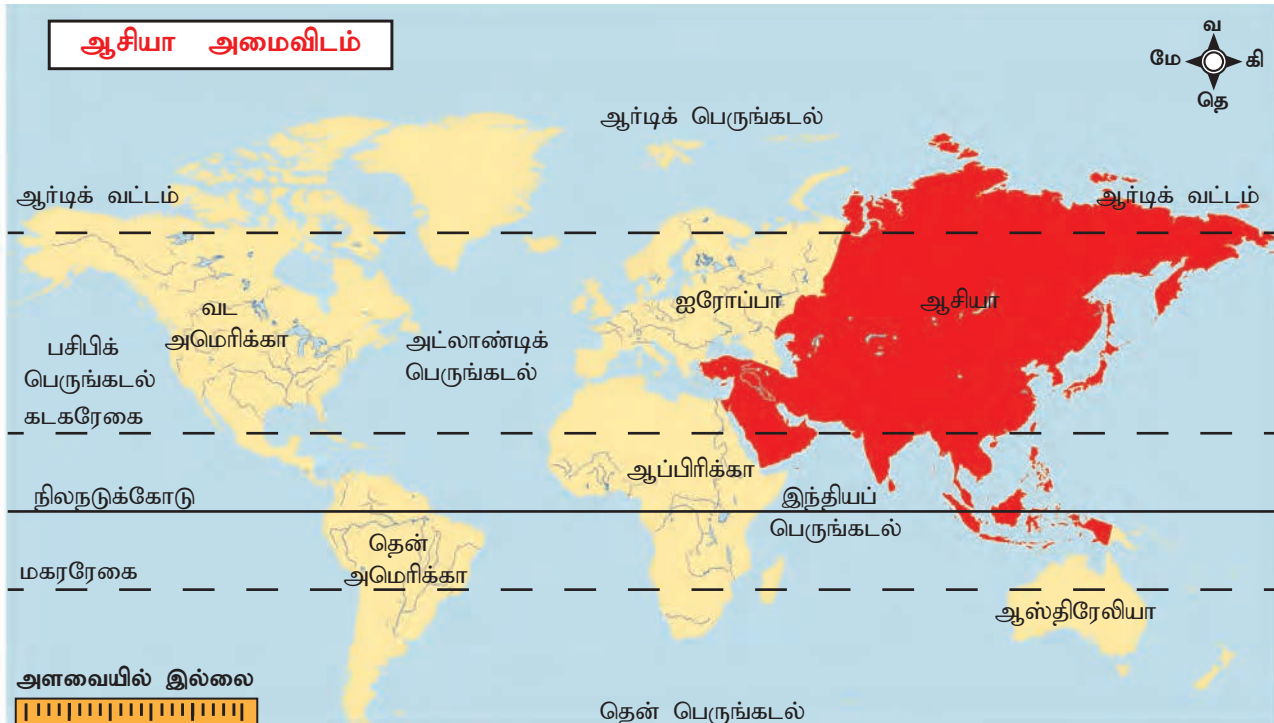
ஆற்றுப் பள்ளத்தாக்குகள் நாகரிகங்களின் தொட்டிலாகும். (மெசபடோமியா, சிந்துவெளி, சீனநாகரீகம்). நம் ஆசியா கண்டத்தைப் பற்றி தெரிந்து கொள்வோம்.

## அமைவிடம் மற்றும் பரப்பு

ஆசியா  $10^{\circ} 11'$  தெற்கு அட்சத்திலிருந்து  $81^{\circ} 12'$  வடக்கு அட்சம் வரையிலும்,  $26^{\circ} 2'$  கிழக்கு தீர்க்கம் முதல்  $169^{\circ} 40'$  மேற்குத் தீர்க்கம் வரையிலும் பரவியுள்ளது. இதன் மொத்த பரப்பளவு 44 மில்லியன் கி.மீ<sup>2</sup> ஆகும்.

## எல்லைகள்

ஆசியா கண்டம், வடக்கில் ஆர்டிக் பெருங்கடல், கிழக்கில் பசிபிக் பெருங்கடல் தெற்கில் இந்தியப் பெருங்கடல், மேற்கில் யூரல், காசஸ் மலைகள், செங்கடல், மத்தியத் தரைக்கடல், காஸ்பியன் கடல் மற்றும் கருங்கடல் ஆகியனவற்றை எல்லைகளாகக் கொண்டுள்ளது. சூயஸ் கால்வாய் ஆசியாவை ஆப்பிரிக்காவிடம் இருந்து பிரிக்கின்றது. பேரிங் நீர்ச்சந்தி ஆசியாவை வடஅமெரிக்காவிடம் இருந்து பிரிக்கின்றது.





## ஆசியா - அரசியல்



### தகவல் பேழை

ஆசியாவில் 12 நாடுகள் நிலத்தால் சூழப்பட்டுள்ளன. அதில் ஒன்று மட்டுமே இரண்டு முறை நிலத்தால் சூழப்பட்டுக் காணப்படுகின்றது. அதாவது, இது முழுவதும் நிலப்பரப்புள்ள நாடுகளால் சூழப்பட்டுள்ளது. அந்நாடு எது என்பதைக் கண்டறிக.

### அரசியல் பிரிவுகள்

ஆசியாவில் நாற்பத்து எட்டு நாடுகள் உள்ளன. இந்நாடுகள் நிலத்தோற்றம் மற்றும் அரசியல் நிலைப்பாடுகளின் அடிப்படையில் பல்வேறு பகுதிகளாகப் பிரிக்கப்பட்டுள்ளன. அவை,

1. கிழக்கு ஆசியா
2. தென்கிழக்கு ஆசியா
3. தெற்கு ஆசியா
4. தென்மேற்கு ஆசியா
5. மத்திய ஆசியா

### இயற்கைப் பிரிவுகள்

ஆசியா நீண்ட மலைத் தொடர்கள், பனி படர்ந்த உயர்ந்த மலைகள், அகன்ற பீடபூமிகள், பரந்த சமவெளிகள், ஆற்றுப் பள்ளத்தாக்குகள் மற்றும் கடற்கரைகளைக் கொண்டுள்ளது. இவ்வேறுபட்ட இயற்கை கூறுகள், இக்கண்டத்தில் காணப்படும் மக்களின் பல்வேறுபட்ட பொருளாதார நடவடிக்கைகளுக்குத் துணைபுரிகின்றன. ஆசியாவின் இயற்கை அமைப்பினை ஐந்து பெரும் பிரிவுகளாகப் பிரிக்கலாம். அவை,

1. வட தாழ்நிலங்கள்
2. மத்திய உயர் நிலங்கள்
3. தெற்கு பீடபூமிகள்
4. பெரும் சமவெளிகள்
5. தீவுக்கூட்டங்கள்

## 1. வட தாழ்நிலங்கள்

ஆசியாவிலேயே மிகவும் பரந்து காணப்படும் தாழ்நிலம் சைபீரியச் சமவெளி ஆகும். அது மேற்கே யூரல் மலைகளிலிருந்து கிழக்கே வெர்கோயான்ஸ்க் மலைத்தொடர் வரை பரந்து காணப்படுகின்றது.

## 2. மத்திய உயர்நிலங்கள்

மத்திய உயர்நிலங்கள் துருக்கியிலிருந்து பேரிங் நீர்ச்சந்தி வரை விரிந்து காணப்படுகின்றன. ஆசியாவில் இரு மலை முடிச்சுக்கள் காணப்படுகின்றன. அவை,

1) பாமீர் முடிச்சு

2) ஆர்மீனியன் முடிச்சு

இந்துகுஷ் மலைத் தொடர், சுலைமான் மலைத்தொடர், இமயமலைத்தொடர் மற்றும் டியான் ஷான் மலைத்தொடர் போன்றன பாமீர் முடிச்சிலிருந்து பரவிக் காணப்படுகின்றன. இந்துகுஷ் மலைத்தொடர் மேற்கே எல்பர்ஸ் எனவும் சுலைமான் மலைத்தொடர் தென்

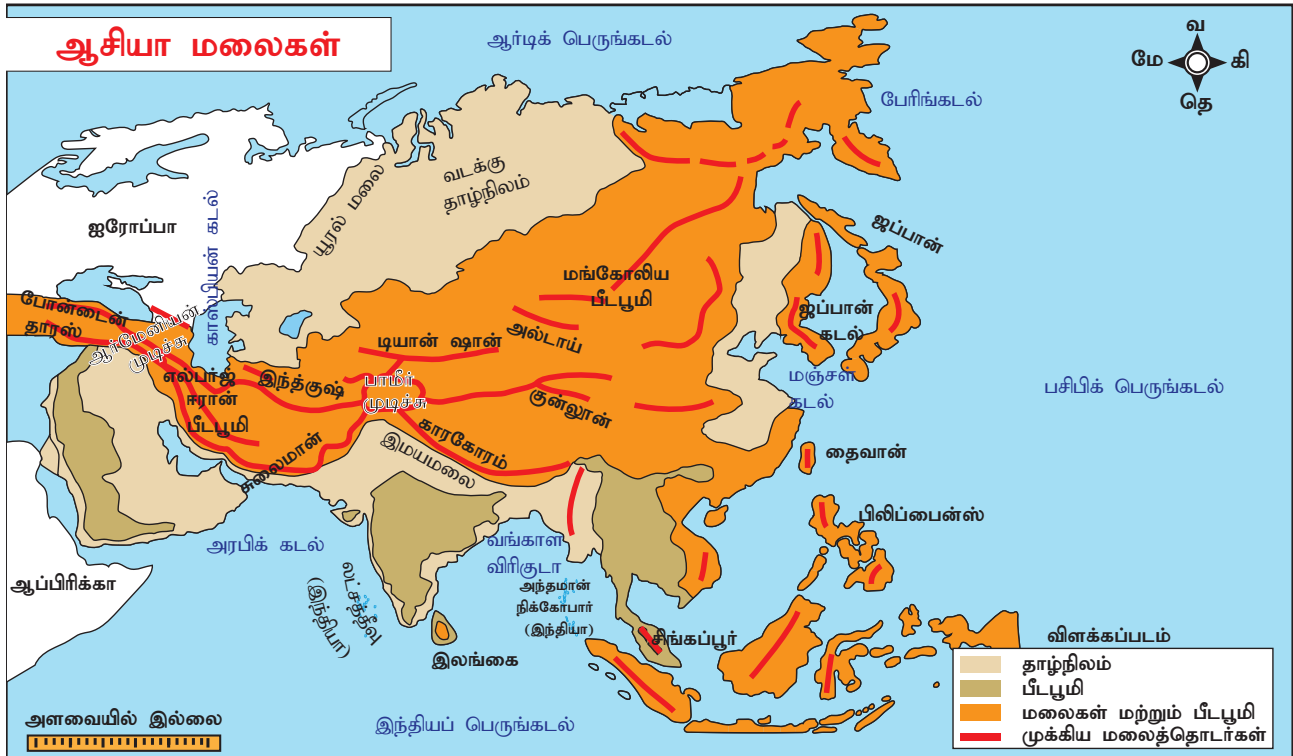
மேற்கே ஜாக்ரோஸ் மலைத்தொடராகவும் நீண்டு காணப்படுகிறது. எல்பர்ஸ் மற்றும் ஜாக்ரோஸ் ஆர்மீனியன் முடிச்சில் ஒன்றிணைகிறது. தாரஸ் மற்றும் போன்டைன் மலைத்தொடர்கள் ஆர்மீனியன் முடிச்சிலிருந்து பரவிக் காணப்படுகின்றன. பெரிய கிங்கன், அல்டாய், வெர்கோயான்ஸ்க், அரக்கன்யோமா போன்றவை இங்குக் காணப்படும் முக்கிய மலைத்தொடர்கள் ஆகும்.



'முடிச்சு' என்பது மலைத் தொடர்கள் கூடும்/பிரியும் இடங்கள் ஆகும்.

இமயமலைத் தொடர்களே உலகின் உயரமான மலைத்தொடர் ஆகும். ஆசியாவின் உயர்ந்த சிகரம் எவரெஸ்ட் சிகரம் (8848மீ). ஆசியாவில் மட்டுமின்றி உலகின் உயரமான சிகரமும் இதுவே ஆகும்.

உலகின் தாழ்வான பகுதி ஆசியாவிலுள்ள சாக்கடலில் உள்ளது.



பாமீர் மற்றும் ஆர்மீனியன் முடிச்சிலிருந்து பிரிந்து செல்லும் மலைத்தொடர்கள்.





மலையிடைப் பீடபூமிகள் இம்மலைத் தொடர்களிடையே காணப்படுகின்றன. முக்கிய பீடபூமிகளாவன,

1. அனடோலிய பீடபூமி (போன்டைன் - தாரஸ் மலை)
2. ஈரான் பீடபூமி (எல்பர்ஸ் - ஜாக்ரோஸ்)
3. திபெத்திய பீடபூமி (குன்லுன் - இமயமலை)



திபெத் 'உலகின் கூரை' என அழைக்கப்படுகின்றது. அங்கு நிலவும் கடுங் குளிரின் காரணமாகவும், நன்னீரின் மிகப்பெரும் இருப்பிடமாகவும், மக்கள் வாழ இயலாத சூழல் காணப்படுவதாலும் திபெத் 'மூன்றாம் துருவம்' என்றும் அழைக்கப்படுகின்றது.

### உயர்சிந்தனை வினா

கைபர் கணவாய் சுலைமான் மலைத்தொடரிலும், போலன் கணவாய் டோபா காகர் மலைத்தொடரிலும் அமைந்துள்ளன. இவ்விரு கணவாய்களின் முக்கியத்துவம் என்ன?

### 3. தெற்கு பீடபூமிகள்

தெற்கு பீடபூமிகள், வடக்கு பீடபூமிகளைக் காட்டிலும் உயரம் குறைந்து காணப்படுகின்றன. தெற்கு பீடபூமிகளில் முக்கியத்துவம் வாய்ந்த நான்கு பீடபூமிகளாவன : அரேபிய பீடபூமி (சௌதி அரேபியா), தக்காண பீடபூமி (இந்தியா) ஷான் பீடபூமி (மியான்மர்), யுனான் பீடபூமி (சீனா). இவற்றில் மிகப் பெரியது அரேபிய பீடபூமி ஆகும்.

### 4. பெரும் சமவெளிகள்

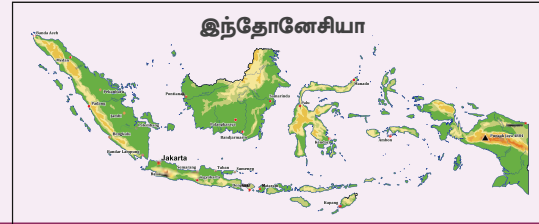
ஆசியாவின் முக்கிய ஆறுகளினால் இப்பெரும் சமவெளிகள் உருவாக்கப்படுகின்றன. அவையாவன : மேற்கு சைபீரியச் சமவெளி (ஓப் மற்றும் எனிசி), மஞ்சூரியன் சமவெளி (அமூர்), சீன பெரும் சமவெளி (யாங்சி மற்றும் சிகியாங்), சிந்து - கங்கைச் சமவெளி (சிந்து மற்றும் கங்கை), மெசபடோமிய சமவெளி (யூப்ரடிஸ் மற்றும் டைக்ரிஸ்), ஐராவதி சமவெளி (ஐராவதி).

### 5. தீவுக்கூட்டங்கள்

தென்கிழக்கு ஆசியாவின் பசிபிக் கடற்கரையையொட்டி எண்ணற்ற தீவுகள் காணப்படுகின்றன. குரில், தைவான், சிங்கப்பூர் மற்றும் போர்னியோ போன்றவை முக்கியமான தீவுகளாகும். பிலிப்பைன்ஸ், ஜப்பான் மற்றும் இந்தோனேசியா ஆகியன ஆசியாவின் மிகப்பெரிய தீவுக்கூட்டங்களாகும். அரபிக்கடலில் உள்ள மாலத்தீவுகள் மற்றும் லட்சத்தீவுகள், பாரசீக வளைகுடாவில் உள்ள பஹ்ரைன் போன்றவை இந்தியப் பெருங்கடலில் காணப்படும் சிறிய தீவுக்கூட்டங்களாகும். இலங்கைத் தீவு வங்காள விரிகுடாவில் அமைந்துள்ளது.



ஒன்றிணைக்கப்பட்ட பல தீவுகள், தீவுக்கூட்டம் என அழைக்கப்படுகின்றது. இந்தோனேசியா மிகப்பெரியத் தீவுக்கூட்டம் ஆகும்.





## வடிகால் அமைப்பு



யாங்சி ஆறு

ஆசியாவின் பெரும்பான்மையான ஆறுகள் மத்திய உயர்நிலங்களில் தோன்றுகின்றன. ஓப், எனிசி, லேனா ஆகிய முக்கிய ஆறுகள் வடக்கு நோக்கிப்பாய்ந்து ஆர்டிக் பெருங்கடலில் கலக்கின்றன. இவை குளிர்காலத்தில் உறைந்து விடுகின்றன. ஆனால், தெற்காசியாவில் பாயும் ஆறுகளான பிரம்மபுத்திரா, சிந்து, கங்கை (இந்தியா), ஐராவதி (மியான்மர்) ஆகிய வற்றாத ஆறுகள் பனிபடர்ந்த உயர்ந்த மலைகளில் தோன்றுகின்றன. இவை குளிர்காலத்தில் உறைவதில்லை. யூப்ரடிஸ் மற்றும் டைகிரிஸ் ஆறுகள் மேற்கு ஆசியாவில் பாய்கின்றன. அமூர், ஹோவாங்கோ, யாங்சி மற்றும் மீகாங் ஆகிய ஆறுகள் ஆசியாவின் தெற்கு மற்றும் தென்கிழக்குப் பகுதிகளில் பாய்கின்றன. ஆசியாவின் மிக நீளமான ஆறு யாங்சி ஆகும்.



முப்பள்ளத்தாக்கு நீர்த் தேக்கமானது யாங்சி ஆற்றின் குறுக்கே கட்டப்பட்டுள்ளது. இஃது உலகின் மிகப்பெரிய நீர்த்தேக்கமாகும். இது சீனாவின் மின்சார தேவையில் 10 சதவீதத்தைப் பூர்த்தி செய்கிறது.



## கால நிலை

ஆசியாவில் பல வகையான காலநிலைகள் நிலவுகின்றன. வடக்கு ஆசியப் பகுதியில் குளிர்காலம் நீண்டதாகவும், கோடைகாலம் சற்று குளிர்ந்தும் காணப்படும். (குளிர்காலம் -37°செ மற்றும் கோடைக்காலம் 10°செ). இங்குப் பனிப்பொழிவு உண்டு (250 மி.மீ - 300 மி.மீ). ஆசியாவின் வடகிழக்குப் பகுதியில் மிகக் குளிர்ந்த குளிர்காலமும், மிதவெப்ப கோடைகாலமும், 50 மி.மீ முதல் 250 மி.மீ. மிதமான மழைப்பொழிவும் காணப்படுகிறது.

## ஆசியாவின் முக்கிய ஆறுகள்

| வ. எண். | ஆறு            | பிறப்பிடம்                    | சேருமிடம்           | நீளம் (கி.மீ) |
|---------|----------------|-------------------------------|---------------------|---------------|
| 1       | யாங்சி         | திபெத் பீடபூமி                | கிழக்குச் சீனக்கடல் | 6,350         |
| 2       | ஹோவாங்கோ       | திபெத் பீடபூமி                | போகாய் வளைகுடா      | 5,464         |
| 3       | மீகாங்         | திபெத் பீடபூமி                | தென்சீனக் கடல்      | 4,350         |
| 4       | எனிசி          | தானுவாலா மலை                  | ஆர்டிக் பெருங்கடல்  | 4,090         |
| 5       | ஓப்            | அல்டாய் மலை                   | ஓப் வளைகுடா         | 3,650         |
| 6       | பிரம்மபுத்திரா | இமயமலை                        | வங்காள விரிகுடா     | 2,900         |
| 7       | சிந்து         | இமயமலை                        | அரபிக்கடல்          | 3,610         |
| 8       | அமூர்          | சிகா, ஆர்கன் ஆறுகளின் சங்கமம் | டாடார் நீர்ச்சந்தி  | 2,824         |
| 9       | கங்கை          | இமயமலை                        | வங்காள விரிகுடா     | 2,525         |
| 10      | ஐராவதி         | வடக்கு மியான்மர்              | வங்காள விரிகுடா     | 2,170         |

தெற்கு, கிழக்கு மற்றும் தென்கிழக்கு ஆசியப் பகுதிகள் பருவக்காற்றுகளின் தாக்கத்திற்கு உட்பட்ட பகுதிகளாகும். பொதுவாக கோடைகாலம் அதிக வெப்பமும் ஈரப்பதத்துடனும், குளிர்காலம், வறண்டும் காணப்படும். கோடைக்காலப் பருவமழைக் காற்றுக்கள் இந்தியா, வங்காளதேசம், இந்தோ-சீனா, பிலிப்பைன்ஸ் மற்றும் தெற்கு சீனா ஆகிய இடங்களுக்கு அதிக மழைப்பொழிவைத் தருகின்றன (1500 மி.மீ - 2500 மி.மீ). இந்தியாவில் உள்ள மௌசின்ராம் (1871 மி.மீ) அதிக மழைப்பொழிவைப் பெறுவதால், இஃது உலகின் மிக அதிக மழைப்பெறும் பகுதியாகும்.

நிலநடுக்கோட்டிலும், அதனைச் சுற்றிலும் காணப்படுகின்ற பகுதியிலும் ஆண்டு முழுவதும் ஒரேமாதிரியான காலநிலை உள்ளது. இங்குக் குளிர்காலம் இல்லை. இங்குக் காணப்படும் சராசரி வெப்பநிலை (27° செ), சராசரி மழைப்பொழிவு (1270 மி.மீ). மேற்கு மற்றும் மத்திய ஆசியாவில் வறண்ட, வெப்பமான காலநிலை காணப்படுகின்றன. இப்பகுதிகளில் வெப்பநிலை பகலில் அதிகமாகவும், இரவில் குறைந்தும் காணப்படும். மழையளவு 25 மி.மீ முதல் 200 மி.மீ வரை வேறுபடுகின்றது. ஆசியாவின் மேற்குக் கடற்கரையோரம் (மத்தியத் தரைக்கடல் ஓரம்) குளிர்காலத்தில் மழையைப் பெறுகின்றது. இங்குக் கோடைக்காலம் மிதவெப்பத்துடன் காணப்படும்.

### உயர்சிந்தனை வினா

நிலநடுக்கோட்டுப் பகுதியில் குளிர்காலம் காணப்படுவதில்லை. ஏன்?

ஆசியாவில் பாலைவனங்கள் மேற்கு கடற்கரையோரமாகக் காணப்படுகின்றன. இங்குள்ள அரேபிய (சௌதி அரேபியா) மற்றும் தார் (இந்தியா மற்றும் பாகிஸ்தான்) பாலைவனங்கள் மிக வெப்பமான

பாலைவனங்கள் ஆகும். கோபி மற்றும் தக்லாமக்கன் பாலைவனங்கள் மிகவும் குளிர்ந்த பாலைவனங்கள் ஆகும். ஆசியாவின் மிகப் பெரிய பாலைவனம் அரேபிய பாலைவனமாகும்.

### தகவல் பேழை: பாலைவனம்

பாலைவனப் பிரதேசம் என்பது மிகக் குறைந்த மழைப்பொழிவைப் பெறும் பகுதியாகும். இங்குக் குறைந்த அளவிலேயே தாவரங்கள் மற்றும் விலங்கினங்கள் காணப்படுகின்றன. ஆசியாவில் இரண்டு வகையான பாலைவனங்கள் உள்ளன. வெப்பப் பாலைவனம் மற்றும் குளிர்ப் பாலைவனம்



ரூப - அல் - காலி பாலைவனம் உலகின் மிகத் தொடர்ச்சியான மணற்பாங்கான பாலைவனமாகும். இது சௌதி அரேபியாவின் தென்கிழக்குப் பகுதியில் காணப்படுகின்றது.

### இயற்கைத் தாவரங்கள்

மழைப்பொழிவு, வெப்பநிலை மற்றும் மண் ஆகியவற்றைச் சார்ந்து இயற்கைத் தாவரங்கள் உள்ளன. ஆசியா கண்டமானது நிலநடுக்கோட்டுப் பகுதியிலிருந்து, துருவப் பகுதிவரை பரவிக் காணப்படுவதால் இங்கு அனைத்துவகை இயற்கைத் தாவரங்களும் காணப்படுகின்றன. உராங்குடான், கோமோடோ டிராகன், பெரிய பாண்டாக்கரடி போன்ற சில அரியவகை விலங்கினங்களும் இங்குக் காணப்படுகின்றன. ஆசியாவின் தாவரங்கள் மற்றும் விலங்கினங்களின் பட்டியல் கீழே கொடுக்கப்பட்டுள்ளது.

### இயற்கைப் பிரதேசங்கள் (தாவரங்கள் மற்றும் விலங்கினங்கள்)

| வ.எண். | காலநிலை   | இருப்பிடம்  | தாவரம்   | விலங்கினம்  |
|--------|---|---|--|---|
| 1      | அதிக வெப்ப நிலை, அதிக மழைப் பொழிவு                        | இந்தோனேசியா, மலேசியா, சிங்கப்பூர், இலங்கை               | பசுமை மாறாத்தாவரங்கள் –மஹோகனி, ரப்பர், செம்மரம், சால்                        | காண்டாமிருகம், உராங்குடான், கோமோடோ டிராகன், புலி, பாபிநூஸா. |
| 2      | கோடைகால மழை, வறண்ட குளிர்காலம்                            | இந்தியா, வியட்நாம், தெற்கு சீனா, கம்போடியா, தாய்லாந்து, | இலையுதிர் காடுகள் – தேக்கு, சந்தனம், மூங்கில்                                | புலி, யானை, இந்திய நாகப்பாம்பு, விரியன் பாம்பு.             |
| 3      | தீவிரமான காலநிலை  | அரேபிய பாலைவனம், வடக்கு மற்றும் வடமேற்கு இந்தியா        | சப்பாத்திக் கள்ளி, பேரீச்சமரங்கள், (பாலைவனச் சோலை) முட்டிதர்கள், கருவேல மரம் | பாக்கிரியன் ஒட்டகம், மண் கௌதாரி, பாலைவன மான்.               |
| 4      | வறண்ட குளிர்காலம், மிதவெப்ப கோடைகாலம்                     | கிழக்கு சீனா, ஜப்பான், வட மற்றும் தென் கொரியா           | செர்ரி, ஆப்ரிகாட், பிளம்   | பெரிய பாண்டாக்கரடி, ஜப்பானிய மகாக்யூ                        |
| 5      | மிதவெப்ப கோடைகாலம் குளிர்கால மழைப்பொழிவு                  | இஸ்ரேல், லெபனான், துருக்கி, சிரியா                      | அத்தி, ஆலிவ், சிட்ரஸ் பழங்கள்  | லிங்க்ஸ், ஜேக் முயல்  |
| 6      | நீண்ட வறண்ட குளிர்காலம், குறுகிய, குளிர்ச்சியான கோடைகாலம் | சைபீரியா, இமயமலை  | ஊசியிலைக்காடுகள் – பைன், ஃபிர, ஸ்பூரூஸ்                                      | சைப்பீரியப் புலி, பழுப்புக் கரடி, ஓநாய்                     |
| 7      | நிரந்தர பனிப் படர்வு                                      | பனி வரைக் கோட்டிற்கு அப்பால்                            | லிச்சன், பாசிகள், புல்   | பனிக்கரடி, லெம்மிங், ஆர்டிக் நரி, கலைமான்.                  |



உராங்குடான்



புலி



பாக்கிரியன் ஒட்டகம்



பாண்டாக்கரடி



ஓநாய்



லிங்க்ஸ்



## ஆசியாவின் வள ஆதாரங்களும், பொருளாதார நடவடிக்கைகளும்

### கனிம வளங்கள்

ஆசியா பல்வகையான கனிம வளங்களைக் கொண்டுள்ளது. இரும்பு, நிலக்கரி, மாங்கனீசு, பாக்கைட், துத்தநாகம், டங்ஸ்டன், பெட்ரோலியம், தகரம் ஆகியவற்றின் உற்பத்தியில் ஒரு முக்கிய இடத்தைப் பெற்றுள்ளது. எண்ணெய் மற்றும் இயற்கை வாயு மேற்காசிய நாடுகளில் காணப்படுகின்றன. உலகின் மூன்றில் ஒரு பங்கு எண்ணெய் ஆசியாவிலிருந்து கிடைக்கப்பெறுகின்றது. மேற்காசிய நாடுகளிலேயே, ஈரானில் குறிப்பிடத்தக்க அளவில் கனிம வளங்கள் காணப்படுகின்றன. ஆசியாவில் காணப்படும் முக்கிய கனிம வளங்களாவன :

**இரும்புத் தாது:** உலகிலேயே மிக அதிகமான இரும்புத்தாது வளத்தை ஆசியா கொண்டுள்ளது. சீனா மற்றும் இந்தியா அதிக இரும்புத்தாது இருப்புள்ள நாடுகளாகும். துருக்கி, பிலிப்பைன்ஸ், மலேசியா, தாய்லாந்து, மியான்மர் மற்றும் பல நாடுகளும் இரும்புத்தாது வளத்தைக் கொண்டுள்ளன.

**நிலக்கரி:** நிலக்கரி ஒரு படிம எரிபொருள் ஆகும். உலகிலேயே ஆசியாவில்தான் அதிக நிலக்கரி இருப்பு உள்ளது. ஆசியாவில் சீனா மற்றும் இந்தியா அதிகமாக நிலக்கரி உற்பத்தி செய்யும் நாடுகளாகத் திகழ்கின்றன.



இந்தியாவின் நிலக்கரி சுரங்கம்

**பெட்ரோலியம்:** பெட்ரோலியம் ஒரு கனிம எண்ணெய் வளமாகும். தென்மேற்கு ஆசியாவில்தான் அதிக அளவில் பெட்ரோலிய

இருப்புகள் காணப்படுகின்றன. சௌதி அரேபியா, குவைத், ஈரான், பஹ்ரைன், கத்தார் மற்றும் ஐக்கிய அரேபிய குடியரசு போன்றவை பெட்ரோலிய உற்பத்தி செய்யும் மேற்காசிய நாடுகளாகும். தென்சீனா, மலேசியா, புரூனே, இந்தோனேசியா, இந்தியா, ரஷ்யா ஆகிய நாடுகள் பெட்ரோலியம் உற்பத்தி செய்யும் மற்ற நாடுகளாகும்.

பாக்கைட், இந்தியா மற்றும் இந்தோனேசியா நாடுகளில் காணப்படுகின்றது. இந்தியா உலகிலேயே அதிக அளவில் மைக்காவினை உற்பத்தி செய்கின்றது. மியான்மர், தாய்லாந்து, மலேசியா மற்றும் இந்தோனேசியா ஆகிய நாடுகளில் தகரம் காணப்படுகின்றது.

### வேளாண்மை

ஆசியாவின் மொத்த பரப்பளவில் சுமார் 18 சதவிகிதம் மட்டுமே வேளாண்மைக்கு ஏற்ற நிலமாகக் காணப்படுகிறது. ஆசியநாட்டு மக்களின் முதன்மையான தொழில் வேளாண்மை ஆகும். தெற்கு, தென்கிழக்கு மற்றும் கிழக்காசியாவில் காணப்படும் ஆற்றுப்பள்ளத்தாக்குகள் செழுமையான வண்டல்மண் நிலங்களாகும். ஆற்றுச்சமவெளிகளில் தீவிர வேளாண்மை நடைபெறுகின்றது. இருப்பினும் ஆசியாவின் சில பகுதிகள் வேளாண்மை செய்ய உகந்தவை அல்ல. ஆசியாவிலேயே அதிக பயிர்சாகுபடிசெய்ய ஏற்ற நிலப்பரப்பைக் கொண்டுள்ள நாடு இந்தியா ஆகும். பல மேற்காசிய நாடுகளில் நிலத்தடி நீர், நிலப்பரப்பிற்கு அருகில் கிடைக்கும் இடங்களில் பயிர்கள் பயிரிடப்படுகின்றன. ஈராக் நாட்டில் வேளாண் நடவடிக்கை, மழைப்பொழிவு மற்றும் யூப்ரடிஸ், டைக்ரிஸ் ஆறுகளிலிருந்து பெறப்படும் நீரினைப்பொறுத்தே அமைகின்றன.

ஆசியாவின் முக்கிய உணவுப்பயிர்கள் நெல் மற்றும் கோதுமை ஆகும். உலகிலேயே மிக அதிகமாக நெல் உற்பத்தி செய்யும் நாடுகள்



சீனா மற்றும் இந்தியா ஆகும். மியான்மர், ஜப்பான், வங்காளதேசம் மற்றும் தாய்லாந்து ஆகிய நாடுகள் நெல் விளைவிக்கும் பிற முக்கிய நாடுகளாகும். அதிக மழைப்பொழிவு, செழுமை வாய்ந்த சமவெளிகள் மற்றும் மனிதவளம் ஆகியவற்றைப் பெற்றிருப்பதால் பருவமழை பெய்யும் ஆசியப்பகுதிகள் நெல் விளைய ஏற்ற பகுதிகளாகத் திகழ்கின்றன. தாய்லாந்து தென்கிழக்கு ஆசியாவின் 'அரிசிக் கிண்ணம்' என அழைக்கப்படுகின்றது.

உங்களுக்கு தெரியுமா?

**பனாவ் படிக்கட்டு முறை நெல் விவசாயம்**

இப்பெளஸ் என்ற பிலிப்பைன்ஸ் மக்களால்

2000 ஆண்டுகளுக்கு முன் இது உருவாக்கப்பட்டதாகும். இது கடல் மட்டத்திலிருந்து சுமார் 1524 மீ உயரத்தில் அமைந்துள்ளது.



கோதுமை ஆசியாவின் மிதவெப்ப மண்டல பகுதிகளில் விளைகின்றது, ரஷ்யா, இந்தியா, சீனா, பாகிஸ்தான் ஆகிய நாடுகள் அதிக அளவு கோதுமையை உற்பத்தி செய்கின்றன. ஆசியாவின் வறண்ட பகுதிகளில் தினைப்பயிர்களான கம்பு, கேழ்வரகு, சோளம், மக்காச்சோளம் ஆகியன விளைகின்றன. இவை இந்தியா, பாகிஸ்தான் மற்றும் சில வளைகுடா நாடுகளில் பயிரிடப்படுகின்றன. இப்பயிர்கள் மட்டுமின்றி ஆசியாவின் பல்வேறு பகுதிகளில் பருப்பு வகைகள், நறுமணப்பொருட்கள் மற்றும் எண்ணெய் வித்துக்கள் ஆகியன விளைவிக்கப்படுகின்றன.

சணல் மற்றும் பருத்தி ஆகிய முக்கிய இழைப்பயிர்கள் ஆசியாவில் விளைகின்றன. உலகின் மூன்றில் ஒரு பங்கு பருத்தி ஆசியாவில் உற்பத்தி செய்யப்படுகிறது. ஆசியாவில் அதிக பருத்தி உற்பத்தி செய்யும் நாடுகள் சீனா, இந்தியா, ரஷ்யா மற்றும் கஜகிஸ்தான். இந்தியா, பாகிஸ்தான், சீனா, மற்றும் வங்காளதேசம் ஆகிய நாடுகள் அதிக அளவில் சணல் உற்பத்தி செய்கின்றன.

வெப்பமண்டலங்களில் காணப்படும் வறண்ட மற்றும் ஈரப்பதம்மிக்க காலநிலை ஆசியாவில் கரும்பு உற்பத்திக்கு ஏற்றதாகவுள்ளது. இந்தியா, இந்தோனேசியா, பிலிப்பைன்ஸ் ஆகிய நாடுகள் அதிகமான அளவில் கரும்பு உற்பத்தி செய்கின்றன. காபி, தேயிலை, ரப்பர், பனை மற்றும் கொக்கோ ஆகியன முக்கியத் தோட்டப்பயிராகும். இந்தியா, இலங்கை, தாய்லாந்து, வியட்நாம், மலேசியா மற்றும் இந்தோனேசியா ஆகிய நாடுகளில் தோட்டப்பயிர்கள் வளர்க்கப்படுகின்றன. மலேசியா மற்றும் தாய்லாந்து ஆகிய நாடுகள் இயற்கை ரப்பர் உற்பத்தியில் முதன்மையாக விளங்குகின்றன. மேற்காசிய நாடுகள் பேரீச்சம் பழங்களை அதிகம் உற்பத்தி செய்யப்படுகின்றன. அவற்றுள் உலகிலேயே ஈரான் இப்பழங்களை அதிக அளவு உற்பத்தி செய்கின்றது.



கொக்கோ மரம்

### மீன்பிடித்தல்

மீன்பிடித்தொழில் ஆசியாவின் மிக முக்கியமான பொருளாதார நடவடிக்கை ஆகும்.

கடல் மற்றும் உள்நாட்டு நீர்நிலைகளிலும் இத்தொழில் நடைபெறுகின்றது. சீனா மற்றும் ஜப்பான் மீன்பிடித்தொழிலில் முன்னணி நாடுகளாகத் திகழ்கின்றன. கம்போடியாவில் உள்ள 'டோன்லே சாப்' ஏரி உலகின் மிகச் சிறந்த நன்னீர் மீன்பிடி ஏரியாகும். இந்தியா, இலங்கை, மியான்மர் மற்றும் பங்களாதேஷ் ஆகிய நாடுகள் வங்காள விரிகுடாவில் சிறந்த மீன்பிடித் தளங்களைப் பெற்றுள்ளன. மீன்பிடித்தல் மாலத்தீவுகளின் பொருளாதாரத்திற்கு முக்கிய பங்காற்றுகிறது. முத்துக்குளித்தல் கிழக்கு அரேபியக் கடற்கரையில் பிரசித்தி பெற்று விளங்குகின்றது.

### தொழிற்பிரதேசங்கள்

மஞ்சூரியன், ஷங்காய்- வியூ ஹன், பீகிங்-ஷென்யாங், குவான்டோன்- ஹாங்காங் ஆகிய பகுதிகள் சீனாவின் முக்கியத் தொழிற்பிரதேசங்களாகும். டோக்கியோ, யோக்கோஹாமா மற்றும் ஓசாகா-கியோட்டோ பகுதிகள் ஜப்பானின் முக்கியத் தொழிற்பகுதிகளாகும். இந்தியாவில், மும்பை, அகமதாபாத், கோயம்புத்தூர், பெங்களூரு, சோட்டா நாக்பூர் ஆகியன முக்கிய தொழிற்பிரதேசங்களாகும்.

### போக்குவரத்து

எந்த ஒரு நாட்டிற்கும் பொருளாதார முன்னேற்றத்தின் முதுகெலும்பாக விளங்குவது போக்குவரத்தே ஆகும். ஆசியாவின் பல நாடுகளும் தங்களது போக்குவரத்து வலையமைப்பை மேம்படுத்தி வருகின்றன. ஆசியாவில் காணப்படும் மிகப் பொதுவான போக்குவரத்து சாலைப் போக்குவரத்து ஆகும்.

### சாலைப் போக்குவரத்து

ஆசிய நெடுஞ்சாலை கிழக்கில் டோக்கியோவையும் மேற்கில் துருக்கியையும், வடக்கில் ரஷ்யாவையும், தெற்கில் இந்தோனேசியாவையும் (1,41,000 கி.மீ)

இணைக்கின்றது. இந்நெடுஞ்சாலை 32 நாடுகளின் வழியே கடந்து செல்கின்றது. ஆசிய நெடுஞ்சாலை வலையமைப்பிலேயே மிக நீளமான நெடுஞ்சாலை (20,557 கி.மீ) ஆசிய நெடுஞ்சாலை 1 (AH1) ஆகும். இது டோக்கியோவைத் துருக்கியுடன் இணைக்கிறது. ஆசியநெடுஞ்சாலை43(AH43)இந்தியாவிலுள்ள ஆக்ராவிருந்து இலங்கையிலுள்ள மதாரா வரை செல்கின்றது. (3024 கி.மீ)

### இருப்புப்பாதை போக்குவரத்து

உலகிலேயே நீண்ட இருப்புப்பாதை வழித்தடம் டிரான்ஸ்-சைபீரியன் இருப்புப்பாதை (9258 கி.மீ) ஆகும். அது பெருங்கண்ட இருப்புப்பாதை லெனின் கிரேட் மற்றும் விளாடிவோஸ்டாக் ஆகியவற்றை இணைக்கிறது. டிரான்ஸ் ஆசியா இருப்புப்பாதை சிங்கப்பூரை, துருக்கியிலுள்ள இஸ்தான்புல்லுடன் இணைக்கின்றது. சின்கான்சென் எனப்படும். உலகப்புகழ் வாய்ந்த அதிவிரைவு புல்லட் இரயில் (352 கி.மீ/ மணி) ஜப்பானிலுள்ள ஓசாகா மற்றும் டோக்கியோ இடையில் பயணிக்கின்றது. ஆசியாவிலேயே இரண்டாவது மிகப்பெரிய இருப்புப்பாதை போக்குவரத்து வலையமைப்பு இந்தியாவில் காணப்படுகிறது.

### நீர்வழிப் போக்குவரத்து



ஷங்காய் துறைமுகம்

நன்னம்பிக்கை முனை வழி, ஐரோப்பாவைத் தெற்கு ஆசியாவுடன் இணைக்கின்றது. டிரான்ஸ் பசிபிக் வழி கிழக்காசியத் துறைமுகங்களை மேற்கு அமெரிக்க நாடுகளின் துறைமுகங்களுடன்



இணைக்கின்றது. சூயஸ் கால்வாய் வழி உலக வர்த்தக வழியின் நடுவே பயணித்து ஐரோப்பாவைத் தெற்கு மற்றும் தென்கிழக்கு ஆசியாவுடன் இணைக்கிறது. டோக்கியோ, ஷங்காய், சிங்கப்பூர், ஹாங்காங், சென்னை, மும்பை, கராச்சி மற்றும் துபாய் ஆகியன ஆசியாவின் முக்கியத் துறைமுகங்களாகும்.

### ஆசியாவின் கலாச்சாரக் கலவை

#### மக்கள்தொகை

உலகிலேயே மிக அதிக மக்கள்தொகை கொண்ட கண்டம் ஆசியாவாகும். உலகில் சுமார் பத்தில் ஆறு பங்கு மக்கள்தொகை ஆசியாவில் காணப்படுகின்றது. பல்வேறுபட்ட இயற்கை கூறுகளினால் ஆசியாவின் மக்கட்பரவல் சீரற்றுக் காணப்படுகின்றது. ஆசியாவின் மொத்த மக்கள்தொகையில் ஐந்தில் மூன்று பங்கு மக்கள் சீனா மற்றும் இந்தியாவில் வசிக்கின்றனர். இவ்விரு நாடுகள் மட்டுமின்றி, வங்காளதேசம், இந்தோனேசியா, ஜப்பான், பாகிஸ்தான் மற்றும் பிலிப்பைன்ஸ் ஆகிய நாடுகளின் மக்கள்தொகை 100 மில்லியனுக்கு அதிகமாக உள்ளது. ஆசியாவின் மக்கள் அடர்த்தி ஒரு சதுர கிலோமீட்டருக்கு 143 நபர்கள் ஆகும். இந்தியா, ஜப்பான், வங்காளதேசம் மற்றும் சிங்கப்பூர் ஆகிய நாடுகள் மிக அதிக மக்கள் அடர்த்தியைக் கொண்டுள்ளன. குறிப்பாக, ஆற்றுச் சமவெளிகள் மற்றும் தொழிற்பகுதிகள் அதிக மக்கள் அடர்த்தியைக் கொண்டுள்ளன. ஆசியாவின் உட்பகுதிகளில் மக்கள் அடர்த்தி மிகக் குறைந்து காணப்படுகின்றது.

#### உயர்சிந்தனை வினா

ஆசியாவில் உள்ள சில நாடுகள் மட்டும் மிக அதிக மக்கள் தொகையைக் கொண்டுள்ளது. காரணம் கூறுக.

### சமயம் மற்றும் மொழி

இந்து, இஸ்லாம், புத்தம், கிறித்துவம், மற்றும் சீக்கிய சமயங்கள் பெரும்பான்மையான மக்கள் பின்பற்றும் சமயங்கள் ஆகும். மற்ற சமயங்களான ஜொராஸ்டிரியனிசம், சமணம், வின்டோயிசம், கன்பூஷியானிசம் மற்றும் டாவோயிசம் ஆகியனவும் ஆசியாவில் பின்பற்றப்படுகின்றன. மாண்டரின், ஆங்கிலம், இந்தோனேசியன், ஜப்பானிய மொழி, அரபு, கொரியா, வியட்நாமீய மற்றும் இந்தி போன்ற மொழிகள் ஆசியாவில் பரவலாகப் பேசப்படுகின்றன.



**அங்கோர்வாட் :** இஃது உலகப் பாரம்பரிய தளமாகும். இரண்டாம்

சூரியவர்மன் என்ற மன்னரால் கி.பி. (பொ. ஆ) 1100ம் ஆண்டில் கம்போடியாவில் கட்டப்பட்டது. கெமர் மொழியில் 'அங்கோர்வாட்' என்றால் 'கோயில்களின் நகரம்' எனப் பொருள். இதுவே உலகின் மிகப்பெரிய கோயிலாகும்.



### கலை மற்றும் கட்டடக்கலை

ஆசியா மூன்று நாகரிகங்களின் தாயகமாகும். (மெசபடோமியன், சிந்து சமவெளி மற்றும் சீன நாகரிகங்கள்) இம்மூன்று நாகரிகங்களும் தொடக்கக் காலங்களிலேயே கட்டடக்கலைக்குப் பெரும் பங்காற்றின. உலக அதிசயங்களில் இரண்டு அதிசயங்கள் (இந்தியாவிலுள்ள தாஜ்மகால் மற்றும் சீனப்பெருஞ்சுவர்) ஆசியாவில் உள்ளன.

ஏமன் நாட்டு மக்கள் ஆயிரக்கணக்கான ஆண்டுகளுக்கு முன்பே வானுயர்ந்த மண் கோபுரத்தைக் கட்டினர். கம்போடியாவிலுள்ள அங்கோர்வாட், கிழக்கு மற்றும் தென்கிழக்கு ஆசியாவிலுள்ள புத்த மடாலயங்கள், மேற்கு ஆசியாவிலுள்ள மசூதிகள் மற்றும் இந்தியாவிலுள்ள கோவில்களும், கோட்டைகளும் ஆசியக் கட்டடக்கலைக்கு எடுத்துக்காட்டுகளாகும்.

### உணவு

அரிசி, கோதுமை, சோளம் மற்றும் பார்லி ஆகியன ஆசியாவின் முதன்மையான உணவுகளாகும். இவைமட்டுமன்றி, பால் பொருட்கள், பழங்கள் மற்றும் கொட்டைகள் ஆகியனவற்றையும் உண்கின்றனர். கிழக்கு ஆசியாவில் அரிசி கிடைக்கப்பெறாத இடங்களில் ரொட்டி மற்றும் நூடுல்ஸ் போன்ற உணவுகளை உண்கின்றனர். தேயிலை, காப்பி மற்றும் பச்சைத் தேயிலை ஆகியன முக்கிய பானங்களாகும். மேற்கு ஆசியாவில் மாமிசம், மூலிகைகள், ஆலிவ் எண்ணெய் ஆகியன உணவில் சேர்த்துக் கொள்ளப்படும் முதன்மைப் பொருட்களாகும்.

### நடனம் மற்றும் இசை



கபாகி

ஆசியாவில், யாங்கி, டிராகன் நடனம், கபாகி போன்ற நடனங்கள் கிழக்காசியாவில் புகழ் பெற்ற நடனங்கள் ஆகும். தாய்லாந்தின் ராம் தாய், இந்தியாவில் பாங்க்ரா, கதக் மற்றும் பரதநாட்டியம் ஆகியவையும் ஆசியாவின் முக்கிய நடனங்கள் ஆகும். மேற்கு ஆசியாவில் சூஃபி இசை மற்றும் அரேபிய பாரம்பரிய இசை

போன்றவை பொதுவாகக் காணப்படுகின்றன. பிலிப்பைன்ஸ் நாட்டின் தேசிய நடனம் 'டிரனிக்லிங்' ஆகும்.

### திருவிழாக்கள்



நடு இலையுதிர்கால பண்டிகை

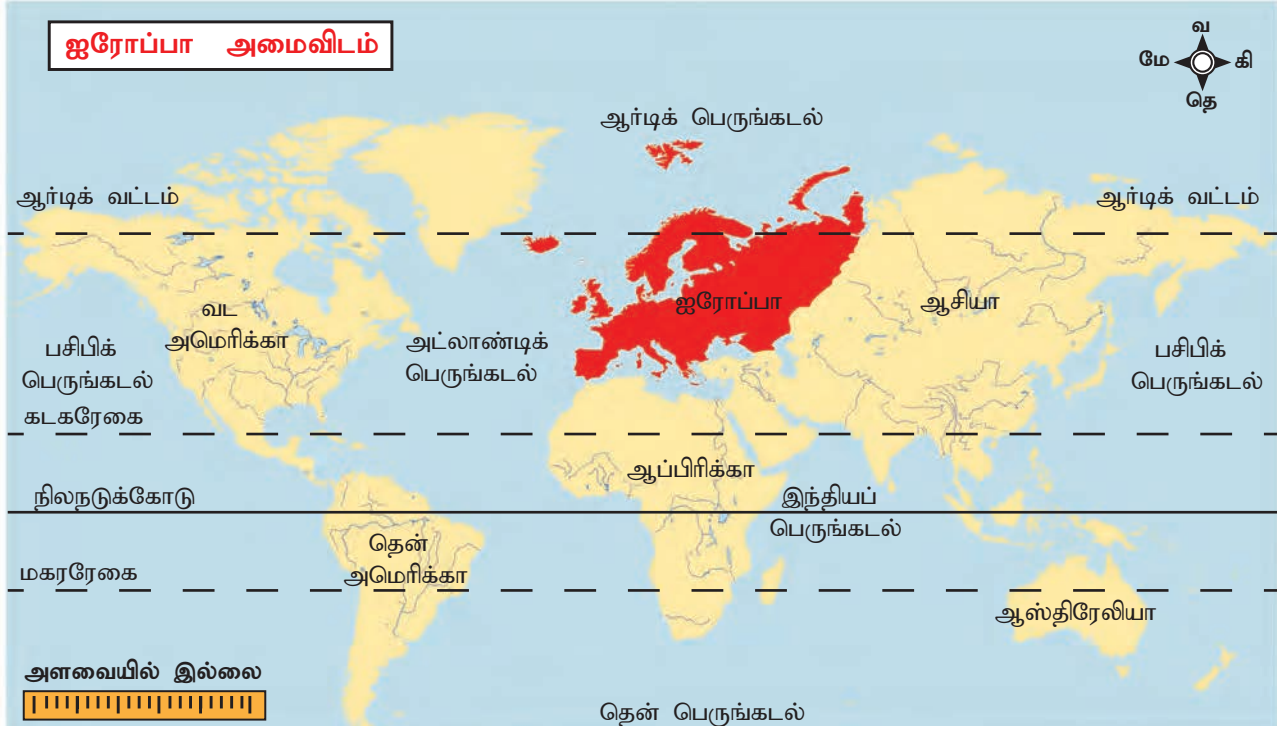
சீனா, வியட்நாம் மற்றும் தைவானின் நடு இலையுதிர்கால பண்டிகை அல்லது நிலவு பண்டிகை, இந்தியாவின் பெரும்பான்மையான இடங்களில் ஹோலி மற்றும் மகர சங்கராந்தி / பொங்கல், இஸ்ரேலின் சுக்கோத் போன்றவை ஆசியாவின் அறுவடைத் திருவிழாக்கள் ஆகும். பனிச் சிற்ப விழா, சீனப்புத்தாண்டு, தைப்பூசம், தீபாவளி, தைவான் விளக்குத் திருவிழா, சங்கிரான் மற்றும் குளிர்கால விளக்குத் திருவிழா போன்றன ஆசியாவின் புகழ்பெற்ற திருவிழாக்களாகும்.

### வேற்றுமையின் இருப்பிடம்

உலகின் மிகப்பெரிய கண்டம் ஆசியாவாகும். அது மலைகள், பீடபூமிகள், சமவெளிகள், பள்ளத்தாக்குகள், விரிகுடாக்கள், தீவுகள் போன்ற பல்வேறுபட்ட நிலத் தோற்றங்களைக் கொண்டது. நிலநடுக்கோட்டிலிருந்து துருவப் பகுதி வரை பல்வேறு காலநிலைகளை உள்ளடக்கியது. இவைமட்டுமின்றி, பல இனங்கள், மொழிகள், சமயங்கள் மற்றும் கலாச்சாரங்களைப் பின்பற்றும் மக்கள் வாழும் இடமாகத் திகழ்கின்றது. எனவே ஆசியா கண்டம், 'வேற்றுமையின் இருப்பிடம்' என அழைக்கப்படுகின்றது.



## பகுதி ஆ. ஐரோப்பா



உலகின் பரப்பளவில் ஐரோப்பா ஆறாவது பெரிய கண்டமாகவும், மக்கள் தொகையின் அடிப்படையில் மூன்றாவது இடத்திலும் உள்ளது. இது பல்வேறுபட்ட நிலத்தோற்றங்களையும், பல வகையான மக்களையும் கொண்டது. இக்கண்டம் மேற்கத்திய நாகரிகங்கள், (கிரேக்க, ரோம நாகரிகங்கள்) மக்களாட்சி மற்றும் தொழிற்புரட்சி ஆகியவற்றின் பிறப்பிடமாகும். இவ்வகலில் மிகுந்த வளர்ச்சியடைந்த கண்டமாக இது திகழ்கின்றது. இக்கண்டத்தைப் பற்றிச் சற்று ஆராய்வோம்.

### அமைவிடம்

ஐரோப்பா கண்டம்  $34^{\circ}51'$  வட அட்சத்திலிருந்து  $81^{\circ}47'$  வடஅட்சம் வரையிலும்,  $24^{\circ}33'$  மேற்கு தீர்க்கக்கோட்டிலிருந்து  $69^{\circ}03'$  கிழக்கு தீர்க்கம் வரை பரவியுள்ளது. முதன்மை தீர்க்க ரேகையான  $0^{\circ}$  தீர்க்கரேகை இங்கிலாந்திலுள்ள கிரீன்விச் வழியே கடந்து செல்கின்றது. ஐரோப்பா கண்டம் 10.5 மில்லியன் ச.கி.மீ பரப்பளவைக் கொண்டது. இது வட அரைக்கோளத்தில் அமைந்துள்ளது.

இக்கண்டம் வடக்கே ஆர்டிக் பெருங்கடல், தெற்கில் கருங்கடல் மற்றும் மத்திய தரைக்கடல், மேற்கில் அட்லாண்டிக் பெருங்கடல் மற்றும் கிழக்கே யூரல் மலைகள் ஆகியவற்றால் சூழப்பட்டுள்ளது. எனவே, இது ஒரு மிகப்பெரிய தீபகற்பம் போன்று தோற்றமளிக்கின்றது.

### உயர்சிந்தனை வினா

ஐரோப்பா கண்டம் 'தீபகற்பங்களின் தீபகற்பம்' என அழைக்கப்படுவது ஏன்?



**ஐரோப்பிய ஒன்றியம்:**  
ஐரோப்பிய ஒன்றியம் (European Union) என்பது 28 உறுப்பு நாடுகளின் பொருளாதார மற்றும் அரசியல் நலனுக்காக உருவாக்கப்பட்ட ஒரு குழுமாகும். இது தனக்கென ஒரு தனி கொடியும், பொதுவான நாணய (யூரோ) மதிப்பும் (€) கொண்டது.

## ஐரோப்பா - அரசியல்



### தகவல் பேழை

நெதர்லாந்து: நெதர்லாந்தில் சுமார் 25 சதவீத நிலப்பரப்பு கடல் மட்டத்திற்குக் கீழாகக் காணப்படுகின்றது. எனவே டைக் (dikes) எனப்படும் பெருஞ்சுவர்களை எழுப்பியுள்ளனர். இந்த டைக்குகளினால் கடலிலிருந்து நிலத்தை மீட்டெடுத்துள்ளனர். கடலிலிருந்து மீட்டெக்கப்பட்ட இந்நிலங்கள் 'போல்டர்கள்' என அழைக்கப்படுகின்றன.



### இயற்கைப் பிரிவுகள்

ஐரோப்பா, மலைகள், சமவெளிகள், பீடபூமிகள், தீபகற்பங்கள், விரிகுடா, தீவுகள் மற்றும் ஆற்றுப்படுகைகள் ஆகிய பல்வேறுபட்ட இயற்கை பிரிவுகளைக் கொண்டுள்ளது. இது நான்கு பெரும் இயற்கை பிரிவுகளாகப் பிரிக்கப்பட்டுள்ளது.

1. வடமேற்கு உயர்நிலங்கள்
2. மத்திய பீடபூமிகள் / உயர்நிலங்கள்
3. ஆல்பைன் மலைகள்
4. வட ஐரோப்பியச் சமவெளிகள்

### 1. வடமேற்கு உயர்நிலங்கள்

இப்பிரதேசம் நார்வே, ஸ்வீடன், பின்லாந்து, ஸ்காட்லாந்து மற்றும் ஐஸ்லாந்து ஆகிய நாடுகளின் மலைகள் மற்றும் பீடபூமிகளை







உள்ளடக்கியது. இது மிக அழகிய பிளவுபட்ட (fiord) கடற்கரையினைக் கொண்டது. இக் கடற்கரைகள் கடந்த காலங்களில் நடைபெற்ற பனியாறுகளினால் உருவானவை ஆகும். இப்பகுதியில் ஏரிகள் அதிகமாக உள்ளன. இந்த ஏரிகள் நீர்தேக்கங்களாகவும் செயல்படுவதால், அவற்றிலிருந்து நீர் மின்சாரம் உற்பத்தி செய்யப்படுகின்றது. உலகிலேயே, நார்வே மற்றும் ஸ்வீடன் ஆகிய நாடுகள் நீர் மின்சாரத்தை அதிக அளவில் உற்பத்தி செய்கின்றன.

### தகவல் பேழை

ஃபியார்ட் (fiord) (பிளவுபட்ட கடற்கரை) செங்குத்தான ஓங்கல் அல்லது மலைகளுக்கிடையே (பனியாற்றுச் செயல்பாடுகளின் காரணமாக) உள்ள குறுகிய, ஆழமான கடற்கரை பிளவுபட்ட கடற்கரை எனப்படும்.

பின்வரும் வழிகளில் பயன்படுகிறது

1. இவை காற்று எத்திசையிலிருந்து வீசினாலும் அதன் வேகத்தைக் குறைக்கின்றன.
2. கடல் அலைகளின் வேகத்தையும் இவை கட்டுக்குள் வைக்கின்றன. எனவே, இப்பிளவுபட்ட கடற்கரையானது இயற்கை துறைமுகங்கள் அமைவதற்கு ஏற்றதாக உள்ளது.



பிளவுபட்ட கடற்கரை, நார்வே

## 2. மத்திய பீடபூமிகள்

பீடபூமிகள் மத்திய ஐரோப்பாவின் குறுக்கே கிழக்கு மேற்கு திசையில் பரவிக் காணப்படுகின்றன. டேன்யூப், வோல்கா மற்றும் டாகஸ் போன்ற பல ஐரோப்பிய ஆறுகள் இப்பீடபூமியில் உற்பத்தியாகின்றன. இப்பகுதியில் காணப்படும் முக்கிய பீடபூமிகளான, பென்னைன்ஸ் (இங்கிலாந்து), மெஸ்ட்டா (ஸ்பெயின்), மத்திய மேசிப் மற்றும் ஜூரா (பிரான்ஸ்) கருங்காடுகள் (ஜெர்மனி) போன்றவற்றில் கனிம வளங்கள் மிகுந்து காணப்படுகின்றன. பென்னைன்ஸ் 'இங்கிலாந்தின் முதுகெலும்பு' என அழைக்கப்படுகின்றது.



கருங்காடுகள் : கருத்த நிறமுடைய, செழித்து வளரும் அத்தி மற்றும் பைன் மரங்கள் இப்பகுதிக்குக் கருமை நிறத்தை அளிக்கின்றன.

## 3. ஆல்பைன் மலைத் தொடர்

ஆல்பைன் மலைத்தொடர் தெற்கு ஐரோப்பிய பகுதியில் காணப்படும் தொடர்ச்சியான இளம் மடிப்பு மலைகள் ஆகும். அங்குக் காணப்படும் முக்கிய மலைத்தொடர்கள் சியாரா நெவேடா, பைரினீஸ், ஆல்ப்ஸ், அப்னின்ஸ், டினாரிக் ஆல்ப்ஸ், காகசஸ் மற்றும் கார்பேதியன் மலைத்தொடர்கள் ஆகும். பைரனீஸ் மலைகள் ஸ்பெயின் மற்றும் பிரான்ஸ் ஆகிய நாடுகளுக்கிடையில் இயற்கை எல்லையாக விளங்குகின்றன. ஐரோப்பாவின் மிக உயரமான சிகரம் காகசஸ் மலைத்தொடரிலுள்ள எல்ப்ரான்ஸ் சிகரமாகும் (5645மீ). ஆல்ப்ஸ் மலையில் உள்ள மாண்ட் பிளாங்க் (4807மீ) சிகரம் ஆல்பைன் மலைத் தொடரில் காணப்படும் இரண்டாவது மிக உயர்ந்த சிகரமாகும். ஆல்பைன் மலைத்





#### மாண்ட் பிளாங்க்

தொடரில் பல செயல்படும் எரிமலைகள் உள்ளன. எட்னா, வெசுவியஸ் மற்றும் ஸ்ட்ரோம்போலி எரிமலைகள் ஐரோப்பாவில் காணப்படும் முக்கிய எரிமலைகளாகும். இப்பிரதேசத்தில் நிலநடுக்கங்கள் சாதாரணமாக நிகழும். ஸ்ட்ரோம்போலி எரிமலை 'மத்திய தரைக்கடல் பகுதியின் கலங்கரை விளக்கம்' என்றழைக்கப்படுகின்றது.



**மேட்டர்ஹார்ன் :** பிரமிடு வடிவத்தில் காணப்படும் மேட்டர்ஹார்ன் மலை சுவிஸ் நாட்டில் உள்ள ஆல்ப்ஸ் மலையில் அமைந்துள்ளது. இதன் உயரம் 4478மீ ஆகும். இம்மலை இதன் வடிவத்திற்குப் புகழ் பெற்றதாகும்.



#### 4. வட ஐரோப்பிய சமவெளி

வட ஐரோப்பிய சமவெளி மேற்கில் அட்லாண்டிக் பெருங்கடலில் இருந்து கிழக்கில் யூரல் மலைகள் வரை பரந்து

காணப்படுகின்றது. வடக்கில் இச்சமவெளி பால்டிக் கடலாலும், தெற்கில் ஆல்பைன் மலைகளாலும் சூழப்பட்டுள்ளது. இது மேற்கில் குறுகியதாகவும் கிழக்கில் விரிந்தும் காணப்படுகின்றது. செயின், ரைன், டேன்யூப் மற்றும் டான் ஆகிய முக்கிய ஐரோப்பிய ஆறுகள் இச்சமவெளியில் குறுக்கு நெடுக்காக ஓடி தங்கள் வண்டலைப் படிய வைக்கின்றன.

அண்டலூசியா, ஹங்கேரியன் மற்றும் வாலச்சியன் ஆகிய சமவெளிகளும் இங்குக் காணப்படுகின்றன. இங்கு இரும்புத் தாது மற்றும் நிலக்கரி செறிந்துள்ளன. வட ஐரோப்பிய சமவெளியில் மக்கள் தொகை மிக அடர்ந்து காணப்படுகின்றது. பாரிஸ், மாஸ்கோ மற்றும் பெர்லின் ஆகிய நகரங்கள் இங்கு அமைந்துள்ளன.

#### வடிகால் அமைப்பு

ஐரோப்பாவின் வளர்ச்சியில் அதன் ஆறுகள் மிகப் பெரும் பங்காற்றுகின்றன. இவ்வாறுகள் வேளாண் நிலங்களுக்கு நீர்ப்பாசன வசதியினையும், மின்சாரம் தயாரிக்கவும் பயன்படுகின்றன.



#### டேன்யூப் ஆறு

பெரும்பான்மையான ஆறுகள் ஆல்ப்ஸ் மலைகள் மற்றும் மத்திய பீடபூமி ஆகியவற்றில் உருவாகின்றன. மத்திய மற்றும் கிழக்கு ஐரோப்பாவின் உள்நாட்டு நீர்ப்போக்குவரத்திற்கு இவ்வாறுகள் பெரிதும் உதவுகின்றன. வோல்கா ஆறு ஐரோப்பாவின்

### ஐரோப்பாவின் முக்கிய ஆறுகள்

| வ. எண் | ஆறு      | நீளம் (கி.மீ) | பிறப்பிடம்         | கலக்குமிடம்      |
|--------|----------|---------------|--------------------|------------------|
| 1      | வோல்கா   | 3692          | வால்டேஸ் பீடபூமி   | காஸ்பியன் கடல்   |
| 2      | டேன்யூப் | 2860          | கருங்காடு          | கருங்கடல்        |
| 3      | நீப்பர்  | 2145          | வால்டாய் குன்றுகள் | கருங்கடல்        |
| 4      | ரைன்     | 1,230         | சுவிஸ் ஆல்ப்ஸ்     | வடக்கு கடல்      |
| 5      | ரோன்     | 813           | சுவிஸ் ஆல்ப்ஸ்     | மத்திய தரைக்கடல் |
| 6      | போ       | 652           | கோட்டியன் ஆலப்ஸ்   | ஏட்ரியாடிக் கடல் |
| 7      | தேம்ஸ்   | 346           | கெம்பில்           | வடக்கு கடல்      |

Source w.w.w.worldatlas.com

மிக நீளமான ஆறு ஆகும். டேன்யூப் ஆறு ஐரோப்பாவின் பத்து நாடுகள் வழியாகப் பாய்கின்றது.

#### உயர் சிந்தனை வினா

ஐரோப்பிய ஆறுகள் உள்நாட்டு நீர்வழிப் போக்குவரத்திற்கு உகந்ததாக உள்ளன. ஏன்?

#### காலநிலை

ஐரோப்பிய காலநிலை மிதவெப்ப மண்டல காலநிலை முதல், துருவ காலநிலை வரை வேறுபட்டுக் காணப்படுகின்றது. தென்பகுதியில் காணப்படும் மத்தியதரைக் கடல் பகுதி காலநிலை மிதமான கோடைகாலமும், குளிர்கால மழையையும் கொண்டதாகும். வட அட்லாண்டிக் நீரோட்டத்தினால் மேற்கு மற்றும் வடமேற்கு பகுதிகள் பொதுவாக மிதமான, ஈரக் காலநிலையைக் கொண்டதாகும். மத்திய மற்றும் கிழக்கு ஐரோப்பாவின் காலநிலை ஈரப்பதம் வாய்ந்த கண்டகாலநிலை ஆகும். துணை துருவ மற்றும் தூந்திரக் காலநிலை வடகிழக்கில் காணப்படுகின்றது. அட்லாண்டிக் பெருங்கடலிலிருந்து வீசுகின்ற மேற்கத்திய காற்றுகளின் மிதமான தாக்கத்திற்கு ஐரோப்பா முழுவதும் உட்படுகின்றது.



**காலநிலை பிரிப்பான் :**  
ஆல்ப்ஸ் மலைதொடர்  
மத்தியத் தரைக்கடல்  
காலநிலையையும் வட  
ஐரோப்பாவில் காணப்படும் குளிர்ந்த  
காலநிலையும் பிரிக்கின்ற ஒரு அரணாக  
உள்ளது.

#### தகவல் பேழை

வடஅட்லாண்டிக் வெப்பக்கடல் நீரோட்டம் ஐரோப்பாவின் மேற்குப் பகுதிக்கு மிதமான வெப்பத்தை அளிக்கின்றது. மேலும் மேற்கத்திய காற்று ஐரோப்பா முழுவதும் வெப்பத்தைக் கடத்துகின்றது.

#### இயற்கைத் தாவரம்

ஐரோப்பாவின் இயற்கை தாவரம் ஐந்து வகைப்படும். அவையாவன:

1. தூந்திரம்
2. டைகா அல்லது ஊசியிலைக் காடுகள்
3. கலப்பினக் காடுகள்
4. மத்தியத் தரைக்கடல் காடுகள்
5. புல்வெளிகள்

ஆர்டிக் மற்றும் வட ஸ்காண்டிநேவிய உயர்நிலங்கள் தூந்திர வகை இயற்கைத் தாவரங்களைக் கொண்டுள்ளன. இங்கு விச்சன்ஸ் மற்றும் பாசி வகைகள் காணப்படுகின்றன.



**ஊசியிலைக் காடுகள்**

தூந்திரப்பிரதேசத்தின் தெற்கில் அமைந்துள்ள நார்வே, சுவீடன், பின்லாந்து, ஜெர்மனி, போலந்து மற்றும் ஆஸ்திரியா ஆகிய நாடுகளில் ஊசியிலை அல்லது டைகா காடுகள் காணப்படுகின்றன. இங்கு பைன், ஃபிரர், ஸ்பூரூஸ் மற்றும் லார்ச் போன்ற முக்கிய மரவகைகள் காணப்படுகின்றன.

பிரீச், பீச், பாப்லர், ஓக் மற்றும் மேபிள் மரங்களைக் கொண்ட கலப்பினக் காடுகள் மேற்கு ஐரோப்பாவில் உள்ள பிரான்சின் மேற்குப்பகுதி, பெல்ஜியம், டென்மார்க், பிரிட்டன் போன்ற நாடுகளில் காணப்படுகின்றன. மத்தியத் தரைக்கடல் பகுதி மரங்களான சைப்ரஸ், கார்க், ஓக், ஆலிவ் மற்றும் செடார் ஆகியன மத்தியத் தரைக்கடலின் எல்லைப்பகுதிகளில் காணப்படுகின்றன. புல்வெளிகள் (ஸ்டெப்பி) கிழக்கு ஐரோப்பாவில் காணப்படுகின்றன.

### **ஐரோப்பாவின் வள ஆதாரங்களும் பொருளாதார நடவடிக்கைகளும்**

கிடைக்கப்பெறும் வளங்கள், ஆற்றலுடைய படித்த வேலையாட்கள், ஆராயும் தன்மை, மற்ற நாடுகளுடனான தொடர்பு, புதுமையை நாடுதல் ஆகியவை ஐரோப்பாவை ஒரு புதுமை வாய்ந்த, பொருளாதார முன்னேற்றமடைந்த கண்டமாக மாற்றியுள்ளது.

ஐரோப்பா, தொழில்துறையில் வளர்ச்சியடைந்த ஒரு கண்டமாக இவ்வகையில் திகழ்கின்றது. இது நில அமைப்பு, காலநிலை மற்றும் மண் ஆகியவற்றில் வேறுபட்டு காணப்படுகிறது. இவை ஒன்றுடன் ஒன்று இடைவினை ஆற்றுவதால் மத்தியதரைப் பகுதி வேளாண்மை, பால் பண்ணை, கலப்புக் கால்நடை வளர்ப்பு, பயிர் வளர்ப்பு மற்றும் தோட்டப் பயிர் வேளாண்மை ஆகிய பல்வேறு வகையான வேளாண் முறைகள் பயன்பாட்டில் இருக்கின்றன.



**துலிப் மலர்த்தோட்டம்**

ஐரோப்பா முழுவதும் காணப்படும் முதன்மையான பயிர் கோதுமை ஆகும். பார்லி, ஓட்ஸ், சர்க்கரை வள்ளிக்கிழங்கு, ரை, உருளைக்கிழங்கு, கால்நடை தீவன புற்கள் ஆகியன பொதுவாக விளையும் பயிர்களாகும். மேலும் மக்காச்சோளம் டேன்யூப் தாழ்நிலங்கள், தென்மேற்கு ஐரோப்பிய ரஷ்யா, பிரான்ஸ் மற்றும் இத்தாலியில் விளையும் முக்கியப் பயிராகும். நெல்(வடஇத்தாலி) சிட்ரஸ் பழங்கள், ஆலிவ் மரங்கள் (ஸ்பெயின், சிசிலி) போன்றவை நீர்ப்பாசன வசதியுடன் விளைவிக்கப்படுகின்றன.

வடக்கில் அமைந்துள்ள நாடுகள் பெரும்பாலும் ஓட்ஸ் போன்ற தானியங்களை விளைப்பதோடு, கால்நடை வளர்ப்பு மற்றும் பால் பண்ணை தொழிலிலும் அதிக கவனம் செலுத்துகின்றன.





### ஆலிவ் மரம்

கலப்புமுறை விவசாயம் மற்றும் சிறப்பான பயிர் சுழற்சி முறைகள் அதிகளவில் பயன்பாட்டில் உள்ளன. பிரான்ஸ், இத்தாலி மற்றும் ஜெர்மனி போன்ற நாடுகளில் திராட்சை அதிக அளவில் உற்பத்தி செய்யப்படுகின்றன. ஐரோப்பிய ரஷ்யா, உக்ரைன் மற்றும் பெலாரஸ் ஆகிய நாடுகள் தொழிற்பயிர்களான ஆளி விதை, சணல் போன்ற நார்ப்பயிர்கள் (hemp), சர்க்கரைவள்ளிக் கிழங்கு மற்றும் சூரியகாந்தி விதைகள் ஆகியவற்றை மிக அதிகமாக விளைவிக்கின்றன. பெலாரஸ், பஸ்கேரியா, இத்தாலி மற்றும் மாசிடோனியன் கிரீஸ் ஆகிய இடங்களில் புகையிலை விளைவிக்கப்படுகின்றது.



### திராட்சை தோட்டம்

ஐரோப்பிய ரஷ்யா, சுவீடன், பின்லாந்து ஆகியன மென்மரங்கள் மற்றும் கடினமரங்களை அதிக அளவில் உற்பத்தி செய்கின்றன.

நார்வே, ஐஸ்லாந்து, ரஷ்யா, டென்மார்க், ஐக்கிய பேரரசு, நெதர்லாந்து ஆகிய நாடுகளில் மீன் பிடித்தல் மிகப் பெரிய தொழிலாக நடைபெறுகின்றது. வட கடலிலுள்ள டாகர் திட்டி (Dogger Banks) ஐரோப்பாவின் மிக முக்கிய மீன்பிடித்தளமாக விளங்குகின்றது.

### தொழில்கள்

உலகின் எஃகு மற்றும் இரும்புத்தாது ஆகியவைகளைக் கணிசமான அளவில் ஐரோப்பா உற்பத்தி செய்கின்றது. கப்பல் கட்டுதல், மோட்டார் வாகனங்கள், விமானம் தயாரித்தல் ஆகிய தொழில்கள் ஐரோப்பா முழுவதும் காணப்படுகின்றன. மேலும் ஐரோப்பா, மருந்து வகைகளை மிக அதிக அளவில் உற்பத்தி செய்கின்றது.

ஐரோப்பா முழுவதும் சிறுதொழிலகங்கள் (நிலைத்த தன்மையற்ற பொருட்களைத் தயாரிப்பவை) பரவிக் காணப்படுகின்றன. சில நாடுகள் தங்கள் நாட்டுக்கென சிறப்பம்சம் பொருந்திய பொருட்களைத் தயாரிப்பதில் புகழ்பெற்று விளங்குகின்றன. இங்கிலாந்து, இத்தாலி மற்றும் டச்சு மிதிவண்டிகள், சுவீடன் மற்றும் பின்லாந்து கண்ணாடிகள், பாரிஸ் வாசனை திரவியங்கள் மற்றும் அழகு சாதனப் பொருட்கள் மேலும் சுவீடனின் துல்லியமான கருவிகள் போன்றவை இதில் அடங்கும்.

### ஐரோப்பாவின் கலாச்சாரக் கலவை

ஆசியா, ஆப்பிரிக்காவைத் தொடர்ந்து உலகின் மூன்றாவது மிக அதிக மக்கள்தொகையைக் கொண்டது ஐரோப்பா ஆகும். 2018 ஆம் ஆண்டில் 742 மில்லியனாக இருந்த ஐரோப்பாவின் மக்கள்தொகை, உலக மக்கள் தொகையில் 9.73 சதவிகிதமாகக் காணப்பட்டது. ஐரோப்பிய மக்கள் அடர்த்தி ஒரு சதுர கிலோ மீட்டருக்கு 34 நபர்கள் ஆகும்.



அதிக மக்கள் அடர்த்தி ஐரோப்பிய நிலக்கரி சுரங்கங்களுடன் தொடர்புடையதாகக் காணப்படுகின்றது. சுரங்கத்தொழில், உற்பத்தி தொழில்கள், வர்த்தகம், பெரும் சந்தைகளாகச் செயல்படுதல், மனிதவளம் மற்றும் வேளாண் உற்பத்தி ஆகியன மக்கள்தொகை மிகுந்து காணப்படக் காரணமாக அமைகின்றன. மொனாக்கோ, மால்டா, சான் மரினோ மற்றும் நெதர்லாந்து ஆகியன மிகுந்த மக்கள் அடர்த்தியைக் கொண்ட நாடுகளாகும். ஐஸ்லாந்து மற்றும் நார்வே ஆகியன மிகக்குறைந்த மக்கள் அடர்த்தியைக் கொண்டுள்ளன. பொதுவாக மலைப்பாங்கான பகுதிகள், சில உயர்நிலங்கள், ஸ்பெயின் நாட்டின் மிக வறண்ட பகுதிகள் மற்றும் ரஷ்யாவின் ஆர்டிக் பிரதேசங்கள் ஆகியன மிகக் குறைந்த மக்கள் தொகையைக் கொண்டுள்ளன. ஐரோப்பாவில் உள்ள மொனாக்கோ நாட்டில்தான் உலகிலேயே அதிக மக்கள் அடர்த்தி காணப்படுகின்றது. (26,105 நபர்கள் / ச.கி.மீ). ஐஸ்லாந்து மிக குறைந்த மக்கள் அடர்த்தி கொண்ட நாடாகும் (3 நபர்கள் / ச. கி.மீ).

### சமயம் மற்றும் மொழி

ஐரோப்பா கண்டம் மொழி மற்றும் கலாச்சாரங்களில் மிகுந்த வேறுபாடுகளைக் கொண்டு காணப்படுகின்றது. ஆங்கிலம், ஸ்பானிஷ், போர்ச்சுகீசு, பிரெஞ்சு, இத்தாலியன் மற்றும் ஸ்வீடீஷ் மொழிகள் ஐரோப்பா முழுவதும் பரவலாகப் பேசப்படும் மொழியாகும். ஐரோப்பாவின் முதன்மை சமயம் கிருத்துவம் ஆகும். குறிப்பிடத்தக்க எண்ணிக்கையில் இந்துக்கள், முஸ்லிம்கள் மற்றும் யூதர்களும் இக்கண்டத்தில் பரவிக் காணப்படுகின்றனர். இங்கு வாழும் 90 சதவிகிதத்திற்கும் அதிகமான மக்கள் காகசாய்டு இனத்தவர் ஆவார்.

### கலை மற்றும் கட்டடக்கலை

ஐரோப்பிய கலை மற்றும் கட்டடக்கலை சாதாரண மனிதனை உலகறிய செய்துள்ளது. அஃது உலகெங்கும் பிரசித்தி பெற்றும் விளங்குகின்றது. அக்ரோபோலிஸ், கோலோசியம், டேவிட் சிலை, சிந்திப்பவர் சிலை, ஈபிள் கோபுரம், பிக் பென் கடிகாரம், பைசா கோபுரம் மற்றும் மோனாலிசா ஆகியன ஐரோப்பிய கலை மற்றும் கட்டடக்கலைக்கு மிகச் சிறந்த எடுத்துக்காட்டுகளாகும்.



சிந்திப்பவர் சிலை



ஈபிள் கோபுரம்



பிக் பென் கடிகாரம்



கோலோசியம்

### உணவு மற்றும் திருவிழாக்கள்

ரொட்டி, மீன், இறைச்சி, உருளைக்கிழங்கு மற்றும் பால் பொருட்கள் ஐரோப்பாவின் பிரதான உணவுப் பொருட்களாகும். ஐரோப்பியர்கள் சமய திருவிழாக்கள், விடுமுறை நாட்கள் ஆகிய இரண்டையும் கொண்டாடுகின்றனர்.



தக்காளி திருவிழா

கிறிஸ்மஸ், ஈஸ்டர், புனித வெள்ளி, புனிதர்கள் நாள், ரெடன் டோர், தக்காளி மற்றும் கார்னிவல் ஆகியன ஐரோப்பாவின் முக்கிய பண்டிகைகள் மற்றும் திருவிழாக்களாகும்.

பனிச்சறுக்கு, ரக்பி, கால்பந்து, கூடைப்பந்து மற்றும் ஐஸ் ஹாக்கி ஆகிய விளையாட்டுகள் இங்குப் புகழ் பெற்றவை. ஸ்பெயின் நாட்டின் எருதுச்சண்டை உலகப்புகழ் பெற்ற விளையாட்டாகும்.

### ஆசியா மற்றும் ஐரோப்பா – ஒர் ஒப்பீடு

ஆசியா மற்றும் ஐரோப்பா கண்டங்கள் புவியியல் அமைப்பினால் ஒன்றுபட்டும், அரசியல் பிரிவுகளால் பிரிக்கப்பட்டும் உள்ளன. ஆசியாவின் மிகப்பெரிய தீபகற்பமாக ஐரோப்பா திகழ்கின்றது. ஆசியாவின் இமயமலையும், ஐரோப்பாவின் ஆல்ப்ஸ்மலையும் ஒரே புவியியல் காலகட்டத்தில் தோன்றியவை. ஸ்டெப்பி புல்வெளிகளும், ஊசியிலைக் காடுகளும் பல நூறு கிலோமீட்டர், ஐரோப்பாவிலிருந்து ஆசியா வரை பரவிக் காணப்படுகின்றன. இவ்விரு கண்டங்களிலும் சமவெளிகள் வடக்குப்பகுதியிலும், மலைகள் தெற்குப் பகுதியிலும் காணப்படுகின்றன. ஆசியா மற்றும் ஐரோப்பா கண்டங்கள் பண்டைய நாகரிகங்கள் தோன்றிய இடங்களாகும். பண்டைய காலம் முதலே இவ்விரு கண்டங்களும் நறுமணப் பாதை மற்றும் பட்டுப்பாதை மூலம் வணிகத்தொடர்பு கொண்டிருந்தன. புவியியல் அமைப்பில் இவை இரண்டும் பலவகைகளில் ஒன்றுபட்டுக் காணப்பட்டாலும் இவ்விரு கண்டங்களுக்கிடையே குறிப்பிடத்தக்க வேற்றுமைகளும் காணப்படுகின்றன.

| ஆசியா  | ஐரோப்பா   |
|--|---|
| 1. ஆசியா பரப்பு மற்றும் மக்கள்தொகை ஆகியவற்றின் அடிப்படையில் மிகப்பெரிய கண்டமாகும்.   | 1. ஐரோப்பா பரப்பின் அடிப்படையில் மிகச் சிறியது. ஆனால் நன்கு வளர்ச்சியடைந்த கண்டமாகும்.  |
| 2. $10^{\circ} 11'$ தெ முதல் $81^{\circ} 12'$ வ அட்சம் வரையிலும் பரவியுள்ளது. அதாவது, நிலநடுக்கோட்டு பகுதி முதல் துருவப்பகுதி வரை பரவிக்காணப்படுகின்றது. | 2. $34^{\circ} 51'$ வ முதல் $81^{\circ} 47'$ வ அட்சம் வரை பரவியுள்ளது. அதாவது மிதவெப்ப மண்டலம் முதல் துருவப்பகுதி வரை பரவியுள்ளது.                  |
| 3. இது கிழக்கு அரைக்கோளத்தில் அமைந்துள்ளது.  | 3. இது புவியின் மையப்பகுதியில் அமைந்துள்ளது.  |
| 4. பேரிங் நீர்ச்சந்தி ஆசியாவை வடஅமெரிக்காவிலிருந்து பிரிக்கின்றது.   | 4. ஜிப்ரால்டர் நீர்ச்சந்தி ஐரோப்பாவை ஆப்பிரிக்காவிலிருந்து பிரிக்கின்றது.   |
| 5. அரேபிய, இந்தோ-சீனா, இந்தியா மற்றும் கொரியா போன்றவை ஆசியாவின் முக்கிய தீபகற்பங்களாகும்.  | 5. ஸ்காண்டிநேவியன், ஐபீரியன், இத்தாலி மற்றும் பால்கன் போன்றவை ஐரோப்பாவின் முக்கிய தீபகற்பங்களாகும்.   |
| 6. நிலநடுக்கோடு, கடகரேகை, ஆர்டிக் வட்டம் ஆகிய மிக முக்கிய அட்சக்கோடுகள் இதன் வழியே கடந்து செல்கின்றன.  | 6. ஆர்டிக் வட்டம் மட்டுமே இதன் வழியே கடக்கின்றது.   |
| 7. இங்கு அனைத்து வகைக் காலநிலைகளும் காணப்படுகின்றன. இக்கண்டம் தனித்துவமிக்க பருவமழை காலநிலையையும் பெற்றுள்ளது. தெற்கு ஆசியா கோடைகால மழையைப் பெறுகின்றது. | 7. இது அதிகமாக மதிவெப்ப மண்டலத்தில் அமைந்துள்ளது. தனித்துவமிக்க மத்திய தரைக்கடல் காலநிலையைக் கொண்டது. தெற்கு ஐரோப்பா குளிர்கால மழையைப் பெறுகின்றது. |
| 8. இங்கு வெப்ப மற்றும் குளிர் பாலைவனங்கள் உள்ளன.   | 8. இங்கு பாலைவனங்களே இல்லை.   |
| 9. அதிக கனிம இருப்பைக் கொண்டது.  | 9. நிலக்கரி மற்றும் இரும்பு தவிர அளவான கனிம வளத்தைக் கொண்டுள்ளது.   |
| 10. தோட்டப் பயிர்களான தேயிலை, ரப்பர் மற்றும் பேரீச்சம் பழம் அதிகம் விளைவிக்கப்படுகின்றன.   | 10. சிட்ரஸ் பழங்கள், ஆலிவ் மற்றும் திராட்சை ஆகியன ஐரோப்பாவில் அதிகம் பயிரிடப்படுகின்றன.   |
| 11. ஆசியாவின் பெரும்பான்மையான மக்கள் முதல்நிலைத்தொழில்களில் ஈடுபட்டுள்ளனர்.  | 11. ஐரோப்பாவில் பெரும்பான்மையான மக்கள் இரண்டாம்நிலை மற்றும் மூன்றாம்நிலைத் தொழில்களில் ஈடுபட்டுள்ளனர்.  |

### நினைவில் நிறுத்துக

- உலகின் மிகப் பெரியதும், மிக அதிக மக்கள் தொகையும் கொண்டது ஆசியா. ஐந்து இயற்கையமைப்பு பிரிவுகளாகப் பிரிக்கப்பட்டுள்ளது.
- நிலநடுக்கோட்டிலிருந்து துருவம் வரை அனைத்து வகையான காலநிலையும் ஆசியாவில் காணப்படுகின்றது.
- மரங்களற்ற துருவப்பகுதி முதல் அடர்ந்த நிலநடுக்கோட்டுக் காடுகள் வரை ஆசியாவில் உள்ளன.
- நிலக்கரி, இரும்புத்தாது, பெட்ரோலியம், பாக்கஸ்ட், மைக்கா, தகரம், துத்தநாகம் முதலியனவும் ஆசியாவில் கிடைக்கப்பெறுகின்றன.
- நெல், கோதுமை, கரும்பு, சணல், பருத்தி, தேயிலை, காப்பி மற்றும் பேரீச்சம்பழம் ஆகியன ஆசியாவின் முக்கியப் பயிர்களாகும்.
- அனைத்துச் சமயங்களின் பிறப்பிடம் ஆசியாவாகும்.
- ஐரோப்பா உலகின் ஆறாவது பெரிய கண்டமாகும். இது நான்கு இயற்கை பிரிவுகளாகப் பிரிக்கப்பட்டுள்ளது.
- ஐரோப்பிய ஆறுகள் அக்கண்டத்தின் பொருளாதார முன்னேற்றத்தில் பெரும் பங்கு வகிக்கின்றன.
- ஐரோப்பா குளிர்ந்த மிதமான காலநிலையைக் கொண்டது.
- கலப்பு விவசாயமுறை பரவலாக நடைபெறுகின்றது.
- நிலக்கரி மற்றும் இரும்பு ஐரோப்பாவில் கிடைக்கப்பெறும் முதன்மையான கனிமம் ஆகும்.
- தொழில்துறையில் உலகிலேயே மிகவும் முன்னேற்றமடைந்த கண்டமாகத் திகழ்கின்றது.
- கிருத்துவம் ஐரோப்பாவின் முதன்மையான சமயமாகும்.

### கலைச்சொற்கள்

- பானம் – நீர் அல்லாத குடிக்கப்படும் திரவம்
- வற்றாத – ஆண்டு முழுவதும் தண்ணீர் பாய்கின்ற
- பருவக்காற்று – குறிப்பிட்ட பருவத்தில் இந்தியப்பெருங்கடலில் வீசும் காற்று
- டைகா – சதுப்புநில ஊசியிலைக் காடுகள்
- தூந்திரம் – பரந்த சமமான மரமற்ற ஆர்டிக் பகுதி
- ஸ்டெப்பிஸ் – சைபீரியாவில் காணப்படும் மிகப்பெரிய, சமமான மரங்களற்ற புல்வெளி பரப்பு
- போல்டர் – கடலிலிருந்து மீட்கப்பட்ட தாழ்நிலம்
- தோட்ட வேளாண்மை – தோட்டங்கள் அமைத்துப் பராமரிக்கும் கலை (காய்கறிகள், பழங்கள் மற்றும் பூக்கள்)





10. ஐரோப்பாவில் மிகக் குறைவான மக்களடர்த்தியைக் கொண்ட நாடு எது?

- அ) ஐஸ்லாந்து  
ஆ) நெதர்லாந்து  
இ) போலந்து  
ஈ) சுவீட்சர்லாந்து

### II. கோடிட்ட இடங்களை நிரப்புக

1. தாரஸ் மற்றும் போன்டைன் மலைத்தொடர்கள் \_\_\_\_\_ முடிச்சிலிருந்து பிரிக்கின்றது.
2. உலகின் மிக அதிக மழைப்பெறும் இடம் \_\_\_\_\_.
3. உலகிலேயே \_\_\_\_\_ உற்பத்தியில் ஈரான் முன்னிலையில் உள்ளது.
4. ஐரோப்பாவையும், தெற்கு மற்றும் தென்கிழக்கு ஆசியாவையும் இணைக்கும் கடல்வழி \_\_\_\_\_.
5. பிலிப்பைன்ஸ் நாட்டின் தேசிய நடனம் \_\_\_\_\_.
6. ஐரோப்பாவின் இரண்டாவது உயரமான சிகரம் \_\_\_\_\_.
7. ஐரோப்பாவின் மத்திய மற்றும் கிழக்கு பகுதியில் நிலவும் காலநிலை \_\_\_\_\_.
8. வடகடலில் உள்ள முக்கிய மீன்பிடித்தளம் \_\_\_\_\_.
9. ஐரோப்பாவின் மக்களடர்த்தி \_\_\_\_\_.
10. \_\_\_\_\_ ஆறு ஐரோப்பாவில் உள்ள ஒன்பது நாடுகளைக் கடந்து செல்கின்றது.

### III. பொருத்துக

1. மெசபடோமியா சமவெளி - அதிக மழை
2. மெளசின்ராம் - நார்வே
3. தென்கிழக்கு ஆசியாவின் - ஸ்பெயின் அரிசிக் கிண்ணம்
4. ஃபியார்கு கடற்கரை - யூப்ரடீஸ் & டைக்ரிஸ்
5. எருதுச் சண்டை - தாய்லாந்து

### IV. மேலும் கற்கலாம்

1. கூற்று (A): இத்தாலி, வறண்ட கோடை காலத்தையும், குளிர்கால மழையையும் பெற்றுள்ளது.

காரணம் (R): இது மத்திய தரைக்கடல் பகுதியில் அமைந்துள்ளது.

அ) (A) மற்றும் (R) இரண்டும் சரி. மேலும் (R) என்பது (A) விற்கு சரியான விளக்கம் ஆகும்.

ஆ) (A) மற்றும் (R) இரண்டும் சரி. மேலும் (R) என்பது (A) விற்கு சரியான விளக்கமல்ல.

இ) (A) சரி. ஆனால் (R) தவறு.

ஈ) (A) தவறு. ஆனால் (R) சரி.

2. கொடுக்கப்பட்ட ஆசியா வரைபடத்தில் குறிக்கப்பட்டுள்ள 1, 2, 3 மற்றும் 4 என்பன கீழ்க்கண்ட சமவெளிகளைக் குறிக்கின்றன.



### ஆசியா

- A. சிந்து - கங்கை சமவெளி
- B. மஞ்சூரியன் சமவெளி
- C. மெசபடோமியா சமவெளி
- D. சீனச் சமவெளி

வரைபடத்தில் உள்ள எண்ணுடன் சமவெளிகளைப் பொருத்தி, பின் கீழே

கொடுக்கப்பட்ட குறியீட்டைப் பயன்படுத்தி சரியான பதிலைத் தேர்ந்தெடுக்கவும்.

குறியீடுகள்

|    | A | B | C | D |
|----|---|---|---|---|
| அ) | 2 | 1 | 4 | 3 |
| ஆ) | 2 | 1 | 3 | 4 |
| இ) | 1 | 2 | 3 | 4 |
| ஈ) | 1 | 4 | 3 | 2 |

3. கொடுக்கப்பட்டுள்ள ஆசியா வரைபடத்தில் நிழலிடப்பட்ட பகுதியில் விளையும் பயிர்வகை



ஆசியா

அ) கரும்பு

ஆ) பேரீச்சம் பழம்

இ) ரப்பர்

ஈ) சணல்

### V. சுருக்கமாக விடையளி

- ஆசியாவில் உள்ள முக்கிய மலையிடைப் பீடபூமிகளின் பெயர்களைக் குறிப்பிடுக.
- 'மான்சூன் காலநிலை' பற்றிச் சுருக்கமாக எழுதுக.

- நிலத்தோற்றங்கள் ஆசியாவின் மக்கள் தொகை பரவலை எவ்வாறு பாதிக்கின்றது?
- ஆசியாவில் காணப்படும் முக்கிய துறை முகங்களின் பெயர்களைக் குறிப்பிடுக.
- 'வேறுபாடுகளின் நிலம் ஆசியா' – நிரூபி.
- ஆல்பைன் மலைத்தொடரில் உள்ள முக்கிய மலைகள் யாவை?
- ஐரோப்பாவின் முக்கிய ஆறுகள் யாவை?
- ஐரோப்பாவில் மத்திய தரைக்கடல் காலநிலையைக் கொண்ட நாடுகளின் பெயர்கள் சிலவற்றைக் கூறுக.
- ஐரோப்பாவின் மக்கள்தொகையைப் பற்றிச் சிறுகுறிப்புத் தருக.
- ஐரோப்பாவில் கொண்டாடப்படும் விழாக்கள் சிலவற்றின் பெயர்களைக் குறிப்பிடு.

### VI. வேறுபடுத்துக

- மலையிடைப் பீடபூமி மற்றும் தென் பீடபூமி.
- வெப்பப் பாலைவனம் மற்றும் குளிர்ப்பாலைவனம்.
- தூந்திரா மற்றும் டைகா.
- வடமேற்கு உயர்நிலம் மற்றும் ஆல்பைன் மலைத்தொடர்.

### VII. காரணம் தருக

- ஆசியா, அரிசி உற்பத்தியில் முன்னணியில் உள்ளது.
- ஆசியா உலகின் மிகப்பெரிய மற்றும் அதிக மக்கள்தொகை கொண்ட கண்டமாகும்.
- ஐரோப்பா 'மிகப்பெரிய தீபகற்பம்' என அழைக்கப்படுகின்றது.
- மேற்கு ஐரோப்பாவானது உயர் அட்சப் பகுதியில் அமைந்திருந்தாலும் மிதமான காலநிலையைப் பெற்றுள்ளது.

### VIII. ஒரு பத்தியில் விடையளி

- ஆசியாவின் வடிகால் அமைப்பைப் பற்றி விவரி?

2. ஆசியாவில் காணப்படும் முக்கிய தாதுக்களைப் பற்றி விவரி?
3. பிளவுபட்ட கடற்கரை என்றால் என்ன? துறைமுகங்களை எவ்வாறு அதுமோசமான காலநிலையில் இருந்து பாதுகாக்கின்றது?
4. ஐரோப்பாவின் காலநிலைப் பிரிவுகளைப் பற்றி விவரி?

### IX. வரைபடப் பயிற்சி

ஆசியா மற்றும் ஐரோப்பா வரைபடத்தில் கீழ்க்கண்ட இடங்களைக் குறிக்கவும்.

**ஆசியா :** யூரல்மலை, இமயமலை, பாமீர், கோபி பாலைவனம், அரேபியன் தீபகற்பம், தக்காண பீடபூமி, யாங்சி ஆறு, ஓப் ஆறு, ஏரல் கடல் மற்றும் பைகால் ஏரி

**ஐரோப்பா :** பைரீனிஸ், கருங்காடுகள், அப்பென்னிஸ், ஹங்கேரியன் சமவெளி, காகஸஸ் மலை, வோல்கா ஆறு, டானூப் ஆறு, ஜிப்ரால்டர் நீர்ச்சந்தி, லடோகா ஏரி, வடகடல்.

### X. செயல்பாடுகள்

1. கீழ்க்கண்டவற்றைப் பூர்த்தி செய்க.
 

என்னுடைய மாவட்டம் \_\_\_\_\_. என் மாவட்டம்

1. \_\_\_\_\_ 2. \_\_\_\_\_ 3. \_\_\_\_\_ க்குப் புகழ்பெற்றது. என் மாவட்டத்தின் எல்லைகள், வடக்கே \_\_\_\_\_, கிழக்கே \_\_\_\_\_ தெற்கு \_\_\_\_\_ மற்றும் மேற்கே \_\_\_\_\_ ஆகும். இது \_\_\_\_\_ பரப்பளவைக் கொண்டுள்ளது. இது \_\_\_\_\_ வட்டங்களையும் \_\_\_\_\_ கிராமங்களையும் கொண்டுள்ளது. \_\_\_\_\_ ஆகியன முக்கிய மலைகள் / சமவெளிகள் / பீடபூமிகள் ஆகும். (அனைத்தும் இருந்தாலும் எழுதவும்) \_\_\_\_\_, \_\_\_\_\_ ஆறுகள் என் மாவட்டத்தில் பாய்கின்றன. \_\_\_\_\_, \_\_\_\_\_ ஆகிய மரங்களும் \_\_\_\_\_, \_\_\_\_\_ ஆகிய வனவிலங்குகளும் உள்ளன. \_\_\_\_\_, \_\_\_\_\_ போன்ற முக்கிய தனிமங்கள் இங்குக் கிடைக்கின்றன. இதனை அடிப்படையாகக் கொண்டு \_\_\_\_\_, \_\_\_\_\_ தொழிற்சாலைகள்

இங்கு அமைந்துள்ளன. இங்கு விளையும் முக்கிய பயிர்கள் \_\_\_\_\_, \_\_\_\_\_, \_\_\_\_\_ ஆகும். (கடலோர மாவட்டம் என்றால் மீன் வகைகள்) மாவட்டத்தின் மொத்த மக்கள் தொகை \_\_\_\_\_. நாங்கள் \_\_\_\_\_ விழாக்களைச் சிறப்பாகக் கொண்டாடுகின்றோம்.

2. ஐரோப்பாவை இருப்பிடமாகக் கொள்ளும் வாய்ப்பு கிடைத்தால் நீ எந்த நாட்டைத் தேர்வு செய்வாய்? காரணங்களைப் பட்டியலிடுக.
3. ஆசியாவின் ஏதாவது ஒரு பிரதேசத்தைத் தேர்வு செய்க. ஆசியா வரைபடத்தில் இயற்கை தாவரங்கள் மற்றும் விலங்கினங்களின் பரவலைக் குறிக்கவும். அது தொடர்பான படங்களை ஒட்டிவரவும்.



### மேற்கோள் நூல்கள்

1. Douglas L. Johnson, Viola Haarmann, Merrill L. Johnson, David L. Clawson (2012), World Regional Geography, A Development Approach, PHI Learning Private Limited, New Delhi, India.
2. John Cole, (2010), Geography, of the world's Major Regions, Routledge, London.
3. Majid Husain (2017), Indian and world Geography McGraw Hill Education (India) Private Limited, New Delhi, India.



### இணையதள இணைப்புகள்

1. <https://www.whatarethe7continents.com>
2. [www.natural history on the Net.com](http://www.naturalhistoryonthenet.com)
3. [www.worldatlas.com](http://www.worldatlas.com)
4. [www.internetgeography.net](http://www.internetgeography.net)
5. [www.worldometers.info](http://www.worldometers.info)





## இணையச் செயல்பாடு

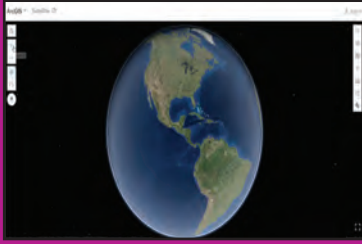
### ஆசியா மற்றும் ஐரோப்பா

இச்செயல்பாட்டின் மூலம் ஆசிய ஐரோப்பிய கண்டங்களின் நாடுகள் மற்றும் அவற்றின் நிலப்பரப்புகளை அறிய முடியும்.



#### படிநிலைகள்:

- படி -1 கொடுக்கப்பட்ட உரலியைப் பயன்படுத்தி செயல்பாட்டு தளத்திற்கு செல்லலாம்.
- படி -2 "Search" என்ற பகுதியில் Asia and Europe என டைப் செய்யவும்.
- படி -3 "+" "-" என்ற பொத்தானைக் கொண்டு zoom in மற்றும் out செய்ய முடியும்.
- படி -4 "Full screen" குறியீட்டை சொடுக்கி முழுத்திரையில் காண முடியும்.



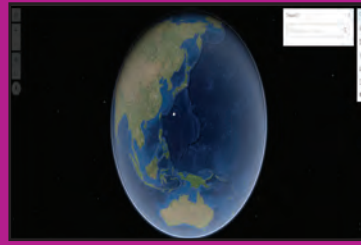
படி 1



படி 2



படி 3



படி 4

#### உரலி :

<http://earth3dmap.com/#?l=asia>

\* படங்கள் அடையாளத்திற்கு மட்டுமே.

தேவையெனில் Adobe Flash யை அனுமதிக்க.



B541\_6\_SS\_TM\_T3

அலகு

2

## புவி மாதிரி



## கற்றல் நோக்கங்கள்

- நான்கு அடிப்படை திசைகள் பற்றி அறிதல்.
- புவியின் வடிவம் பற்றி அறிந்து கொள்ளல்.
- புவி மாதிரியைப் பற்றி புரிந்து கொள்ளல்.
- அட்சக்கோடுகள் மற்றும் தீர்க்கக்கோடுகள் பற்றி தெரிந்து கொள்ளுதல் மற்றும் அவற்றின் பயன்களை அறிதல்.
- உலகில் திட்டநேரம் எவ்வாறு கணக்கிடப்படுகிறது என்பதை தெரிந்து கொள்ளுதல்



திருநன்றியூர் என்னும் அழகிய கிராமத்தில், வடக்கு தெருவில் வசிக்கும் பூவேந்தனும், தெற்கு தெருவில் வசிக்கும் சூர்யாவும் ஆறாம் வகுப்பு படிக்கும் தோழர்கள். தினந்தோறும் இருவரும் பள்ளிக்கு ஒன்றாகச் சேர்ந்து சென்று வருவது வழக்கம். அப்பொழுது ஒரு நாள்.....



சூர்யா: பூவேந்தா, ஏன் இவ்வளவு தாமதமாக வருகிறாய்?

பூவேந்தன்: சற்றுப்பொறுத்துக்கொள்ள வேண்டும் சூர்யா. இதோ வந்து விட்டேன்.

சூர்யா: நீ இவ்வளவு தாமதமாக வருவதற்கு என்ன காரணம்?

பூவேந்தன்: நீ வசிப்பது தெற்குத் தெரு. நான் தொலைவில் உள்ள வடக்குத் தெருவில் வசிக்கிறேன். தொலைவிலிருந்து வருகின்றேன் அல்லவா? அதனால்தான் தாமதமாகிவிட்டது.

சூர்யா: சரி நாம் எந்தத் தெருவில் வசித்தால் என்ன? நாம் அனைவரும் புவியில்தான் வாழ்கிறோம். நினைவிருக்கிறதா?

பூவேந்தன்: ஆமாம்! ஆமாம்! நம் பொன்னி டீச்சர் சூரியகுடும்பம் பற்றி பாடம் நடத்தும்போது கூறியது நினைவிருக்கிறது.

சூர்யா: ஆனாலும் எனக்கு ஒரு சந்தேகம்

பூவேந்தன்: என்ன சந்தேகம்?

சூர்யா: நாம் வசிக்கின்ற வீடு, நமது மக்கள், பயன்படுத்தும் பொருட்கள், விலங்குகள் மற்றும் பறவைகள் எல்லாவற்றையும் நாம் முழுவதுமாகப் பார்க்க முடிகின்றது. ஆனால் டீச்சர் கூறிய புவியை மட்டும் நம்மால் முழுவதுமாகப் பார்க்க முடியவில்லையே!

பூவேந்தன்: நீ பார்க்கவில்லையா?

சூர்யா: இல்லையே, நீ எப்போதாவது பார்த்திருக்கிறாயா?

பூவேந்தன்: ஆம், நமது பள்ளியில்தான் பார்த்திருக்கிறேன்.

சூர்யா: நமது பள்ளியிலா?

பூவேந்தன்: ஆமாம்! நம் பொன்னி டீச்சர் மேசையின் மேல் பெரியதாக உருண்டையாக உள்ளதே அதுதான்.

சூர்யா: ஆமாம். பந்து மாதிரி ஒரு ஸ்டேண்ட்டுல இருக்கே.

பூவேந்தன்: சரியாகக் கூறினாய். அது தான் புவியின் மாதிரி.

சூர்யா: ஆனால் புவி பால்வெளி விண்மீன்திரள் மண்டலத்தில் உள்ளது என்று டீச்சர் சொன்னாங்க. நீயோ மேசை மேல் உள்ளது என்று சொல்கின்றாய்! எனக்கு ஒரே குழப்பமா இருக்கு. சரி நாம் இருவரும் டீச்சரிடம் சென்று கேட்போம்.

இருவரும் பேசிக்கொண்டே பள்ளிக்கூடம் வந்தனர். பள்ளியில் மணி அடிக்கும் சத்தம் கேட்டது. பின்னர் காலை வழிபாட்டுக் கூட்டம் முடிந்து வகுப்புக்குச் சென்றனர். சமூக அறிவியல் பாட வேளையில் பொன்னி டீச்சரிடம் சென்று சூர்யா தனது சந்தேகத்தைக் கேட்டான்.

சூர்யா : வணக்கம் டீச்சர்

டீச்சர்: வணக்கம்

சூர்யா : டீச்சர், நீங்கள் அன்று சூரியகுடும்பம் பாடம் நடத்தும்போது நாம் வாழ்கின்ற புவி, பால்வெளி விண்மீன்திரள் மண்டலத்தில் இருக்கின்றது என்று தானே கூறினீர்கள்? ஆனால் பூவேந்தன் உங்கள் மேசையின் மீது இருக்கிறது என்கிறான்.

டீச்சர்: ஆமாம். அது உண்மைதான், ஆனால் மேசையின் மேல் உள்ளது புவியின் மாதிரி.

சூர்யா : புவி மாதிரியா? எனக்கு விளக்கமாகச் சொல்லுங்கள் டீச்சர்.

டீச்சர்: கட்டாயம் சொல்கிறேன்.

உடனே மாணவர்கள் அனைவரையும் அமரச் செய்து கீழ்க்கண்டவாறு விளக்கினார்.

### திசைகள் (Directions)

புவியில் திசைகளைச் சுட்டிக்காண்பிக்கும் பொழுது வடக்கு திசையை அடிப்படையாகக் கொள்ளவேண்டும். ஒருவர் வடக்கு திசையை நன்கு அறிந்திருந்தால் மற்ற திசைகளான தெற்கு, கிழக்கு, மேற்கு ஆகியனவற்றை எளிதாக அறிந்து கொள்ள இயலும். மேற்கண்ட நான்கு திசைகளும் அடிப்படை திசைகளாகும்.



சூரியன் கிழக்கில் தோன்றி, மேற்கில் மறைவதை நாம் அறிந்திருக்கின்றோம். நாம் காலையில் சூரியனை நோக்கி நின்றால், அது கிழக்கு திசையாகும். நமக்கு பின்னால் இருக்கும் திசை, மேற்கு ஆகும். இவ்வாறு நிற்கும்போது நமது இடது கை வடக்கு நோக்கியும் வலது கை தெற்கு நோக்கியும் இருக்கும் என்பதை முதலில் நாம் நினைவில் கொள்ள வேண்டும்.

### புவி மாதிரி (Globe)



சூரியக்குடும்பத்தில் உள்ள கோள்களில் சூரியனிடமிருந்து மூன்றாவதாக உள்ள கோளான புவியில் நாம் வாழ்கின்றோம். இது மிகப்பெரிய அளவில் இருப்பதாலும், இதன் மேற்பரப்பின் மிகச் சிறிய பகுதியில் நாம் வசிப்பதாலும், புவியின் உருவத்தை நம்மால் முழுமையாகப் பார்த்துணர முடியாது. அவ்வாறு பார்க்க வேண்டுமெனில், விண்வெளிக்குச் சென்று முழுமையாகப் பார்க்கலாம். எனவே, புவியை முழுமையாகப் பார்த்துணரவும், அதிலுள்ள சிறப்பம்சங்களை அறியவும் புவியைப் போன்று கற்பனையாக முப்பரிமாணத்தில், குறிப்பிட்ட அளவையில் உருவாக்கப்பட்ட தே புவி மாதிரி (Globe) ஆகும்.



புவி 510.1 மில்லியன் சதுர கிலோமீட்டர் பரப்பளவைக் கொண்டதாகும்.

புவியானது துருவப் பகுதிகளில் தட்டையாகவும், நிலநடுக்கோட்டுப் பகுதியில் சற்றுப் பருத்தும், கோள (Spherical) வடிவமாக காணப்படுகிறது. ஆனாலும் புவியின் வடிவத்தை எந்த வடிவியல் உருவத்துடனும் ஒப்பிட முடியாது. எனவே, இதன் வடிவம் புவிவடிவம் (Geoid) என்று அழைக்கப்படுகிறது.

புவி தனது அச்சில்  $23\frac{1}{2}^{\circ}$  சாய்ந்த நிலையில், மேற்கிலிருந்து கிழக்காகத் தன்னைத்தானே சுற்றிக்கொண்டு, சூரியனையும் சுற்றி வருகின்றது.

இந்தச் சாய்ந்த நிலையை அச்சாகக் கொண்டு புவிமாதிரி (Globe) அமைக்கப்பட்டுள்ளது. இந்த அச்ச ஒரு கற்பனையே, இதுபோல் உண்மையான அச்ச நமது புவியில் இல்லை.



- உலகில் முதன்முதலாக புவி மாதிரியை (Globe) கி.பி.(பொ.ஆ) 150-ஆம் ஆண்டில் கிரேக்கர்கள் உருவாக்கியுள்ளனர்.
- இந்திய வானியல் அறிஞர் முதலாம் ஆரியபட்டர் அவர்கள் எழுதிய "ஆர்யபட்ட சித்தாந்தம்" என்ற நூலில் "விண்மீன்கள் வானில் மேற்குப்புறமாக நகர்வது போன்ற தோற்றம், புவி தன்னுடைய அச்சில் தன்னைத்தானே சுற்றிக் கொள்வதால் விளைகிறது" என்று குறிப்பிட்டுள்ளார்.



## புவிமாதிரியின் மீது கோடுகள் (Lines on the Globe)

புவியில் ஓர் இடம் எங்கு அமைந்துள்ளது என்பதை மிகத் துல்லியமாக அறிந்து கொள்ளவும், தூரம், நேரம் ஆகியவைகளைக் கணக்கிடவும், புவியின் மீது கிடைமட்டமாகவும் செங்குத்தாகவும் கற்பனையாகக் கோடுகள் வரையப்பட்டுள்ளன. இவை அட்சக்கோடுகள் மற்றும் தீர்க்கக் கோடுகள் என்று அழைக்கப்படுகின்றன.



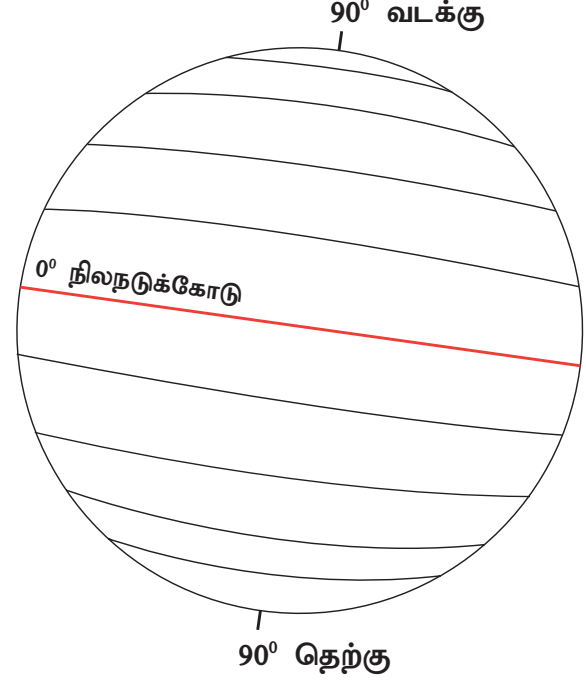
கிரேக்க ரோமானிய கணித வல்லுநர், வான் ஆய்வாளர் மற்றும் புவியியல் ஆய்வாளராகிய தாலமி (Ptolemy) என்பவர் முதன் முதலில் நில வரைபடத்தில் அட்ச தீர்க்கக் கோடுகளை வரைந்தவராவார்.

இவருடைய 'Geographia' என்ற நூலில் புவியின் அளவும், அதன் மேற்பரப்பைக் குறித்த விவரங்களும், அட்சக்கோடுகள் மற்றும் தீர்க்கக் கோடுகளின் அடிப்படையில் அமைந்த பல்வேறு இடங்களின் பட்டியலும் இடம் பெற்றுள்ளது.

## அட்சக்கோடுகள் (Latitudes)

புவியின்மீது கிழக்கிலிருந்து மேற்காக கிடைமட்டமாக வரையப்பட்டுள்ள கற்பனைக் கோடுகள், அட்சக்கோடுகள் எனப்படும்.

புவியின் மையத்தில் காணப்படும்  $0^\circ$  அட்சக்கோடு நிலநடுக்கோடு எனப்படும். இது அட்சக்கோடுகளின் தொடக்கமாகும். இக்கோட்டிலிருந்து வடக்கிலும் தெற்கிலும்  $90^\circ$  வரை இணையான கோடுகளாக சமதூர இடைவெளியில் வரையப்பட்டுள்ளன. ஒவ்வொரு அட்சக்கோட்டிற்கும் இடைப்பட்ட நிலப்பரப்பு தூரம் 111 கி.மீ. ஆகும்.



புவி கோள (Geoid) வடிவத்துடன் காணப்படுவதால்,  $90^\circ$  வடக்கு மற்றும் தெற்கு நோக்கிச் செல்லச் செல்ல அட்சக்கோடுகளின் நீளம் குறைந்துக் கொண்டே செல்கின்றது. இவை  $90^\circ$  வடக்கு  $90^\circ$  தெற்குப் பகுதியில் கோடாக இல்லாமல், புள்ளியாகக் காணப்படுகின்றன. இவை வடதுருவம் மற்றும் தென்துருவம் என அழைக்கப்படுகின்றன.

நிலக்கோட்டிலிருந்து வடதுருவம் வரை வட அரைக் கோளத்தில் கிடைமட்டமாக வரையப்பட்டுள்ள அட்சக்கோடுகள் 'வட அட்சக்கோடுகள்' (Northern Latitudes) எனவும், தென் அரைக் கோளத்தில் வரையப்பட்டுள்ள அட்சக்கோடுகள் 'தென் அட்சக்கோடுகள்' (Southern Latitudes) எனவும் அழைக்கப்படுகின்றன.

வட அரைக்கோளத்தில் 89 அட்சக்கோடுகளும் தென் அரைக்கோளத்தில் 89 அட்சக்கோடுகளும், இடையில் ஒரு நிலநடுக்கோடும், இரு துருவங்களிலும், கோடுகள் புள்ளியாகவும் என, மொத்தம் 181 அட்சக்கோடுகள் புவியில் வரையப்பட்டுள்ளன.

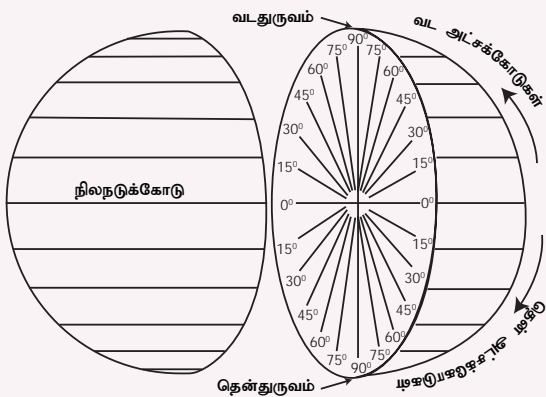


புவியின் நடுவில் வரையப் பட்டுள்ள நில நடுக்கோடு (Equator) மற்ற அட்சக் கோடுகளை விட நீளமாகக் காணப்படுகிறது. எனவே, இக்கோடு 'பெருவட்டம்' (Great Circle) என்று அழைக்கப்படுகிறது.

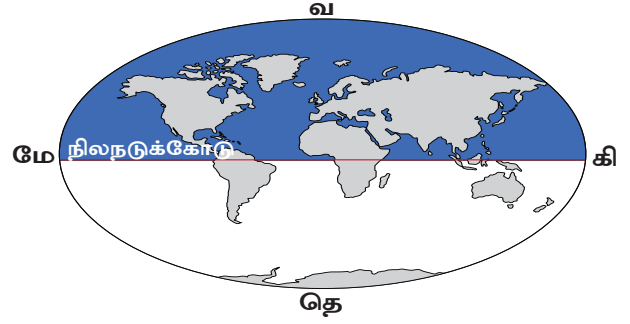
### செயல்பாடு :



ஒரு தாளில் வட்டம் ஒன்று வரைக. அதன் மையத்தில் கிடைமட்டமாக ஒரு கோடு வரைந்து, அவ்வட்டத்தினைச் சம பாகங்களாகப்பிரிக்கவும். இக்கோட்டினை  $0^\circ$  என்று கருதிக்கொண்டு பாகமானி உதவியுடன் இரு பாகங்களிலும்  $90^\circ$  வரை  $15^\circ$  இடைவெளியில் கோடுகள் வரைக. உன்னால் இப்பொழுது வரையப்பட்ட கோடுகளே அட்சக் கோடுகளாகும்.

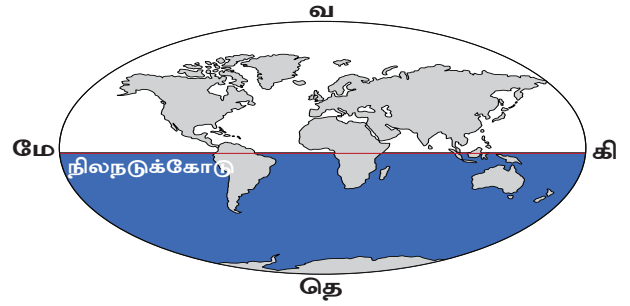


### வட அரைக்கோளம் (Northern Hemisphere)



$0^\circ$  நிலநடுக்கோட்டிலிருந்து  $90^\circ$  வடதுருவம் வரையுள்ள புவிப்பரப்பு பகுதி வட அரைக்கோளம் (Northern Hemisphere) எனப்படும்.

### தென் அரைக்கோளம் (Southern Hemisphere)



$0^\circ$  நிலநடுக்கோட்டிலிருந்து  $90^\circ$  தென் துருவம் வரையுள்ள புவிப்பரப்பு பகுதி தென் அரைக்கோளம் (Southern Hemisphere) எனப்படும்.

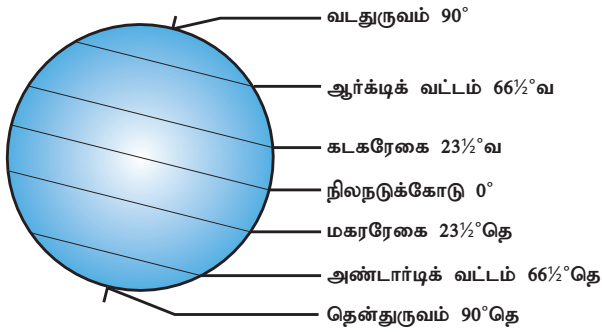
மேற்கண்ட அரைக்கோள முறை அடிப்படையிலேயே ஒரு நாடு அல்லது ஒரு இடம் எந்த அரைக்கோளத்தில் அமைந்துள்ளது என்பதை அறிகிறோம்.

### உயர் சிந்தனை வினா :

அட்சக்கோட்டின் அடிப்படையில் இந்தியா எந்த அரைக்கோளத்தில் அமைந்துள்ளது?

## முக்கிய அட்சக்கோடுகள் (Important lines of latitudes)

புவி தனது அச்சில்  $23\frac{1}{2}^\circ$  சாய்ந்த நிலையில் தன்னைத்தானே சுற்றிக் கொண்டு, சூரியனையும் சுற்றி வருகின்றது. அவ்வாறு சுற்றி வரும்போது சூரியக்கதிர்கள் புவியில் விழுகின்ற கோணத்தின் அடிப்படையில், கீழ்க்கண்ட அட்சக்கோடுகள் முக்கியத்துவம் பெறுகின்றன. அவைகள்,



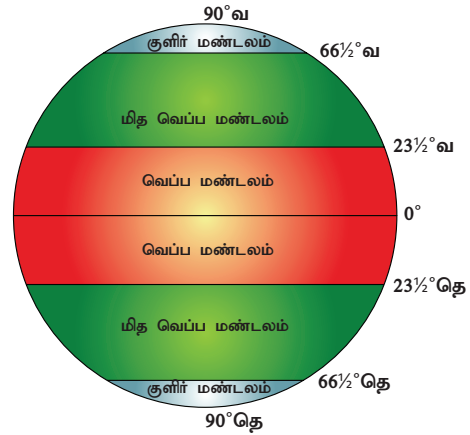
உங்களுக்கு தெரியுமா?

•  $0^\circ$  அட்சக் கோட்டிலிருந்து  $23\frac{1}{2}^\circ$  வடக்கு மற்றும் தெற்கு பகுதியில் வரையப்பட்டுள்ள அட்சக்கோடுகள் 'தாழ் அட்சக்கோடுகள்' Low Latitudes எனவும்

- $23\frac{1}{2}^\circ$  வடக்கு முதல்  $66\frac{1}{2}^\circ$  வடக்கு வரையிலும்,  $23\frac{1}{2}^\circ$  தெற்கு முதல்  $66\frac{1}{2}^\circ$  தெற்கு வரையிலும் வரையப்பட்டுள்ள அட்சக்கோடுகள் 'மத்திய அட்சக் கோடுகள்' Middle Latitudes எனவும்
- $66\frac{1}{2}^\circ$  வடக்கு முதல்  $90^\circ$  வடக்கு வரையிலும்,  $66\frac{1}{2}^\circ$  தெற்கு முதல்  $90^\circ$  தெற்கு வரையிலும் வரையப்பட்டுள்ள அட்சக் கோடுகள் 'உயர் அட்சக்கோடுகள்' High Latitudes, எனவும் அழைக்கப்படுகின்றன.

(ஆதாரம் : A Dictionary of Geography – Susan Mayhew, Oxford University Press, Fifth Edition -2015)

சூரியக்கதிர்கள் புவியின் மீது விழுகின்றபோது, கதிர்கள் அனைத்து இடங்களிலும் சமமாக விழுவதில்லை. மாறாக, நிலநடுக்கோட்டுப் பகுதியில் செங்குத்தாகவும், துருவம் நோக்கிச் செல்லச் செல்ல சாய்ந்த நிலையிலும் விழுகின்றன. இதனால், புவி முழுவதும் சீரான வெப்பநிலை காணப்படுவதில்லை. எனவே புவி சூரியனிடமிருந்து பெறுகின்ற வெப்பத்தின் அடிப்படையில் பல மண்டலங்களாக பிரிக்கப்படுகிறது. இஃது அட்சக்கோடுகளின் அடிப்படையில் பல காலநிலை மண்டலங்களாகப் பிரிக்கப்பட்டுள்ளது.



## வெப்பமண்டலம் (Torrid Zone)

நிலநடுக்கோட்டிலிருந்து ( $0^\circ$ ) வடக்கில் கடகரேகை ( $23\frac{1}{2}^\circ$  வ) வரை மற்றும் தெற்கில் மகரரேகை ( $23\frac{1}{2}^\circ$  தெ) வரை சூரியக்கதிர்கள் செங்குத்தாக விழுவதால் இப்பகுதி அதிக வெப்பமடைகிறது. இதனால் புவியின் மற்ற பகுதிகளை விட இங்கு அதிக வெப்பநிலை நிலவுகிறது. எனவே, இப்பகுதி 'வெப்பமண்டலம்' என அழைக்கப்படுகிறது.

## மிதவெப்ப மண்டலம் (Temperate Zone)

வட அரைக்கோளம் கடகரேகை ( $23\frac{1}{2}^\circ$  வ) முதல் ஆர்க்டிக் வட்டம் ( $66\frac{1}{2}^\circ$  வ) வரையிலும், தென் அரைக்கோளம் ( $23\frac{1}{2}^\circ$  தெ) மகரரேகை முதல் ( $66\frac{1}{2}^\circ$  தெ) அண்டார்டிக்

வட்டம் வரையுள்ள பகுதிகளில் சூரியக்கதிர்கள் சாய்வாக விழுவதால் இங்கு மிதமான வெப்பநிலை நிலவுகிறது. எனவே இப்பகுதி 'மித வெப்பமண்டலம்' என்று அழைக்கப்படுகிறது.

### குளிர் மண்டலம் (Frigid Zone)

வட அரைக்கோளம் ஆர்க்டிக் வட்டம் ( $66\frac{1}{2}^\circ$  வ) முதல் வடதுருவம் ( $90^\circ$  வ) வரையிலும், தென் அரைக்கோளம் அண்டார்டிக் வட்டம் ( $66\frac{1}{2}^\circ$  தெ) முதல் தென்துருவம் ( $90^\circ$  தெ) வரையுள்ள பகுதிகளில் சூரியக் கதிர்கள் ஆண்டு முழுவதும் மிகவும் சாய்ந்த நிலையில் விழுவதால், இங்கு மிக மிக குறைவான வெப்பநிலை நிலவுகிறது. எனவே இப்பகுதி "குளிர்மண்டலம்" என அழைக்கப்படுகிறது.



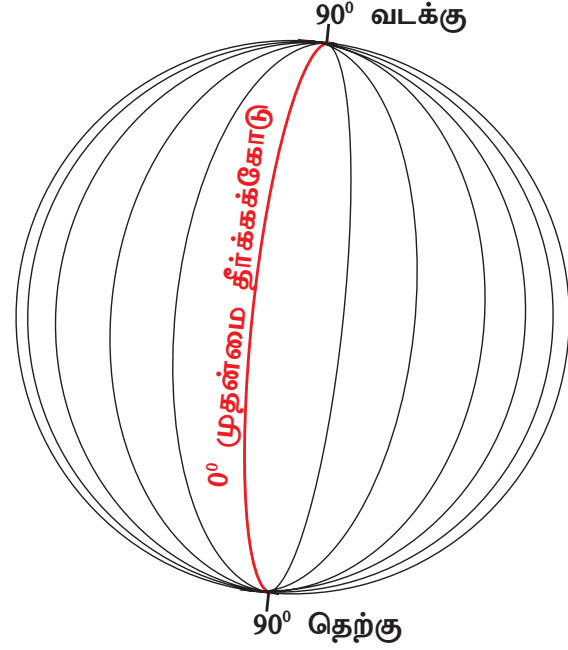
உங்களுக்கு தெரியுமா? அட்சரேகை (Latitude) - அகலாங்கு  
தீர்க்கரேகை (Longitude) - நெட்டாங்கு  
பூமத்தியரேகை (Equator) - நிலநடுவரை  
கடகரேகை (Tropic of Cancer) - கடகவரை  
மகரரேகை (Tropic of Capricorn) - மகரவரை  
எனவும் தமிழில் அழைக்கப்படுகின்றன.  
(ஆதாரம் - அறிவியல் களஞ்சியம், தமிழ்ப் பல்கலைக்கழகம்).

### தீர்க்கக்கோடுகள் (Longitudes)

புவியின் மீது வடக்கு தெற்காக, செங்குத்தாக வரையப்பட்டுள்ள கற்பனைக் கோடுகள் தீர்க்கக் கோடுகள் அல்லது மெரிடியன்கள் எனப்படும். இக்கோடுகள் வட துருவத்திலிருந்து தென் துருவம் வரை அரைவட்டக் கோடுகளாக உள்ளன.

தீர்க்கக்கோடுகளில்  $0^\circ$  தீர்க்கக்கோடு முதன்மை தீர்க்கக்கோடு (Prime Meridian) என்று அழைக்கப்படுகிறது. இங்கிருந்து கிழக்காக  $180^\circ$  வரை  $180$  கோடுகளும், மேற்காக  $180^\circ$  வரை  $180$  கோடுகளும் மொத்தம்  $360$  கோடுகள்

வரையப்பட்டுள்ளன. இக்கோடுகள் அனைத்தும் துருவப்பகுதிகளில் ஒன்றிணைகின்றன.



$0^\circ$  யிலிருந்து கிழக்காக உள்ள  $180^\circ$  தீர்க்கக்கோடும், மேற்காக உள்ள  $180^\circ$  தீர்க்கக்கோடும் வெவ்வேறான கோடுகள் அல்ல. இருகோடுகளும் ஒன்றே.

$0^\circ$  யிலிருந்து  $180^\circ$  கிழக்கு வரை வரையப்பட்டுள்ள தீர்க்கக்கோடுகள் 'கிழக்கு தீர்க்கக்கோடுகள்' (Eastern Longitudes) எனவும்  $180^\circ$  மேற்கு வரை காணப்படும் தீர்க்கக்கோடுகள் 'மேற்கு தீர்க்கக்கோடுகள்' (Western Longitudes) எனவும் அழைக்கப்படுகின்றன. அரைவட்டமாக எதிரெதிரே காணப்படும் தீர்க்கக் கோடுகள் இணையும்பொழுது ஒரு 'பெருவட்டம்' உருவாகிறது.



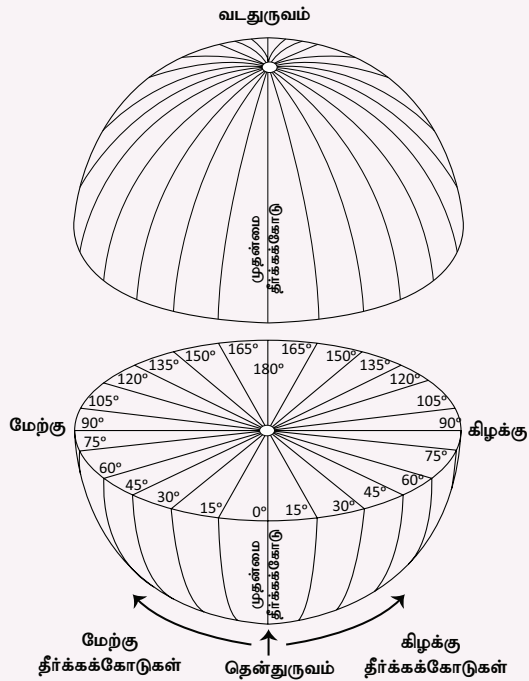
உங்களுக்கு தெரியுமா? தீர்க்கக்கோடுகள் புவியில் நிலநடுக்கோட்டுப்பகுதியில்  $111$  கி.மீ. இடைவெளியிலும்,  $45^\circ$  அட்சப்பகுதிகளில்  $79$  கி.மீ. இடைவெளியிலும், துருவப்பகுதிகளில் இடைவெளியின்றியும் காணப்படுகின்றன.



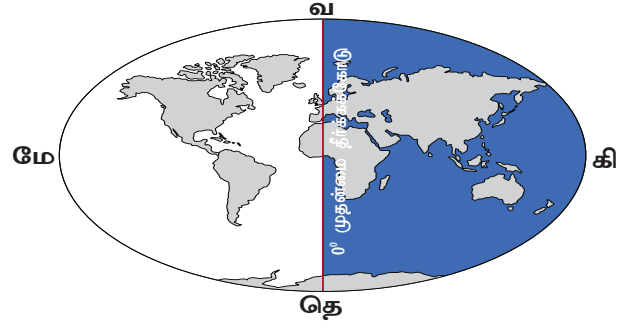
## செயல்பாடு



ஒரு பந்தினை எடுத்துக் கொள்ளவும். அப்பந்தினை ஒரு இரும்புக் கம்பியினால் ஒரு நடுமையத்திலிருந்து நேர் எதிர்மையம் வரை துளையிடவும். பின்பு கம்பியை எடுத்துவிடவும். மேல்முனையை ஒரு புள்ளியாகவும் கீழ்முனையை மறுபுள்ளியாகவும் குறிக்கவும். மேல்முனையை வடதுருவம் என்றும், கீழ்முனையை தென்துருவம் எனவும் பெயரிடுக. பின்னர் வடதுருவத்தைச் சுற்றி ஒரு வட்டமிடவும். வட்டத்தின் சுற்றளவு  $360^\circ$  ஆகும். பாகைமானி உதவியுடன்  $15^\circ$  இடைவெளியில் வடதுருவத்திலிருந்து தென்துருவத்திற்குக் கோடுகள் வரைக. இப்பொழுது நீ வரைந்த கோடுகள் தீர்க்கக் கோடுகளாகும்.

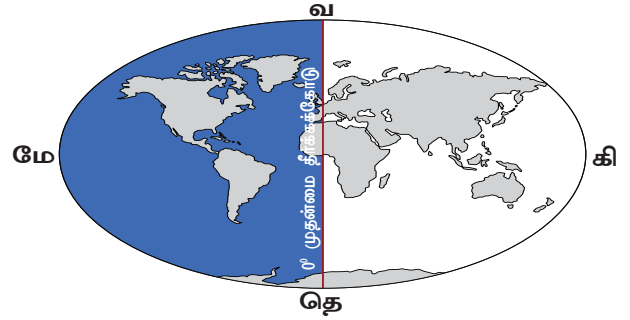


## கிழக்கு அரைக்கோளம் (Eastern Hemisphere)



$0^\circ$  தீர்க்கக்கோட்டிலிருந்து  $180^\circ$  கிழக்கு தீர்க்கக்கோடு வரை காணப்படும் புவிப்பரப்பு பகுதி 'கிழக்கு அரைக்கோளம்' என அழைக்கப்படுகிறது.

## மேற்கு அரைக்கோளம் (Western Hemisphere)

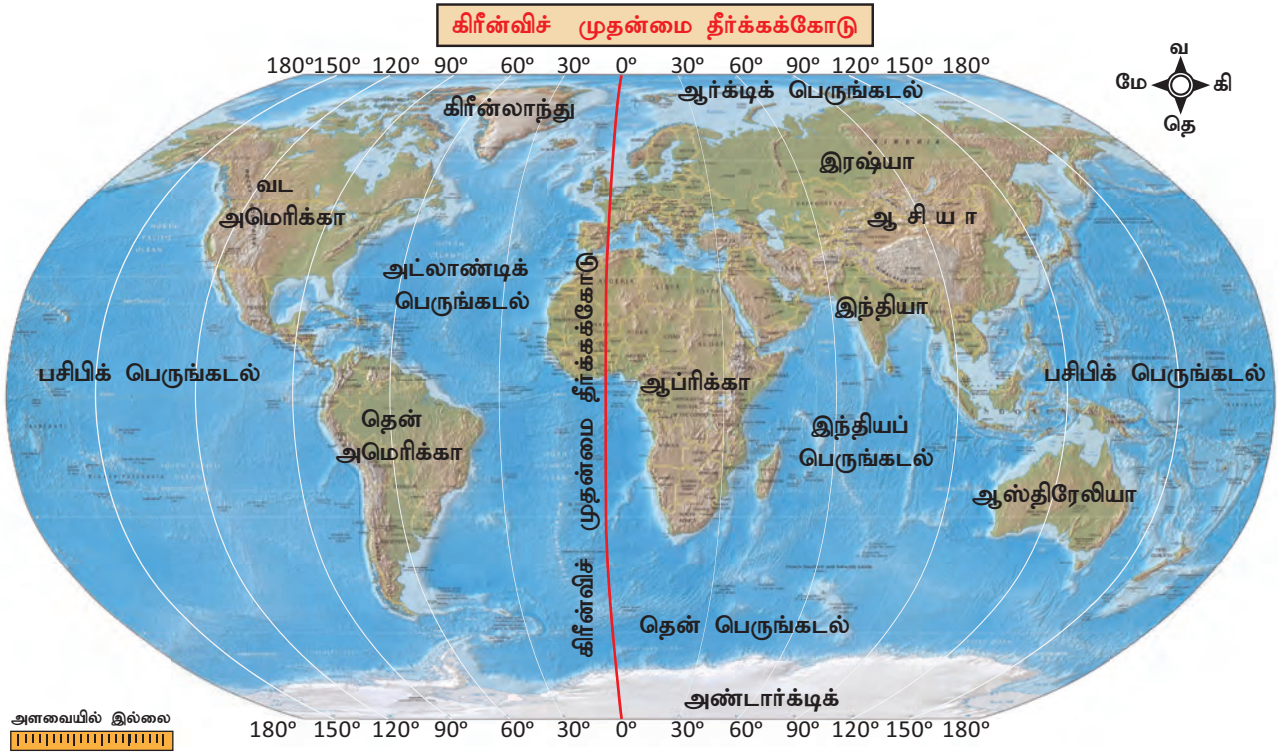


$0^\circ$  தீர்க்கக் கோட்டிலிருந்து  $180^\circ$  மேற்கு தீர்க்கக் கோடுவரை காணப்படும் புவிப்பரப்பு பகுதி 'மேற்கு அரைக்கோளம்' என அழைக்கப்படுகிறது.

## செயல்பாடு

தீர்க்கக்கோட்டின் அடிப்படையில் நாம் வாழும் இந்தியா எந்த அரைக்கோளத்தில் அமைந்துள்ளது என்பதை புவிமாதிரியில் கண்டறிந்து கூறுக.

## முக்கிய தீர்க்கக்கோடுகள் (Significant Lines of Longitude)



## கிரீன்விச் தீர்க்கக்கோடு (Greenwich Meridian)



இங்கிலாந்து நாட்டின் இலண்டனுக்கு அருகிலுள்ள கிரீன்விச் என்னுமிடத்தில் 'இராயல் வானியல் ஆய்வுமையம்' (Royal Astronomical observatory) அமைந்துள்ளது. இம்மையத்தின் வழியே செல்லும் தீர்க்கக்கோட்டினைத் தீர்க்கக்கோடுகளின் தொடக்கக்கோடாக வைத்துக் கொள்வதென, 1884ஆம் ஆண்டு அமெரிக்காவின் வாஷிங்டன் நகரில் நடந்த பன்னாட்டு கருத்தரங்கில் அனைத்து

நாடுகளும் ஒப்புக்கொண்டன. எனவே இக்கோடு  $0^\circ$  என வரையறுக்கப்பட்டது. இக்கோடு 'முதன்மை தீர்க்கக்கோடு' (Prime Meridian) எனவும், கிரீன்விச் வழியே செல்வதால் 'கிரீன்விச் தீர்க்கக்கோடு' (Greenwich Meridian) எனவும் அழைக்கப்படுகிறது.

## பன்னாட்டு தேதிக்கோடு (International Date Line)

தீர்க்கக்கோடுகளில்  $180^\circ$  தீர்க்கக்கோடானது பன்னாட்டு தேதிக்கோடாக நிர்ணயிக்கப்பட்டுள்ளது.







- 24 மணி நேரத்திற்கு =  $24 \times 60 = 1440$  நிமிடங்கள்
- புவி கோளத்தின் சுற்றளவு =  $360^\circ$
- $360^\circ = 360$  தீர்க்கக்கோடுகள்
- $360^\circ = 1440$  நிமிடங்கள்
- $1^\circ$  யின் நேரம் =  $\frac{1440}{360} = 4$  நிமிடங்கள்
- $1^\circ$  யை கடக்க புவி எடுத்துக்கொள்ளும் கால அளவு = 4 நிமிடங்கள்
- $60$  நிமிடங்கள் /  $4$  நிமிடங்கள் =  $\frac{60}{4} = 15$
- 1 மணி நேரத்தில்  $15^\circ$  தீர்க்கக்கோடுகளைப் புவி கடக்கிறது.

### தல நேரம் (Local Time)

ஒவ்வொரு தீர்க்கக்கோட்டிற்கும் நேராக சூரியன் உச்சியில் வரும் பொழுது அக்கோட்டிலுள்ள எல்லா இங்களிலும் நேரம் நண்பகல் 12 மணி, இதுவே தல நேரம் எனப்படும்.

ஒவ்வொரு தீர்க்கக்கோட்டிற்கு நேராக ஒரு நாளில் ஒருமுறைதான் சூரியன் நேர் உச்சிக்கு வரமுடியும். எனவே தலநேரம் ஒவ்வொரு தீர்க்கக்கோட்டிற்கும் மாறுபடும்.

$0^\circ$  கிரீன்விச் தீர்க்கக்கோட்டிற்குச் சூரியன் உச்சநிலையில் வரும் நண்பகல் 12 மணி இந்த இடத்திற்குத் தலநேரம் ஆகும். மேலும் பன்னாட்டுத் திட்ட நேரம் இங்கிருந்து கணக்கிடப்படுகிறது. இது GMT (Greenwich Mean Time) என அழைக்கப்படுகிறது.

எடுத்துக்காட்டாக, கிரீன்விச் தீர்க்கக்கோட்டில் நண்பகல் 12 மணி என்றால் அங்கிருந்து, கிழக்கு தீர்க்கம் 1 பாகையில் பிற்பகல் 12:04 மணி எனவும், மேற்கு தீர்க்கம் 1 பாகையில் முற்பகல் 11:56 ஆகவும் இருக்கும். எனவே எந்த

ஒரு தீர்க்கக்கோட்டிலிருந்தும் கிழக்கே செல்லச் செல்ல நேரம் கூடும், மேற்கே செல்லச் செல்ல நேரம் குறையும்.



1. மெரிடியன் (Meridian) என்ற சொல் 'மெரிடியானஸ்' (Meridianus) என்ற இலத்தீன் மொழிச் சொல்லிலிருந்து வந்ததாகும். இதற்கு நண்பகல் Midday (Medius – middle, dies = day) எனப் பொருள். எனவே Meridian என்பது சூரியன் ஓர் இடத்தின் நேர் மேலே உச்சியில் உள்ளதைக் குறிக்கிறது.
2. a.m என்பது 'anti – meridiem' (anti = before) நண்பகலுக்கு முன்னதாக எனப் பொருள்படும்.
3. p.m என்பது 'post – Meridiem' (Post = after or later) நண்பகலுக்குப் பிறகு எனப் பொருள்படும்.

### திட்டநேரம் (Standard Time)

ஒவ்வொரு தீர்க்கக்கோட்டிற்கும் நேராக சூரியன் உச்சியில் வரும்பொழுது தலநேரம் அமையும் எனக் கணக்கிட்டோம். இதன்படி ஒரு நாட்டின் வழியே பல தீர்க்கக்கோடுகள் செல்லக்கூடும். இவ்வாறு கணக்கிட்டால் ஒரு நாட்டிற்குப் பலவிதநேரம் அமைந்துவிடும். எனவே ஒரு நாட்டிற்கு ஒரே மாதிரியான நேரக்கணக்கீடு இருக்கவேண்டும் என்பதற்காகக் குறிப்பிட்ட ஒரு தீர்க்கக்கோட்டினை ஆதாரமாகக் கொண்டு பொதுவான நேரத்தை அமைத்துக்கொள்வது திட்டநேரம் எனப்படும்.

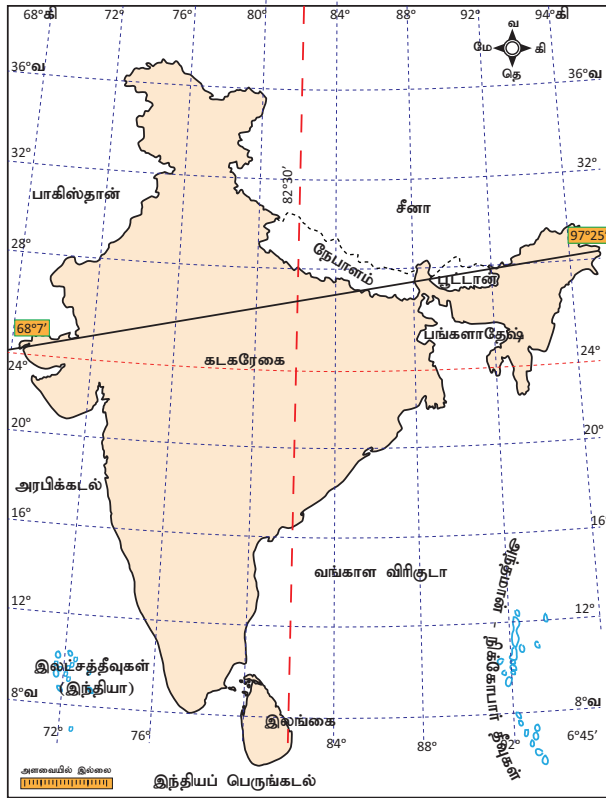
ஒரு நாட்டின் திட்டநேரத்தினைக் கணக்கிட அந்நாட்டின் வழியாகச் செல்லும் ஒரு குறிப்பிட்ட தீர்க்கக்கோடு பயன்படுத்தப்படுகிறது. இது திட்ட தீர்க்கக்கோடு (Standard Meridian) எனப்படுகிறது. இது  $15^\circ$  அல்லது  $7\frac{1}{2}^\circ$  யின் மடங்குகளாக இருக்கும் விதமாக தேர்ந்தெடுக்கப்பட்டுள்ளது.



இதற்கான காரணம், அந்நாட்டின் திட்ட நேரத்திற்கும், கிரீன்விச் திட்ட நேரத்திற்கும் உள்ள வேறுபாட்டினை ஒரு மணி நேரம் அல்லது அரை மணி நேரம் என்ற கணக்கீட்டில் அறியலாம்.

## இந்திய திட்டநேரம் (Indian Standard Time)

இந்தியாவின் தீர்க்கக் கோடுகளின் பரவல்  $68^{\circ} 7'$  கிழக்கு முதல்  $97^{\circ} 25'$  கிழக்கு வரை உள்ளது. இதனடிப்படையில், சுமார் 29 தீர்க்கக்கோடுகள் இந்தியாவின் வழியே செல்கின்றன. ஆகவே, இந்தியாவிற்கு 29 திட்டநேரங்கள் கணக்கிடுவது நடைமுறைக்கு சாத்தியமற்றது. எனவே, இந்தியாவின் மையத்தில் செல்லும்  $82\frac{1}{2}^{\circ}$  கிழக்கு தீர்க்கக்கோட்டினை ஆதாரமாகக்கொண்டு இந்திய திட்டநேரம் IST (Indian standard time) கணக்கிடப்படுகிறது.



இந்திய திட்டநேரக் கோடு

## தகவல் பேழை

இந்தியா கிடைமட்டப்பரவலில் மேற்கில் குஜராத்தில் உள்ள கௌர்மோட்டா (Ghuar Mota) என்ற இடத்திற்கும், கிழக்கில் அருணாச்சல பிரதேசத்திலுள்ள கிபித்து (Kibithu) என்ற இடத்திற்கும் சமதூர இடைவெளியில், உத்திரப்பிரதேச மாநிலம் அலகாபாத்தில் உள்ள மிர்சாபூர் (Mirzapur) என்ற இடத்தின் வழியே  $82\frac{1}{2}^{\circ}$  கிழக்கு தீர்க்கக்கோடு செல்கிறது.

## உலக நேர மண்டலம் (Time Zones)

உலகளவில் 24 நேர மண்டலங்கள் உள்ளன. சில நாடுகள் நீண்ட பரப்பளவில் காணப்படுவதால் ஒன்றுக்கும் மேற்பட்ட தல நேரங்களை கொண்டுள்ளன. உதாரணமாக ரஷ்யா நாட்டிற்கு 7 நேர மண்டலங்கள் உள்ளன.

## செயல்பாடு :

(உலக நேர மண்டல வரைபடத்தை உற்று நோக்கவும்)

1. கிரீன்விச் திட்டநேரத்திற்கும் இந்தியாவின் திட்டநேரத்திற்கும் உள்ள நேர இடைவெளி எவ்வளவு?
2. அமெரிக்காவின் நியூயார்க் நகரில் காலை 5 மணியாக இருக்கும்போது இந்தியாவின் தலைநகரமான புதுடெல்லியின் நேரம் என்ன?
3. இலண்டனில் நள்ளிரவு 12 மணியாக இருக்கும்போது, இந்தியாவில் நேரம் என்ன?
4. கிரீன்விச் திட்டநேரத்திலிருந்து ஆஸ்திரேலியாவின் சிட்னி நகர் \_\_\_\_\_ மணிநேர வித்தியாசத்தில் காணப்படுகிறது.

**உலக நேர மண்டலம்**



(+) நேரம் அதிகரிக்கிறது

(-) நேரம் குறைகிறது

5. செந்தமிழ் என்பவர் சென்னையில் இருந்து காலை 9 மணிக்கு புறப்படும் விமானத்தில் இலண்டன் நகருக்கு பயணிக்கிறார். 12 மணி நேர பயணத்திற்குப் பின் அங்குள்ள நேரப்படி, எத்தனை மணிக்கு அவர் இலண்டன் சென்றடைந்திருப்பார்?

நாம் காணும் இப் புவிமாதிரியில் அட்சக்கோடுகள் மற்றும் தீர்க்கக்கோடுகள் பற்றிப் பார்த்தோம். மேலும் இதில் நிலப்பரப்புகள், கடல்கள், பேராழிகள், நாடுகள் மற்றும் பல சிறப்பம்சங்கள் இதில் காணலாம்.

### நினைவில் நிறுத்துக

1. புவி மாதிரி மற்றும் நிலவரைபடத்தில் கிடைமட்டமாக, கிழக்கு மேற்காக வரையப்பட்டுள்ள கற்பனைக் கோடுகள் அட்சக்கோடுகள் எனப்படும்.
2. புவி மாதிரி மற்றும் நிலவரைபடத்தில் செங்குத்தாக, வடக்கு தெற்காக வரையப்பட்டுள்ள கற்பனைக் கோடுகள் தீர்க்கக்கோடுகள் எனப்படும்.
3.  $0^\circ$  அட்சக்கோடு நிலநடுக்கோடு எனப்படுகிறது.
4.  $0^\circ$  தீர்க்கக்கோடு 'கிரீன்விச் தீர்க்கக்கோடு' மற்றும் முதன்மை தீர்க்கக்கோடு (Prime Meridian) எனப்படுகிறது.
5. நிலநடுக்கோட்டிலிருந்து  $90^\circ$  வடதுருவம் வரையுள்ள பகுதி 'வடக்கு அரைக்கோளம்' (Northern Hemisphere) எனவும்,  $90^\circ$  தென்துருவம் வரையுள்ள பகுதி 'தென் அரைக்கோளம்' (Southern Hemisphere) எனவும் அழைக்கப்படுகிறது.

6.  $0^\circ$  கிரீன்விச் தீர்க்கக்கோட்டிற்கு வலப்புறம்  $180^\circ$  கிழக்கு தீர்க்கக்கோடு வரை பரவியுள்ள பகுதி 'கிழக்கு அரைக்கோளம்' (Eastern Hemisphere) எனவும், இடப்புறம்  $180^\circ$  மேற்கு தீர்க்கக்கோடு வரையுள்ள பகுதி 'மேற்கு அரைக்கோளம்' (Western Hemisphere) எனவும் அழைக்கப்படுகின்றன.

7. அட்சக்கோடுகள் வட்ட வடிவத்தில் தோராயமாக 111 கி.மீ. இடைவெளியில் வரையப்பட்டுள்ளன. துருவப்பகுதியில் இவை புள்ளியாக உள்ளன.

8. தீர்க்கக்கோடுகள் அரை வட்டக் கோடுகளாகும். நில நடுக் கோட்டுப் பகுதியில் 111 கி.மீ இடைவெளியிலும்,  $45^\circ$  அட்சப் பகுதிகளில் 79 கி.மீ இடைவெளியிலும், துருவப்பகுதியில் இடைவெளியின்றியும் வரையப்பட்டுள்ளன.

9. அட்சக்கோடுகள் இணைவதில்லை. தீர்க்கக் கோடுகள் அனைத்தும் துருவப்பகுதியில் இணையும்.

10. தீர்க்கக்கோடுகளை அடிப்படையாகக் கொண்டே நேரம் கணக்கிடப்படுகிறது.  $180^\circ$  தீர்க்கக்கோடு பன்னாட்டு தேதிக்கோடாகும்.

### கலைச் சொற்கள்

1. புவி மாதிரி – புவியைப்போன்ற கற்பனை உருவாக்கம் (Globe)
2. அட்சக்கோடு – கிடைமட்டமாக, கிழக்கு மேற்காக வரையப்பட்டுள்ள கற்பனைக்கோடு (Latitude)

3. தீர்க்கக்கோடு (Meridian) – செங்குத்தாக, வடக்கு தெற்காக வரையப்பட்டுள்ள கற்பனைக் கோடு
4. ஜியாய்டு (Geoid) – புவியின் வடிவம்
5. அரைக்கோளம் (Hemisphere) – 0° அட்ச மற்றும் தீர்க்கக் கோட்டினையும் திசையினையும் அடிப்படையாக வைத்து புவியை பாகங்களாகப் பிரித்து காட்டுவது.
6. நிலநடுக்கோடு (Equator) – புவியின் மையத்தில் கிடைமட்டமாகச் செல்லும் 0° அட்சக்கோடு.
7. கடகரேகை (Tropic of Cancer) – 23½° வட அட்சக்கோடு.
8. மகரரேகை (Tropic of Capricorn) – 23½° தென் அட்சக்கோடு
9. ஆர்க்டிக் வட்டம் (Arctic Circle) – 66½° வட அட்சக்கோடு
10. அண்டார்டிக் வட்டம் (Antarctic Circle) – 66½° தென் அட்சக்கோடு

## பயிற்சி

## I. சரியான விடையைத் தேர்ந்தெடுத்து எழுதுக



1. புவியின் வடிவம்
  - அ) சதுரம்
  - ஆ) செவ்வகம்
  - இ) ஜியாய்டு
  - ஈ) வட்டம்
2. வடதுருவம் என்பது
  - அ) 90° வ அட்சக்கோடு
  - ஆ) 90° தெ அட்சக்கோடு
  - இ) 90° மே தீர்க்கக்கோடு
  - ஈ) 90° கி தீர்க்கக்கோடு
3. 0° முதல் 180° கிழக்கு தீர்க்கக்கோடு வரை காணப்படும் புவிப் பகுதி இவ்வாறு அழைக்கப்படுகிறது.
  - அ) தெற்கு அரைக்கோளம்
  - ஆ) மேற்கு அரைக்கோளம்
  - இ) வடக்கு அரைக்கோளம்
  - ஈ) கிழக்கு அரைக்கோளம்
4. 23½° வ அட்சக்கோடு இவ்வாறு அழைக்கப்படுகிறது.
  - அ) மகரரேகை
  - ஆ) கடகரேகை
  - இ) ஆர்க்டிக் வட்டம்
  - ஈ) அண்டார்டிக் வட்டம்
5. 180° தீர்க்கக்கோடு என்பது
  - அ) நிலநடுக்கோடு
  - ஆ) பன்னாட்டு தேதிக்கோடு
  - இ) முதன்மை தீர்க்கக்கோடு
  - ஈ) வடதுருவம்



6. கிரீன்விச் முதன்மை தீர்க்கக்கோட்டிற்கு நேர் உச்சியில் சூரியன் இருக்கும்போது அவ்விடத்தின் நேரம்.

- அ) நள்ளிரவு 12 மணி  
ஆ) நண்பகல் 12 மணி  
இ) பிற்பகல் 1 மணி  
ஈ) முற்பகல் 11 மணி

7. ஒரு நாளுக்கு எத்தனை நிமிடங்கள்?

- அ) 1240 நிமிடங்கள்  
ஆ) 1340 நிமிடங்கள்  
இ) 1440 நிமிடங்கள்  
ஈ) 1140 நிமிடங்கள்

8. கீழ்க்காணும் தீர்க்கக்கோடுகளில் இந்திய திட்ட நேர தீர்க்கக்கோடாக உள்ளது எது?

- அ)  $82 \frac{1}{2}^\circ$  கிழக்கு      ஆ)  $82 \frac{1}{2}^\circ$  மேற்கு  
இ)  $81 \frac{1}{2}^\circ$  கிழக்கு      ஈ)  $81 \frac{1}{2}^\circ$  மேற்கு

9. அட்சக்கோடுகளின் மொத்த எண்ணிக்கை

- அ) 171      ஆ) 161  
இ) 181      ஈ) 191

10. தீர்க்கக்கோடுகளின் மொத்த எண்ணிக்கை

- அ) 370      ஆ) 380  
இ) 360      ஈ) 390

## II. கோடிட்ட இடங்களை நிரப்புக

1. பெருவட்டம் என அழைக்கப்படும் அட்சக்கோடு \_\_\_\_\_.
2. புவியின் மீது கிழக்கு மேற்காக, கிடைமட்டமாக வரையப்பட்டுள்ள கோடுகள் \_\_\_\_\_.

3. புவியில்  $90^\circ$  அட்சங்கள் \_\_\_\_\_ என அழைக்கப்படுகின்றன.

4. முதன்மை தீர்க்கக்கோடு \_\_\_\_\_ என அழைக்கப்படுகிறது.

5. உலகின் நேர மண்டலங்களின் எண்ணிக்கை \_\_\_\_\_.

## III. பொருந்தாததை வட்டமிடுக

- வடதுருவம், தென்துருவம், நிலநடுக்கோடு, பன்னாட்டு தேதிக்கோடு
- மகரரேகை, கடகரேகை, நிலநடுக்கோடு, முதன்மைதீர்க்கக்கோடு
- வெப்பமண்டலம், நேரமண்டலம், மிதவெப்ப மண்டலம், குளிர்மண்டலம்
- இராயல் வானியல் ஆய்வுமையம், முதன்மை தீர்க்கக்கோடு, கிரீன்விச், பன்னாட்டு தேதிக்கோடு
- $10^\circ$  வடக்கு,  $20^\circ$  தெற்கு,  $30^\circ$  வடக்கு,  $40^\circ$  மேற்கு

## IV. பொருத்துக

- $0^\circ$  அட்சக்கோடு - துருவம்
- $0^\circ$  தீர்க்கக்கோடு - பன்னாட்டு தேதிக்கோடு
- $180^\circ$  தீர்க்கக்கோடு - கிரீன்விச்
- $90^\circ$  அட்சக்கோடு - நிலநடுக்கோடு

## V. கொடுக்கப்பட்டுள்ள கூற்றுகளை ஆராய்க

- புவி கோள வடிவமாகக் காணப்படுகிறது.
- புவியின் வடிவம், ஜியாய்டு என அழைக்கப்படுகிறது.
- புவி தட்டையான வடிவத்தில் உள்ளது.

மேற்கூறிய கூற்றுக்களில் சரியானவற்றை, கீழே கொடுக்கப்பட்டுள்ள குறியீடுகளைப் பயன்படுத்திக் கண்டறிக.

- அ) 1 மற்றும் 3 சரி  
ஆ) 2 மற்றும் 3 சரி  
இ) 1 மற்றும் 2 சரி  
ஈ) 1, 2 மற்றும் 3 சரி

## VI. கொடுக்கப்பட்டுள்ள கூற்றுக்களை ஆராய்க

கூற்று 1 – புவியில், அட்சக்கோடுகள் ஒரு இடத்தின் அமைவிடத்தைக் கண்டறியவும், வெப்ப மண்டலங்களைக் கணக்கிடவும் பயன்படுகின்றன.

கூற்று 2 – புவியில் தீர்க்கக்கோடுகள், ஒரு இடத்தின் அமைவிடத்தைக் கண்டறியவும், நேரத்தைக் கணக்கிடவும் பயன்படுகின்றன.

சரியான கூற்றினைத் தேர்ந்தெடுக்கவும்.

- அ) கூற்று 1 சரி, கூற்று 2 தவறு  
ஆ) கூற்று 1 தவறு, கூற்று 2 சரி  
இ) இரண்டு கூற்றுக்களும் சரி  
ஈ) இரண்டு கூற்றுக்களும் தவறு

## VII. பெயரிடுக

1. புவியில் கிடைமட்டமாக வரையப்பட்டுள்ள கற்பனைக் கோடுகள்.
2. புவியில் செங்குத்தாக வரையப்பட்டுள்ள கற்பனைக் கோடுகள்.
3. புவியின் முப்பரிமாண மாதிரி.
4. தீர்க்கக்கோடுகளின் அடிப்படையில் இந்தியா அமைந்துள்ள அரைக்கோளம்
5. தீர்க்கக்கோடுகள் மற்றும் அட்சக்கோடுகளின் வலை அமைப்பு.

## VIII. சுருக்கமாக விடையளி

1. ஜியாய்டு என்பது என்ன?
2. தலநேரம் என்பது என்ன?
3. ஒரு நாளில் ஒரு தீர்க்க கோட்டுக்கு நேர், உச்சியில் சூரியன் எத்தனை முறை வரும்?
4. அட்சக்கோடுகள், தீர்க்கக்கோடுகள் என்பன யாவை?
5. புவியில் காணப்படும் நான்கு அரைக் கோளங்களின் பெயர்களைக் கூறுக.

## IX. காரணம் கூறுக

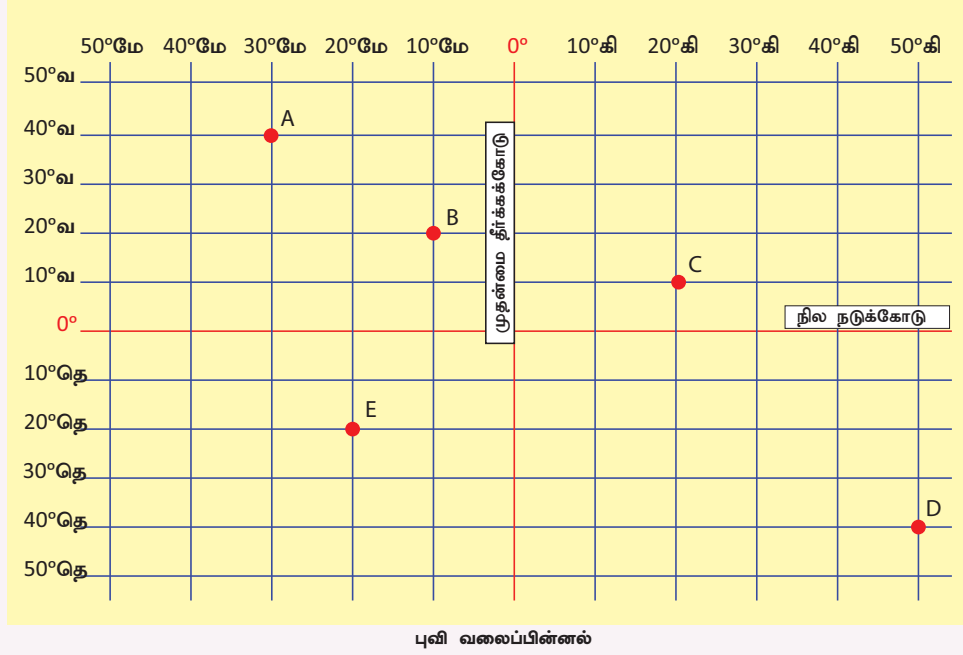
1.  $0^\circ$  தீர்க்கக்கோடு, கிரீன்விச் தீர்க்கக்கோடு என்று அழைக்கப்படுகிறது.
2. புவியின் வடக்கு மற்றும் தெற்குபகுதியில்,  $66\frac{1}{2}^\circ$  அட்சக்கோடு முதல்  $90^\circ$  துருவம் வரை உள்ள பகுதிகள் குளிர் மண்டலங்கள் என்று அழைக்கப்படுகின்றன.
3. பன்னாட்டுத் தேதிக்கோடு வளைந்து செல்கிறது.

## X. விரிவான விடைதருக

1. புவி மாதிரியின் பயன்கள் யாவை?
2. அட்ச, தீர்க்கக்கோடுகளின் அடிப்படையில் புவி எவ்வாறு அரைக்கோளங்களாக பிரிக்கப்பட்டுள்ளது என்பதைப் படத்துடன் விவரி.
3. முக்கிய அட்சக் கோடுகள் யாவை? அவற்றின் இடையே காணப்படும் மண்டலங்கள் பற்றி விளக்குக?
4. இந்தியாவின் திட்டநேரத்தைப் பற்றி விளக்குக

### செயல்பாடு :

கொடுக்கப்பட்டுள்ள வலைப்பின்னலில் (Grid) ஐந்து இடங்கள் குறிக்கப்பட்டுள்ளன. அவற்றை நீங்கள் உற்று நோக்கி கொடுக்கப்பட்டுள்ள கோடிட்ட இடங்களில் அவற்றின் அட்சதீர்க்க அளவைகளைக் குறிக்கவும்.



1. A அட்ச தீர்க்கப்பரவல் 40° வ 30° மே.
2. B தீர்க்கப்பரவல் \_\_\_\_\_
3. C தீர்க்கப்பரவல் \_\_\_\_\_
4. D தீர்க்கப்பரவல் \_\_\_\_\_
5. E தீர்க்கப்பரவல் \_\_\_\_\_



### மேற்கோள் நூல்கள்

1. Goh Cheng Leong, Certificate Physical and Human Geography (2009), Oxford University Press, New Delhi, India.
2. A Dictionary of Geography – Susan Mayhew, Oxford University Press, Fifth edition -2015.
3. அறிவியல் களஞ்சியம் (தொகுதிகள்), தஞ்சை தமிழ்ப் பல்கலைக்கழக வெளியீடு.
4. The earth shape and gravity (1965) Oxford Degman Press.
5. Strahler, Physical Geopgraphy 4th Edition (1965) New York MC Graw – Hill Book Co.



### இணையதள இணைப்புகள்

1. <https://www.britannica.com>
2. <https://www.latlong.net>



## இணையச் செயல்பாடு

### புவி மாதிரி

இச்செயல்பாட்டின் மூலம் புவி மாதிரியின் முப்பரிமாண அமைப்பை பற்றியும் உள்ளடக்குகளைப் பற்றியும் அறிய முடியும்.



#### படிநிலைகள்:

- படி -1 கொடுக்கப்பட்ட உரலியைப் பயன்படுத்தி செயல்பாட்டு தளத்திற்கு செல்லலாம்.
- படி -2 அங்கு சிவப்பு நிற "hot spot" என்ற அமைப்பை சொடுக்கி புவியில் உள்ள முக்கிய நிலத்தோற்றங்களை காண முடியும்.
- படி -3 "Core" என்ற அமைப்பை சொடுக்கி புவியின் உள்ளடக்குகளை காண முடியும்.
- படி -4 புவிக்கோளத்தை சுட்டியின் உதவியுடன் இழுப்பதன் மூலம் சுழல வைக்க முடியும்.



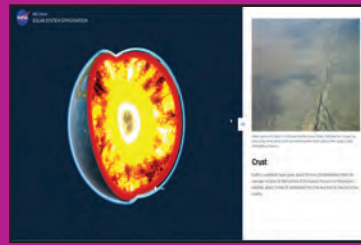
படி 1



படி 2



படி 3



படி 4

#### உரலி :

<https://solarsystem.nasa.gov/planets/earth/overview/>

\*படங்கள் அடையாளத்திற்கு மட்டுமே.

தேவையெனில் Adobe Flash யை அனுமதிக்க.



B541\_6\_SS\_TM\_T3



## அலகு 3

### பேரிடரைப் புரிந்து கொள்ளுதல்



#### கற்றல் நோக்கங்கள்

- பேரிடர் என்பதன் பொருளைப் புரிந்து கொள்ளல்
- பேரிடரின் வகைகளை அறிந்து கொள்ளல்
- ஊடகத்தில் பயன்படுத்தக்கூடிய சில முக்கியமான பேரிடர்மேலாண்மையின் கருத்துருக்களின் பயன்பாட்டினை அறிந்து கொள்ளல்
- சுனாமி மற்றும் வெள்ளம் பற்றி புரிந்து கொள்ளல்
- முன்னறிவிப்பு, அவசரக்கால நடவடிக்கைகள் மையம் மேலும் சிலவற்றைப் பற்றி புரிந்து கொள்ளல்.



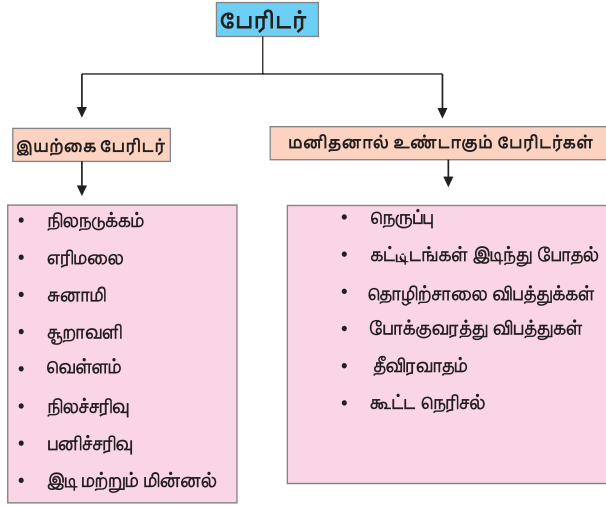
இப்பாடம் பல்வேறு இயற்கை பேரிடர்கள் மற்றும் மனிதனால் ஏற்படக்கூடிய பேரிடர்களை விளக்குகிறது. மேலும் உயிர், உடைமைகள் சேதத்தைத் தவிர்க்க எடுக்கவேண்டிய முன்னெச்சரிக்கை நடவடிக்கைகள் மற்றும் ஆயத்த செயல்பாடுகள் பற்றி விவரிக்கிறது.

மனித சமுதாயத்தில் பேரிடர் என்பது மிகவும் பொதுவான நிகழ்வாகும் நீண்ட காலமாகவே சந்தித்துக் கொண்டிருக்கும் ஒரு நிகழ்வாக பார்க்கப்படுகிறது. அந்நிகழ்வுகள் பல வடிவங்களில் இருந்தாலும் அது சமூகத்திற்கு ஒரு சவாலாகவே இருந்து வருகிறது.

பேரிடர்கள் நிகழ்வும் அதன் தீவிரமும் சமீபகாலமாக அதிகரித்திருப்பதாக உலகப் பேரிடர் அறிக்கைகள் தெரிவிக்கின்றன. உலகில் அதிகமாகப் பேரிடர்கள் நிகழக்கூடிய நாடுகளில் இந்தியாவும் ஒன்று. உலகின் மிகத் தீவிர வறட்சி, பஞ்சம், சூறாவளிகள், நிலநடுக்கம், இரசாயனப் பேரிடர்கள், ரயில் விபத்துகள் மற்றும் சாலை விபத்துகள் போன்ற பேரிடர்கள் இந்தியாவில் நிகழ்ந்துள்ளன. மக்கள்தொகை அடர்த்தி அதிகம் உள்ள வளரும் நாடுகளில், குறிப்பாகக் கடற்கரைப் பகுதிகளில் வாழும் மக்கள் இயற்கை பேரிடரால் பாதிக்கப்படுகின்றனர். அடிக்கடி நிகழும் பேரிடரான வெள்ளம், சூறாவளி மற்றும் புயல்களால் மிகவும் ஆபத்திற்கு உள்ளாகின்றன.

## பேரிடர்

ஒரு சமுதாயத்தின் செயல்பாட்டில் மனித உயிர் மற்றும் உடைமைக்கு ஆபத்தை விளைவிக்கும்படியான தொடர்ச்சியான இடையூறுகளே பேரிடர் எனப்படுகிறது. இயற்கை பேரிடர் மற்றும் மனிதனால் உண்டாகும் பேரிடர்கள் என இருபெரும் பிரிவுகளாகப் பேரிடரைப் பிரிக்கலாம்.



## இயற்கை பேரிடர்

### நிலநடுக்கம்

சிறிய கால அளவில் திடீரென்று பூமியில் ஏற்படக்கூடிய அதிர்வு நிலநடுக்கம் ஆகும். நிலநடுக்கமானது சில வினாடிகளில் இருந்து சில நிமிடங்கள் வரை நீடிக்கலாம். எந்தப் புள்ளியில் நிலநடுக்கம் தோன்றுகிறதோ இப்புள்ளி

நிலநடுக்கம் மையம் (focus) எனப்படுகிறது. நிலநடுக்க மையத்திலிருந்து செங்குத்தாகப் புவிப்பரப்பில் காணப்படும் பகுதி மையப்புள்ளி (epicenter) ஆகும்.

### எரிமலை

புவியின் உட்பகுதியிலிருந்து சிறிய திறப்பு வழியாக, லாவா சிறிய பாறைகள் மற்றும் நீராவி போன்றவை புவியின் மேற்பரப்பிற்கு உமிழப்படுவதே எரிமலை எனப்படும்.

### சுனாமி

நிலநடுக்கம், எரிமலை வெடிப்புகள் மற்றும் கடலடி நிலச்சரிவுகளால் தோற்றுவிக்கப்படும் பேரலையே சுனாமி ஆகும்.

### சூறாவளி

அதிக அழுத்தம் உள்ள காற்றால் சூழப்பட்டுள்ள குறைந்த காற்றழுத்தப் பகுதியிலிருந்து சூறாவளி உருவாகும்.

### வெள்ளம்

மழை பெய்யும் பகுதிகளில் இயல்பான அளவையும் மீறி மிக அதிக அளவில் நீர் வழிந்தோடுவது வெள்ளம் எனப்படும்.

### நிலச்சரிவு

பாறைகள், பாறைச் சிதைவுகள் மண் போன்ற பொருள்கள் சரிவை நோக்கி மொத்தமாகக் கீழே நகர்வது.





## பனிச்சரிவு

பெரும் அளவிளான பனி மற்றும் பனிப்பாறை மிக வேகமாக சரிவை நோக்கி வருவது பனிச்சரிவு ஆகும்.

## இடி மற்றும் மின்னல்

வளிமண்டல காலநிலையினால் திடீரென்று தொடர்ச்சியாக மின்சாரம் வெளிப்படும் நிகழ்வு இடி ஆகும். இதனால் திடீர் ஒளியும், அதிரும் ஒலி அலைகளும் ஏற்படுகிறது. இது மின்னல் என்றும் இடி என்றும் அழைக்கப்படுகிறது.

## மனிதனால் உண்டாகும் பேரிடர்கள்

### நெருப்பு

மனிதர்களின் கவனக்குறைவாலும், மின்னல், வறட்சி மற்றும் அதிக வெப்பத்தாலும் மேலும் பிற நடைமுறை காரணிகளாலும் மிகப் பரந்த அளவில் தீ உண்டாகிறது.

### கட்டடங்கள் இடிந்து போதல்

மனிதனின் செயல்பாடுகளால் கட்டடங்கள் இடிந்து விழுகின்றன.

### தொழிற்சாலை விபத்துக்கள்

மனிதத் தவறுகளால் தொழிற்சாலைகளில்

ஏற்படும் வேதியியல், உயிரியியல் சார்ந்த விபத்துகள் நிகழ்கின்றன. (எ.கா. போபால் விஷவாயு கசிவு)

### போக்குவரத்து விபத்துகள்

சாலைவிதிகளை மீறுவதாலும், கவனக் குறைவினாலும் சாலை விபத்துகள் ஏற்படுகின்றன.

### தீவிரவாதம்

சமூக அமைதியின்மை அல்லது கொள்கை வேறுபாடுகள் போன்றவைகள் தீவிரவாதத்திற்கு வழிவகுக்கின்றன.

### கூட்ட நெரிசல்


ஒரிடத்தில் மக்கள் அதிக எண்ணிக்கையில் கூடுவதால் ஏற்படும் நெரிசலை, கூட்ட நெரிசல் என்கிறோம். இதனால் ஏற்படும் மிதிபடுதல் மற்றும் மூச்சுத்திணறல் காரணமாக காயமடைதலும் மரணமும் ஏற்படுகின்றது.

### சுனாமி மற்றும் வெள்ளம்

தென்கிழக்கு ஆசியாவில் கி.பி.(பொ.ஆ.) 2004 டிசம்பர் 26ம் நாள் ஆழிப் பேரலை எனப்படும் சுனாமி தாக்கியது. இந்தோனேசிய தீவான சுமித்ரா தீவுக்கருகில் புவி அதிர்வு மையம் கொண்ட



நிலநடுக்கம் 9.1 முதல் 9.3 ரிக்டராகப் பதிவானது. உலகம் இதுவரை கண்டறியாத சுனாமியாக இது அமைந்தது. இதனால் ஏற்பட்ட அலைகள் 30மீட்டர் உயரம் வரை எழும்பியது. 2,00,000 க்கும் மேற்பட்ட ஆசிய மக்களைக் கொன்றது. இந்தியாவில் 10,000 மக்கள் கொல்லப்பட்டார்கள். தமிழ்நாட்டில் மட்டும் 1,705பேர் இறந்து போனார்கள். அனைத்து கடற்கரையோர மாவட்டங்களும் பாதிக்கப்பட்டன.



நாகப்பட்டினம் மாவட்டம் மிக மோசமாக பாதிக்கப்பட்டது. மீனவர்கள், சுற்றுலா பயணிகள், காலை நடைப்பயணம் செய்பவர்கள், மணலில் விளையாடிக் கொண்டிருந்த குழந்தைகள், கடற்கரையில் இருந்த மக்கள் என யாவரும் இவ்வலைகளை எதிர்கொள்ள முன்தயாரிப்பு இன்றி இருந்தனர். ஆகவே அவர்கள் அனைவரும் இறந்து விட்டனர். கடற்கரையிலிருந்து 500 மீட்டர் வரையுள்ள சொத்துக்கள் அனைத்தும் பாதிக்கப்பட்டன. இதைத் தொடர்ந்து இந்திய அரசு கி.பி.2007ம் ஆண்டு ஐதராபாத்தில் INCOIS (Indian National Centre for Ocean Information Services)

என்ற அமைப்பானது சுனாமி முன்னறிப்பு செய்வதற்காக ஏற்படுத்தப்பட்டுள்ளது.

### சுனாமியின்போது செய்யக்கூடியவை

- உனது பள்ளி, வீடு போன்றவை சுனாமி தாக்கத்திற்கு உட்பட்ட கடற்கரை பகுதியில் உள்ளதா என்பதை அறிய வேண்டும்.
- உனது தெரு கடல் மட்டத்திலிருந்து எவ்வளவு உயரத்தில் உள்ளது என்பதை அறிய வேண்டும்.
- மீட்பு வழிகளைத் திட்டமிடுதல் மற்றும் மீட்பு முறைகளைப் பயிற்சி செய்து பார்த்தல்.
- சுனாமி பற்றி உனது குடும்பத்தினருடன் கலந்துரையாடுக முன்னெச்சரிக்கை, பாதுகாப்பு முறைகளைப் பற்றி விளக்கிக்கூறுக.
- கடல்நீர் உங்களை நோக்கி முன்னேறி வரும்போது உடனடியாகக் கடற்கரை பகுதியிலிருந்து வெளியேறி உயரமான இடத்திற்குச் செல்ல வேண்டும்.
- சுனாமியை வேடிக்கை பார்க்கவோ அல்லது உலாவுவதற்கோ கடலோரப் பகுதிகளுக்குச் செல்லக்கூடாது.
- சுனாமி பற்றிய தகவல்களை நன்றாக அறிந்திருக்க வேண்டும்.

### வெள்ளப் பெருக்கு

அளவுக்கு அதிகமாக வழிந்தோடும் நீரையே வெள்ளப்பெருக்கு என்கிறோம். இஃது அவற்றின் கரைகளை அல்லது சிற்றாறுகளின் கரைகளைத் கடந்து வழிந்தோடிப் பள்ளமான பகுதிகளை மூழ்கடிக்கின்றது.

### வெள்ளப் பெருக்கின் வகைகள்

#### திடீர் வெள்ளப் பெருக்கு,

அதிக மழைப் பொழிவின் போது ஆறு மணி நேரத்திற்குள் ஏற்படும் வெள்ளப்பெருக்கு திடீர் வெள்ளப்பெருக்காகும்.

#### ஆற்று வெள்ளப்பெருக்கு

ஆற்றின் நீர்ப்பிடிப்புப் பகுதிகளில் ஏற்படும் அதிகமான மழைப் பொழிவு அல்லது பனிக்கட்டி



உருகுதல் அல்லது இரண்டும் சேர்ந்த சூழல் ஆற்று வெள்ளப்பெருக்கை ஏற்படுத்துகிறது.

### கடற்கரை வெள்ளப்பெருக்கு

சில சமயங்களில் வெள்ளப் பெருக்கானது, சூறாவளி, உயர் ஓதம் மற்றும் சுனாமி ஆகியவற்றோடு தொடர்பு படுத்தப்பட்டு கடற்கரை சமவெளிகளில் வெள்ளப் பெருக்கு ஏற்படுகிறது.

### வெள்ளப்பெருக்கிற்கான காரணங்கள்

- அடைமழை
- ஆற்றின் கரைகளை மீறி ஆறு பாய்ந்து செல்லுதல்
- ஆற்றின் நீர்ப்பிடிப்புப் பகுதிகளில் அதிகமான மழைப்பொழிவு
- போதுமான பொறியியல் தொழில் நுட்பத்துடன் வடிவமைக்கப்படாத கால்வாய்கள், நீர்த்தேக்கங்கள் மற்றும் தடுப்பணைகள்

### வெள்ளப்பெருக்கின் தாக்கம்

- கழிவுநீர் வடிகால் அமைப்பு அழிக்கப்படுதல்
- நீர் மாசுபடுதல்
- மண் அரித்தல்
- நீர் தேங்குதல்
- வேளாண்மை நிலங்கள் மற்றும் கால்நடைகள் அழிக்கப்படுதல்
- உயிர்ச் சேதங்கள் ஏற்படுதல் மற்றும் தொற்று நோய் பரவுதல்

### வெள்ளப்பெருக்கு ஏற்படுவதற்கு முன்

#### செய்ய வேண்டியவை

- குடியிருப்புப் பகுதி வெள்ளப் பாதிப்பிற்கு உட்படும் தன்மையானதா என்பதைக் கண்டறிய வேண்டும்.
- எடுத்துச் செல்லத்தக்க வானொலிப் பெட்டி, டார்ச் மற்றும் கூடுதல் பேட்டரிகள், குடிநீர், உலர் உணவு வகைகள், உப்பு மற்றும் சர்க்கரை போன்றவற்றை

வைத்திருக்க வேண்டும். விலைமதிப்பு மிக்க பொருள்கள், துணிகள், தீப்பெட்டி, பெழுகுவர்த்தி, மண்ணெண்ணெய் உள்ளிட்ட அவசியமான பொருட்களைப் பத்திரப்படுத்தி வைக்க வேண்டும்.

- குடை மற்றும் மூங்கில் கம்பு வைத்திருக்க வேண்டும்.
- முதலுதவிப் பெட்டி, மற்றும் பொருட்களைப் கட்டுவதற்குத் திடமான கயிறு ஆகியவற்றை வைத்திருக்க வேண்டும்.
- வேளாண் நிலங்கள் மற்றும் தாழ்வான பகுதிகளிலிருந்து நீர் வழிந்தோடக் கால்வாய்கள் வெட்ட வேண்டும். மணல் மூட்டைகள் வைத்திருக்க வேண்டும். மேலும் சில.

### செய்யக் கூடாதவை

- துண்டிக்கப்பட்ட மின் இணைப்பை உடனே இணைத்தல் கூடாது.
- வண்டிகளை இயக்குதல் கூடாது.
- வெள்ளத்தில் நீந்த முயற்சித்தல் கூடாது.
- வெள்ளப் பெருக்கு காலத்தில் சுற்றுப் பயணம் மேற்கொள்ளக் கூடாது.
- வெள்ளப் பெருக்கு எச்சரிக்கையை அலட்சியப்படுத்துதல் கூடாது.

### வெள்ளப் பெருக்கின் போது செய்ய

#### வேண்டியவை

- மின்சாரம் மற்றும் சமையல் எரிவாயு இணைப்பினைத் துண்டிக்க வேண்டும்.
- கழிப்பிடத் துளை மீதும், கழிவுநீர் வெளியேறும் துளை மீதும் மணல் மூட்டைகளை வைக்க வேண்டும்.
- பரிந்துரைக்கப்பட்ட அல்லது நன்கு தெரிந்த பாதையில் உடனடியாக வெளியேற வேண்டும்.

- குடிநீரைக் காய்ச்சிக் குடித்தல் வேண்டும்.
- பிளிச்சிங் பவுடர் கொண்டு சுற்றுப்புறத்தைத் தூய்மையாக வைத்திருக்க வேண்டும்.
- எரிவாயுக் கசிவு ஏதும் இல்லை என்பதை உறுதி செய்த பின்னரே, தீக்குச்சி மற்றும் மெழுகுவர்தியைப் பயன்படுத்த வேண்டும்.
- வயிற்றுப் போக்கு இருந்தால் அதிக அளவில் உணவு உண்ணக் கூடாது.
- நீரில் மிதந்து வரும் பொருட்களை எடுக்க முயற்சிக்கக்கூடாது

### நிகழாய்வு

#### சென்னை வெள்ளம் – 2015



இந்தியாவின் பெரும் நகரங்களில் ஒன்றான சென்னை இந்தியாவின் தென்கிழக்குக் கடற்கரையில் அமைந்துள்ளது. இஃது ஒவ்வோரு ஆண்டும் வடகிழக்குப் பருவக்காற்றாலும், வெப்ப மண்டல புயலாலும் பெரும் தாக்கத்திற்கு உள்ளாகின்றது. 2015 ஆம் ஆண்டு, நவம்பர் மற்றும் டிசம்பர் மாதத்தில் பெய்த பெரும் மழையினால் ஏற்பட்ட வெள்ளத்தில் சென்னை மற்றும் தமிழகத்தின் சில பகுதிகள் பேரழிவைச் சந்தித்தன. இதில் சுமார் 400க்கும் மேற்பட்டோர் உயிரிழந்தனர் பெருமளவில் பொருட்சேதமும் ஏற்பட்டது. மனித உயிர்களைக் காப்பாற்றவும் மக்களின் துயர் துடைக்கவும் மத்திய அரசு மற்றும் தமிழக அரசு ஏராளமான நடவடிக்கைகளை மேற்கொண்டன.

### பேரிடர் இடர் வாய்ப்பு குறைப்பு: (Disaster Risk Reduction)

பேரிடருக்கான பொதுவான காரணங்களைப் பகுத்தறிந்தும் அதற்கான திட்டமிட்ட முயற்சிகளைக் கையாண்டும் பேரிடர் இடர் வாய்ப்பைக் குறைக்க இயலும். பேரிடர் இடர் வாய்ப்பு குறைப்பு குறித்து மக்களிடம் விழிப்புணர்வு ஏற்படுத்த பயன்படும் நான்கு முக்கிய காரணிகளாவன: பரப்புரை செய்தல், பங்கேற்பு கற்றல், முறைசாராக் கல்வி மற்றும் பள்ளியில் முறைசார்ந்த தலையீடு ஆகியவையாகும்.

### முன்னறிவிப்பு செய்தல் மற்றும் ஆரம்ப எச்சரிக்கை: (Forecasting and Early Warning)

வானிலை முன்னறிவிப்பு, முறையான சுனாமி எச்சரிக்கை அறிவிப்பு, புயல் முன்னறிவிப்பு மற்றும் எச்சரிக்கை ஆகியவை பேரிடரின் போது இடர் வாய்ப்பு குறைப்பிற்கு மிகவும் பயனுடைய தகவல்களைத் தருகின்றன.

பள்ளி பேரிடர் மேலாண்மை குழு, கிராம பேரிடர் மேலாண்மை குழு, மாநில மற்றும் தேசிய பேரிடர் மேலாண்மை அலுவலகங்கள் ஒன்றிணைந்து பேரிடர் மீட்பு நடவடிக்கைகளை மேற்கொள்கின்றன.

செய்தித்தாள்கள், வானொலி, தொலைக்காட்சி மற்றும் சமூக வலைதளங்கள் மேம்படுத்தப்பட் தகவல்களைத் தருகின்றன. மற்றும் பாதிப்புக்குள்ளாகும் பகுதிகளைப் பற்றி எச்சரிக்கை தருகின்றன. இடர்கள், முன்னேற்பாடு நடவடிக்கைகள் மற்றும் மருந்துப் பொருள்கள் உள்ளிட்ட மீட்பு நடவடிக்கைகள் குறித்து விவரங்களைத் தருகின்றன.

## கலைச் சொற்கள்

- தணித்தல் (Mitigation) – பேரிடரின் போது ஏற்படும் இடர்களையும் அவற்றின் அளவையும் குறைத்தல் (அ) தணித்தல் என்பதாகும்.
- முன்னறிவிப்பு (Forecast) – உறுதிப்படுத்தப்பட்ட விவரங்கள் அல்லது புள்ளியியல் மதிப்பீடுகளைக் கொண்டு ஒரு குறிப்பிட்ட எதிர்காலத்தில் நடக்கப்போகும் பேரிடர்களைப் பற்றிக் கூறுவதாகும்.
- புவி அதிர்வு அளவு (Magnitude of Earth Quake) – புவி அதிர்வின் போது அளக்கப்படும் அளவு.
- தொற்று (Contagious) – நேரிடையான அல்லது மறைமுகமான தொடர்பால் ஏற்படும் நோய்.
- நீர்ப்பிடிப்பு (Catchment) – நீர் சேகரிப்பது குறிப்பாக இயற்கையாக மழைநீர் சேகரிக்கப்படும் பகுதி.

## பயிற்சி

### I. சரியான விடையைத் தேர்ந்தெடுத்து எழுதுக



1. பேரிடர் – விளக்குக.
2. பேரிடரின் வகைகள் யாவை? எடுத்துக்காட்டுத் தருக.
3. இடி, மின்னல் – குறிப்பு வரைக.
4. சென்னை, கடலூர் மற்றும் காவிரி வடிநிலப் பகுதி அடிக்கடி வெள்ளத்தால் பாதிக்கப்படுகின்றன. காரணம் கூறு.
5. நிலச்சரிவு, பனிச்சரிவு – வேறுபடுத்துக.

## II. ஒரு பத்தியில் விடையளி

1. வெள்ளம் என்றால் என்ன? வெள்ளத்தின் போது செய்யக்கூடியவை எவை?, செய்யக்கூடாதவை எவை?

## III. செயல்பாடுகள்

ஒரு காகிதத்தில் உனது கிராமம்/ நகரம் படம் வரைந்து அதில் உனது பள்ளி, வீடு, விளையாட்டுத்திடல் ஆகியவற்றைக் குறி. பிறகு ஆறுகள்/ஓடைகள்/ஏரி/சாலை போன்றவற்றைக் குறி. இப்போது கீழே கொடுக்கப்பட்டுள்ள வினாக்களுக்கு விடையளி.

1. எந்த இடம் மற்றும் சாலை வெள்ளத்தால் பாதிக்கப்பட்டது?
2. உன்னால் மீட்பு வழியைக் காணமுடியுமா?
3. நீங்கள் வெள்ளப்பாதிப்பு பகுதியில் இருக்கின்றீர்கள் என்றால் நீங்கள் மழைக்காலங்களில் எடுக்க வேண்டிய முன்னெச்சரிக்கை நடவடிக்கைகள் யாவை?
4. நெருக்கடியான காலங்களில் அவசியமான பொருள்களை எடுத்துச் செல்ல பயன்படுத்தப்படும் பைகளில் உன்னிடம் ஒரு பை உள்ளது என்றால் அதில் என்னென்ன பொருள்கள் எடுத்துச் செல்வாய்?
5. முக்கியமான அவசரக்காலத் தொடர்பு எண்களைப் பட்டியலிடுக.



## இணையச் செயல்பாடு

### பேரிடரைப் புரிந்து கொள்ளுதல்

இச்செயல்பாட்டின் மூலம் பேரிடர் மேலாண்மை நடவடிக்கைகளைப் புரிந்து கொள்ள முடியும்.



#### படிநிலைகள்:

- படி -1 கொடுக்கப்பட்ட உரலியைப் பயன்படுத்தி செயல்பாட்டு தளத்திற்கு செல்லலாம்.
- படி -2 "play" என்ற அமைப்பை சொடுக்கி விளையாடத் தொடங்கலாம்.
- படி -3 "continue" என்ற அமைப்பை சொடுக்கி அடுத்த நிலைக்குச் செல்ல முடியும்.
- படி -4 விளையாட்டில் தோன்றும் ஒவ்வொரு வீட்டின் முன்புறம் உள்ள எடை குறைவுள்ள பொருட்களை வீட்டின் உட்புறம் இழுத்து வைக்க வேண்டும்.



படி 1



படி 2



படி 3



படி 4

#### உரலி :

<http://www.viceses.com.au/stormsafe-game/>

\*படங்கள் அடையாளத்திற்கு மட்டுமே.

தேவையெனில் Adobe Flash யை அனுமதிக்க.



B541\_6\_SS\_TM\_T3





# குடிமையியல்



அலகு

1

மக்களாட்சி



கற்றல் நோக்கங்கள்

- மக்களாட்சி என்பதன் பொருளை அறிதல்
- மக்களாட்சியின் வகைகளை அறிந்து கொள்ளல்
- நம் அரசமைப்புச் சட்டத்தின் கட்டமைப்பை அறிந்து வியத்தல்
- மக்களாட்சியின் நோக்கத்தைப் புரிந்து கொள்ளல்



'குடிதழீஇக் கோலோச்சம் மாநில மன்னன்  
அடிதழீஇ நிற்கும் உலகு'

குடிமக்களை அரவணைத்து ஆட்சி நடத்தும் சிறந்த ஆட்சியாளரின் அடிச்சுவட்டை நானிலமே போற்றி நிற்கும்.

நல்லூர் அரசு உயர்நிலைப்பள்ளியில் மாதந்தோறும் நடைபெறும் 'சமூகம் அறிவோம்' நிகழ்விற்கான இறுதிக்கட்ட வேலைகளை ஆசிரியர்கள் செய்து கொண்டிருந்தனர். அங்கிருந்த சிங்காரவேலர் அரங்கம் மாணாக்கர்களால் நிரம்பியிருந்தது. தலைமையாசிரியர் ஜீவா அன்றைய சிறப்பு விருந்தினரான வழக்குரைஞர் திரு.ராஜசேகரன் அவர்களை வரவேற்று அழைத்து வந்தார். அங்கே சட்டென்று அமைதி நிலவியது.

வரலாற்று ஆசிரியர் பிரிட்டோ அனைவரையும் வரவேற்று அமர, ராஜசேகரன் மாணாக்கர்களுடன் பேச எழுந்தார்.

"அன்பான தம்பி, தங்கைகளே! இந்த நிகழ்விற்கு என்னை அழைத்தமைக்கு நன்றி. இன்றைய நிகழ்வில் நான் உரையாற்றப்போவதில்லை." என்று சொல்லி இடைவெளிவிட, எல்லோரும் அவரை வியப்புடன் பார்த்தனர்.

"எப்போதும் எங்கும் ஜனநாயகம் வேண்டும் இல்லையா? அதனால், இந்நிகழ்வில் உங்கள் எல்லோருடனும் உரையாடப்போகிறேன்." என்று கூறிவிட்டு ஒலிவாங்கி ஒன்றை மாணாக்கர்களிடம் தருமாறு கேட்டுக்கொண்டார்.

"முதலில் நான் ஒரு கேள்வி கேட்கிறேன். ஆதிமனிதன் எப்படிப்பட்ட சமூக அமைப்பில்



வாழ்ந்தான் என்று உங்களுக்குத் தெரியுமா?" என்று கேட்டார் ராஜசேகரன்.

"தொடக்கத்தில் அவர்கள் வேட்டைச் சமூகமாகவும் உணவு சேகரிப்போராகவும் வாழ்ந்தனர். பிறகு ஆற்றோரம் குடியேறி விவசாயம் செய்யத்தொடங்கினர்." என்றால் ஆறாம் வகுப்பு மாணவி தீபிகா.

"ஆமாம். மனிதர்கள் அப்படிக் குழுக்களாக வாழத்தொடங்கியதும், பழங்குடி அமைப்பு தோன்றியது. ஒவ்வொரு குழுவிற்கும் தனித்தனித் தலைவர்கள் உருவானார்கள். நிலம், நீர், வளம் இவற்றை முன்னிறுத்தி குழுக்களுக்கு இடையில் மோதல்கள் உருவாகின. அதில் வெற்றவர்கள் ஏனைய பழங்குடி இனக்குழுக்களை ஒன்றிணைத்து அரசுகளை உருவாக்கினர். இப்படிப்பட்ட சிறு அரசுகளின் ஒருங்கிணைப்பில் பேரரசுகள் உருவாகின."

"இப்போது தலைவன் என்பவன் அரசர் என்ற நிலையை அடைந்திருப்பான். இல்லையா?" என்று கேட்டான் அருண்.

"ஆம். அப்படித்தான் அரசர்களின் தலைமையில் இயங்கும் மன்னராட்சி முறை தோன்றியது."

"நமது நாட்டிலும் இப்படித்தான் மன்னராட்சி ஏற்பட்டதா?" என்று கேட்டாள் சுகன்யா.

"ஆம். உலகெங்கும் இப்படியான அமைப்பே உருவாகி நீடித்தது. அரசர்கள் மற்றும் பேரரசர்களால் ஆளப்பட்ட நமது நாடு, பின்னர் இங்கிலாந்தின் ஆட்சியதிகாரத்தின்கீழ் வந்து சேர்ந்தது."

"நாம் பல்லாண்டுகாலம் போராடி, பல்வேறு தியாகங்களுக்குப் பிறகு இங்கிலாந்தின் காலனியாதிக்கத்தில் இருந்து சுதந்திரம் பெற்றோம்." என்று ஒருமித்த குரலில் கூறினர் மாணாக்கர்கள்.

"நாடு விடுதலை அடைந்ததும், நாம் மக்களாட்சி முறையை ஏற்றுக்கொண்டோம்." என்றார் ராஜசேகரன்.

"மக்களாட்சி என்றால் என்ன?" என்று அவரிடம் கேள்வி எழுப்பினான் தேவராஜன்.

"மக்களால் மக்களுக்காக மக்களே நடத்தும் ஆட்சி மக்களாட்சி"  
— ஆப்ரகாம் லிங்கன்.





"நீங்கள் ஒரு விளையாட்டு மன்றம் ஒன்றை ஆரம்பிக்கிறீர்கள் என்றால் அதன் பொறுப்புகளை உங்களுக்குள் பிரித்துக்கொள்வீர்கள். பிறகு வரவுசெலவுகள் மற்றும் பயன்களை எல்லோரும் அனுபவிப்பீர்கள். இல்லையா?"

"ஆம்."

"அதேபோல், ஒரு நாட்டின் குடிமக்கள் தேர்தல் வழியில் தங்களது பிரதிநிதிகளைத் தேர்ந்தெடுக்கவும், அதன்மூலம் அரசு அதிகாரத்தில் நேரடியாகப் பங்கேற்பதையும் தான் மக்களாட்சி என்கிறோம். மக்களாட்சி அமைப்பில் குறிப்பிடத்தகுந்த அளவு அதிகாரம் மக்களிடம் இருக்கும். அவர்கள் நேரடியாக அரசியலில் ஈடுபடவும், அரசின் முடிவெடுக்கும் நடைமுறைகளில் பங்குபெறவும் இயலும். மக்களாட்சியில் சில வகைகள் உண்டு."



"மக்களாட்சியின் பிறப்பிடம் கிரேக்கம் ஆகும்".

Democracy என்ற ஆங்கில சொல் Demos மற்றும் Cratia என்ற இரு கிரேக்க சொற்களிலிருந்து பெறப்பட்டதாகும். Demos என்றால் மக்கள் என்றும் Cratia என்றால் அதிகாரம் அல்லது ஆட்சியைக் குறிக்கும்.

"மக்களாட்சியில் வகைகளா!"

"ஆமாம். உலகெங்கும் பல்வேறு முறைகளில் மக்களாட்சி நடைமுறைப்படுத்தப்பட்டுள்ளது. அவற்றில் நேரடி மக்களாட்சி (Direct Democracy), மறைமுக மக்களாட்சி (அல்லது) பிரதிநிதித்துவ மக்களாட்சி (Representative Democracy) ஆகிய இரண்டும் பிரபலமான முறைகள்."

"நேரடி மக்களாட்சி என்றால்?" என்று கேட்டான் சிராஜுதீன்.

"நேரடி மக்களாட்சி முறையில் மக்களே சட்டம் இயற்றும் அதிகாரம் பெற்றிருப்பார்கள். உதாரணமாக உங்களுடைய விளையாட்டு மன்றத்தை எடுத்துக்கொள்வோம். நீங்கள் எல்லோரும் ஒன்றுகூடி விவாதித்து

மன்றத்திற்கான விதிகளை உருவாக்கிவிட முடியும். மேலும் இம்முறையில் மன்றத்தின் உறுப்பினர்கள் அனைவருக்கும் பேசுவதற்கு வாய்ப்பு வழங்கப்படுவதால் அவர்கள் ஒவ்வொருவரின் பார்வையும் வெளிப்படும். ஆனால் இறுதி முடிவினை எப்படி எடுப்பீர்கள்?"



நேரடி மக்களாட்சியில் மக்களே சட்டங்களை உருவாக்குகின்றனர். அனைத்து சட்டத்திருத்தங்களையும் மக்கள்தான் அங்கீகரிப்பர். அரசியல்வாதிகள் நாடாளுமன்ற செயல்முறைகளின்படி ஆட்சி செய்வர். நேரடி மக்களாட்சியை வெற்றிகரமாக செயல்படுத்தும் வரலாற்றை சுவீட்சர்லாந்து பெற்றுள்ளது.

### உயர்சிந்தனை வினா

நேரடி மக்களாட்சி முறையை இந்தியாவில் நடைமுறைப்படுத்த இயலுமா?

"பெரும்பான்மை உறுப்பினர்கள் ஆதரிக்கும் ஒன்றை முடிவாக ஏற்றுக்கொள்வோம். எஞ்சியவர்களும் அம்முடிவிற்குக் கட்டுப்படுவார்கள்." என்றான் செல்வா.

"ஆம். இம்முறைதான் நேரடி மக்களாட்சி என்று அழைக்கப்படுகிறது." என்றார் ராஜசேகரன்.

"பிரதிநிதித்துவ மக்களாட்சி என்றால் என்ன?"

"உங்களுடைய விளையாட்டு மன்ற உறுப்பினர்கள் எண்ணிக்கை இப்போது பெருகிவிட்டது என்று வைத்துக்கொள்வோம். நூற்றுக்கணக்கான உறுப்பினர்கள் திசரசரி

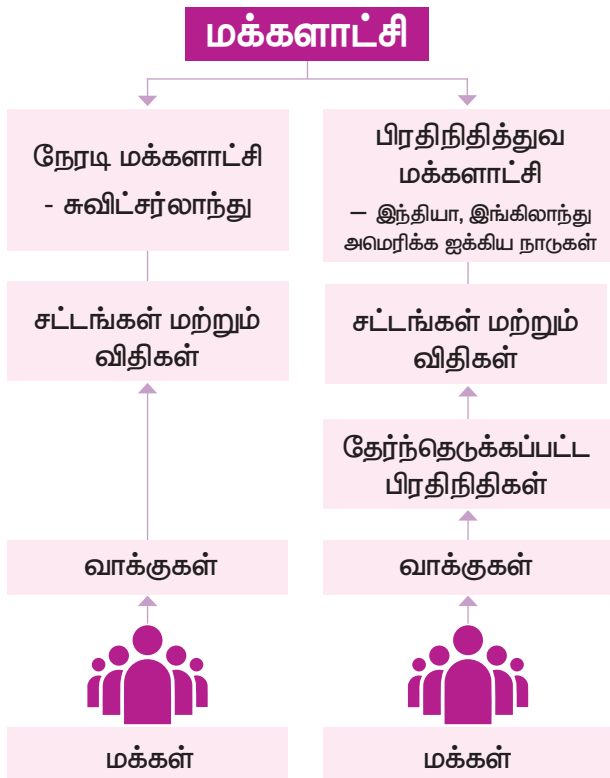


கூடி விவாதித்து முடிவுகள் எடுப்பது சாத்தியமா?"

"இல்லை."

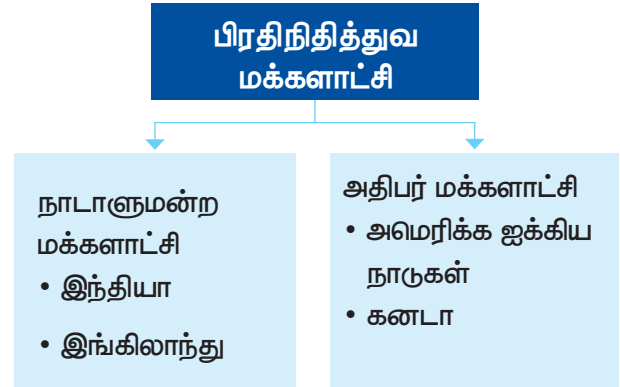
"அப்படியான சூழல் வரும்போது உறுப்பினர்கள் அனைவரையும் பிரதிநிதித்துவப்படுத்தும் வகையில் ஒரு குழு உருவாக்கப்பட வேண்டும். இல்லையா?"

"ஆமாம்." என்று ஒரே குரலில் மாணாக்கர்கள் ஆமோதித்தனர்.



"அக்குழுவின் உறுப்பினர்கள் சார்பில் மன்றத்தை நிர்வகிப்பர். அவர்களைத் தேர்ந்தெடுக்கும் விதமாக ஒட்டெடுப்பு நடைபெறும். உதாரணமாக தலைவர், செயலாளர், பொருளாளர் மற்றும் நிர்வாகக் குழு உறுப்பினர்கள் போன்ற பதவிகளுக்குப் பலரும் போட்டியிடுவர். முடிவில் பெரும்பான்மை உறுப்பினர்களின் ஆதரவினைப் பெற்றவர் அந்தந்தப் பதவிகளை அடைவார்கள். அவர்களுக்கு ஏனைய உறுப்பினர்கள் சார்பாக ஜனநாயக ரீதியாக முடிவெடுக்கும் அதிகாரம்

கிடைக்கும். இதையே பிரதிநிதித்துவ மக்களாட்சி என்று கூறுகிறோம்."



"ஜனநாயக ரீதியாக முடிவெடுப்பது (Democratic Decision making) என்றால் என்ன?" என்று கேள்வி எழுப்பினாள் ஜூடித்.

"மக்களாட்சி அமைப்புகளில் முடிவெடுக்கும் அதிகாரம் தலைவரிடம் குவிந்திருக்காது. மாறாக அவ்வகாரம் ஒரு குழுவிடம்தான் இருக்கும். சட்டதிட்டங்களுக்கும், விதிமுறைகளுக்கும் உட்பட்டு இயங்கும் அக்குழு, தொடர்புடையோர் அனைவரையும் உள்ளடக்கிய வெளிப்படையான உரையாடல்களை முன்னெடுக்கும். பின்னர் அவர்களிடையே ஒருமித்த கருத்தொற்றுமை ஏற்பட்டதும் இறுதி முடிவினை எடுக்கும். இதைத்தான் ஜனநாயக ரீதியாக முடிவெடுத்தல் என்கிறோம்."

"ஒரு குழுவிற்கான விதிகள் இருப்பதுபோல் நமது நாட்டை நிர்வகிப்பதற்கான விதிகளும் இருக்கும். இல்லையா?"



தமிழ்நாடு சட்டமன்றம்



2007ல் ஐ.நா.சபை செப்டம்பர் 15 ஆம் நாளை உலக மக்களாட்சி தினமாக அறிவித்துள்ளது.

"ஆம். இந்தியா போன்றதொரு மக்கள்தொகை மிக்க நாட்டில் அனைவரும் நிம்மதியாக வாழ வேண்டுமென்றால் மக்கள் அனைவரும் விதிகள், வழிமுறைகள், உரிமைகள் மற்றும் கடமைகளை அறிந்து பின்பற்ற வேண்டியது அவசியமாகிறது. நமது அரசமைப்புச்சட்டம் அத்தகைய வழிமுறைகளை நமக்கு வழங்கியுள்ளது. அவை நமது நாட்டின் சட்ட ஒழுங்கைக் காப்பாற்றுவதில் பெரும்பங்கு வகிக்கின்றன."

"அரசமைப்புச்சட்டம் நமக்கு என்ன மாதிரியான உரிமைகளை வழங்கியுள்ளது?"

"அது இந்தியர் ஒவ்வொருவருக்கும் சுதந்திரம், சமத்துவம் மற்றும் நீதிபெறும் உரிமையை உறுதி செய்துள்ளது."

"வேறு எவையெல்லாம் அதில் இடம்பெற்றுள்ளன?"

"அது அடிப்படை அரசியல் கொள்கைகளை வரையறுத்துள்ளதோடு, அரசு நிறுவனங்களின் வடிவமைப்பு, அவை பின்பற்றவேண்டிய வழிமுறைகள், அவற்றின் அதிகாரம் மற்றும் கடமைகளையும் விளக்குகிறது. மேலும் குடிமக்களுக்கான உரிமைகள், கடமைகள் மற்றும் வழிகாட்டு நெறிமுறைகளையும் நிர்ணயம் செய்துள்ளது. இப்படியாக அது ஒரு சிறப்பான கட்டமைப்பை நமக்கு வழங்கியுள்ளது."

"நமது அரசமைப்புச்சட்டம் இவ்வளவு விளக்கமானதா?" என்று வியப்புடன் கேட்டாள் தமிழ்ச்செல்வி.

"இந்திய அரசமைப்புச்சட்டம்தான் உலகில் எழுதப்பட்ட அரசமைப்புச் சட்டங்களிலேயே மிகப் பெரியது. இதை டாக்டர் பி. ஆர். அம்பேத்கரின்

தலைமையிலான அரசமைப்புச் சட்ட வரைவுக் குழு உருவாக்கியது. அதனால்தான் அவர் நமது அரசமைப்புச்சட்டத்தை உருவாக்கிய முதன்மை வடிவமைப்பாளராகக் கருதப்படுகிறார்." என்று முடித்தார் ராஜசேகரன்.

மாணாக்கர்கள் மகிழ்ச்சியுடன் கைதட்டி ஆரவாரித்தனர். இறுதியில் மக்களாட்சி குறித்து எளிமையாக விளக்கியமைக்கு நன்றி தெரிவித்தனர்.

### மக்களாட்சியின் நோக்கம்

மக்களால் மக்களுக்காக மக்களே நடத்தும் ஆட்சியமைப்பு மக்களாட்சி என்று அழைக்கப்படுகிறது.



மக்களாட்சி அமைப்பில் அதிகாரம் மக்களிடம் இருக்கும். அதற்கு அவர்கள் முடிவெடுக்கும் உரிமையைப் பெற வேண்டியது அவசியமாகிறது. ஒவ்வொரு தனிநபரும் முடிவெடுக்கும் வழிமுறைகளில் நேரடியாகப் பங்கேற்க இயலாது என்பதால் முடிவெடுக்கும் அதிகாரம் மக்களால் தேர்ந்தெடுக்கப்பட்ட பிரதிநிதித்துவ அரசிற்கு வழங்கப்பட்டுள்ளது. மக்களாட்சி அரசில், 18 வயது நிறைவுற்ற அனைத்துக் குடிமக்களுக்கும் தங்களுக்கான பிரதிநிதியைத் தேர்ந்தெடுக்கும் உரிமை வழங்கப்பட்டுள்ளது. அதேபோல் தேர்ந்தெடுக்கப்பட்ட ஒவ்வொரு பிரதிநிதியும் மக்கள் நலனைக் காப்பதைத் தனது கடமையாகக் கொள்ளவேண்டும்.

### உலகெங்கும் மக்களாட்சி

உலகிலேயே முதன் முதலில் பெண்களுக்கு ஓட்டுரிமை அளித்த நாடு நியூஸிலாந்து (New Zealand) ஆகும் (1893). ஐக்கிய பேரரசில் (United Kingdom) 1918ஆம் ஆண்டும், அமெரிக்க ஐக்கிய நாடுகளில் (United States of America) 1920-ஆம் ஆண்டும் தான் பெண்களுக்கு ஓட்டுரிமை வழங்கப்பட்டது. அதே காலகட்டத்தில் இந்தியாவில் பணக்காரர்களுக்கு மட்டுமே ஓட்டுரிமை வழங்கப்பட்டிருந்தது. மகாத்மா காந்தி உட்பட பல தலைவர்கள் அனைவருக்கும் ஓட்டுரிமை என்ற கோரிக்கையை வலியுறுத்தி வந்தனர். இன்று இந்தியாவில் 18 வயது

நிறைவடைந்த ஒவ்வொருவருக்கும் ஓட்டுரிமை வழங்கப்பட்டுள்ளது. (உலகளாவிய வயதுவந்தோர் உரிமைகளின்படி).



இந்தியகுடிமக்களில் 79% பேர் தங்களது நாட்டின் மக்களாட்சியின்மீது நம்பிக்கை கொண்டிருக்கிறார்கள். புள்ளிவிவரங்கள் தெரிவிக்கின்றன. இதன் காரணமாக உலக அளவிலான இப்பட்டியலில் இந்தியாவிற்கு முதலிடம் கிடைத்துள்ளது.

### உலகின் பழமையான மக்களாட்சி நாடுகள்

| வ. எண். | மக்களாட்சி நாடு           | காலம்                           | அமைவிடம்  | சிறப்புக் கூறுகள்   |
|---------|---------------------------|---------------------------------|---|---|
| 1       | கிரேக்கம்                 | கி.மு (பொ.ஆ.மு) 5ஆம் நூற்றாண்டு | கிரீஸ்  | அரசியல் தத்துவத்தின் அடித்தளம்  |
| 2       | ரோமானியப் பேரரசு          | கி.மு (பொ.ஆ.மு) 300 – 50        | தீபகற்ப இத்தாலி, ரோம்                           | நாகரிக வளர்ச்சியின் உலகளாவிய விரிவாக்கம்  |
| 3       | சான் மரினோஸ்              | கி.பி. (பொ.ஆ) 301               | இத்தாலி   | பழமையான அரசியலமைப்பு தற்போதும் நடைமுறையில் உள்ளது.                              |
| 4       | ஐஸ்லாந்து                 | கி.பி. (பொ.ஆ) 930               | திங்வேளிர்                                      | உலகிலேயே பழமையான மற்றும் நீண்ட காலமாக செயல்பட்டுவரும் நாடாளுமன்றத்தைக் கொண்டது. |
| 5       | மனிதத் தீவு (Isle of Man) | கி.பி. (பொ.ஆ) 927               | இங்கிலாந்திற்கும் அயர்லாந்திற்கும் இடையே உள்ளது | மன்னராட்சியின் கீழ் சுயாட்சி  |
| 6       | இங்கிலாந்து               | கி.பி. (பொ.ஆ) 13ஆம் நூற்றாண்டு  | இங்கிலாந்து                                     | 1215இல் எழுதப்பட்ட மகாசாசனம் (மாக்னா கார்டா)                                    |
| 7       | அமெரிக்க ஐக்கிய நாடுகள்   | கி.பி. (பொ.ஆ) 1789              | அமெரிக்க ஐக்கிய நாடுகள்                         | மிகப் பழமையான மக்களாட்சிகளுள் ஒன்று   |

### கலைச்சொற்கள்

- மக்களாட்சி - மக்களால் நடத்தப்படும் ஆட்சி  
 தேர்தல் - மக்கள் தங்கள் பிரதிநிதிகளை தேர்ந்தெடுக்கும் முறை  
 தீர்மானித்தல் - ஒருவர் மனதளவில் முடிவெடுத்தல்  
 அரசாங்கம் - ஒரு நாட்டை ஆட்சி செய்வதற்கான அதிகாரம் கொண்ட மக்கள் குழு

### மீள் பார்வை

- ❖ மக்களால் மக்களுக்காக மக்களே நடத்தும் ஆட்சி மக்களாட்சி ஆகும்.
- ❖ நேரடி மக்களாட்சி, பிரதிநிதித்துவ மக்களாட்சி என மக்களாட்சி இருவகைப்படும்.
- ❖ நம் அரசமைப்புச் சட்டம் இந்தியர் ஒவ்வொருவருக்கும் சுதந்திரம், சமத்துவம் மற்றும் நீதி பெறும் உரிமையை உறுதி செய்துள்ளது.
- ❖ இந்திய அரசமைப்புச் சட்டம்தான் உலகில் எழுதப்பட்ட அரசமைப்புச் சட்டங்களிலேயே மிகப் பெரியது.
- ❖ இந்தியாவில் 18 வயது நிரம்பிய எந்த ஒரு குடிமகனும் வாக்களிக்கலாம்.

### பயிற்சி

#### I. சரியான விடையைத் தேர்ந்தெடுத்து எழுதுக

1. ஆதிமனிதன் \_\_\_\_\_ பகுதியில் குடியேறி விவசாயம் செய்யத் தொடங்கினான்.  
 அ) சமவெளிகள் ஆ) ஆற்றோரம்  
 இ) மலைகள் ஈ) குன்றுகள்



2. மக்களாட்சியின் பிறப்பிடம் \_\_\_\_\_  
 அ) சீனா ஆ) அமெரிக்கா  
 இ) கிரேக்கம் ஈ) ரோம்
3. உலக மக்களாட்சி தினம் \_\_\_\_\_ ஆகும்.  
 அ) செப்டம்பர் 15 ஆ) அக்டோபர் 15  
 இ) நவம்பர் 15 ஈ) டிசம்பர் 15
4. நேரடி மக்களாட்சியில் வாக்களிப்பவர் \_\_\_\_\_  
 அ) ஆண்கள் ஆ) பெண்கள்  
 இ) பிரதிநிதிகள் ஈ) வாக்காளர்கள்

#### II. கோடிட்ட இடங்களை நிரப்புக

1. நேரடி மக்களாட்சியைச் செயல்படுத்தும் நாடு \_\_\_\_\_.
2. மக்களாட்சிக்கான வரையறையை வகுத்தவர் \_\_\_\_\_.
3. மக்கள் \_\_\_\_\_ அளிப்பதன் மூலம் தங்கள் பிரதிநிதிகளைத் தேர்ந்தெடுக்கின்றனர்.
4. நம் நாட்டில் \_\_\_\_\_ மக்களாட்சி செயல்படுகிறது.

#### III. விடையளிக்கவும்

1. மக்களாட்சி என்றால் என்ன?  
 2. மக்களாட்சியின் வகைகள் யாவை?  
 3. நேரடி மக்களாட்சி - வரையறு.  
 4. பிரதிநிதித்துவ மக்களாட்சி - வரையறு.  
 5. நம் அரசமைப்புச் சட்டத்தின் சிறப்புகளாக நீ புரிந்து கொள்வன யாவை?

#### IV. உயர்சிந்தனை வினா

1. நேரடி மக்களாட்சி, பிரதிநிதித்துவ மக்களாட்சி - ஒப்பீடு செய்து, வேறுபாடுகளை அறியவும்.

#### V. செயல்பாடுகள்

1. உங்கள் தொகுதி பிரதிநிதிகளின் பெயர்களைக் கேட்டறிந்து எழுதவும்.  
 அ) நாடாளுமன்ற உறுப்பினர்  
 ஆ) சட்டமன்ற உறுப்பினர்  
 இ) உள்ளாட்சி உறுப்பினர்
2. மக்களாட்சி முறையின் நிறை, குறைகளை விவாதிக்கவும்.





## இணையச் செயல்பாடு

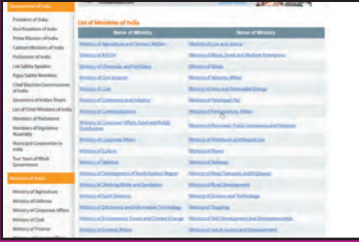
### மக்களாட்சி

இச்செயல்பாட்டின் மூலம் மக்களாட்சி பற்றியும் இந்திய அரசின் ஆட்சி அமைப்பு முறை பற்றியும் அறிய முடியும்.



#### படிநிலைகள்:

- படி -1 கொடுக்கப்பட்ட உரலியைப் பயன்படுத்தி செயல்பாட்டு தளத்திற்கு செல்லலாம்.
- படி -2 "political systems" என்ற பகுதியை சொடுக்கவும்.
- படி -3 தளத்தின் மேலே உள்ள "English" என்ற பகுதியை சொடுக்கவும்.
- படி -4 தோன்றும் இந்திய வரைபடத்தில் "Tamilnadu"-ஐ தேர்ந்தெடுத்து வரைபடத்தை காணவும்.




படி 1



படி 2



படி 3



படி 4

உரலி :

<http://www.elections.in/>

\*படங்கள் அடையாளத்திற்கு மட்டுமே.

தேவையெனில் Adobe Flash யை அனுமதிக்க.



B541\_6\_SS\_TM\_T3

## அலகு 2

### உள்ளாட்சி அமைப்பு – ஊரகமும் நகர்ப்புறமும்



#### கற்றல் நோக்கங்கள்

- ஊரக மற்றும் நகர்ப்புற உள்ளாட்சி அமைப்பு மற்றும் பணிகளை அறிதல்.
- கிராம சபையைப் பற்றியும் கிராமசபை கூட்டத்தின் நோக்கத்தையும் அறிந்துகொள்ளல்.
- பஞ்சாயத்து ராஜ் சட்டத்தின் சிறப்பம்சங்களைப் புரிந்து கொள்ளல்.
- உள்ளாட்சியில் பெண்களின் பங்கை அறிதல்.
- உள்ளாட்சி தேர்தலைப் பற்றி அறிந்து அடுத்து வரும் தேர்தலை உற்றுநோக்கல்.



நந்தினி ஆறாம் வகுப்பு படிப்பவள். அவள் வீட்டில் ஒரு வழக்கம் இருந்தது. தினமும் நாளிதழில் வரும் தலைப்புச் செய்திகளை அவள் சத்தம்போட்டு வாசித்துக்காட்டவேண்டும். அவளது அப்பா நம்புராஜனும் அம்மா மணிமேகலையும் அமர்ந்து கேட்பார்கள். இவள் ஏதாவது சந்தேகம் கேட்டால் அதற்கு விளக்கம் கொடுப்பார்கள். சில சமயம் அக்கம்பக்கத்து வீட்டு சிறுவர்களும் சேர்ந்துகொள்வார்கள். நாளிதழில் வரும் செய்தியை ஆளுக்கொன்றாய் பிரித்துக்கொண்டு படிப்பார்கள். அன்றும் அப்படித்தான், சனிக்கிழமையானதால்.. ஜான்சன், மாறன், அன்வர் என எல்லோரும் நந்தினியின் வீட்டில் குழுமி விட்டனர். நந்தினி, முதலில் நாளிதழில் இருந்து ஒரு செய்தியை வாசித்தாள்.

"ஆவடி மாநகராட்சியாக அறிவிக்கப்பட்டு உள்ளது."

அடுத்த செய்தியின் தலைப்பைப் படிக்கும் முன்னரே அவளுக்குச் சந்தேகம் வந்தது.

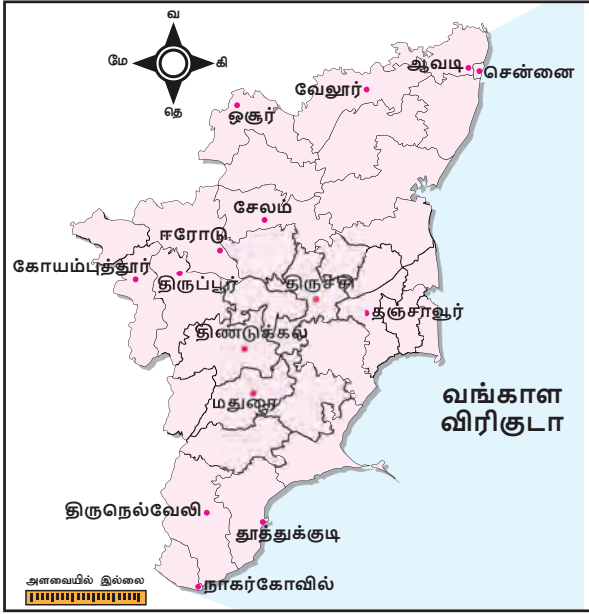
"அப்பா, மாநகராட்சின்னா என்னப்பா?"

"பத்து லட்சத்துக்கும் மேற்பட்ட மக்கள் தொகையும், அதிக வருவாயும் இருக்குற ஊர்களை மாநகராட்சியாக தமிழ்நாடு அரசு அறிவிக்கும். இப்படித்தான் இப்போ இந்தப் பட்டியலில் ஆவடியும் சேர்ந்துள்ளது." என்றார் நந்தினியின் அப்பா, நம்புராஜன்.

"அப்படின்னா! இங்கே ஏற்கனவே வேற மாநகராட்சிகள் இருக்கா?"

"ஆமாம். ஏற்கனவே 14 மாநகராட்சிகள் தமிழ்நாட்டில் இருக்கின்றன. தற்போது இந்தப் பட்டியலில் ஆவடியும் சேர்ந்துள்ளது" என்றார் நம்புராஜன்.

1. சென்னை
2. மதுரை
3. கோயம்புத்தூர்
4. திருச்சி
5. சேலம்
6. திருநெல்வேலி
7. ஈரோடு
8. தூத்துக்குடி
9. திருப்பூர்
10. வேலூர்
11. திண்டுக்கல்
12. தஞ்சாவூர்
13. நாகர்கோவில்
14. ஒசூர்
15. ஆவடி



**உங்களுக்குத் தெரியுமா?**  
1688ல் உருவாக்கப்பட்ட சென்னை மாநகராட்சிதான் இந்தியாவின் மிக பழமையான உள்ளாட்சி அமைப்பாகும்.



"அப்ப, நம்ம ஊரு..?" என்று கேட்டான் மாறன்.

"நம்ம ஊரு.. ஊராட்சியில வரும்டா..?"

"ஊராட்சின்னா..?"

"தமிழ்நாட்டுல கிராமமும் இருக்கு. நகரமும் இருக்கு இல்லையா?"

"ஆமாப்பா.."

"கிராமங்களின் தேவைகளும், நகரங்களின் தேவைகளும் மாறுபடும் அல்லவா? அப்படி இருக்கும் பகுதிகளில் மக்களின் தேவைகளைச் சரியாகப் பூர்த்தி செய்வதற்காக சில அமைப்புகளை நமது அரசமைப்பு உருவாக்கி இருக்கு.

அதன்படி, நகர்ப்புறத்தை மாநகராட்சி, நகராட்சி, பேரூராட்சி என்றும் கிராமப்புறத்தை ஊராட்சி, ஊராட்சி ஒன்றியம், மாவட்ட ஊராட்சி என்றும் பிரித்து வைத்திருக்காங்க. இவை உள்ளாட்சி அமைப்புகள் என்று அழைக்கப்படுகின்றன."

"ஓ! இவ்வளவு இருக்கா..?"

"ஆமா இருக்கு. சொல்லுகிறேன் கேட்டுக்குங்க; மாநகராட்சிப் பற்றி சொன்னேன் இல்லையா..?"

"ஆமாப்பா"

"தமிழ்நாட்டில் மாநகராட்சிக்கு அடுத்த நிலையில் ஒரு லட்சத்துக்கும் அதிகமான மக்கள் தொகையுடன், வருவாய் அதிகம் இருக்கும் ஊர்களை நகராட்சி என்று பிரித்துள்ளனர்.

**உங்களுக்குத் தெரியுமா?**  
•தமிழ்நாட்டில் முதன் முதலில் உருவாக்கப்பட்ட நகராட்சி வானாஜாபேட்டை நகராட்சி ஆகும்.



"அப்புறம் மாமா, பேரூர் ஆட்சின்னு என்னமோ சொன்னீங்களே?"

"அது பேரூர் ஆட்சி இல்லை. பேரூராட்சி அப்படின்னா.. நகரத்திற்கும், கிராமத்திற்கும் இடைப்பட்ட ஊர். சுமார் 10 ஆயிரம் பேர் வாழக்கூடிய ஊராக இருந்தால் அதுதான் பேரூராட்சி. இதுல ஒரு சிறப்பு இருக்கு.. என்னன்னு யாராச்சும் சொல்லுங்க பார்ப்போம்" என்ற நம்புராஜன் எல்லோரின் முகத்தையம் பார்த்தார். அவர்களும் அவரையே பார்த்தபடி இருந்தனர். யாருக்கும் அக்கேள்விக்கான பதில் தெரியவில்லை.

"சரி! நானே சொல்கிறேன்.

இந்தியாவிலேயே முதல் முறையாக பேரூராட்சி என்ற உள்ளாட்சி அமைப்பு தமிழ்நாட்டில் தான் அறிமுகப்படுத்தப்பட்டது"

"ஆஹா!..." என்றனர் எல்லோரும்.

மாநகராட்சிக்கு இந்திய ஆட்சிப்பணி (இ.ஆ.ப) அதிகாரி ஒருவர் ஆணையராக இருப்பார். நகராட்சிகளுக்கு அரசு அதிகாரிகள் நகராட்சி ஆணையர்களாக நியமிக்கப்படுவார்கள். பேரூராட்சியின் நிர்வாக அலுவலர் செயல் அலுவலர் (EO) ஆவார்.

"ஊராட்சி, ஊராட்சி ஒன்றியம்னு சொன்னீங்களே அப்படின்னா.."

"கிராமங்களில் செயல்படும் உள்ளாட்சி அமைப்பு கிராம ஊராட்சி ஆகும். கிராம ஊராட்சி மக்களுக்கும் அரசுக்கும் இடையே இணைப்புப் பாலமாக செயல்படுகிறது. கிராமங்கள், மக்கள் தொகைக்கு ஏற்ப பல பகுதிகளாகப் (Ward)



பிரிக்கப்படுகின்றன. இதன் பிரதிநிதிகள் மக்களால் தேர்ந்தெடுக்கப்படுகின்றனர்.

**தேர்ந்தெடுக்கப்படும் பிரதிநிதிகள்**

- ஊராட்சி மன்றத் தலைவர்
- பகுதி உறுப்பினர்கள்
- ஊராட்சி ஒன்றிய உறுப்பினர் (கவுன்சிலர்)
- மாவட்ட ஊராட்சிக் குழு உறுப்பினர்

**ஊராட்சி ஒன்றியம்**

பல கிராம ஊராட்சிகள் ஒன்றிணைந்து ஊராட்சி ஒன்றியம் அமைக்கப்படுகிறது. ஒவ்வொரு ஊராட்சியிலும் ஊராட்சி ஒன்றிய உறுப்பினர் (கவுன்சிலர்) ஒருவர் தேர்ந்தெடுக்கப்படுகிறார் அல்லவா? கவுன்சிலர்கள் தங்களில் ஒருவரை ஊராட்சி ஒன்றியத் தலைவராகத் தேர்ந்தெடுப்பர். துணைத் தலைவரும் தேர்ந்தெடுக்கப்படுகிறார், வட்டார வளர்ச்சி அலுவலர் (BDO) இதன் நிர்வாக அலுவலர் ஆவார்.

ஊராட்சி ஒன்றிய அளவில் பணிகள் மேற்கொள்ளப்படுகின்றன.



- நீலகிரி மற்றும் பெரம்பலூர் மாவட்டங்கள் ஒவ்வொன்றிலும் 4 ஊராட்சி ஒன்றியங்கள் தான் உள்ளன.

**மாவட்ட ஊராட்சி**

ஒவ்வொரு மாவட்டத்திலும் ஒரு மாவட்ட ஊராட்சி அமைக்கப்பட்டுள்ளது. 50,000 மக்கள் தொகை என்ற அடிப்படையில் மாவட்டம் பல பகுதிகளாகப் (District Panchayat ward) பிரிக்கப்படுகின்றது. பகுதி உறுப்பினர்களைக் கிராம ஊராட்சி மக்கள் தேர்தல் மூலம் தேர்ந்தெடுக்கின்றனர். மாவட்ட ஊராட்சி குழு உறுப்பினர்கள் தங்களுக்குள் ஒருவரை



மாவட்ட ஊராட்சிக் குழுத் தலைவராகத் தேர்ந்தெடுக்கின்றனர். ஊராட்சி மற்றும் ஊராட்சி ஒன்றியங்களின் வளர்ச்சித் திட்டங்களைக் கண்காணிக்கவும் மேற்பார்வையிடவும் செய்கின்றனர்.

உள்ளாட்சி அமைப்புகள் தேந்தெடுக்கப்பட்ட மக்கள் பிரதிநிதிகளால் நிர்வகிக்கப்படுகின்றன. தொகுதிகள், பகுதிகள் (wards) என அழைக்கப்படுகின்றன. பகுதி உறுப்பினர்களை மக்கள் நேரடித் தேர்தல் மூலம் தேர்ந்தெடுக்கின்றனர்.

அவ்வாறே மாநகராட்சித் தலைவரும் (மேயர்), நகராட்சித் தலைவரும் நேரடி தேர்தல் மூலம் மக்களால் தேர்வு செய்யப்படுகின்றனர். மாநகராட்சித் துணைத்தலைவரும், நகராட்சித் துணைத் தலைவரும் அந்தந்தப் பகுதி (ward) உறுப்பினர்களால் தேர்வு செய்யப்படுவார்கள்." என்று தனது நீண்ட உரையை முடித்தார் நம்புராஜன்.

"உள்ளாட்சி அமைப்புகளால் என்ன நன்மை இருக்கப்போகுது, மாமா?"

"நிறைய நன்மைகள் இருக்கே, பொதுமக்களுக்குத் தேவையான பணிகளை அவசியப்பணிகள், விருப்பப்பணிகள்னு பிரிச்சுக்கலாம். இவை உள்ளாட்சி அமைப்புகளால் வழங்கப்படுகின்றன.."

### கிராம ஊராட்சியின் பணிகள்

#### அவசியப் பணிகள்

- குடிநீர் வழங்குதல்

- தெருவிளக்கு அமைத்தல்
- தெருக்களைத் தூய்மைப்படுத்துதல்
- கழிவுநீர் கால்வாய் அமைத்தல்
- ஊர்ச்சாலைகள் அமைத்தல்
- மத்திய, மாநில அரசின் நலத்திட்டங்களைச் செயல்படுத்துதல்.

#### விருப்பப் பணிகள்

- பூங்கா அமைத்தல்
- நூலகம் அமைத்தல்
- விளையாட்டு மைதானம் அமைத்தல் இன்னும்பிற.

### மாநகராட்சியின் பணிகள்

- குடிநீர் வசதி
- தெருவிளக்கு அமைத்தல்
- தூய்மைப் பணி
- மருத்துவச் சேவை
- சாலைகள் அமைத்தல்
- மேம்பாலங்கள் அமைத்தல்
- சந்தைகளுக்கான இடவசதி
- கழிவுநீர் கால்வாய்
- திடக்கழிவு மேலாண்மை
- மாநகராட்சிப் பள்ளிகள்
- பூங்காக்கள்
- விளையாட்டு மைதானங்கள்
- பிறப்பு, இறப்பு பதிவு. இன்னும்பிற.,

"அப்ப இந்த வேலைகளை எல்லாம் யார் செய்வாங்க?"

"மன்றக்கூட்டங்களில் நிறைவேற்றப்படும் தீர்மானங்களின்படி ஆணையாளர், அல்லது அதிகாரி அந்தப் பணிகளைத் தனக்குக் கீழுள்ள

அலுவலர் மற்றும் ஊழியர்களைக் கொண்டு செயல்படுத்துகிறார். இப்படி அப்பணிகள் சிறப்பாக நடைபெற பல அடுக்குகளிலும் பணியாற்ற ஊழியர்கள் உண்டு."

"ஓ.. இந்த பணிகளைச் செய்ய நிதி அரசாங்கம் கொடுத்துடுமாப்பா.."

"நேரடியாக அரசும் அளிக்கும். அந்தந்த உள்ளாட்சி அமைப்புகளும் வரிகளாக வசூல் செய்து கொள்வார்கள்"

### கிராம ஊராட்சியின் வருவாய்

- வீட்டுவரி
- தொழில் வரி
- கடைகள் மீதான வரி
- குடிநீர் இணைப்புக்கான கட்டணம்
- நிலவரியிலிருந்து குறிப்பிட்ட பங்கு
- சொத்துரிமை மாற்றம் – குறிப்பிட்ட பங்கு
- மத்திய மாநில அரசுகளின் நிதி ஒதுக்கீடு. இன்னும்பிற.

### மாநகராட்சியின் வருவாய்

- வீட்டு வரி
- குடிநீர் வரி
- கடைகள் மீதான வரி
- தொழில் வரி
- பொழுதுபோக்கு வரி
- வாகனக் கட்டணம்
- மத்திய, மாநில அரசுகளின் நிதி ஒதுக்கீடு. இன்னும்பிற.

### செயல்பாடுகள்

- ஊரக, நகர்ப்புற வருவாய் மற்றும் பணிகளை ஒப்பிடுக.
- உன் வீட்டில் என்னென்ன வரிகள் செலுத்துகிறார்கள் எனக் கேட்டறியவும்?

"சரி, ஊர்மன்றக்கூட்டம்தான் சொன்னீங்களே அது எப்படி நடக்கும் மாமா.." என்று கேட்டான் மாறன்.

"சபைக்கூட்டம்தான்... மரத்தடியில் சுத்தி உட்கார்ந்துகொண்டு, பேசுவாங்களே. சினிமாவுல பார்த்திருக்கேன்" என்றான் ஜான்சன்.

"அப்படியில்லை! அது வேற, இது வேற. ஒவ்வொரு ஊராட்சியிலும் கிராம சபை அமைக்கப்பட்டுள்ளது. இது ஒரு நிரந்தர அமைப்பு. கிராம சபைக் கூட்டம் சிறிய கிராமங்களிலும் நடைபெறும். கிராம சபையே மக்களாட்சி அமைப்பின் ஆணிவேராகும்.



அதுல 18 வயசு நிறைவடைந்து, அந்த ஊராட்சி வாக்காளர் பட்டியலில் பெயர் உள்ளவங்க கலந்து கொள்ளலாம். இக்கூட்டம் ஆண்டுக்கு நான்கு முறை கூடும். மாவட்ட ஆட்சித்தலைவர், வட்டார வளர்ச்சி அலுவலர், ஊராட்சி மன்றத் தலைவர், துணைத் தலைவர் மற்றும் பகுதி (வார்டு) உறுப்பினர்கள் போன்றோரும் இக்கூட்டத்தில் கலந்துகொள்ளுவாங்க. அப்போது மக்கள் தங்கள் தேவைகளையும் குறைகளையும் நேரடியாகச் சொல்லலாம்."

"இக்கூட்டம் எந்தெந்த நாட்களில் கூடும்?"

"ஜனவரி 26, மே 1, ஆகஸ்டு 15, அக்டோபர் 2"

இந்நாட்களைத் தவிர தேவைக்கேற்பவும் அவசர காலங்களிலும் கிராம சபை கூடும். இவை சிறப்பு கிராம சபைக்கூட்டம் எனப்படும்.

### செயல்பாடுகள்

கிராமசபைக் கூட்டத்திற்கு மாணவர்களை அழைத்துச் சென்று பார்வையிடச் செய்யலாம்.

"உள்ளாட்சி அமைப்புகளின் அதிகாரங்களைப் பரவலாக்குவது என்ற நோக்கத்திற்காக பஞ்சாயத்து ராஜ் சட்டம் 1992ஆம் ஆண்டு ஏப்ரல் 24ஆம் தேதி கொண்டுவரப்பட்டது. இப்படியான ஓர் அமைப்பு வேண்டும் என்று இதற்கு இப்பெயர் வைத்தவர் நம்ம மகாத்மா காந்தி".



தேசிய ஊராட்சி தினம்  
ஏப்ரல் 24.

### பஞ்சாயத்து ராஜ் – சிறப்பம்சங்கள்

- கிராம சபை அமைத்தல்
- மூன்றடுக்கு ஊராட்சி அமைப்பு
- இடஒதுக்கீடு
- பஞ்சாயத்து தேர்தல்
- பதவிக்காலம்
- நிதிக் குழு
- கணக்கு மற்றும் தணிக்கை இன்னும் பிற

"ரொம்ப நன்றி மாமா. நாங்கள் நிறைய செய்திகளை இன்று தெரிந்துகொண்டோம்." என்றனர் பிள்ளைகள் கூட்டாக.

"இன்னிக்கு உங்களுக்கு இதைப் பற்றி சொல்ல முடிந்தது எனக்கும் ரொம்ப சந்தோசமாக இருக்கு.. சரி.. நாளிதழ் வாசிச்சது போதும்.

விளையாடப்போங்க.." என்று எல்லோரையும் அனுப்பி வைத்தார் நம்புராஜன்.

"ஹேய்..." என்று கத்தியவாறே அவர்களும் ஓடினார்கள்.

### அறிக

சிறப்பாகச் செயல்படும் ஊராட்சி அமைப்புகளுக்கு மத்திய அரசு விருதுகளை வழங்குகிறது. உன் ஊராட்சி அமைப்பு ஏதேனும் விருதுகளைப் பெற்றுள்ளனவா எனக் கேட்டறிக.

### உள்ளாட்சியில் பெண்களின் பங்கு

அனைத்து உள்ளாட்சி அமைப்புகளிலும் பெண்கள் பங்கேற்கும் வகையில் 33% இட ஒதுக்கீடு வழங்கப்பட்டுள்ளது. 2011 இல் நடைபெற்ற உள்ளாட்சித் தேர்தலில் பெண்கள் 38% இடங்களில் வெற்றி பெற்றனர் என்பது சிறப்பு. 2016 ஆம் ஆண்டு தமிழக அரசு பெண்களுக்கு உள்ளாட்சியில் 50% இடஒதுக்கீடு வழங்க சட்டத்திருத்தம் செய்துள்ளது.

### செயல்பாடுகள்

- தங்கள் பகுதியில் உள்ள உள்ளாட்சி உறுப்பினர்களைப் பற்றி தெரிந்துகொள்ளவும்.
- பெண் உறுப்பினர்களின் பங்கேற்பையும் அனுபவங்களையும் கேட்டு அறிக.

### உள்ளாட்சித் தேர்தல்

உள்ளாட்சி பிரதிநிதிகளின் பதவிக் காலம் 5 ஆண்டுகள். இதற்கான தேர்தல் 5 ஆண்டுகளுக்கு ஒரு முறை நடைபெறுகிறது. மாநில தேர்தல் ஆணையம் இதற்கான தேர்தலை நடத்துகிறது. ஒவ்வொரு மாநிலத்திலும் ஒரு மாநிலத் தேர்தல்



ஆணையம் உள்ளது. தமிழ்நாடு மாநில தேர்தல் ஆணையம் சென்னை கோயம்பேட்டில் உள்ளது.

**பேரிடர் காலங்கள் மற்றும் நோய்த் தொற்று காலங்களில் உள்ளாட்சி அமைப்புகள் மேற்கொண்ட பணிகள்.**



**தற்போது தமிழ்நாட்டின் உள்ளாட்சி அமைப்புகள்**

|                     |   |        |
|---------------------|---|--------|
| கிராம ஊராட்சிகள்    | - | 12,524 |
| ஊராட்சி ஒன்றியங்கள் | - | 388    |
| மாவட்ட ஊராட்சிகள்   | - | 31     |
| பேரூராட்சிகள்       | - | 528    |
| நகராட்சிகள்         | - | 121    |
| மாநகராட்சிகள்       | - | 15     |

(ஆதாரம்: தமிழ்நாடு மாநில தேர்தல் ஆணையம்.  
www.tnsec.tn.nic.in)

**சிந்திக்க**

- மேற்கண்ட இந்த எண்ணிக்கை நிலையானதா? மாறுபடக்கடியதா? சமீபத்தில் அறிவிக்கப்பட்ட மாற்றங்களைக் கேட்டறிக.
- உள்ளாட்சித் தேர்தலின் போது கிராமப்புற வாக்காளர்கள் எத்தனை வாக்குகள் அளிப்பர்? நகர்ப்புற வாக்காளர்கள் எத்தனை வாக்குகள் அளிப்பர்?



|                  |   |                    |
|------------------|---|--------------------|
| பேரூராட்சி       | - | Town Panchayat     |
| நகராட்சி         | - | Municipality       |
| மாநகராட்சி       | - | Corporation        |
| கிராம ஊராட்சி    | - | Village Panchayat  |
| ஊராட்சி ஒன்றியம் | - | Panchayat Union    |
| மாவட்ட ஊராட்சி   | - | District Panchayat |

**மீள் பார்வை**

- ❖ மக்களின் தேவைகளைப் பூர்த்தி செய்ய அமைக்கப்பட்ட அமைப்பு உள்ளாட்சி அமைப்பு ஆகும்.
- ❖ ஊராட்சி, ஊராட்சி ஒன்றியம், மாவட்ட ஊராட்சி ஆகியன ஊரக உள்ளாட்சி அமைப்புகள் ஆகும்.



- ❖ பேரூராட்சி, நகராட்சி, மாநகராட்சி ஆகியன நகர்ப்புற உள்ளாட்சி அமைப்புகள் ஆகும்.
- ❖ கிராம ஊராட்சியில் உள்ள கிராம சபை ஒரு நிரந்தர அமைப்பு ஆகும்.
- ❖ பஞ்சாயத்து ராஜ் சட்டம் உள்ளாட்சி அமைப்புகளை மேம்படுத்தியது.
- ❖ உள்ளாட்சி தேர்தல் 5 ஆண்டுகளுக்கு ஒரு முறை நடைபெறும்.

## பயிற்சி

### I. சரியான விடையைத் தேர்ந்தெடுக்கவும்.

1. பல கிராம ஊராட்சிகள் ஒன்றிணைந்து \_\_\_\_\_ அமைக்கப்படுகிறது.  
அ) ஊராட்சி ஒன்றியம்  
ஆ) மாவட்ட ஊராட்சி  
இ) வட்டம்  
ஈ) வருவாய் கிராமம்
2. தேசிய ஊராட்சி தினம் \_\_\_\_\_ ஆகும்.  
அ) ஜனவரி 24      ஆ) ஜூலை 24  
இ) நவம்பர் 24      ஈ) ஏப்ரல் 24
3. இந்தியாவின் பழமையான உள்ளாட்சி அமைப்பாக அமைக்கப்பட்ட நகரம் \_\_\_\_\_  
அ) டெல்லி      ஆ) சென்னை  
இ) கொல்கத்தா      ஈ) மும்பாய்
4. மாநகராட்சியின் தலைவர் \_\_\_\_\_ என அழைக்கப்படுகிறார்.  
அ) மேயர்      ஆ) கமிஷனர்  
இ) பெருந்தலைவர்      ஈ) தலைவர்

### II. கோடிட்ட இடங்களை நிரப்புக

1. இந்தியாவிலேயே பேரூராட்சி என்ற அமைப்பை அறிமுகப்படுத்திய மாநிலம் \_\_\_\_\_ ஆகும்.



2. பஞ்சாயத்து ராஜ் சட்டம் கொண்டுவரப்பட்ட ஆண்டு \_\_\_\_\_
3. உள்ளாட்சி பிரதிநிதிகளின் பதவிக்காலம் \_\_\_\_\_ ஆண்டுகள்.
4. தமிழ்நாட்டில் முதன் முதலாக உருவாக்கப்பட்ட நகராட்சி \_\_\_\_\_ ஆகும்.

### III. பொருத்துக

1. கிராம சபை      -      செயல் அலுவலர்
2. ஊராட்சி ஒன்றியம்      -      மாநிலத் தேர்தல் ஆணையம்
3. பேரூராட்சி      -      வட்டார வளர்ச்சி அலுவலர்
4. உள்ளாட்சித் தேர்தல்      -      நிரந்தர அமைப்பு

### IV. விடையளிக்கவும்

1. உன் மாவட்டத்தில் மாநகராட்சி இருப்பின், அதன் பெயரை எழுதவும்?
2. உள்ளாட்சி அமைப்புகளின் அவசியம் யாது?
3. ஊரக உள்ளாட்சி அமைப்புகள் யாவை?
4. நகர்ப்புற உள்ளாட்சி அமைப்புகள் யாவை?
5. கிராம ஊராட்சியில் தேர்ந்தெடுக்கப்படும் பிரதிநிதிகள் யாவர்?
6. மாநகராட்சியின் பணிகள் சிலவற்றைக் பட்டியலிடுக.
7. கிராம ஊராட்சியின் வருவாய்களைப் பட்டியலிடுக.
8. கிராம சபைக் கூட்டம் நடைபெறும் நாட்கள் யாவை? அந்நாட்களின் சிறப்புகள் யாவை?
9. பஞ்சாயத்து ராஜ் சட்டத்தின் சிறப்பம்சங்கள் யாவை?
10. கிராம சபையின் முக்கியத்துவம் யாது?

### V. உயர்சிந்தனை வினா

கிராம மற்றும் நகர மேம்பாட்டிற்கு உள்ளாட்சி அமைப்புகள் முக்கிய பங்காற்றுகின்றன. எவ்வாறு?

### VI. செயல்பாடுகள்

1. உள்ளாட்சி பிரதிநிதியை நேர்காணல் செய்வதற்காக வினா நிரல் தயாரிக்கவும்.

2. பள்ளியின் மேம்பாட்டிற்கு உள்ளாட்சி பிரதிநிதிகளின் பங்களிப்பு இருப்பின் – கலந்துரையாடுக.

3. நான் உள்ளாட்சி பிரதிநிதியானால்.....?

4. உன் மாவட்டத்தில் உள்ள பல வகையான உள்ளாட்சி அமைப்புகளின் எண்ணிக்கையைக் கேட்டறிந்து பதிவிடவும்.

| மாவட்டத்தின் பெயர் | கிராம ஊராட்சி | ஊராட்சி ஒன்றியம் | மாவட்ட ஊராட்சி | பேரூராட்சி | நகராட்சி | மாநகராட்சி |
|--------------------|---------------|------------------|----------------|------------|----------|------------|
|                    |               |                  |                |            |          |            |



## இணையச் செயல்பாடு

### உள்ளாட்சி அமைப்பு – ஊரகமும் நகர்ப்புறமும்

இச்செயல்பாட்டின் மூலம் உள்ளாட்சி பற்றியும் இந்திய அரசின் உள்ளாட்சி அமைப்பு முறை பற்றியும் அறிய முடியும்.



#### படிநிலைகள்:

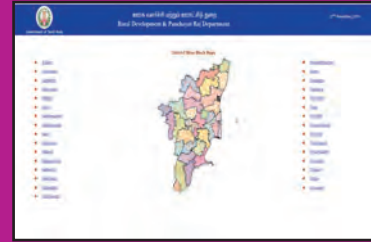
- படி -1 கொடுக்கப்பட்ட உரையைப் பயன்படுத்தி செயல்பாட்டு தளத்திற்கு செல்லலாம்.  
 படி -2 "panchayat Raj" என்ற அமைப்பை சொடுக்கி உள்ளாட்சி விதிமுறைகளை அறியமுடியும்.  
 படி -3 "Scheme" என்ற அமைப்பை சொடுக்கி மத்திய மாநில அரசுகளின் திட்டங்களை அறியமுடியும்.  
 படி -4 "map" என்ற அமைப்பை சொடுக்கி தமிழ்நாட்டிலுள்ள உள்ளாட்சி அமைப்புகளை அறிய முடியும்.



படி 1



படி 2



படி 3



படி 4

#### உரலி :

<https://www.tnrd.gov.in/index.html>

\*படங்கள் அடையாளத்திற்கு மட்டுமே.

தேவையெனில் Adobe Flash யை அனுமதிக்க.



B541\_6\_S5\_TM\_T3

# அலகு 3

## சாலை பாதுகாப்பு



### கற்றல் நோக்கங்கள்

- சாலை பாதுகாப்பின் முக்கியத்துவத்தைப் புரிந்து கொள்ளல்.
- சாலை விதிகள் மற்றும் போக்குவரத்து குறியீடுகள் குறித்து அறிந்து கொள்ளல்.
- சாலை பாதுகாப்பு நடவடிக்கைகள் மற்றும் உத்திகளை உள் வாங்கி கொள்ளுதல் மற்றும் உயிர்களின் பாதுகாப்பை உறுதிப்படுத்துதல்.



**'எச்சரிக்கையாகவும் அக்கறையாகவும் இருங்கள் விபத்துகளைக் குறைத்திருங்கள்.'**

வாகனங்களை எப்படி, எப்போது, ஏன் இயக்க அனுமதிக்கப்படுகிறீர்கள் என்பதைக் கட்டுப்படுத்தும் சட்டங்களே சாலைவிதிகள் ஆகும். சாலை பாதுகாப்புக் கல்வி குழந்தைகள் மற்றும் இளையோரின் அணுகுமுறைகள் மற்றும் அவர்களின் நடவடிக்கைகளை உருவாக்குவதில் ஒரு முக்கிய பங்காற்றுகின்றது. மேலும், அவர்களை ஒரு பொறுப்புமிக்க ஓட்டுனராகவும், பயணியாகவும் பாதுகாப்பாகவும் மிதிவண்டி ஓட்டுபவராகவும் உருவாக்குவதை உறுதி செய்கின்றது.

குழந்தைகளுடன் நாம் இருக்க இயலாத நேரங்களிலும் அவர்களைப் பாதுகாப்புடன் வைத்துக் கொள்வது என்பது ஒரு சவால் ஆகும்.

பெற்றோரும் ஆசிரியர்களும் வீடுகள் மற்றும் பள்ளிகளில் குழந்தைகளின் பாதுகாப்பை உறுதி செய்கின்றனர். ஆனால் இவர்களைச் சாலையில் பாதுகாப்பது யார்? எனவே சாலை பாதுகாப்பு குறித்து குழந்தைகளுக்குக் கல்வி புகட்டுவது மிகவும் முக்கியமானதாகும். குழந்தைகளுக்கான சாலை பாதுகாப்புக் கல்வியினை அவர்கள் வீட்டை விட்டு வெளியே தனியாகச் செல்லத் துவங்கும் வயதிலேயே ஆரம்பிப்பது சிறந்ததாகும்.



**கட்டாயக் குறியீடுகள், எச்சரிக்கைக் குறியீடுகள் மற்றும் அறிவுறுத்தும் குறியீடுகள் என்று மூன்று வகையான போக்குவரத்து குறியீடுகள் உள்ளன.**

- I. கட்டாயக் குறியீடுகள்: நாம் சாலைகளில் செய்ய வேண்டிய மற்றும் செய்யக்கூடாதவைகள் பற்றிய விதிகளாகும். இவை கட்டாயம் கடைப்பிடிக்க வேண்டியவை. இந்த குறியீடுகள் வட்ட வடிவில் காணப்படுகின்றன.



செல்லக்கூடாது



ஒருவழிப்பாதை



வலப் பக்கம்



இடப் பக்கம்



U திருப்பம்

திரும்பக் கூடாது

திரும்பக் கூடாது.

கிடையாது

- II. எச்சரிக்கைக் குறியீடுகள்: சாலைகளின் சூழ்நிலைகள் குறித்த எச்சரிக்கைகளைச் சாலை பயன்பாட்டாளர்களுக்கு அறிவிப்பவை எச்சரிக்கைக் குறியீடுகள் ஆகும். இவை பொதுவாக முக்கோண வடிவத்தில் காணப்படுகின்றன.



குறுகிய பாலம்



குறுக்கு சாலை



பள்ளி



இடப் பக்க

வளைவு



ஆட்கள் வேலை

செய்கிறார்கள்

- III. அறிவுறுத்தும் குறியீடுகள்: திசைகள் மற்றும் சேர வேண்டிய இடங்கள் குறித்த தகவல்களை அறிவுறுத்துவதாக அமைகின்றன. இவை பொதுவாக செவ்வக வடிவத்தில் காணப்படுகின்றன.

எரிபொருள்  
நிலையம்

மருத்துவமனை



உணவருந்தும்

இடம்



வாகன நிறுத்தம்



தொடர்வண்டி

நிலையம்

|  |   |
|--|---|
|  | <p>நீல நிற வட்டங்கள் நேர்மறை அறிவுறுத்தல்களாக சாலைகளில் என்ன செய்ய வேண்டும் என்பதை விளக்குகின்றன.</p>                         |
|  | <p>சிவப்பு வளையங்கள் அல்லது வட்டங்கள் சாலைகளில் நாம் என்ன செய்யக்கூடாது என்பவற்றை எதிர்மறை அறிவுறுத்தல்களாக வழங்குகின்றன.</p> |

## சாலை பாதுகாப்பு விளக்குகளைத் தெரிந்துகொள்ளுங்கள்

சாலை பாதுகாப்பு விளக்குகளில் இருக்கும் சிவப்பு, மஞ்சள் மற்றும் பச்சை நிறங்கள் எவற்றைக் குறிக்கின்றன?



### சிவப்பு – நில்

நிறுத்தக் கோட்டிற்கு முன் காத்திருக்கவும்

- நிறுத்தக்கோடு இல்லாத இடங்களில் சாலை போக்குவரத்து விளக்கு தெளிவாக தெரியும்படி சாலையில் நிற்கவும்.
- பச்சை நிற விளக்கு ஒளிரும் வரை காத்திருக்கவும்.
- சிவப்பு விளக்கு ஒளிரும் நேரத்தில் தடைசெய்யும் குறியீடுகள் இல்லாத போது இடப் பக்கம் திரும்பிச் செல்லலாம். ஆனால் பாதசாரிகளுக்கும், பிற போக்குவரத்திற்கும் முக்கியத்துவம் வழங்கப்படவேண்டும்.

### மஞ்சள் – கவனி

- நிறுத்தக் கோட்டைத் தாண்டிய பிறகு நிறுத்துவதால் விபத்து ஏற்படும் என்று எண்ணினால் மஞ்சள் விளக்கு ஒளிரும்போது தொடர்ந்து பயணத்தை மேற்கொள்ளலாம். எனினும் அதிக கவனத்துடன் செயல்படவும்.

### பச்சை – செல்

- பாதை தடையற்று இருப்பதை உறுதி செய்து கொண்டு பயணத்தைத் தொடரலாம்.
- தடை செய்யும் குறியீடுகள் இல்லாதபோது நீங்கள் வலப் பக்கமாகவோ அல்லது

இடப் பக்கமாகவோ திரும்பிச் செல்லலாம். ஆனாலும் மிகுந்த கவனத்துடன் இருந்து, பாதையைக் கடக்கும் பாதசாரிகளுக்கு முக்கியத்துவம் தர வேண்டும்.

- பச்சை நிற அம்புக் குறி அது காட்டும் திசை நோக்கிப் பயணிக்கலாம் என்பதைக் குறிக்கிறது.

## குறுக்கு சாலைகள் மற்றும் பாதசாரிகள் கடக்கும் இடங்கள்

குழந்தைகள் தாங்கள் விரும்பிய இடங்களில், சாலைகளின் குறுக்கில் ஓடிகளிக்கும் தன்மையுடையவர்கள். சாலைகளிலோ சாலைகளின் குறுக்கிலோ ஓடுதல் கூடாது எனும் உணர்வை குழந்தைகளுக்கு ஏற்படுத்த வேண்டும். குழந்தைகள் விரைவில் திசை திரும்பப்பட்டு, பெற்றோர் கைகளை உதறி விட்டு சாலைகளின் குறுக்கே ஓடிவிடக்கூடிய தன்மையுடையவர்கள்.



### பாதசாரிகள் கடக்கும் இடம்

பாதசாரிகளுக்கு என்று சாலையில் கடக்கும் பகுதி 1934 ஆம் ஆண்டு பிரிட்டனில் அமைக்கப்பட்டது. சாலைகள் புள்ளிகளால் ஆன கோடுகளால் குறிக்கப்பட்டன. நடைபாதைகளில் பெலிஷா பேக்கன் என்று அழைக்கப்பட்ட ஒளிக்கம்பங்கள் அமைக்கப்பட்டன. இது பிரிட்டனின் போக்குவரத்துத்துறை அமைச்சர் எல். ஹோரி பெலிஷா அவர்களின் பெயரில் அமைக்கப்பட்டது. ஜீப்ரா கிராசிங் எனப்படும் கருப்பு வெள்ளைகளால் ஆன பட்டைகள், கருப்பு வெள்ளைக் கோடுகளாக மாற்றமடைந்தன. இரண்டாம் உலகப்போருக்குப்பின் தான் ஜீப்ரா கிராசிங் உருவாக்கப்பட்டன.

சாலை குறியீடுகள், அடையாளங்கள், போக்குவரத்து குறியீடுகள் மற்றும் பிற போக்குவரத்து சாதனங்கள் ஆகியவை சாலை பயன்பாட்டாளர்களுக்கு வழிகாட்டியாய் விளங்குவதால் இவை சாலைகளின் மொழியாகக் கருதப்படுகின்றன. சாலை பயன்பாட்டாளர்களான பாதசாரிகள், இருசக்கர வாகன ஓட்டுநர், நான்கு சக்கர வாகன ஓட்டுநர் ஆகிய யாவரும் போக்குவரத்து கட்டுப்பாட்டுச் சாதனங்கள் குறித்தும் அவற்றின் முக்கியத்துவம் குறித்தும் தெரிந்திருத்தல் அவசியமாகும். சாலை குறியீடுகள் போக்குவரத்தை ஒழுங்கு படுத்தவும் ஆபத்துகள் குறித்து எச்சரிக்கவும் சாலை பயன்பாட்டாளர்களுக்கு வழிகாட்டியாய் விளங்குகின்றன.

### நடைபாதையை எப்போதும் பயன்படுத்தவும்

சாலைகளில் நடக்கும்போது நடைபாதையைப் பயன்படுத்த குழந்தைகளுக்கு கற்றுத்தர வேண்டும்.



பாதசாரிகள்

### பாதசாரிகள் செய்யவேண்டியன

- நடைபாதை இருக்கும் இடங்களில் சாலைகளின் இரு பக்கங்களிலும் நடக்கலாம்.
- நடைபாதைகள் இல்லாத சாலைகளில் எதிர் வரும் வாகனங்களை நோக்கி வலப் பக்க ஓரத்தில் நடக்க வேண்டும்.

- ஜீப்ரா கிராஸிங்குகள், பாதசாரிகளுக்கான மேம்பாலங்கள் மற்றும் சுரங்க வழி பாதைகளைப் பயன்படுத்த வேண்டும்.
- இவ்வசதிகள் இல்லாத பகுதிகளில் சாலையைக் கடக்கும் போது மிகுந்த கவனத்துடன் செயல்பட வேண்டும்.



- 8 வயதிற்குட்பட்ட குழந்தைகள் பெரியவர்கள் துணையோடு சாலைகளைக் கடக்க வேண்டும்.
- பாதுகாப்பான தூரத்தில் வாகனங்கள் வரும்போது சாலையைக் கடக்க வேண்டும்.
- இரவு நேரங்களில் வெளிர் நிற ஆடைகளை அணிய வேண்டும்.

### செய்யக்கூடாதவை

- சாலைகளை ஓடி கடக்கக் கூடாது.
- நிறுத்திவைக்கப்பட்டுள்ள வாகனங்களுக்கு முன்புறத்திலோ அல்லது வாகனங்களுக்கு இடையிலோ சாலையைக் கடக்கக் கூடாது.
- வாகன ஓட்டுநருக்குத் தெளிவாக தெரியாத மூலைகளிலிருந்தும் வளைவுகளில் இருந்தும் சாலையைக் கடக்கக் கூடாது.
- சாலை தடுப்புகளைத் தாண்டிக் குதித்துச் சாலையைக் கடக்கக் கூடாது.



## பாதுகாப்பான மிதிவண்டி பயணம்

பெரும்பாலும் பள்ளிக்குழந்தைகள் மிதிவண்டிகளில் பள்ளிக்குச் செல்கின்றனர். எனவே சாலை விதிகள் மற்றும் சாலை பாதுகாப்பு குறித்து மாணவர்கள் அறிந்திருத்தல் அவசியம். மேலும் அவர்களது மிதிவண்டிகளைச் சரியான முறையில் பராமரித்தல் வேண்டும்.



## செய்ய வேண்டியவை

- மிதிவண்டிகளில் தரமான உதிரிபாகங்களைப் பொருத்துதல் வேண்டும். உதாரணமாக மணி, பிரேக் கட்டைகள், கண்ணாடி, முன் மற்றும் பின் மட்கார்டுகள் வெள்ளை நிறம் பூசப்பட்டு இருக்க வேண்டும். பிரதிபலிக்கும் பட்டைகள் மிதிவண்டியின் முன்புறமும் பின்புறமும் ஒட்ட வேண்டும்.
- சாலையின் இடப் பக்க ஓரத்தில் செல்லவும் அல்லது சேவை சாலையைப் பயன்படுத்தவும்.
- போக்குவரத்து நெரிசல் உள்ள சாலைகளைத் தவிர்த்தல் வேண்டும்
- வேகமாக இயங்கும் மோட்டார் வாகனங்களைக் கருத்தில் கொண்டு பயணிக்க வேண்டும்.
- மிதிவண்டியை நிறுத்துவதற்கு முன்பாகவும் திரும்புவதற்கு முன்பாகவும் சரியான குறியீடுகள் வழங்குதல் வேண்டும்.

## செய்யக்கூடாதவை

- மிதிவண்டிகளைக் கொண்டு எவ்விதமான சாகசச் செயல்களிலும் ஈடுபட வேண்டாம்.
- மிக அதிகமான சுமைகளை ஏற்ற வேண்டாம். மிதிவண்டியில் ஒருவர் மட்டுமே பயணிக்க வேண்டும்.
- வேகமாகச் செல்லும் மற்றொரு வாகனத்தைப் பிடித்துக்கொண்டு மிதிவண்டியில் பயணிக்க வேண்டாம்.



## பள்ளி வாகனங்களில் பயணிக்கும்போது செய்ய வேண்டியவை

- காலையில் முன்கூட்டியே எழுந்து இல்லத்திலிருந்து முன்கூட்டியே கிளம்பிவிட வேண்டும்.
- பயணிக்க வேண்டிய பேருந்தில் நிர்ணயிக்கப்பட்ட இடத்திலிருந்து வரிசையில் நின்று ஏற வேண்டும்.
- பேருந்தில் ஏறியபிறகு சரியான முறையில் நடந்து கொள்ளுதல் வேண்டும்.
- பேருந்தில் இருக்கும் பிடிமானங்களைப் பிடித்துக்கொள்ள வேண்டும்.
- நிர்ணயிக்கப்பட்ட நிறுத்தத்தில் மட்டுமே இறங்க வேண்டும்.
- பேருந்து முழுவதும் நின்றபிறகு மட்டுமே இறங்க வேண்டும்
- சாலை போக்குவரத்து விதிகளை வாகன ஓட்டுனர் கடைப்பிடிக்கவில்லை என்றால் அதனைப் பள்ளி நிர்வாகத்தினர்/ பெற்றோர் மற்றும் போக்குவரத்து அதிகாரிகளுக்கு தெரிவிக்க வேண்டும்.



### செய்யக்கூடாதவை

- பேருந்தில் ஓடி ஏறக்கூடாது.
- பேருந்து படிகளில் நின்று பயணம் செய்யக் கூடாது.
- ஓட்டுநரை திசை திருப்பும் விதமான ஒலிகளை எழுப்பதல் கூடாது.
- வாகனத்திற்கு வெளியே தலை, கை, கால்களை நீட்டக்கூடாது.
- ஓடும் பேருந்தில் ஏறவோ இறங்கவோ கூடாது.



### இருசக்கர வாகனத்தில் பின்னால் அமர்ந்து பயணிப்பவராக/உடன் பயணிப்பவராக

- எப்போதும் தலைக்கவசம், இருக்கை பெல்ட் அணிய வேண்டும்.
- வாகன ஓட்டுநருடன் பேசிக் கொண்டிருக்கக் கூடாது.
- 12 வயதுக்கு மேற்பட்ட குழந்தைகளே வாகனத்தின் பின் இருக்கைகளில் அமர்தல் வேண்டும்.



### பாதுகாப்பான இடங்களில் விளையாடுதல்

- சாலைகளில் விளையாடக்கூடாது
- காலியான இடங்களை அல்லது விளையாட்டு திடல்களை விளையாடுவதற்குப் பயன்படுத்த வேண்டும்.
- பள்ளி வளாகம், குடியிருப்பு பகுதிகள் அல்லது வீட்டின் அருகில் நிறுத்தப்பட்டுள்ள வாகனத்தைச் சுற்றி விளையாடக்கூடாது.

### பயிற்சிகள்

#### I கீழ்க்கண்டவைகளுக்கு

#### விடையளி

1. சாலை பாதுகாப்பு குறித்த முழுக்கங்களை எழுதவும்.
2. கீழே கொடுக்கப்பட்டுள்ள குறியீடுகளை அடையாளம் காண்க.



|           |           |
|-----------|-----------|
| <p>அ.</p> | <p>ஆ.</p> |
| <p>இ.</p> | <p>ஈ.</p> |

3. 2017 ஆம் ஆண்டு ஏற்பட்ட விபத்துகள் குறித்த தகவல்களைக் கொண்டு கலந்துரையாடல் நடத்தவும்.
4. விவாதம் - தலைக் கவசம் அணிதல் அவசியமானதா அல்லது அவசியமற்றதா?
5. சாலை பாதுகாப்பு குறித்த சுவரொட்டிகள் தயாரிக்கவும்.



## இணையச் செயல்பாடு

### சாலை பாதுகாப்பு

இச்செயல்பாட்டின் மூலம் சாலை விதிமுறைகள் பற்றியும் பாதுகாப்பு நடவடிக்கைகள் பற்றியும் அறிய முடியும்.



#### படிநிலைகள் :

- படி -1 கொடுக்கப்பட்ட உரலியைப் பயன்படுத்தி செயல்பாட்டு தளத்திற்கு செல்லலாம்.
- படி -2 "Start" என்ற பகுதியை சொடுக்கவும்.
- படி -3 அங்கு உள்ள விளையாட்டுக்களில் எதேனும் ஒன்றை தேர்வு செய்து விளையாடவும்.
- படி -4 ஒவ்வொரு விளையாட்டையும் படிப்படியாக விளையாடி முடிக்கவும்.



படி 1



படி 2



படி 3



படி 4

#### உரலி :

<https://www.sdera.wa.edu.au/programs/smart-steps/izzy-games/>

\*படங்கள் அடையாளத்திற்கு மட்டுமே.

தேவையெனில் Adobe Flash யை அனுமதிக்க.



B541\_6\_SS\_TM\_T3

ஆறாம் வகுப்பு – வரலாறு  
மேலாய்வாளர் மற்றும் பாட நூலாசிரியர்கள்

**பாட வல்லுநர்**

முனைவர். மணிகுமார் K.A  
பேராசிரியர் (ஓய்வு), வரலாற்று துறைத் தலைவர்  
மனோன்மணியம் சுந்தரனார் பல்கலைக்கழகம், திருநெல்வேலி.

**மேலாய்வாளர்**

இரவிசந்திரன் S.L,  
உதவிப்பேராசிரியர் (ஓய்வு)  
இராஜூல் கல்லூரி  
இராஜபாளையம்.

**பாட மேற்பார்வையாளர்**

மயில்வாகனன். P  
துணை இயக்குனர்  
மாநிலக் கல்வியியல் ஆராய்ச்சி மற்றும் பயிற்சி நிறுவனம்  
சென்னை.

**பாட ஒருங்கிணைப்பாளர்கள்**

சுஜாதா. M  
முதுநிலை விரிவுரையாளர்  
மாவட்ட ஆசிரியர் கல்வி மற்றும் பயிற்சி நிறுவனம்,  
சென்னை.

ஜாய் கிறிஸ்டி. N  
பட்டதாரி ஆசிரியர்  
தே.கல்லப்பட்டி ஒன்றியம், மதுரை.

**கணினித் தொழில் நுட்பம்**

நாகராஜ். D  
பட்டதாரி ஆசிரியர்  
அரசு மேல்நிலைப்பள்ளி, ராபூசல்  
புதுக்கோட்டை.

**கலை மற்றும் வடிவமைப்புக் குழு**

**வரைபடம்**

காந்திராஜன் K T  
கலை மற்றும் பட ஒருங்கிணைப்பாளர்  
தமிழ் வீரச்சுவல் அகாடமி, சென்னை

**வடிவமைப்பு**

ஆரோக்கியம் பெலிக்ஸ்,  
சென்னை

**In-House - QC**

மனோகர் இராதாகிருஷ்ணன்  
ஜெரால்டு வில்சன்

**ஒருங்கிணைப்பு  
ரமேஷ் முனிசாமி**

**தட்டச்சு  
கௌரி**

**பாட நூலாசிரியர்கள்**

கோமதி. S  
பட்டதாரி ஆசிரியர்  
அரசு மேல்நிலைப்பள்ளி  
பழைய பெருங்களத்தூர்  
சென்னை.

ராஜேஸ்வரி .S  
பட்டதாரி ஆசிரியர்  
அரசு மேல்நிலைப்பள்ளி  
நெல்லிக்கம்பம்  
காஞ்சிபுரம்

**பாட உள்ளடக்கம் வழங்கியவர்கள்**

சதாசிவம். P  
உதவிப்பேராசிரியர்  
சென்னை கிறித்தவ கல்லூரி  
தாம்பரம், சென்னை.

முனைவர் சிந்தியா ஜீடு  
உதவிப்பேராசிரியர்  
ஸ்டெல்லா மேரிஸ் காலேஜ்  
சென்னை.

ஞான தினகராஜ். S  
பட்டதாரி ஆசிரியர்  
அரசு உயர்நிலைப்பள்ளி  
உமையாப்பரமன்சேரி  
காஞ்சிபுரம்.

தேவராஜன். N  
பட்டதாரி ஆசிரியர்  
அரசு மேல்நிலைப்பள்ளி  
நஞ்சநாடு, நீலகிரி.

முனைவர் சுரேஷ். K  
பட்டதாரி ஆசிரியர்  
குமார ராஜா முத்தையா மேல்நிலைப்பள்ளி  
சென்னை.

சஞ்சீவி ஞானசேகரன்  
முதுகலை ஆசிரியர்  
NSM VPS மேல்நிலைப்பள்ளி  
தேவகோட்டை.

**இணையச் செயல்பாடு ஒருங்கிணைப்பாளர்**

நாகராஜ் D.  
பட்டதாரி ஆசிரியர் (வரலாறு)  
அரசு மேல்நிலைப்பள்ளி  
ராபூசல், புதுக்கோட்டை.

**விரைவுக் குறியீடு மேலாண்மைக் குழு**

இரா. ஜெகநாதன், இ.நி.ஆ,  
ஊ.ஒ.நி.பள்ளி, கணேசபுரம்,  
போளூர், திருவண்ணாமலை மாவட்டம்.

அ. இசக்கித்துரை, மு.ஆ,  
அ.மே.நி.பள்ளி, சிக்கல், இராமநாதபுரம்.

சூ.ஆல்பர்ட் வளவன் பாபு, ப.ஆ,  
அ.உ.நி.பள்ளி, பெருமாள் கோவில்,  
பரமக்குடி, இராமநாதபுரம்.

## ஆறாம் வகுப்பு – புவியியல் மேலாய்வாளர் மற்றும் பாட நூலாசிரியர்கள்

### பாடவல்லுநர் குழு

முனைவர். இரா. ஜெகன்குமார்  
உதவி பேராசிரியர் மற்றும் துறைத் தலைவர்  
புவியியல் துறை  
பாரதிதாசன் பல்கலைக்கழகம், திருச்சிராப்பள்ளி.

திரு. அ. செந்தில்வேலன்  
உதவிப்பேராசிரியர் (புவியியல் துறை)  
அரசினர் கலைக்கல்லூரி (தன்னாட்சி)  
கும்பகோணம்.

### மேலாய்வாளர்கள்

குமாரசாமி. K  
UGC – BSR பேராசிரியர்  
புவியியல் துறை  
பாரதிதாசன் பல்கலைக்கழகம்  
திருச்சி

மரியபிள்ளை. M.K  
உதவிப்பேராசிரியர் (புவியியல் துறை)  
பெரியார் EVR கல்லூரி,  
திருச்சி

### பாட மேற்பார்வையாளர்

மயில்வாகனன். P  
துணை இயக்குனர்  
மாநிலக் கல்வியியல் ஆராய்ச்சி மற்றும் பயிற்சி நிறுவனம்  
சென்னை

### சமூக அறிவியல் பாட ஒருங்கிணைப்பாளர்

மோ. சுஜாதா  
முதுநிலை விரிவுரையாளர்  
மாவட்ட ஆசிரியர் கல்வி மற்றும் பயிற்சி நிறுவனம், சென்னை.

### கலை மற்றும் வடிவமைப்புக் குழு

வரைபடம்  
முத்துக்குமார் R

வரைகலை & வடிவமைப்பு  
வே.சா.ஜாண்ஸமித்

In-House - QC  
மனோகர் இராதாகிருஷ்ணன்

ஒருங்கிணைப்பு  
ரமேஷ் முனிசாமி

தட்டச்சு  
மா. கல்பனா  
P. குமுதா

### பாடநூலாசிரியர்கள்

முனைவர் திரு. யசோதரன் சுரேஷ்  
உதவிப்பேராசிரியர் (புவியியல் துறை)  
சென்னை கிறித்துவ கல்லூரி,  
தாம்பரம் (கி), சென்னை

மோ. கிரேனா ஜேனட்,  
பட்டதாரி ஆசிரியர்  
இரா.செ.அ.ம.மேல்நிலைப்பள்ளி,  
ஒண்டிப்புதூர், கோவை மாவட்டம்.

அ. அஞ்சகம்  
பட்டதாரி ஆசிரியர்  
அரசு மகளிர் மேல்நிலைப்பள்ளி,  
துறைமூர், திருச்சி மாவட்டம்.

இரா. முத்து  
பட்டதாரி ஆசிரியர்  
அரசு மேல்நிலைப்பள்ளி,  
கன்னிகைப்பேர், திருவள்ளூர் மாவட்டம்.

ந. இராஜபாரதி,  
ஆசிரியர் பயிற்றுநர்,  
வட்டார வளமையம், உத்திரமேரூர், காஞ்சிபுரம் மாவட்டம்.

### மொழிப்பெயர்ப்பாளர்கள்

கிரேனா ஜேனட். மா  
பட்டதாரி ஆசிரியை,  
R.C. அரசு மகளிர் மேல்நிலைப்பள்ளி, ஒண்டிப்புதூர், கோயம்புத்தூர்.

R. முத்து  
பட்டதாரி ஆசிரியர்,  
அரசு மேல்நிலைப்பள்ளி, கன்னிகைப்பேர் திருவள்ளூர் மாவட்டம்.

R. கௌசல்யா எப்சி  
பட்டதாரி ஆசிரியர்,  
போப் நினைவு மேல்நிலைப்பள்ளி, சாயர்புரம், தூத்துக்குடி.

### இணையச் செயல்பாடு ஒருங்கிணைப்பாளர்கள்

சின்ன துரை. பொ  
இடைநிலை ஆசிரியர்  
ஊ. ஓ. தொ. பள்ளி, T. சாணார் பாளையம்  
மூலனூர் ஒன்றியம், திருப்பூர்.

### விரைவுக் குறியீடு மேலாண்மைக் குழு

இரா. ஜெகநாதன், இ.நி.ஆ,  
ஊ.ந.நி.பள்ளி, கணேசபுரம்,  
போளூர், திருவண்ணாமலை மாவட்டம்.

அ. இசக்கித்துரை, மு.ஆ,  
அ.மே.நி.பள்ளி, சிக்கல், இராமநாதபுரம்.

சூ.ஆல்பர்ட் வளவன் பாபு ,ப.ஆ ,  
அ.உ.நி.பள்ளி, பெருமாள் கோவில்,  
பரமக்குடி, இராமநாதபுரம்.



ஆறாம் வகுப்பு – குடிமையியல்  
மேலாய்வாளர் மற்றும் பாட நூலாசிரியர்கள்

**பாடவல்லுநர் குழு**

முனைவர். கோட்டைராஜன்,  
உதவி பேராசிரியர்  
அரசியல் அறிவியல் துறை  
பெரியார் அரசு கலைக்கல்லூரி, கடலூர்.

**மேலாய்வாளர்**

அப்பண்ணைசாமி M.  
ஆலோசகர்,  
தமிழ்நாடு பாடநூல் மற்றும் கல்வியல் பணிகள் கழகம்,  
TNTB & ESC, நூங்கம்பாக்கம், சென்னை.

**பாட மேற்பார்வையாளர்**

மயில்வாகனன். P  
துணை இயக்குனர்  
மாநிலக் கல்வியியல் ஆராய்ச்சி மற்றும் பயிற்சி நிறுவனம்  
சென்னை.

**சமூக அறிவியல் பாட ஒருங்கிணைப்பாளர்**

சுஜாதா .M  
முதுநிலை விரிவுரையாளர்  
மாவட்ட ஆசிரியர் கல்வி மற்றும் பயிற்சி நிறுவனம், சென்னை.

**ராதா A**

பட்டதாரி ஆசிரியர்  
GHSS, மோசூர், வேலூர்.

**பாடநூலாசிரியர்கள்**

சாந்தி ந.  
இடைநிலையாசிரியர்  
அரசு உயர்நிலைப்பள்ளி  
பாலவேடு, திருவள்ளூர்.

சரவணன் பார்த்தசாரதி  
எழுத்தாளர் / மொழிப்பெயர்ப்பாளர்  
ஓக்கூர், சிவகங்கை.

பாலபாரதி. S  
பத்திரிகையாளர் எழுத்தாளர்  
சென்னை.

**இணையச் செயல்பாடு ஒருங்கிணைப்பாளர்கள்**

முனைவர். ஆசீர் ஜூலியஸ்  
உதவி பேராசிரியர்  
மாநிலக் கல்வியியல் ஆராய்ச்சி மற்றும் பயிற்சி நிறுவனம்  
சென்னை.

**மொழிப்பெயர்ப்பாளர்கள்**

கிரேனா ஜேனட். மா  
பட்டதாரி ஆசிரியை,  
R.C. அரசு மகளிர் மேல்நிலைப்பள்ளி, ஒண்டிபுத்தூர், கோயம்புத்தூர்.

**R. முத்து**

பட்டதாரி ஆசிரியர்,  
அரசு மேல்நிலைப்பள்ளி, கன்னிகைப்பேர் திருவள்ளூர் மாவட்டம்.

**R. கௌசல்யா எப்சி**

பட்டதாரி ஆசிரியர்,  
போப் நினைவு மேல்நிலைப்பள்ளி, சாயர்புரம், தூத்துக்குடி.

**கலை மற்றும் வடிவமைப்புக் குழு**

**வரைபடம்**

வேல்முருகன்

**வரைகலை & வடிவமைப்பு**

வே. சா. ஜாண்ஸ்மித்

**In-House - QC**

ராஜேஷ் தங்கப்பன்  
மனோகர் இராதாகிருஷ்ணன்  
ஜெரால்டு வில்சன்

**ஒருங்கிணைப்பு**

ரமேஷ் முனிசாமி

**தட்டச்சு**

கல்பனா

**விரைவுக் குறியீடு மேலாண்மைக் குழு**

இரா. ஜெகநாதன், இ.நி.ஆ,  
ஊ.ஒ.ந.நி.பள்ளி, கணேசபுரம்,  
போளூர், திருவண்ணாமலை மாவட்டம்.

அ. இசக்கித்துரை, மு.ஆ,  
அ.மே.நி.பள்ளி, சிக்கல், இராமநாதபுரம்.

சூ.ஆல்பர்ட் வளவன் பாபு, ப.ஆ,  
அ.உ.நி.பள்ளி, பெருமாள் கோவில்,  
பரமக்குடி, இராமநாதபுரம்.

இந்நூல் 80 ஜி.எஸ்.எம். எலிகண்ட் மேப்லித்தோ தாளில் அச்சிடப்பட்டுள்ளது. ஆப்ஸெட் முறையில் அச்சிட்டோர்:



# குறிப்பு

